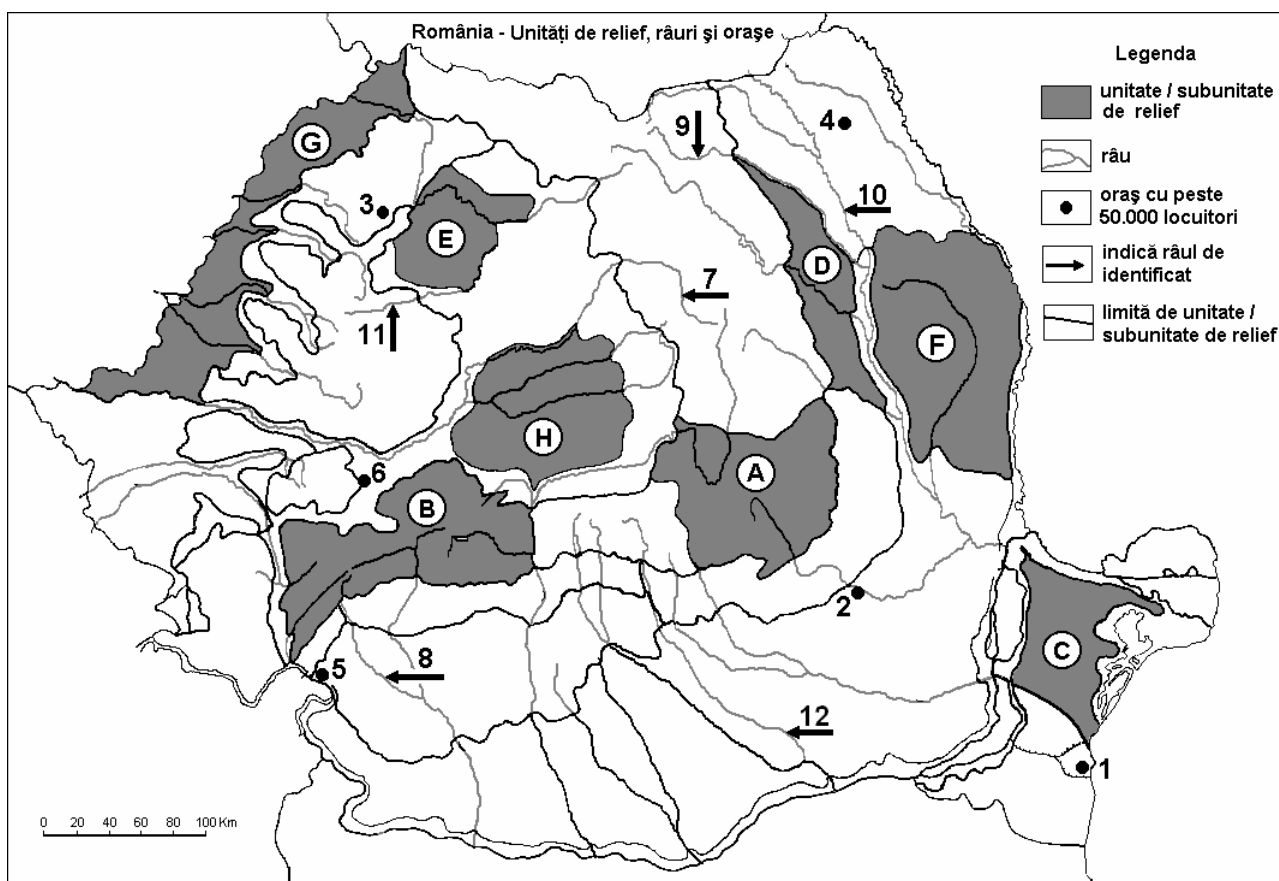


Examenul de bacalaureat 2008
Proba D, E, F
Proba scrisă la Geografie
Europa – România – Uniunea Europeană

- Toate subiectele sunt obligatorii. Se acordă 10 puncte din oficiu.
- Timpul efectiv de lucru este de 3 ore.

SUBIECTUL II**(30 puncte)**

Harta de mai sus se referă la subiectul II A – C. Pe hartă sunt marcate unități de relief cu litere, orașe cu numere de la 1 la 6 și râuri cu numere de la 7 la 12.

A. Precizați:

1. numele unităților de relief marcate, pe hartă, cu literele **A** și **F**;
2. numele râurilor marcate, pe hartă, cu numerele **7** și **10**.

4 puncte**B. Scrieți, pe foaia de examen, răspunsurile corecte care completează propozițiile de mai jos:**

1. Cele mai vechi roci din țară se găsesc în unitatea de relief marcată, pe hartă, cu litera...
2. Circuri și văi glaciare se găsesc în unitatea de relief marcată, pe hartă, cu litera...
3. Port la Dunăre este orașul marcat, pe hartă, cu numărul...

6 puncte**C. Scrieți, pe foaia de examen, litera corespunzătoare răspunsului corect pentru fiecare dintre afirmațiile de mai jos:**

1. Silvoștepa este prezentă în unitatea de relief marcată, pe hartă, cu litera:

a. A	b. D	c. E	d. G	2 puncte
------	------	------	------	-----------------

2. Un important centru siderurgic este orașul marcat, pe hartă, cu numărul:

a. 3	b. 4	c. 5	d. 6	2 puncte
------	------	------	------	-----------------

3. Resurse de ulei se găsesc în unitatea de relief marcată, pe hartă, cu litera:

a. A	b. B	c. E	d. D	2 puncte
------	------	------	------	-----------------

4. Este străbătută de râul Bistrița unitatea de relief marcată, pe hartă, cu litera:
a. A b. C c. D d. H **2 puncte**
5. Domuri gazeifere se întâlnesc în unitatea de relief marcată, pe hartă, cu litera:
a. A b. C c. F d. H **2 puncte**

D. Precizați trei deosebiri între **relieful** Munților Apuseni și **relieful** Grupei Parâng.

Nota 1: Deosebirile se pot referi la oricare dintre următoarele aspecte ale **reliefului**: mod de formare, tipuri de roci, distribuția spațială a altitudinilor, gradul de fragmentare, orientarea culmilor și văilor principale, tipuri genetice de relief, alte aspecte specifice ale reliefului.

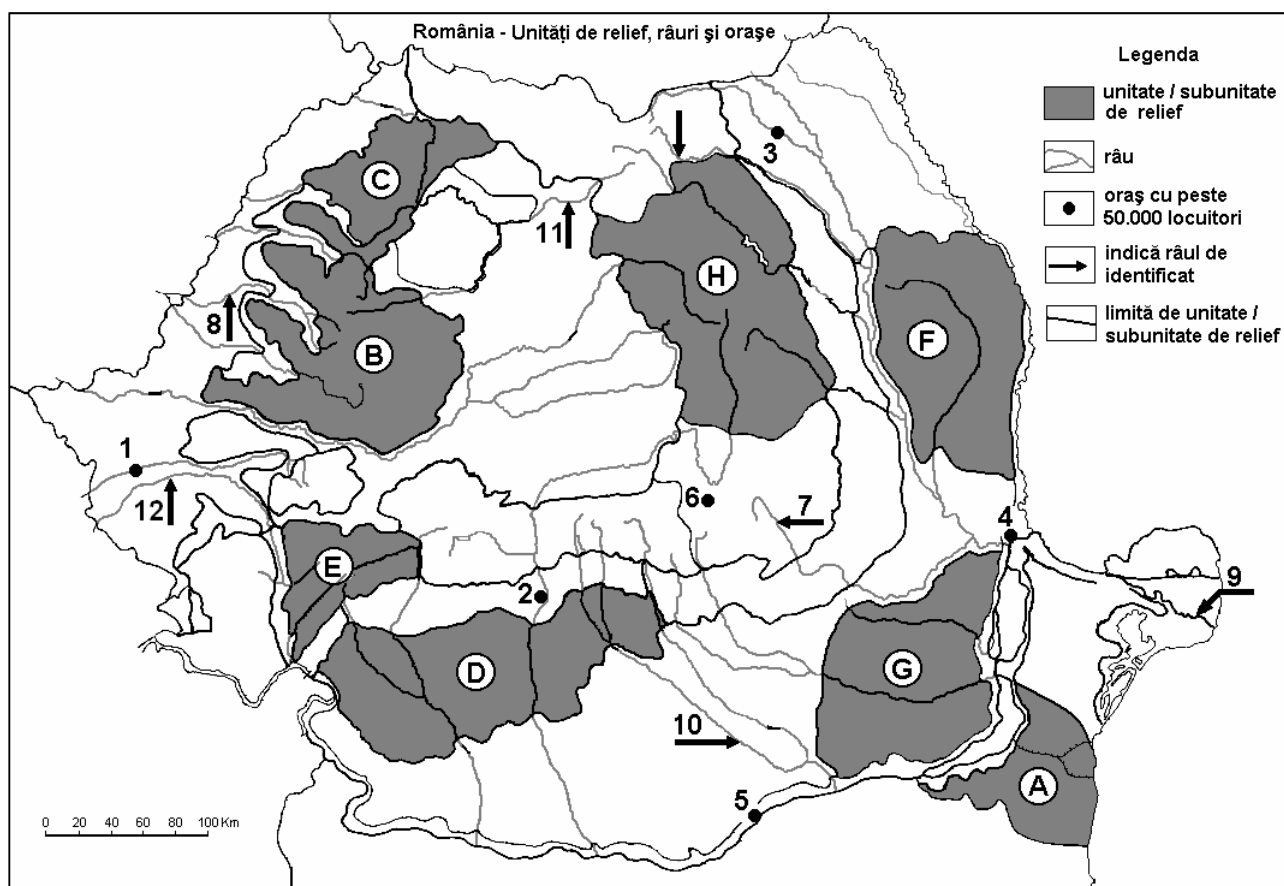
Nota 2: Punctajul complet va fi acordat numai dacă cele trei deosebiri vor fi prezentate comparativ și nu separat. **6 puncte**

E. Precizați două cauze ale scăderii numerice a populației României după anul 1990.

4 puncte

Examenul de bacalaureat 2008
Proba D, E, F
Proba scrisă la GEOGRAFIE
Europa–România–Uniunea Europeană

- Toate subiectele sunt obligatorii. Se acordă 10 puncte din oficiu.
- Timpul efectiv de lucru este de 3 ore.

SUBIECTUL II**(30 puncte)**

Harta de mai sus se referă la subiectul II A – C. Pe hartă sunt marcate unități de relief cu litere, orașe cu numere de la 1 la 6 și râuri cu numere de la 7 la 12.

A. Precizați:

- numele unităților de relief marcate, pe hartă, cu literele **B** și **D**;
- numele orașelor marcate, pe hartă, cu numerele **1** și **6**.

4 puncte**B. Scrieți, pe foaia de examen, răspunsurile corecte care completează propozițiile de mai jos:**

- Lacul vulcanic Sf. Ana este situat în unitatea de relief marcată, pe hartă, cu litera ...
- Cel mai important centru siderurgic este în orașul marcat, pe hartă, cu numărul...
- Lacuri glaciare se găsesc în unitatea de relief marcată, pe hartă, cu litera...

6 puncte**C. Scrieți, pe foaia de examen, litera corespunzătoare răspunsului corect pentru fiecare dintre afirmațiile de mai jos:**

- Stepa se întâlnește în unitatea de relief marcată, pe hartă, cu litera:

a. C	b. D	c. E	d. G	2 puncte
------	------	------	------	-----------------
- Este situat într-o unitate de câmpie orașul marcat, pe hartă, cu numărul:

a. 1	b. 2	c. 3	d. 6	2 puncte
------	------	------	------	-----------------

3. Este un piemont unitatea de relief notată pe hartă cu litera:
a. A b. D c. G d. F **2 puncte**
4. Influențe climatice oceanice pătrund în unitatea de relief notată pe hartă cu litera:
a. A b. B c. D d. G **2 puncte**
5. Importante resurse de lignit se găsesc în unitatea de relief notată pe hartă cu litera:
a. B b. D c. E d. F **2 puncte**

D. Precizați trei deosebiri între **relieful** Munților Banatului și **relieful** Grupei Nordice a Carpaților Orientali (Carpații Maramureșului și ai Bucovinei).

Nota 1: Deosebirile se pot referi la oricare dintre următoarele aspecte ale **reliefului**: mod de formare, tipuri de roci, distribuția spațială a altitudinilor, gradul de fragmentare, orientarea culmilor și văilor principale, tipuri de relief, alte aspecte specifice ale reliefului.

Nota 2: Punctajul complet va fi acordat numai dacă cele trei deosebiri vor fi prezentate comparativ și nu separat.

6 puncte

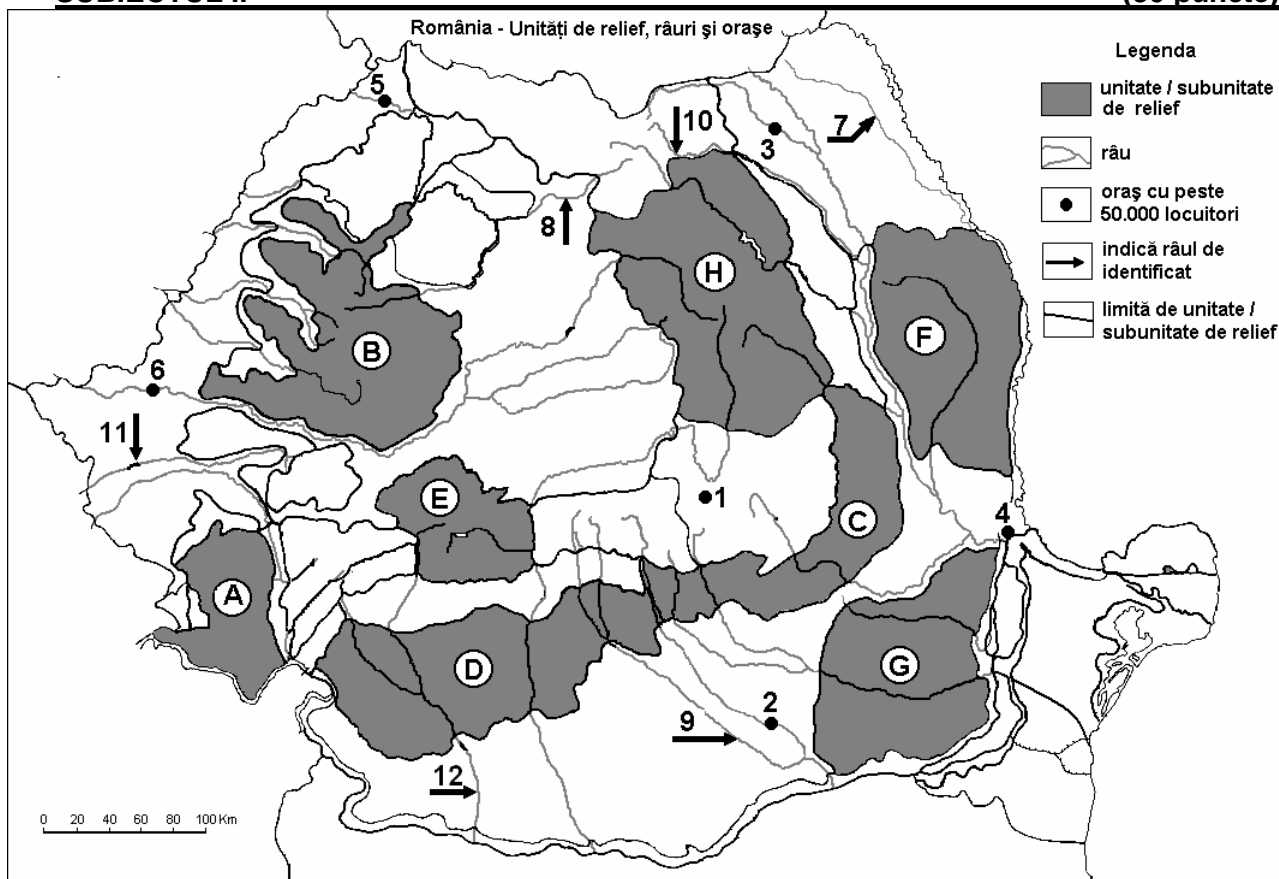
E. Prezentați:

1. o cauză care explică densitatea redusă a populației în Munții Carpați.
2. o cauză care determină cantitățile de precipitații mai mari în partea vestică a țării față de partea estică a țării.

4 puncte

Examenul de bacalaureat 2008
Proba D, E, F
Proba scrisă la GEOGRAFIE
Europa–România–Uniunea Europeană

- Toate subiectele sunt obligatorii. Se acordă 10 puncte din oficiu.
- Timpul efectiv de lucru este de 3 ore.

SUBIECTUL II**(30 puncte)**

Harta de mai sus se referă la subiectul II A – C. Pe hartă sunt marcate unitățile de relief cu litere, orașe cu numere de la 1 la 6 și râuri cu numere de la 7 la 12.

A. Precizați:

- numele unităților de relief marcate, pe hartă, cu literele **A** și **H**;
- numele râurilor marcate, pe hartă, cu numerele **9** și **8**.

4 puncte**B. Scrieți, pe foaia de examen, răspunsurile corecte care completează propozițiile de mai jos:**

- Este canalizat în sectorul de câmpie râul marcat, pe hartă, cu numărul ...
- Traversează orașul Craiova râul marcat, pe hartă, cu numărul ...
- Este formată dintr-un mozaic petrografic unitatea de relief marcată, pe hartă, cu litera ...

6 puncte**C. Scrieți, pe foaia de examen, litera corespunzătoare răspunsului corect pentru fiecare dintre afirmațiile de mai jos:**

- Cernoziomurile sunt caracteristice unității de relief marcată, pe hartă, cu litera:

a. A	b. C	c. D	d. G	2 puncte
------	------	------	------	-----------------
- Influențele climatice continentale (de ariditate) pătrund în unitatea de relief marcată, pe hartă, cu litera:

a. B	b. E	c. D	d. F	2 puncte
------	------	------	------	-----------------
- Lacuri glaciare se întâlnesc în unitatea de relief marcată, pe hartă, cu litera:

- | | | | | |
|-------------------------------------------------------------------------------------------|------|------|------|-----------------|
| a. C | b. D | c. E | d. H | 2 puncte |
| 4. Minereuri complexe se exploatează din unitatea de relief marcată, pe hartă, cu litera: | | | | |
| a. B | b. D | c. E | d. F | 2 puncte |
| 5. Este situat într-o depresiune intramontană orașul marcat, pe hartă, cu numărul: | | | | |
| a. 1 | b. 3 | c. 5 | d. 6 | 2 puncte |

D. Precizați două asemănări și o deosebire între **relieful** Grupei Retezat-Godeanu și **relieful** Grupei Făgăraș.

Nota 1: Asemănările și deosebirile se pot referi la oricare dintre următoarele aspecte ale **reliefului**: mod de formare, tipuri de roci, distribuția spațială a altitudinilor, gradul de fragmentare, orientarea culmilor și văilor principale, tipuri genetice de relief, alte aspecte specifice ale reliefului.

Nota 2: Punctajul complet va fi acordat numai dacă asemănările și deosebirea vor fi prezentate comparativ și nu separat. **6 puncte**

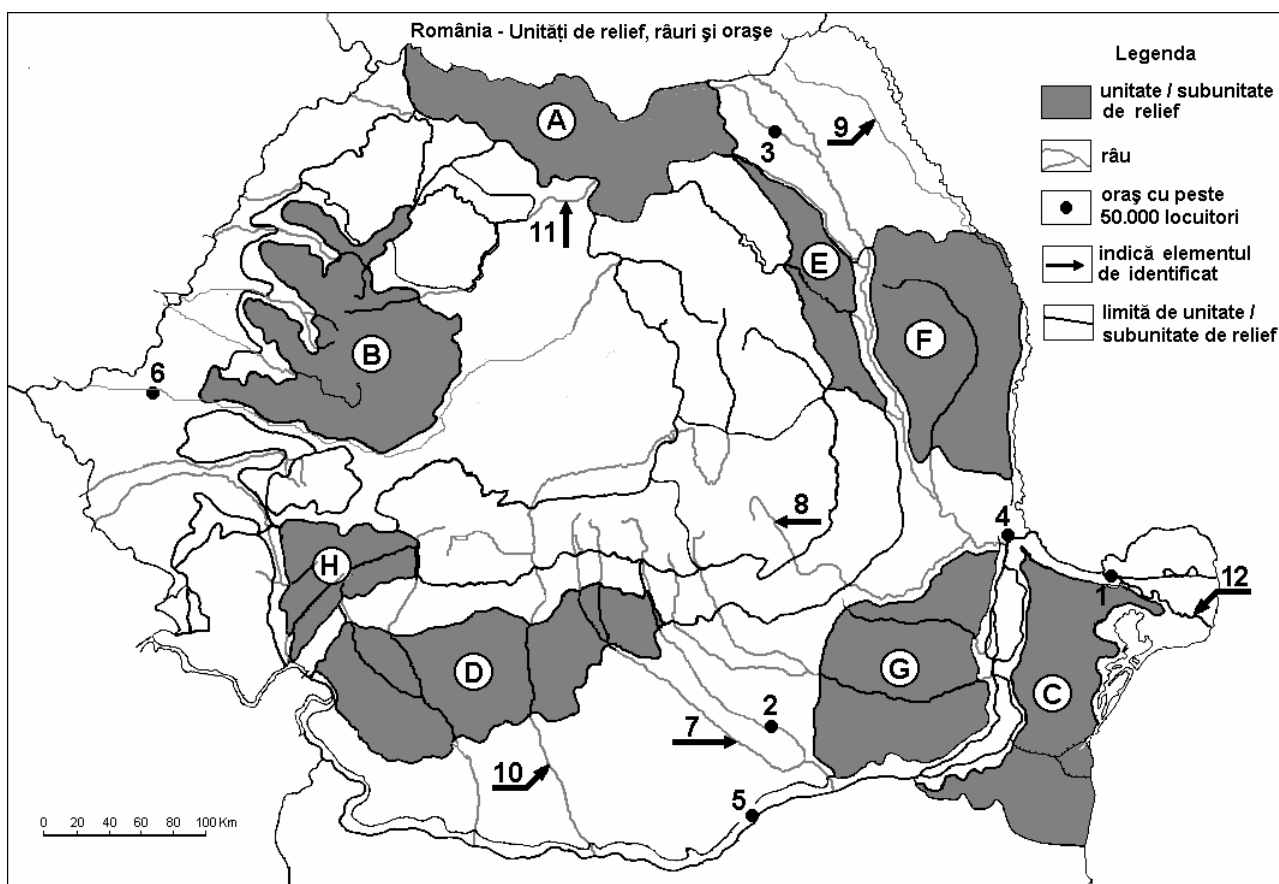
E. Prezentați:

- o cauză care explică frecvența mult mai mare a hidrocentralelor în zona montană, decât în zona de câmpie;
- o cauză care explică diferența de temperatură de peste 2 °C, între sudul și nordul țării.

4 puncte

Examenul de bacalaureat 2008
Proba D, E, F
Proba scrisă la Geografie
Europa–România–Uniunea Europeană

- Toate subiectele sunt obligatorii. Se acordă 10 puncte din oficiu.
- Timpul efectiv de lucru este de 3 ore.

SUBIECTUL II**(30 puncte)**

Harta de mai sus se referă la subiectul II A – E. Pe hartă sunt marcate unitati de relief cu litere, orașe cu numere de la 1 la 6 si râuri cu numerele de la 7 la 12.

A. Precizați:

- numele unităților de relief marcate pe hartă, cu literele **A** și **D**;
- numele orașelor marcate, pe hartă, cu numerele **3** și **5**.

4 puncte**B. Scrieți, pe foaia de examen, răspunsurile corecte care completează propozițiile de mai jos:**

- Apartine Câmpiei Române subunitatea de relief marcată, pe hartă, cu litera ...
- Prin depuneri piemontane s-a format unitatea de relief marcată, pe hartă, cu litera...
- Este traversat de râul Mureș orașul marcat, pe hartă, cu numărul ...

6 puncte**C. Scrieți, pe foaia de examen, litera corespunzătoare răspunsului corect pentru fiecare dintre afirmațiile de mai jos:**

- Altitudinile cele mai mari se întâlnesc în unitatea de relief marcată, pe hartă, cu litera:

a. A	b. B	c. D	d. H	2 puncte
------	------	------	------	-----------------
- Râul cu cele mai multe amenajări hidroenergetice este cel marcat, pe hartă, cu numărul:

a. 7	b. 8	c. 10	d. 12	2 puncte
------	------	-------	-------	-----------------

3. Stratul de loess este caracteristic la suprafață pentru unitatea de relief marcată, pe hartă, cu litera:

a. D b. E c. F d. G **2 puncte**

4. Râul marcat, pe hartă, cu numărul 8 se numește:

a. Buzău b. Călmățui c. Prahova d. Trotuș **2 puncte**

5. Pădurea de conifere este mai extinsă în unitatea de relief marcată pe hartă, cu litera:

a. A b. C c. D d. E **2 puncte**

D. Precizați două deosebiri și o asemănare între **relieful** unității marcată, pe hartă, cu litera **A** și **relieful** unității marcate, pe hartă, cu litera **H**.

Nota 1: Deosebirile și asemănarea se pot referi la oricare dintre următoarele aspecte ale **reliefului**: mod de formare, tipuri de roci, distribuția spațială a altitudinilor, gradul de fragmentare, orientarea culmilor și văilor principale, tipuri genetice de relief, alte aspecte specifice ale reliefului.

Nota 2: Punctajul complet va fi acordat numai dacă cele două deosebiri și asemănarea vor fi prezentate comparativ și nu separat.

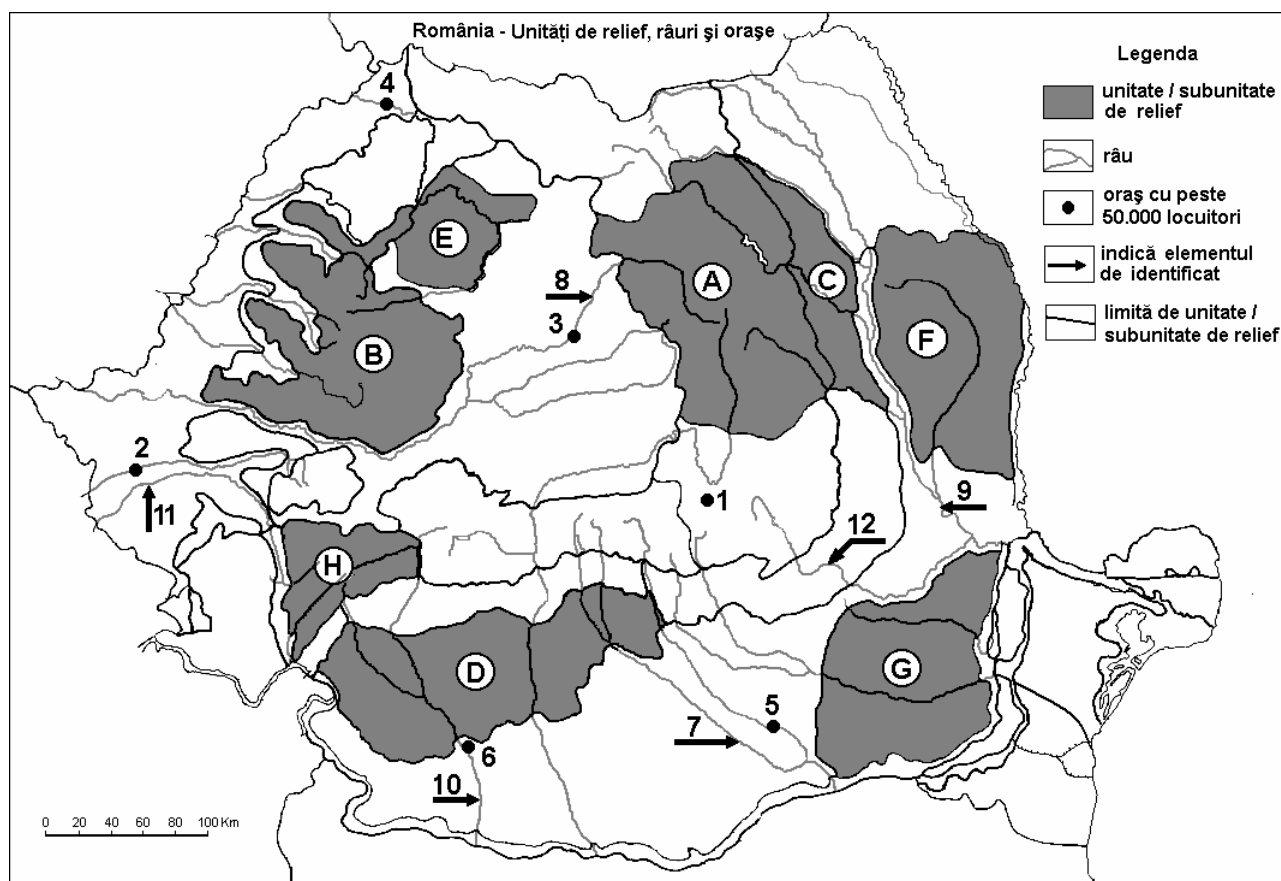
6 puncte

E. Precizați două cauze care determină producerea alunecărilor de teren în unitatea de relief marcată, pe hartă, cu litera **F**.

4 puncte

Examenul de bacalaureat 2008
Proba D, E, F
Proba scrisă la Geografie
Europa–România–Uniunea Europeană

- Toate subiectele sunt obligatorii. Se acordă 10 puncte din oficiu.
- Timpul efectiv de lucru este de 3 ore.

SUBIECTUL II**(30 puncte)**

Harta de mai sus se referă la subiectul II A – D. Pe hartă sunt marcate unitati de relief cu litere, orașe cu numere de la 1 la 6 și râuri cu numere de la 7 la 12.

A. Precizați:

1. numele unităților su al subunităților de relief marcate, pe hartă, cu literele **D** și **G**;
2. numele orașelor marcate, pe hartă, cu numerele **4** și **6**.

4 puncte**B. Scrieți, pe foaia de examen, răspunsurile corecte care completează propozițiile de mai jos:**

1. Aparține Podișului Moldovei subunitatea de relief marcată, pe hartă, cu litera ...
2. Cele mai multe lacuri glaciare se întâlnesc în unitatea de relief marcată, pe hartă, cu litera ...
3. Terenurile arabile au ponderea cea mai mare în unitatea de relief marcată, pe hartă, cu litera ...

6 puncte**C. Scrieți, pe foaia de examen, litera corespunzătoare răspunsului corect pentru fiecare dintre afirmațiile de mai jos:**

1. Relieful carstic este mai dezvoltat în unitatea de relief marcată, pe hartă, cu litera:

a. B	b. D	c. E	d. G	2 puncte
------	------	------	------	-----------------
2. Cel mai mare debit îl are râul marcat, pe hartă, cu numărul:

a. 7	b. 8	c. 9	d. 12	2 puncte
------	------	------	-------	-----------------
3. Resursele energetice cele mai bogate se găsesc în unitatea de relief marcată, pe hartă, cu litera:

a. A	b. D	c. E	d. F	2 puncte
------	------	------	------	-----------------

4. Curge în totalitate pe teritoriul țării noastre râul marcat, pe hartă, cu numărul:
a. 8 **b. 9** **c. 10** **d. 11** **2 puncte**
5. Secetele frecvente sunt specifice unității de relief marcate, pe hartă, cu litera:
a. A **b. C** **c. D** **d. G** **2 puncte**

D. Precizați două deosebiri și o asemănare între **relieful** unității marcată, pe hartă, cu litera **A** și **relieful** unității marcată, pe hartă, cu litera **H**.

Nota 1: Deosebirile și asemănarea se pot referi la oricare dintre următoarele aspecte ale **reliefului**: mod de formare, tipuri de roci, distribuția spațială a altitudinilor, gradul de fragmentare, orientarea culmilor și văilor principale, tipuri genetice de relief, alte aspecte specifice ale reliefului.

Nota 2: Punctajul complet va fi acordat numai dacă cele două deosebiri și asemănarea vor fi prezentate comparativ și nu separat.

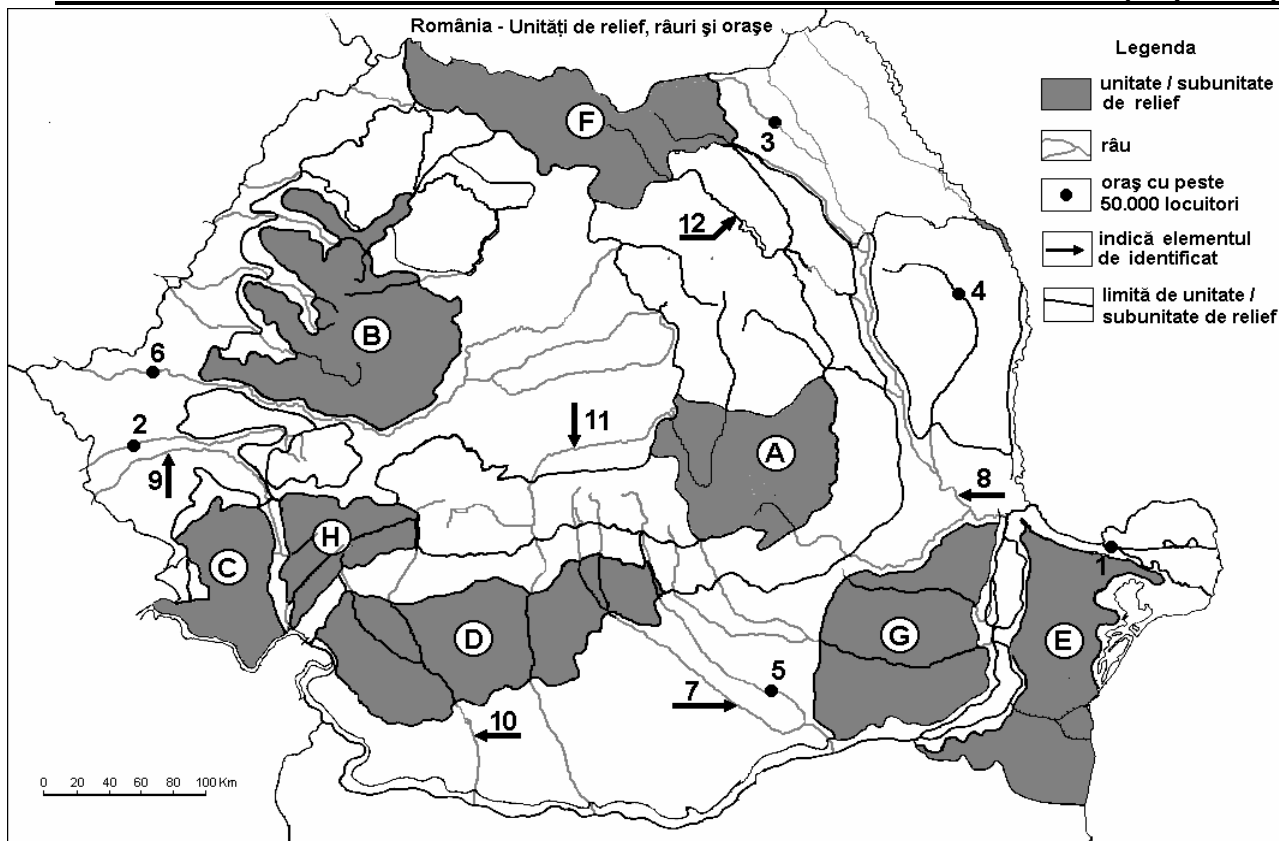
6 puncte

E. Precizați doi factori care au contribuit la formarea Deltei Dunării.

4 puncte

Examenul de bacalaureat 2008
Proba D, E, F
Proba scrisă la Geografie
Europa–România–Uniunea Europeană

- Toate subiectele sunt obligatorii. Se acordă 10 puncte din oficiu.
- Timpul efectiv de lucru este de 3 ore.

SUBIECTUL II**(30 puncte)**

Harta de mai sus se referă la subiectul II A – D. Pe hartă sunt marcate unități de relief cu litere, orașe cu numere de la 1 la 6 și râuri cu numere de la 7 la 12.

A. Precizați:

- numele unităților de relief marcate, pe hartă, cu literele **D** și **E**;
- numele orașelor marcate, pe hartă, cu numerele **2** și **6**.

4 puncte**B. Scrieți, pe foaia de examen, răspunsurile corecte care completează propozițiile de mai jos:**

- Depresiunea Brașovului este situată în unitatea de relief marcată, pe hartă, cu litera ...
- Influențe climatice pontice se întâlnesc în unitatea de relief marcată, pe hartă, cu litera ...
- Râul Argeș traversează unitatea de relief marcată, pe hartă, cu litera ...

6 puncte**C. Scrieți, pe foaia de examen, litera corespunzătoare răspunsului corect pentru fiecare dintre afirmațiile de mai jos:**

- Relieful vulcanic este caracteristic unității marcată, pe hartă, cu litera:

a. A	b. D	c. F	d. H	2 puncte
------	------	------	------	-----------------
- Râul care se varsă în sectorul Dunării maritime este marcat, pe hartă, cu numărul:

a. 7	b. 8	c. 10	d. 11	2 puncte
------	------	-------	-------	-----------------
- Vegetația de stepă este tipică pentru unitatea de relief marcată, pe hartă, cu litera:

a. C	b. D	c. G	d. H	2 puncte
------	------	------	------	-----------------

4. Orașul Craiova este străbătut de râul marcat, pe hartă, cu numărul:

a. 7

b. 9

c. 10

d. 11

2 puncte

5. Teritoriul județului Ialomița se suprapune peste unitatea de relief marcată, pe hartă, cu litera:

a. A

b. D

c. E

d. G

2 puncte

D. Precizați două deosebiri și o asemănare între **relieful** unității marcată, pe hartă, cu litera **A** și **relieful** unității marcată, pe hartă, cu litera **B**.

Nota 1: Deosebirile și asemănarea se pot referi la oricare dintre următoarele aspecte ale **reliefului**: mod de formare, tipuri de roci, distribuția spațială a altitudinilor, gradul de fragmentare, orientarea culmilor și văilor principale, tipuri genetice de relief, alte aspecte specifice ale reliefului.

Nota 2: Punctajul complet va fi acordat numai dacă cele două deosebiri și asemănarea vor fi prezentate comparativ și nu separat.

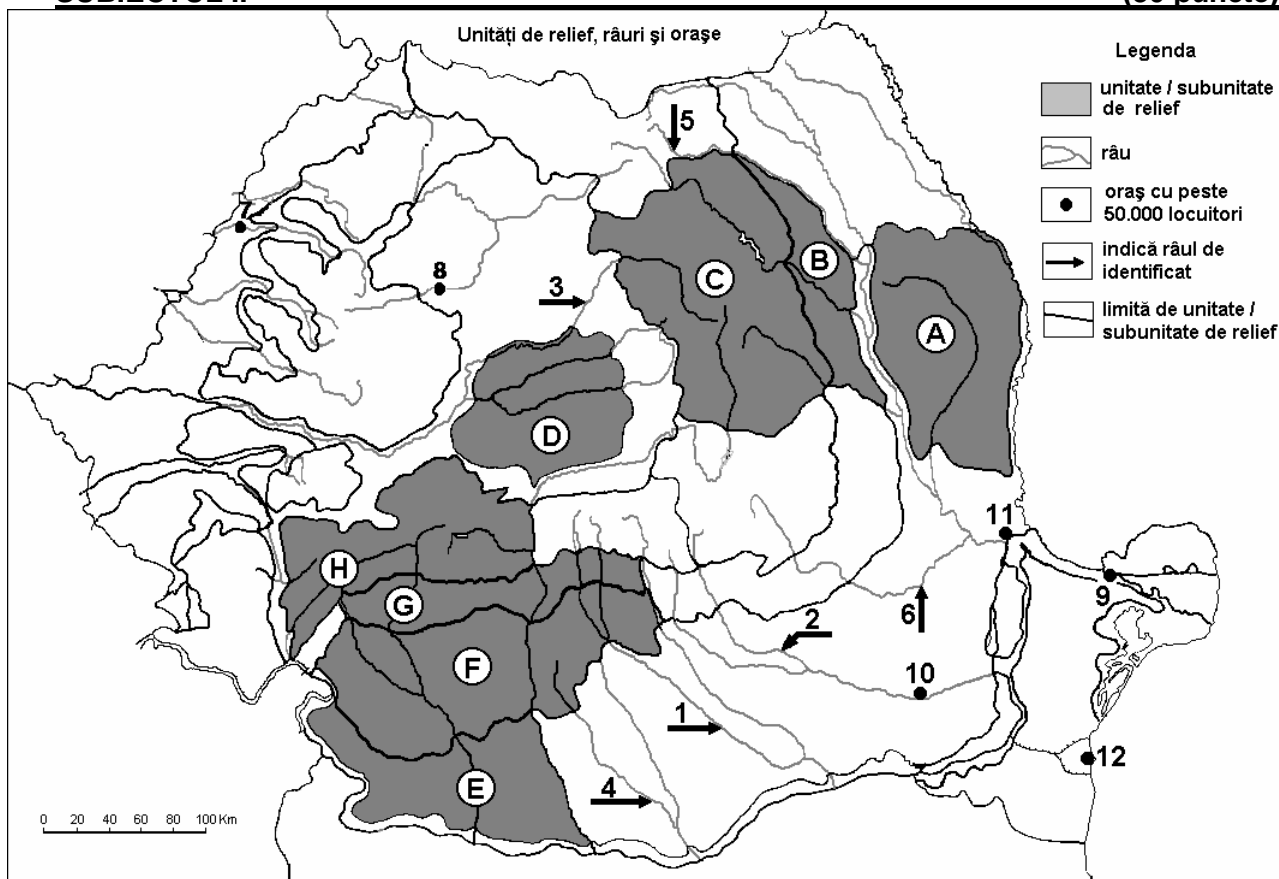
6 puncte

E. Precizați două cauze care au generat scăderea populației României după anul 1990.

4 puncte

Examenul de bacalaureat 2008
Proba D, E, F
Proba scrisă la Geografie
Europa – România – Uniunea Europeană

- Toate subiectele sunt obligatorii. Se acordă 10 puncte din oficiu.
- Timpul efectiv de lucru este de 3 ore.

SUBIECTUL II**(30 puncte)**

Harta de mai sus se referă la subiectul II A-C. Pe hartă sunt marcate unități de relief cu litere, râuri cu numere de la 1 la 6 și orașe cu numere de la 7 la 12.

A. Precizați:

1. numele unităților de relief marcate, pe hartă, cu literele **A** și **G**.
2. numele râurilor marcate, pe hartă, cu numerele **5** și **6**.

4 puncte**B. Scrieți, pe foaia de examen, răspunsurile corecte care completează propozițiile de mai jos:**

1. Depresiunea Petroșani este situată în unitatea de relief marcată pe hartă cu litera ...
2. Regiunea subcarpatică alcătuită dintr-un singur șir de depresiuni și unul de dealuri este marcată pe hartă cu litera ...
3. În orașul marcat pe hartă cu numărul **11** se găsește cel mai mare combinat din România cu profil ...

6 puncte**C. Scrieți, pe foaia de examen, litera corespunzătoare răspunsului corect pentru fiecare dintre afirmațiile de mai jos:**

1. Relieful eolian este prezent pe teritoriul României în una din unitățile/subunitățile marcate, pe hartă, cu litera:

a. A**b. C****c. E****d. F****2 puncte**

2. În unitatea de relief marcată, pe hartă, cu litera **D**, între minoritățile naționale mai numeroase există:

a. germani **b.** greci **c.** polonezi **d.** turco-tătari **2 puncte**

3. În unitatea de relief marcată, pe hartă, cu litera **F** se exploatează resurse de:

a. aur și argint **b.** bauxită **c.** fier **d.** lignit **2 puncte**

4. Orașul marcat, pe hartă, cu numărul **12** este situat în unitatea de relief numită:

a. Câmpia Barăganului **b.** Delta Dunării **2 puncte**
c. Pod. Dobrogei **d.** Subcarpații Curburii

5. Magistrala rutieră E60 trece prin orașele marcate pe hartă cu numerele:

a. 7 și 8 **b.** 8 și 9 **c.** 8 și 11 **d.** 9 și 10 **2 puncte**

D. Caracterizați climatul cu influențe submediteraneene din România precizând:

1. circulația maselor de aer;
2. temperatura medie anuală;
3. precipitațiile medii anuale.

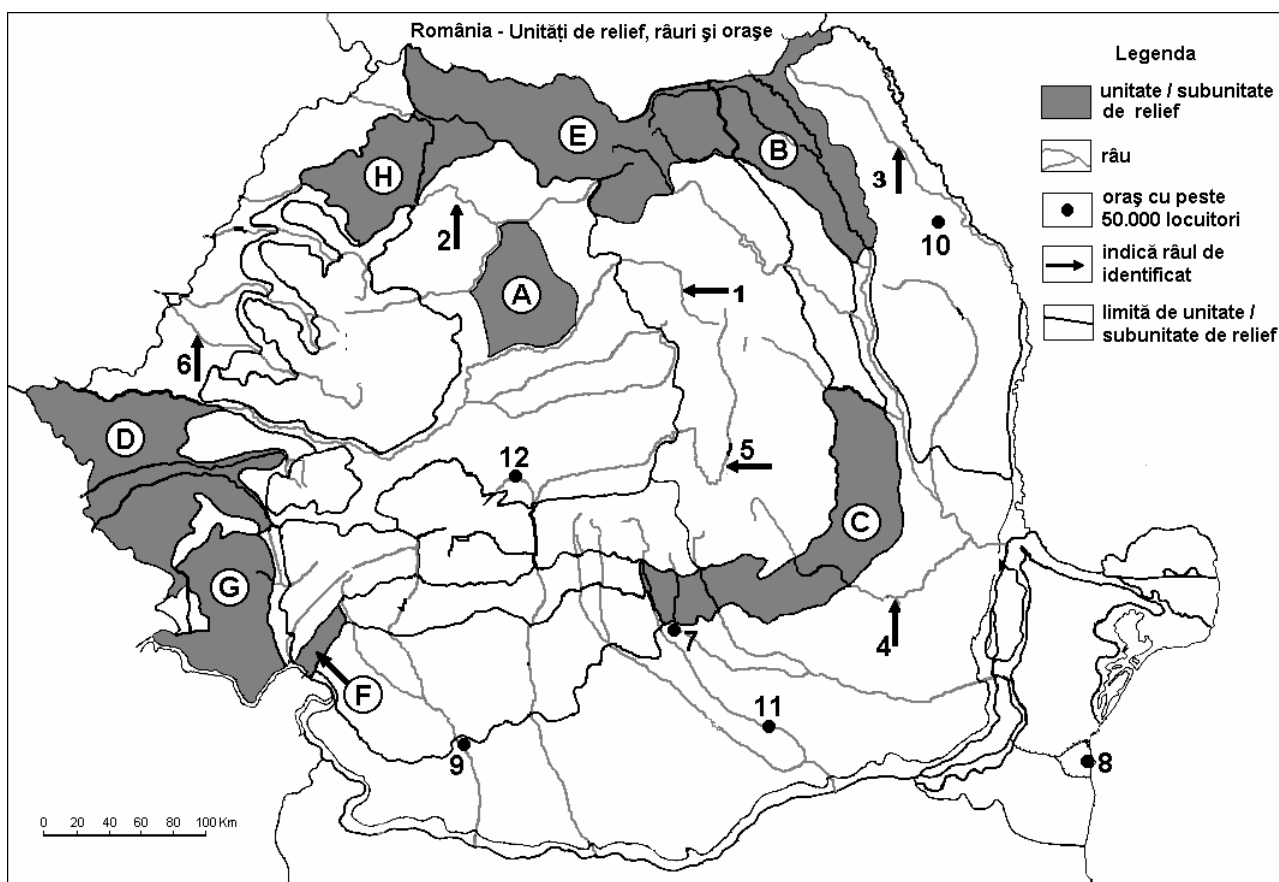
6 puncte

E. Prin poziția sa geografică, România este o țară dunăreană. Menționați două avantaje economice care de curg din această situație.

4 puncte

Examenul de bacalaureat 2008
Proba D, E, F
Proba scrisă la Geografie
Europa – România – Uniunea Europeană

- Toate subiectele sunt obligatorii. Se acordă 10 puncte din oficiu.
- Timpul efectiv de lucru este de 3 ore.

SUBIECTUL II**(30 puncte)**

Harta de mai sus se referă la subiectul II A-C. Pe hartă sunt marcate unități de relief cu litere, râuri cu numere de la 1 la 6 și orașe cu numere de la 7 la 12.

A. Precizați:

- numele unităților de relief marcate, pe hartă, cu literele **A** și **D**.
- numele râurilor marcate, pe hartă, cu numerele **1** și **5**.

4 puncte**B. Scrieți, pe foaia de examen, răspunsurile corecte care completează propozițiile de mai jos:**

- Munții Rodnei sunt situați în unitatea de relief marcată, pe hartă, cu litera ...
- Lacul glaciar Lala este situat în unitatea de relief marcată, pe hartă, cu litera ...
- Minerurile de metale prețioase (aurul și argintul) se exploatează în unitatea de relief marcată, pe hartă, cu litera ...

6 puncte**C. Scrieți, pe foaia de examen, litera corespunzătoare răspunsului corect pentru fiecare dintre afirmațiile de mai jos:**

- Orașul marcat, pe hartă, cu numărul **7** se numește:

a. Buzău

b. Pitești

c. Ploiești

d. Târgoviște **2 puncte**

- Unitatea de relief cu cel mai mare areal viticol din România este marcată, pe hartă, cu litera:

a. B

b. C

c. E

d. G **2 puncte**

3. Procesul de subsidență este prezent în unitatea de relief marcată, pe hartă, cu litera:
a. B **b. C** **c. D** **d. H** **2 puncte**
4. În unitatea de relief marcată, pe hartă, cu litera **C** procesele gravitaționale cu frecvență mare sunt:
a. alunecări de teren **b. curgeri de noroi** **c. prăbușiri** **d. tasări** **2 puncte**
5. Unitatea de relief marcată pe hartă cu litera **H** este traversată parțial de râul:
a. Jiu **b. Lotru** **c. Olt** **d. Someș** **2 puncte**

D. Comparați **relieful** Podișului Mehedinți cu **relieful** Podișului Moldovei precizând două deosebiri și o asemănare.

Nota 1: Deosebirile și asemănarea se pot referi la oricare dintre următoarele aspecte ale **reliefului**: mod de formare, tipuri de roci pe care s-a format relieful, distribuția spațială a altitudinilor, gradul de fragmentare, orientarea clumilor și văiloir principale, tipuri genetice de relieful, alte aspecte specifice ale reliefului.

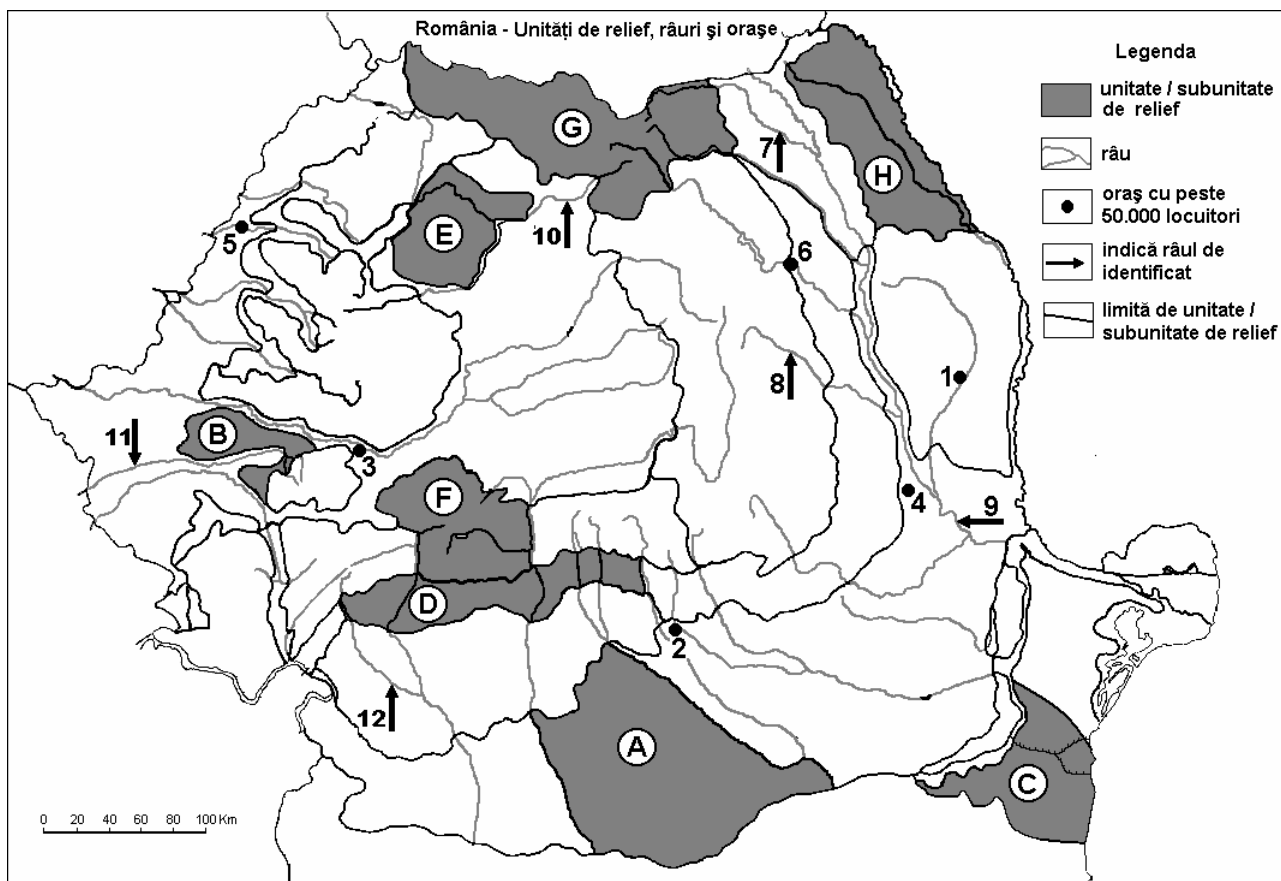
Nota 2: Punctajul complet va fi acordat numai dacă cele două deosebiri și asemănarea vor fi prezentate comparativ și nu separat. **6 puncte**

E. Explicați rolul României în cadrul Uniunii Europene, menționând două elemente prin care se evidențiază.

4 puncte

Examenul de bacalaureat 2008
Proba D, E, F
Proba scrisă la Geografie
Europa – România – Uniunea Europeană

- Toate subiectele sunt obligatorii. Se acordă 10 puncte din oficiu.
- Timpul efectiv de lucru este de 3 ore.

SUBIECTUL II**(30 puncte)**

Harta de mai sus se referă la subiectul II A-C. Pe hartă sunt marcate unități de relief cu litere, orașe cu numere de la 1 la 6 și râuri cu numere de la 7 la 12.

A. Precizați:

- numele unităților sau al subunităților de relief marcate, pe hartă, cu literele **A** și **G**;
- numele orașelor marcate, pe hartă, cu numerele **4** și **6**.

4 puncte**B. Scrieți, pe foaia de examen, răspunsurile corecte care completează propozițiile de mai jos:**

- Râul, vizibil pe hartă, care traversează subunitatea de relief marcată pe hartă, cu litera **H** se numește...
- Lacul hidroenergetic Vidra este situat în unitatea de relief marcată, pe hartă, cu litera ...
- Subunitatea marcată pe hartă cu litera **C** se numește....

6 puncte**C. Scrieți, pe foaia de examen, litera corespunzătoare răspunsului corect pentru fiecare dintre afirmațiile de mai jos:**

- Râul marcat, pe hartă, cu numărul **1** străbate orașul:

a. Bacău b. Bârlad c. Botoșani d. Piatra Neamț **2 puncte**

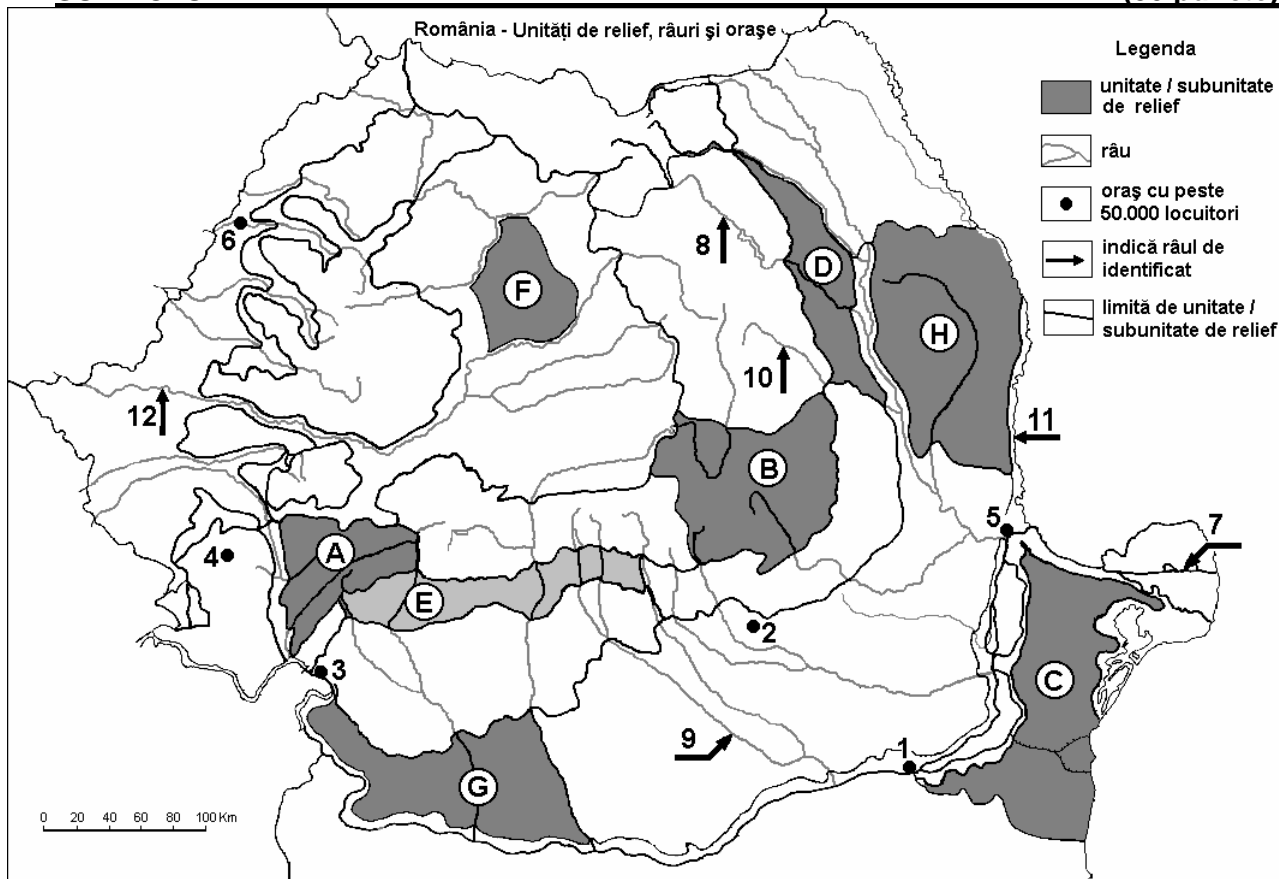
- În subunitatea marcată, pe hartă, cu litera **D** este situat orașul:

a. Drobeta-Turnu Severin b. Pitești c. Râmnicu Vâlcea d. Târgoviște **2 puncte**

3. Cele mai multe lacuri de tip iaz se găsesc în subunitatea marcată, pe hartă, cu litera:
a. A b. E c. G d. H 2 puncte
4. Orașul marcat, pe hartă, cu numărul **5** este un centru industrial situat în unitatea de relief numită:
a. Câmpia Moldovei b. Câmpia Română c. Câmpia de Vest d. Câmpia Transilvaniei 2 puncte
5. Unitatea de relief marcată, pe hartă, cu litera **C** are un climat temperat cu influențe:
a. baltice b. de ariditate c. oceanice d. submediteraneene 2 puncte
- D. Comparați clima Podișului Moldovei cu clima Dealurilor de Vest, precizând două deosebiri și o asemănare.**
- Nota 1:** Deosebirile se pot referi la oricare dintre următoarele elemente de **climă**: temperaturi medii anuale, precipitații medii anuale, vânturi, influență climatică, etaj climatic.
- Nota 2:** Punctajul complet va fi acordat numai dacă cele două deosebiri și asemănarea vor fi prezentate comparativ și nu separat. **6 puncte**
- E. Explicați dezvoltarea orașului Constanța menționând doi factori favorizanți. 4 puncte**

Examenul de bacalaureat 2008
Proba D, E, F
Proba scrisă la Geografie
Europa – România – Uniunea Europeană

- Toate subiectele sunt obligatorii. Se acordă 10 puncte din oficiu.
- Timpul efectiv de lucru este de 3 ore.

SUBIECTUL II**(30 puncte)**

Harta de mai sus se referă la subiectul II A, B, C, D. Pe hartă sunt marcate unități de relief cu litere, orașe cu numere de la 1 la 6 și râuri cu numere de la 7 la 12.

A. Precizați:

- numele unităților de relief marcate, pe hartă, cu literele A și H;
- numele orașelor marcate, pe hartă, cu numerele 2 și 4.

4 puncte**B. Scrieți, pe foaia de examen, răspunsurile corecte care completează propozițiile de mai jos:**

- Unitatea de relief marcată, pe hartă, cu litera D s-a format prin ...
- Formează graniță de stat râul marcat, pe hartă, cu numărul ...
- Orașul marcat, pe hartă, cu numărul 3 este reședința județului ...

6 puncte**C. Scrieți, pe foaia de examen, litera corespunzătoare răspunsului corect pentru fiecare dintre afirmațiile de mai jos:**

- Bazinul carbonifer Comănești este străbătut de râul marcat, pe hartă, cu numărul:

a. 7 b. 8 c. 9 d. 10 **2 puncte**

- Dune de nisip se afla în unitatea de relief marcată, pe hartă, cu litera:

a. A b. B c. D d. G **2 puncte**

- Lacul Izvorul Muntelui se află situat pe râul marcat, pe hartă, cu numărul:

a. 7 b. 8 c. 10 d. 11 **2 puncte**

4. Munți formați în orogeneza hercinică se află în unitatea de relief marcată, pe hartă, cu litera:

a. A

b. B

c. C

d. H

2 puncte

5. Ape geotermale se găsesc în apropierea orașului marcat, pe hartă, cu numărul:

a. 1

b. 2

c. 5

d. 6

2 puncte

D. Precizați două deosebiri și o asemănare între **clima** unității de relief marcate, pe hartă, cu litera **D** și **clima** unității de relief marcate cu litera **F**.

Nota 1: Deosebirile și asemănarea se pot referi la oricare dintre următoarele elemente de climă: temperaturi medii anuale, precipitații medii anuale, vânturi, influență climatică, etaj climatic.

Nota 2: Punctajul complet va fi acordat numai dacă deosebirile și asemănarea vor fi prezentate comparativ și nu separat.

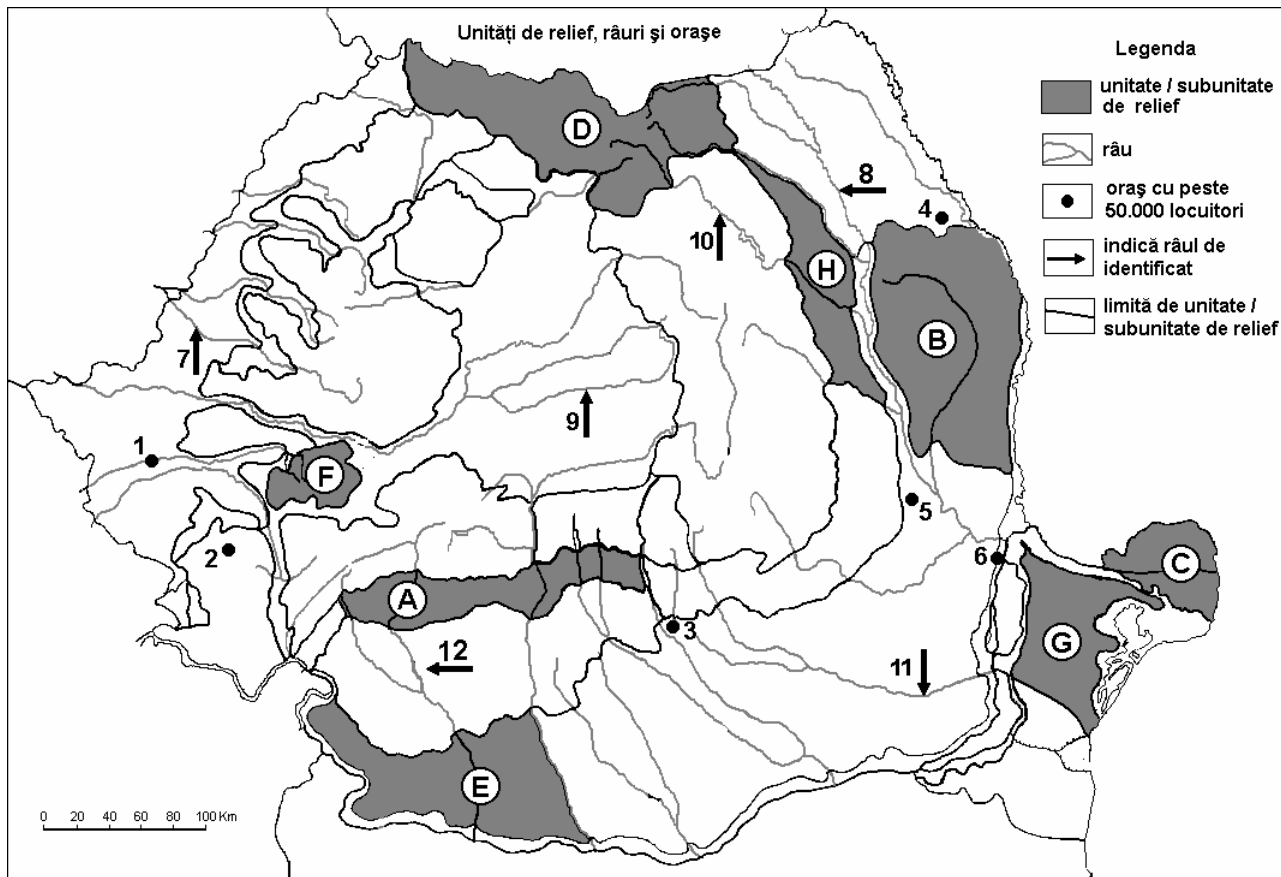
6 puncte

E. Prezentați două argumente care să demonstreze importanța economică a Mării Negre pentru România.

4 puncte

Examenul de bacalaureat 2008
Proba D, E, F
Proba scrisă la Geografie
Europa – România – Uniunea Europeană

- Toate subiectele sunt obligatorii. Se acordă 10 puncte din oficiu.
- Timpul efectiv de lucru este de 3 ore.

SUBIECTUL II**(30 puncte)**

Harta de mai sus se referă la subiectul II A - D. Pe hartă sunt marcate unități de relief cu litere, orașe cu numere de la 1 la 6 și râuri cu numere de la 7 la 12.

A. Precizați:

1. numele unităților de relief marcate, pe hartă, cu literele A și F;
2. numele râurilor marcate, pe hartă, cu numerele 8 și 9.

4 puncte**B. Scrieți, pe foaia de examen, răspunsurile corecte care completează propozițiile de mai jos:**

1. Sectorul Dunării maritime începe în aval de orașul marcat, pe hartă, cu numărul ...
2. Unitatea de relief marcată, pe hartă, cu litera H se numește...
3. Lacul Izvorul Muntelui s-a amenajat pe râul marcat, pe hartă, cu numărul ...

6 puncte**C. Scrieți, pe foaia de examen, litera corespunzătoare răspunsului corect pentru fiecare dintre afirmațiile de mai jos:**

1. Reședința județului Vrancea este orașul marcat, pe hartă, cu numărul:

a. 1	b. 2	c. 3	d. 5	2 puncte
------	------	------	------	-----------------
2. Se găsesc lacuri glaciare în unitatea de relief marcată, pe hartă, cu litera:

a. A	b. D	c. F	d. G	2 puncte
------	------	------	------	-----------------
3. Cel mai mare oraș din vestul României este marcat, pe hartă, cu numărul:

a. 1	b. 2	c. 3	d. 4	2 puncte
------	------	------	------	-----------------

4. Este situat într-o câmpie înaltă, orașul marcat, pe hartă, cu numărul:
a. 2 **b. 3** **c. 4** **d. 5** **2 puncte**
5. Cea mai nouă unitate de relief din România este marcată, pe hartă, cu litera:
a. A **b. B** **c. C** **d. E** **2 puncte**

D. Precizați două deosebiri și o asemănare între **relieful**, unității marcate, pe hartă, cu litera **C** și **relieful** unității marcate cu litera **E**.

Nota 1: Deosebirile și asemănarea se pot referi la oricare dintre următoarele aspecte ale **reliefului**: mod de formare, tipuri de roci, distribuția spațială a altitudinilor, gradul de fragmentare, orientarea culmilor și a văilor principale, tipuri genetice de relief, alte aspecte specifice ale reliefului.

Nota 2: Punctajul complet va fi acordat numai dacă deosebirile și asemănarea vor fi prezentate comparativ și nu separat.

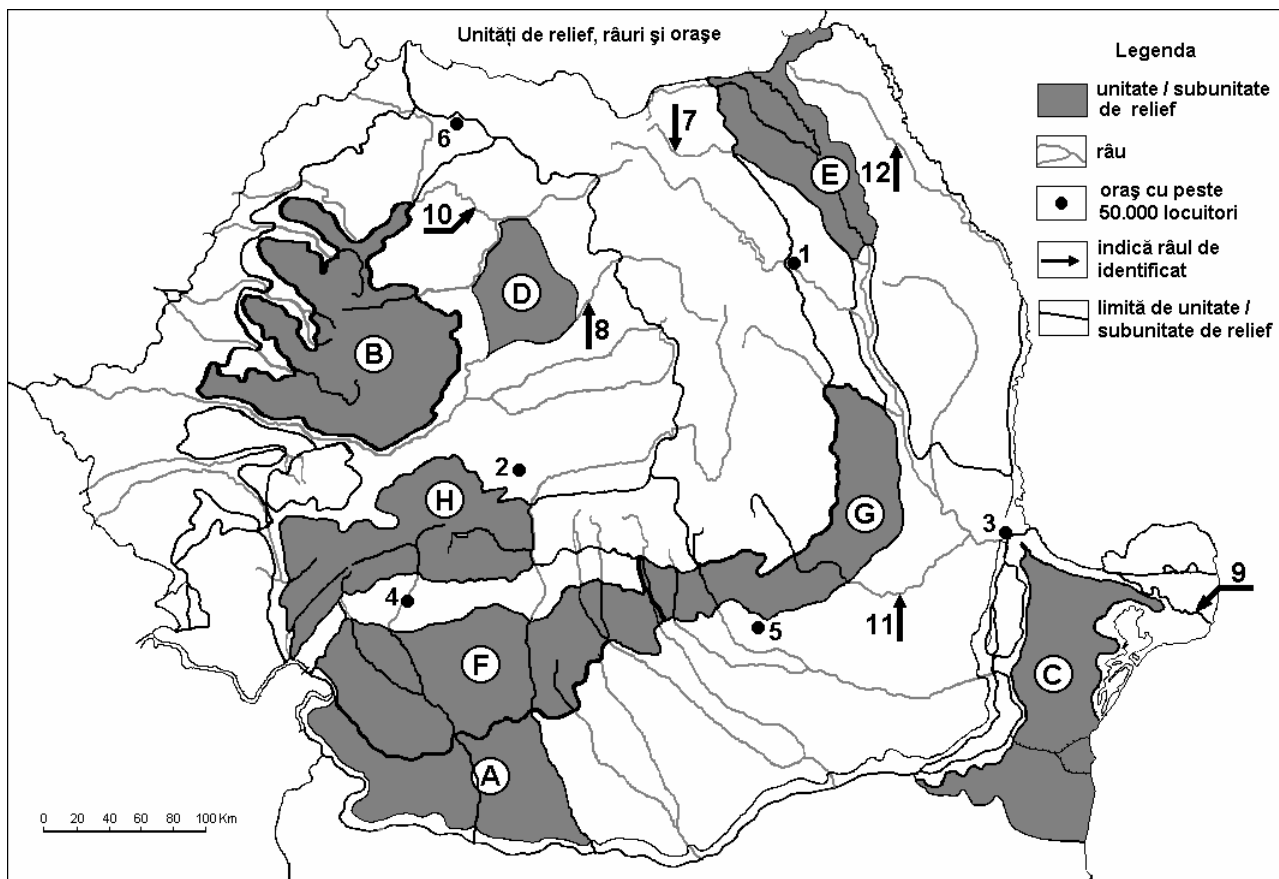
6 puncte

E. Prezentați două argumente care să demonstreze importanța economică a Mării Negre pentru România.

4 puncte

Examenul de bacalaureat 2008
Proba D, E, F
Proba scrisă la Geografie
Europa – România – Uniunea Europeană

- Toate subiectele sunt obligatorii. Se acordă 10 puncte din oficiu.
- Timpul efectiv de lucru este de 3 ore.

SUBIECTUL II**(30 puncte)**

Harta de mai sus se referă la subiectul II A - D. Pe hartă sunt marcate unități de relief cu litere, orașe cu numere de la 1 la 6 și râuri cu numere de la 7 la 12.

A. Precizați:

1. numele unităților de relief marcate, pe hartă, cu literele **C** și **E**;
2. numele orașelor marcate, pe hartă, cu numerele **5** și **6**.

4 puncte**B. Scrieți, pe foaia de examen, răspunsurile corecte care completează propozițiile de mai jos:**

1. Reședința județului Neamț este marcată, pe hartă, cu numărul ...
2. Unitatea de relief marcată, pe hartă, cu litera **F** se numește ...
3. Orașul marcat, pe hartă, cu numărul **2** se numește ...

6 puncte**C. Scrieți, pe foaia de examen, litera corespunzătoare răspunsului corect pentru fiecare dintre afirmațiile de mai jos:**

1. Prezintă cele mai multe depresiuni tectonice unitatea de relief marcată, pe hartă, cu litera:

a. B b. C c. F d. G **2 puncte**

2. Important centru siderurgic este orașul marcat, pe hartă, cu numărul:

a. 1 b. 3 c. 4 d. 5 **2 puncte**

3. Străbate o câmpie de subsidență râul marcat, pe hartă, cu numărul:

a. 7 b. 8 c. 11 d. 12 **2 puncte**

4. Numărul 9 de pe hartă, reprezintă brațul dunărean:

a. Borcea b. Chilia c. Macin d. Sf.Gheorghe **2 puncte**

5. Două șiruri de depresiuni și două șiruri de dealuri se găsesc în unitatea de relief marcată, pe hartă, cu litera:

a. C b. D c. E d. G **2 puncte**

D. Precizați trei deosebiri între **relieful** unității marcate, pe hartă, cu litera **D** și **relieful** unității marcate cu litera **H**.

Nota 1: Deosebirile se pot referi la oricare dintre următoarele aspecte ale **reliefului**: mod de formare, tipuri de roci, distribuția spațială a altitudinilor, gradul de fragmentare, orientarea culmilor și văilor principale, tipuri genetice de relief, alte aspecte specifice ale reliefului.

Nota 2: Punctajul complet va fi acordat numai dacă cele trei deosebiri vor fi prezentate comparativ și nu separat.

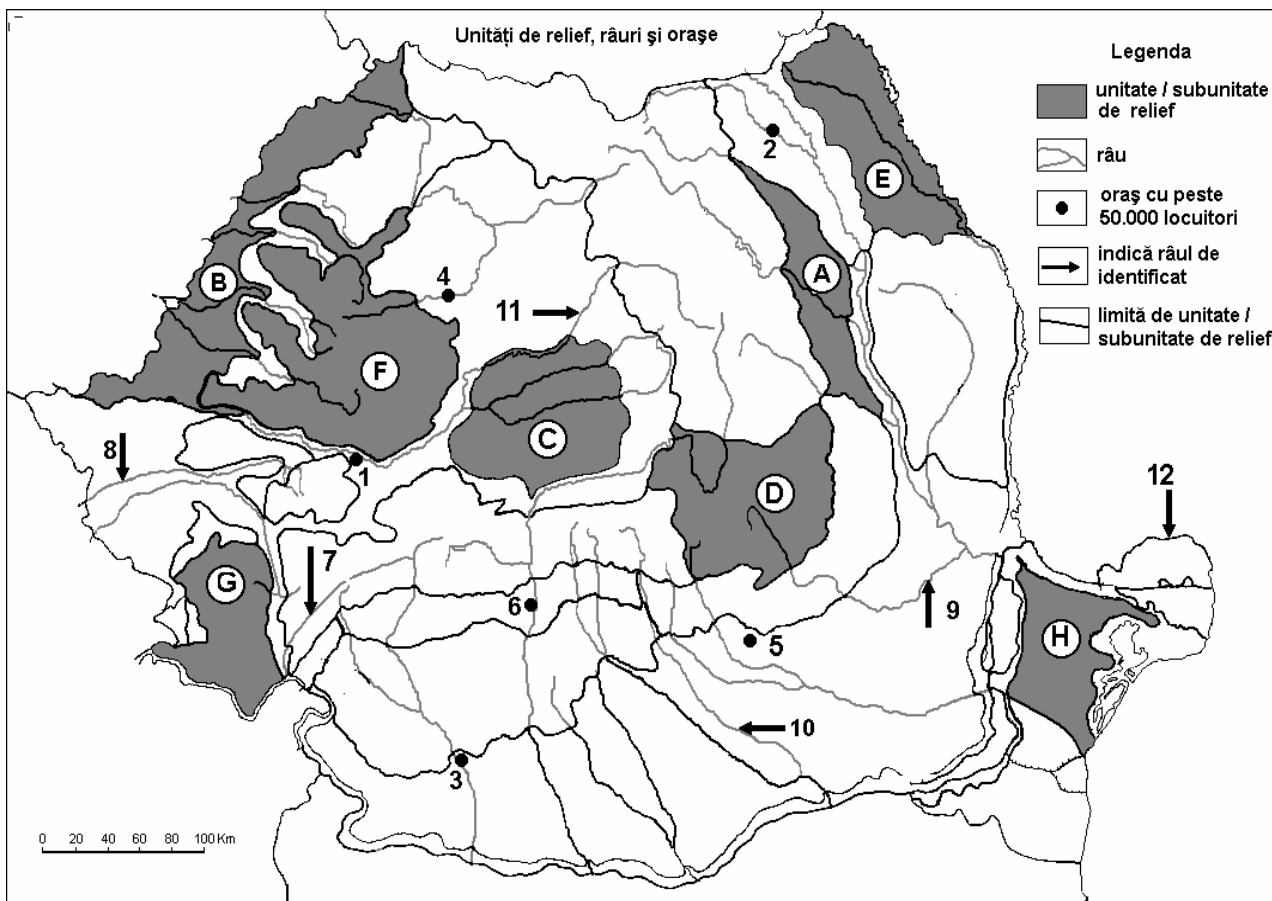
6 puncte

E. Precizați două cauze care determină, în România, deteriorarea vegetației din cadrul etajului alpin.

4 puncte

Examenul de bacalaureat 2008
Proba D, E, F
Proba scrisă la Geografie
Europa – România – Uniunea Europeană

- Toate subiectele sunt obligatorii. Se acordă 10 puncte din oficiu.
- Timpul efectiv de lucru este de 3 ore.

SUBIECTUL II**(30 puncte)**

Harta de mai sus se referă la subiectul II A – E. Pe hartă sunt marcate unități de relief cu litere, orașe cu numere de la 1 la 6 și râuri cu numere de la 7 la 12.

A. Precizați:

- numele unităților de relief marcate, pe hartă, cu literele **F** și **H**;
- numele orașelor marcate, pe hartă, cu numerele **6** și **5**.

4 puncte**B. Scrieți, pe foaia de examen, răspunsurile corecte care completează propozițiile de mai jos:**

- Orașul cu cel mai mare număr de locuitori străbătut de râul marcat, pe hartă, cu numărul **10** se numește...
- Gazul metan se extrage din unitatea de relief marcată, pe hartă, cu litera...
- Șisturile verzi sunt specifice unității de relief marcată, pe hartă, cu litera...

6 puncte**C. Scrieți, pe foaia de examen, litera corespunzătoare răspunsului corect pentru fiecare dintre afirmațiile de mai jos:**

- Râul marcat, pe hartă, cu numărul **7** se numește:

a. Cerna	b. Jiu	c. Motru	d. Timiș	2 puncte
----------	--------	----------	----------	-----------------
- Orașul marcat, pe hartă, cu numărul **3** este străbătut de râul:

a. Argeș	b. Dunăre	c. Jiu	d. Olt	2 puncte
----------	-----------	--------	--------	-----------------

3. Defileul Dunării este situat la sud de unitatea de relief marcată, pe hartă, cu litera:
a. A b. C c. F d. G 2 puncte
4. Orașul marcat, pe hartă, cu numărul **1** se numește:
a. Alba Iulia b. Deva c. Hunedoara d. Petroșani 2 puncte
5. Râul Someșul Mic străbate orașul marcat, pe hartă, cu numărul:
a. 1 b. 2 c. 4 d. 6 2 puncte

D. Precizați trei deosebiri între **clima** unității de relief marcate, pe hartă, cu **A** și **clima** unității de relief marcate, pe hartă, cu **G**.

Nota 1: Deosebirile se pot referi la oricare dintre următoarele elemente de **climă**: temperaturi medii anuale, precipitații medii anuale, vânturi, influență climatică, etaj climatic.

Nota 2: Punctajul complet va fi acordat numai dacă cele trei deosebiri vor fi prezentate comparativ și nu separat.

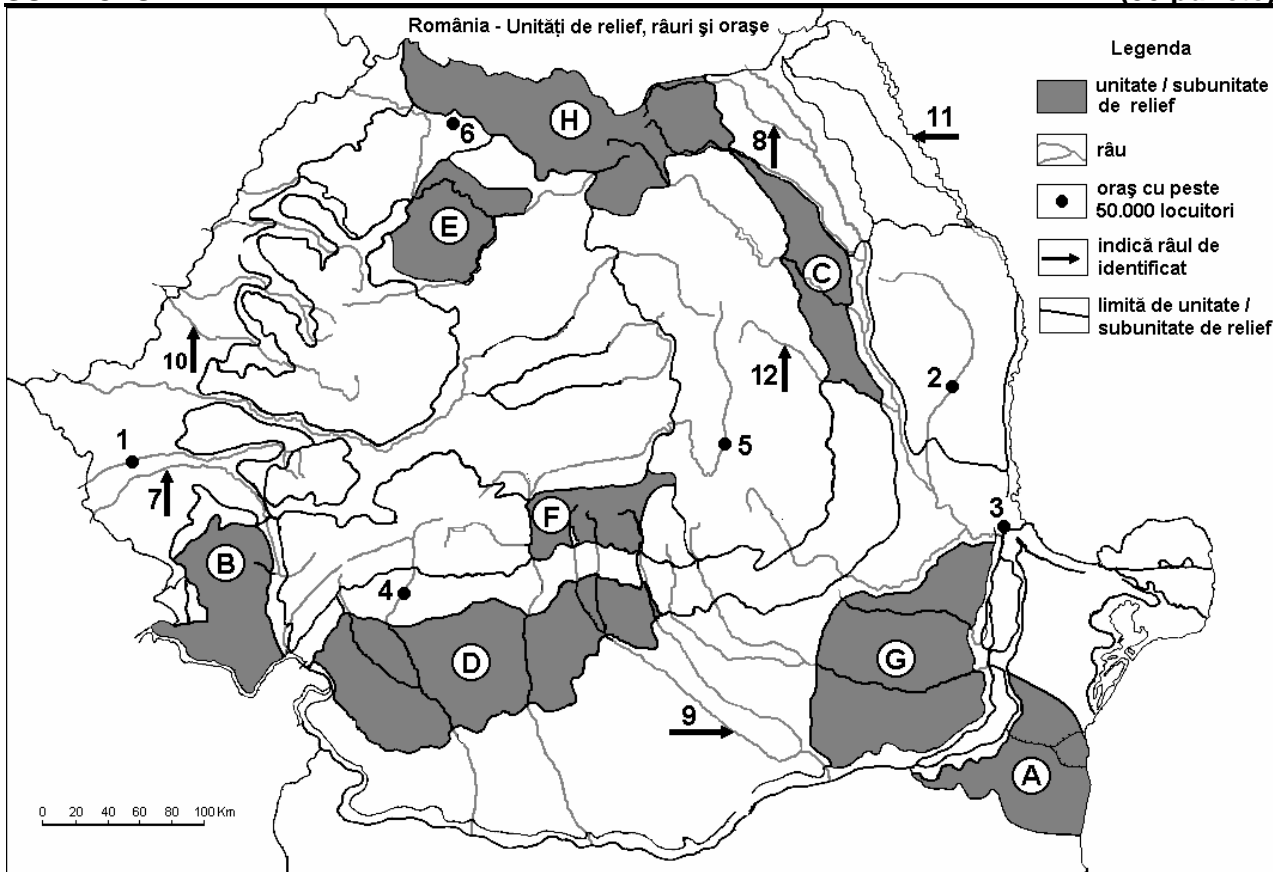
6 puncte

E. Prezentați două cauze care explică masivitatea redusă a unităților marcate, pe hartă, cu literele **F** și **G**.

4 puncte

Examenul de bacalaureat 2008
Proba D, E, F
Proba scrisă la Geografie
Europa – România – Uniunea Europeană

- Toate subiectele sunt obligatorii. Se acordă 10 puncte din oficiu.
- Timpul efectiv de lucru este de 3 ore.

SUBIECTUL II**(30 puncte)**

Harta de mai sus se referă la subiectul II A – E. Pe hartă sunt marcate unități sau subunități de relief cu litere, orașe cu numere de la 1 la 6 și râuri cu numere de la 7 la 12.

A. Precizați:

- numele unităților sau al subunităților de relief marcate, pe hartă, cu literele **C** și **G**;
- numele orașelor marcate pe harta cu numerele **1** și **4**.

4 puncte**B. Scrieți, pe foaia de examen, răspunsurile corecte care completează propozițiile de mai jos:**

- Râul marcat, pe hartă, cu numărul **11** constituie granița dintre România și statul numit...
- Influențe climatice scandinavo-baltice se resimt în unitatea de relief marcată, pe hartă, cu litera...
- Canalul Dunăre–Marea Neagră străbate unitatea de relief marcată, pe hartă, cu litera...

6 puncte**C. Scrieți, pe foaia de examen, litera corespunzătoare răspunsului corect pentru fiecare dintre afirmațiile de mai jos:**

- Bazinul carbonifer Motru - Rovinari este situat în unitatea de relief marcată, pe hartă, cu litera:

a. A	b. B	c. C	d. D	2 puncte
------	------	------	------	-----------------
- Pădurile de conifere ocupă suprafețe extinse în unitatea de relief marcată, pe hartă, cu litera:

a. A	b. D	c. G	d. H	2 puncte
------	------	------	------	-----------------
- Partea centrală a unității de relief marcată, pe hartă, cu litera **C** este străbătută de râul numit:

a. Bârlad	b. Bistrița	c. Moldova	d. Trotuș	2 puncte
-----------	-------------	------------	-----------	-----------------

4. Cel mai mare oraș din unitatea de relief marcată, pe hartă, cu litera **B** se numește:
a. Deva **b.** Hunedoara **c.** Reșița **d.** Timișoara **2 puncte**
5. Ultimul afluent al Dunării înainte de vărsarea în Marea Neagră este râul marcat, pe hartă, cu numărul:
a. 7 **b.** 8 **c.** 9 **d.** 11 **2 puncte**

D. Precizați două deosebiri și o asemănare între **relieful** unității de relief marcate, pe hartă, cu litera **B** și **relieful** unității de relief marcate, pe hartă, cu litera **F**.

Nota 1: Deosebirile și asemănarea se pot referi la oricare dintre următoarele aspecte ale **reliefului**: mod de formare, tipuri de roci, distribuția spațială a altitudinilor, gradul de fragmentare, orientarea culmilor și văilor principale, tipuri genetice de relief, alte aspecte specifice ale reliefului.

Nota 2: Punctajul complet va fi acordat numai dacă cele două deosebiri și asemănarea vor fi prezentate comparativ și nu separat.

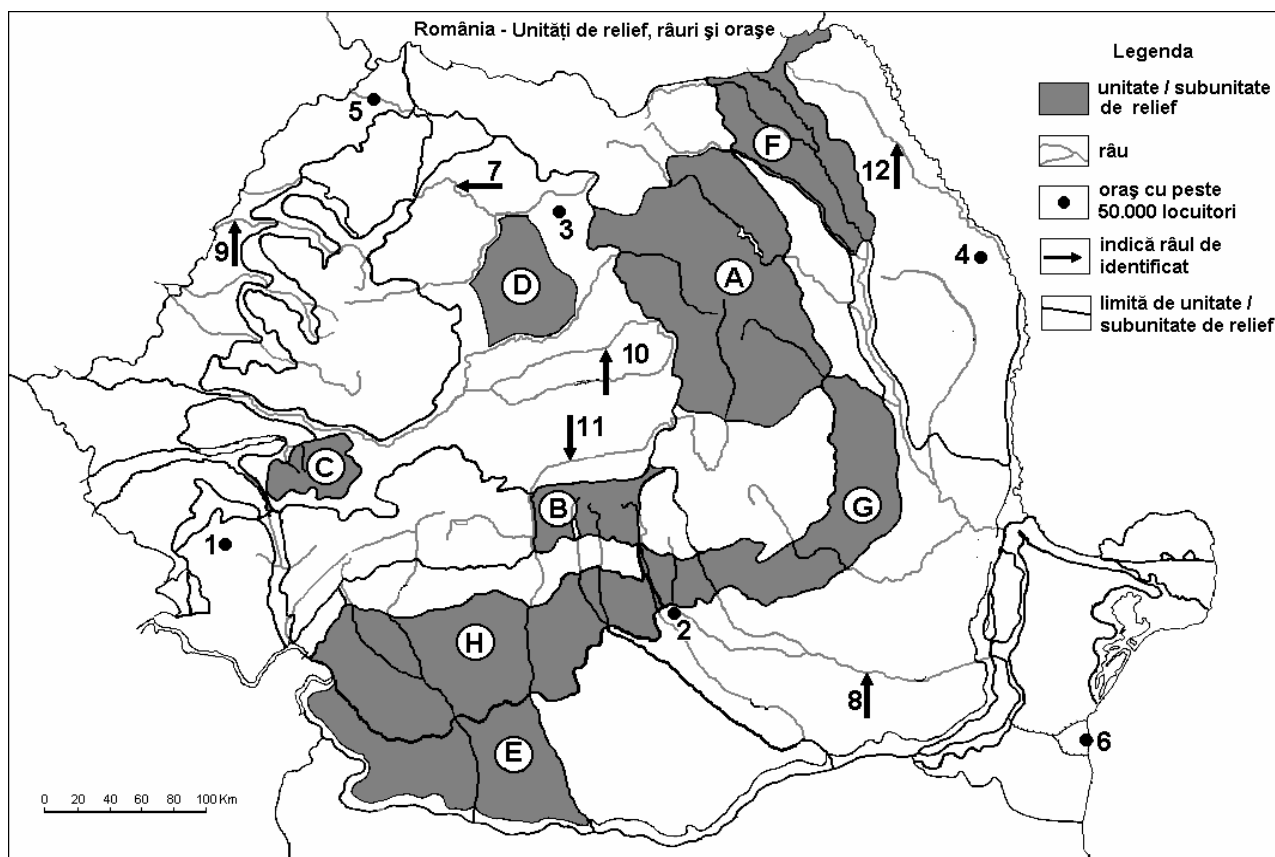
6 puncte

E. Prezentați două argumente care să susțină faptul că unitatea de relief marcată, pe hartă, cu litera **G** este o importantă regiune agricolă a României.

4 puncte

Examenul de bacalaureat 2008
Proba D, E, F
Proba scrisă la Geografie
Europa – România – Uniunea Europeană

- Toate subiectele sunt obligatorii. Se acordă 10 puncte din oficiu.
- Timpul efectiv de lucru este de 3 ore.

SUBIECTUL II**(30 puncte)**

Harta de mai sus se referă la subiectele II A – E. Pe hartă sunt marcate unități de relief cu litere, orașe cu numere de la 1 la 6 și râuri cu numere de la 7 la 12.

A. Precizați:

- numele unităților sau al subunităților de relief marcate, pe hartă, cu literele **E** și **F**;
- numele râurilor marcate, pe hartă, cu numerele **8** și **9**.

4 puncte**B. Scrieți, pe foaia de examen, răspunsurile corecte care completează propozițiile de mai jos:**

- Altitudini de peste 2500m se întâlnesc în unitatea de relief marcată, pe hartă, cu litera ...
- Relief glaciatic extins există în unitatea de relief marcată, pe hartă, cu litera...
- Roci vulcanice se găsesc în unitatea de relief marcată, pe hartă, cu litera...

6 puncte**C. Scrieți, pe foaia de examen, litera corespunzătoare răspunsului corect pentru fiecare dintre afirmațiile de mai jos:**

- Râul marcat, pe hartă, cu numărul **10** face parte din bazinul hidrografic al râului numit:

a. Argeș b. Mureș c. Olt d. Someș **2 puncte**

- Din unitatea de relief marcată, pe hartă, cu litera **C** se extrag importante resurse de:

a. bauxita b. cărbune c. fier d. petrol **2 puncte**

- Sunt străbătute de râul Jiu unitățile de relief marcate, pe hartă, cu literele:

a. B și E b. B și H c. G și H d. E și H **2 puncte**

- Iazuri și heleșteu se întâlnesc în număr mare în unitatea marcată, pe hartă, cu litera:

- | | | | | |
|-------------|-------------|-------------|-------------|-----------------|
| a. A | b. B | c. C | d. D | 2 puncte |
|-------------|-------------|-------------|-------------|-----------------|
5. În unitatea de relief marcată, pe hartă, cu litera **H** există relief:
- | | | | | |
|-------------------|--------------------|---------------------|--------------------|-----------------|
| a. carstic | b. glaciari | c. piemontan | d. vulcanic | 2 puncte |
|-------------------|--------------------|---------------------|--------------------|-----------------|

D. Precizați trei deosebiri între **clima** unității marcate, pe hartă, cu litera **E** și **clima** unității marcate, pe hartă, cu litera **F**.

Nota 1: Deosebirile se pot referi la oricare dintre următoarele elemente de **climă**: temperaturi medii anuale, precipitații medii anuale, vânturi, influență climatică, etaj climatic.

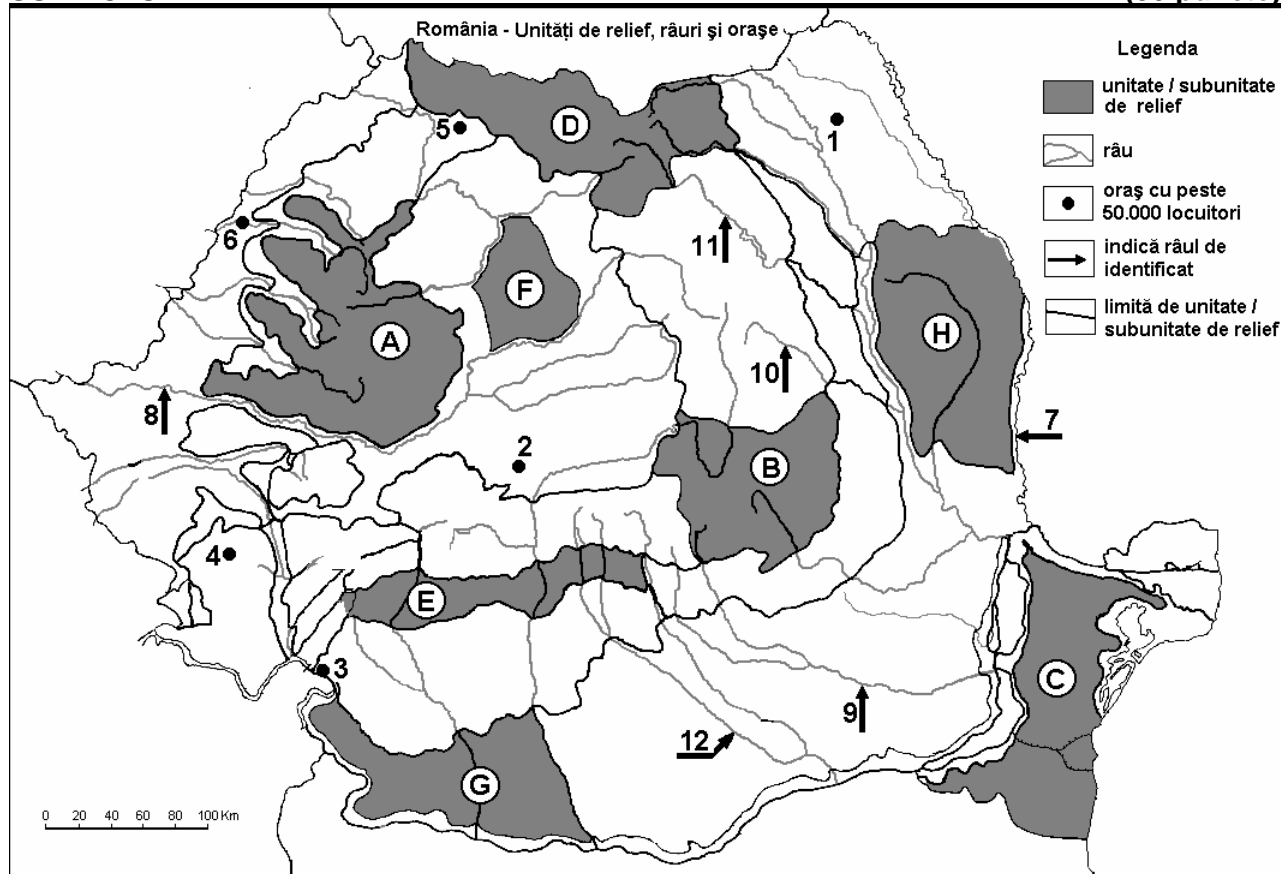
Nota 2: Punctajul complet va fi acordat numai dacă cele trei deosebiri vor fi prezentate comparativ și nu separat. **6 puncte**

E. Prezentați două cauze pentru care industria de prelucrare a lemnului are numeroase centre de prelucrare în unitățile marcate, pe hartă, cu literele **A** și **G**.

4 puncte

Examenul de bacalaureat 2008
Proba D, E, F
Proba scrisă la Geografie
Europa – România – Uniunea Europeană

- Toate subiectele sunt obligatorii. Se acordă 10 puncte din oficiu.
- Timpul efectiv de lucru este de 3 ore.

SUBIECTUL II**(30 puncte)**

Harta de mai sus se referă la subiectul II A – D. Pe hartă sunt marcate unități de relief cu litere, orașe (cu peste 50 000 loc.) cu numere de la 1 la 6 și râuri cu numere de la 7 la 12.

A. Scrieți pe foaia de examen:

1. numele unităților de relief marcate, pe hartă, cu literele **A** și **G**;
2. numele orașelor marcate, pe hartă, cu numerele **1** și **4**.

4 puncte

B. Scrieți, pe foaia de examen, răspunsurile corecte care completează propozițiile de mai jos:

1. Unitate de relief marcată, pe hartă, cu litera **E** se numește ...
2. Subunitatea de relief marcată, pe hartă, cu litera **H** face parte din unitatea majoră de relief numită, Podișul ...
3. În unitatea de relief marcată, pe hartă, cu litera **G** predomină etajul climatic de ...

6 puncte

C. Scrieți, pe foaia de examen, litera corespunzătoare răspunsului corect pentru fiecare dintre afirmațiile de mai jos:

1. Unitatea de relief marcată, pe hartă, cu litera **F** este limitată la sud de râul numit:

a. Mureș	b. Someș	c. Târnava Mică	d. Târnava Mare	2 puncte
----------	----------	-----------------	-----------------	-----------------
2. Cele mai mici cantități de precipitații se înregistrează în unitatea de relief marcată cu litera:

a. B	b. C	c. G	d. H	2 puncte
------	------	------	------	-----------------
3. Zona alpină se desfășoară în unitatea de relief marcată, pe hartă, cu litera:

a. C	b. D	c. G	d. H	2 puncte
------	------	------	------	-----------------

4. Râul marcat, pe hartă, cu numărul **12** se numește:

a. Argeș **b.** Dâmbovița **c.** Olt **d.** Prahova **2 puncte**

5. Tipul de mediu și peisaj subcarpatic se întâlnește în unitatea de relief marcată cu litera:

a. A **b.** B **c.** E **d.** H **2 puncte**

D. Precizați trei deosebiri între **activitățile economice** din unitatea de relief marcată, pe hartă, cu litera **A** și **activitățile economice** din unitatea de relief marcată, pe hartă, cu litera **C**.

Notă 1: Deosebirile se pot referi la oricare dintre următoarele elemente: industrie, agricultură, căi de comunicație, turism.

Nota 2: Punctajul complet va fi acordat numai dacă cele trei deosebiri vor fi prezentate comparativ și nu separat.

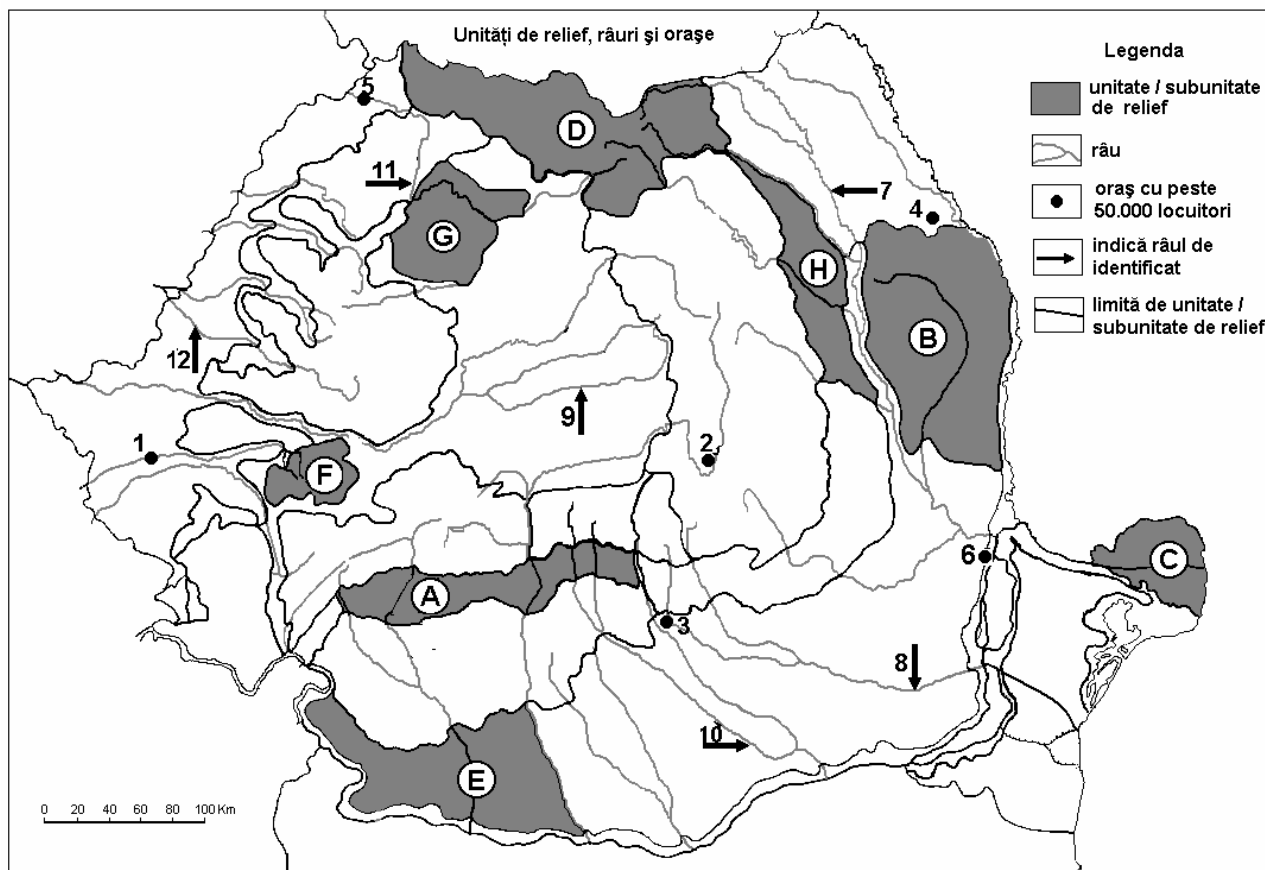
6 puncte

E. Precizați două argumente, care să susțină necesitatea dezvoltării turismului în țara noastră.

4 puncte

Examenul de bacalaureat 2008
Proba D, E, F
Proba scrisă la Geografie
Europa – România – Uniunea Europeană

- Toate subiectele sunt obligatorii. Se acordă 10 puncte din oficiu.
- Timpul efectiv de lucru este de 3 ore.

SUBIECTUL II**(30 puncte)**

Harta de mai sus se referă la subiectul II A – D. Pe hartă sunt marcate unități de relief, cu litere, orașe (cu peste 50 000 loc.) cu numere de la 1 la 6 și râuri cu numere de la 7 la 12.

A. Scrieți pe foaia de examen:

1. numele unităților de relief marcate, pe hartă, cu literele **F** și **H**;
2. numele râurilor marcate, pe hartă, cu numerele **7** și **9**.

4 puncte

B. Scrieți, pe foaia de examen, răspunsurile corecte care completează propozițiile de mai jos:

1. Unitate de relief marcată, pe hartă, cu litera **B**, se învecinează la nord, cu Câmpia ...
2. Subunitatea de relief marcată, pe hartă, cu litera **G**, face parte din unitatea majoră de relief numită, Depresiunea ...
3. În unitatea de relief marcată, pe hartă, cu litera **B**, sunt specifice influențele climatice ...

6 puncte

C. Scrieți, pe foaia de examen, litera corespunzătoare răspunsului corect pentru fiecare dintre afirmațiile de mai jos:

1. Unitatea de relief marcată, pe hartă, cu litera **F** este limitată la nord de râul numit:

a. Mureș	b. Târnava Mare	c. Târnava Mică	d. Timiș	2 puncte
----------	-----------------	-----------------	----------	-----------------
2. Cele mai mari cantități de precipitații se înregistrează în unitatea de relief marcată cu litera:

a. B	b. C	c. D	d. H	2 puncte
------	------	------	------	-----------------

3. Vegetația de silvostepă este specifică unității marcate, pe hartă, cu litera:

a. C

b. E

c. G

d. H

2 puncte

4. Pescuitul este ocupația principală a locuitorilor din unitatea de relief marcată, pe hartă, cu litera:

a. C

b. D

c. E

d. G

2 puncte

5. Orașul marcat, pe hartă, cu numărul 1 se numește:

a. Arad

b. Caransebeș

c. Reșița

d. Timișoara

2 puncte

D. Precizați trei deosebiri între **activitățile economice** din unitatea de relief marcată, pe hartă, cu litera **D** și **activitățile economice** din unitatea de relief marcată, pe hartă, cu litera **E**.

Notă 1: Deosebirile se pot referi la oricare dintre următoarele elemente: industrie, agricultură, căi de comunicație, turism.

Nota 2: Punctajul complet va fi acordat numai dacă cele trei deosebiri vor fi prezentate comparativ și nu separat.

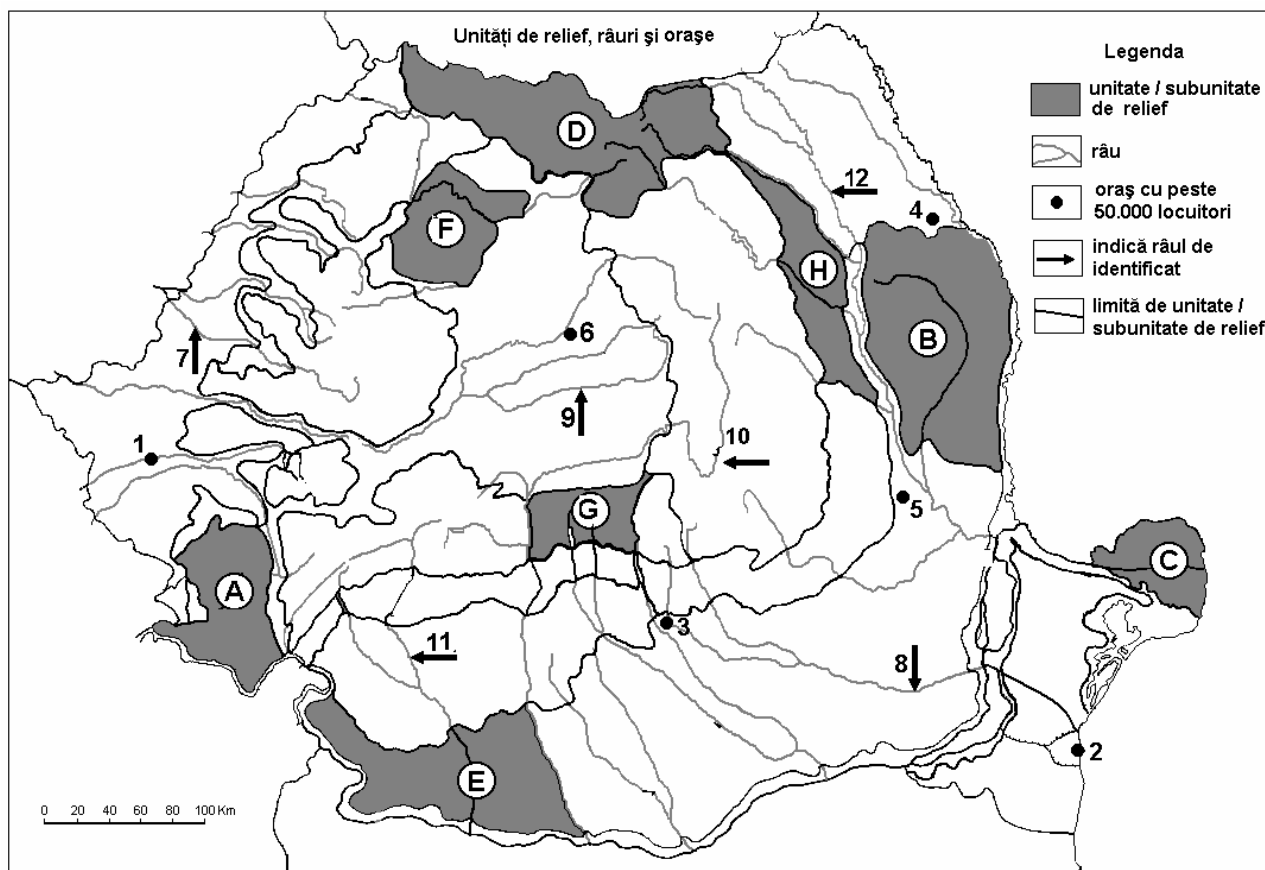
6 puncte

E. Precizați două argumente, care să susțină necesitatea dezvoltării turismului în țara noastră.

4 puncte

Examenul de bacalaureat 2008
Proba D, E, F
Proba scrisă la Geografie
Europa – România – Uniunea Europeană

- Toate subiectele sunt obligatorii. Se acordă 10 puncte din oficiu.
- Timpul efectiv de lucru este de 3 ore.

SUBIECTUL II**(30 puncte)**

Harta de mai sus se referă la subiectul II A – D. Pe hartă sunt marcate unități de relief cu litere, orașe (cu peste 50 000 loc.) cu numere de la 1 la 6 și râuri cu numere de la 7 la 12.

A. Precizați:

- numele unităților de relief marcate, pe hartă, cu literele **B** și **G**;
- numele orașelor marcate, pe hartă, cu numerele **2** și **3**.

4 puncte**B. Scrieți, pe foaia de examen, răspunsurile corecte care completează propozițiile de mai jos:**

- Unitate de relief marcată, pe hartă, cu litera **G** se învecinează, la est, cu grupa Munților ...
- Subunitatea de relief marcată, pe hartă, cu litera **A** se numește...
- În unitatea de relief marcată, pe hartă, cu litera **F** predomină influențele climatice

6 puncte**C. Scrieți, pe foaia de examen, litera corespunzătoare răspunsului corect pentru fiecare dintre afirmațiile de mai jos:**

- Unitatea de relief marcată, pe hartă, cu litera **H** este limitată la sud de râul numit:

a. Bistrița	b. Oituz	c. Siret	d. Trotuș	2 puncte
-------------	----------	----------	-----------	-----------------
- Cele mai ridicate temperaturi medii anuale se înregistrează în unitatea de relief marcată cu litera:

a. B	b. C	c. G	d. H	2 puncte
------	------	------	------	-----------------

3. Pădurile de conifere sunt specifice unității marcate, pe hartă, cu litera:
a. B b. D c. F d. H 2 puncte
4. Cultura cerealelor este specifică în unitatea de relief marcată, pe hartă, cu litera:
a. A b. C c. E d. G 2 puncte
5. Peisaj alpin se întâlnește în unitatea de relief marcată, pe hartă, cu litera:
a. A b. B c. F d. G 2 puncte

D. Precizați trei deosebiri între **activitățile economice** din unitatea de relief marcată, pe hartă, cu litera **A** și **activitățile economice** din unitatea de relief marcată, pe hartă, cu litera **E**.

Notă 1: Deosebirile se pot referi la oricare dintre următoarele elemente: industrie, agricultură, căi de comunicație, turism.

Nota 2: Punctajul complet va fi acordat numai dacă cele trei deosebiri vor fi prezentate comparativ și nu separat.

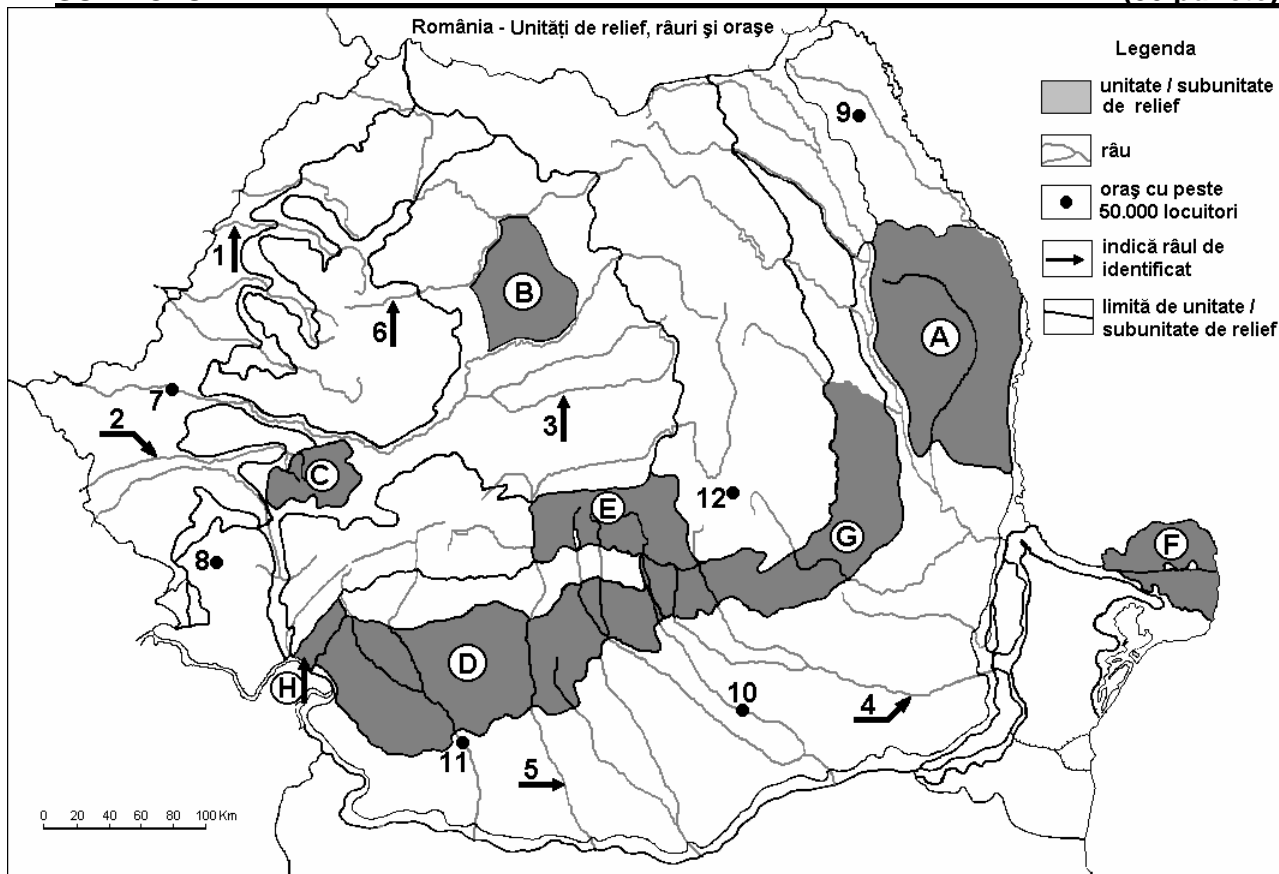
6 puncte

E. Precizați două argumente care să susțină necesitatea dezvoltării industriei energiei electrice în țara noastră.

4 puncte

Examenul de bacalaureat 2008
Proba D, E, F
Proba scrisă la Geografie
Europa – România – Uniunea Europeană

- Toate subiectele sunt obligatorii. Se acordă 10 puncte din oficiu.
- Timpul efectiv de lucru este de 3 ore.

SUBIECTUL II**(30 puncte)**

Harta de mai sus se referă la subiectul II A – E. Pe hartă sunt marcate unități sau subunități de relief cu litere, râuri cu numere de la 1 la 6 și orașe cu numere de la 7 la 12.

A. Precizați:

- numele râurilor marcate, pe hartă, cu numerele 1 și 2;
- numele orașelor marcate, pe hartă, cu numerele 11 și 12.

4 puncte**B. Scrieți, pe foaia de examen, răspunsurile corecte care completează propozițiile de mai jos:**

- Râul Mureș traversează orașul marcat, pe hartă, cu numărul...
- Singurul braț navigabil din unitatea de relief marcată, pe hartă, cu litera F, se numește...
- Unitatea de relief marcată, pe hartă, cu litera D este numită ...

6 puncte**C. Scrieți, pe foaia de examen, răspunsurile corecte care completează propozițiile de mai jos:**

- Cea mai joasă unitate de relief dintre cele marcate pe hartă, este unitatea:

a. A	b. B	c. D	d. F	2 puncte
------	------	------	------	-----------------
- Principala resursă de subsol din unitatea de relief marcată, pe hartă, cu litera B este:

a. gazul metan	b. huila	c. lignitul	d. petrolul	2 puncte
----------------	----------	-------------	-------------	-----------------
- Orașul cu cel mai mare număr de locuitori este marcat, pe hartă, cu numărul:

a. 7	b. 8	c. 9	d. 10	2 puncte
------	------	------	-------	-----------------
- Cele mai mari cantități de precipitații cad în unitatea de relief marcată, pe hartă, cu litera:

a. A	b. B	c. D	d. E	2 puncte
------	------	------	------	-----------------

5. Industria siderurgică se găsește în orașul marcat, pe hartă, cu numărul:

a. 7

b. 8

c. 9

d. 12

2 puncte

D. Precizați două asemănări și o deosebire între **relieful** unității marcate, pe hartă, cu litera **C** și **relieful** unității marcate cu litera **E**.

***Nota 1:** Asemănările și deosebirea se pot referi la oricare dintre următoarele aspecte ale reliefului: mod de formare, tipuri de roci pe care s-a format relieful, altitudini, înclinare, fragmentare, tipuri de relief.*

***Nota 2:** Punctajul complet va fi acordat numai dacă cele două unități de relief vor fi prezentate comparativ și nu separat.*

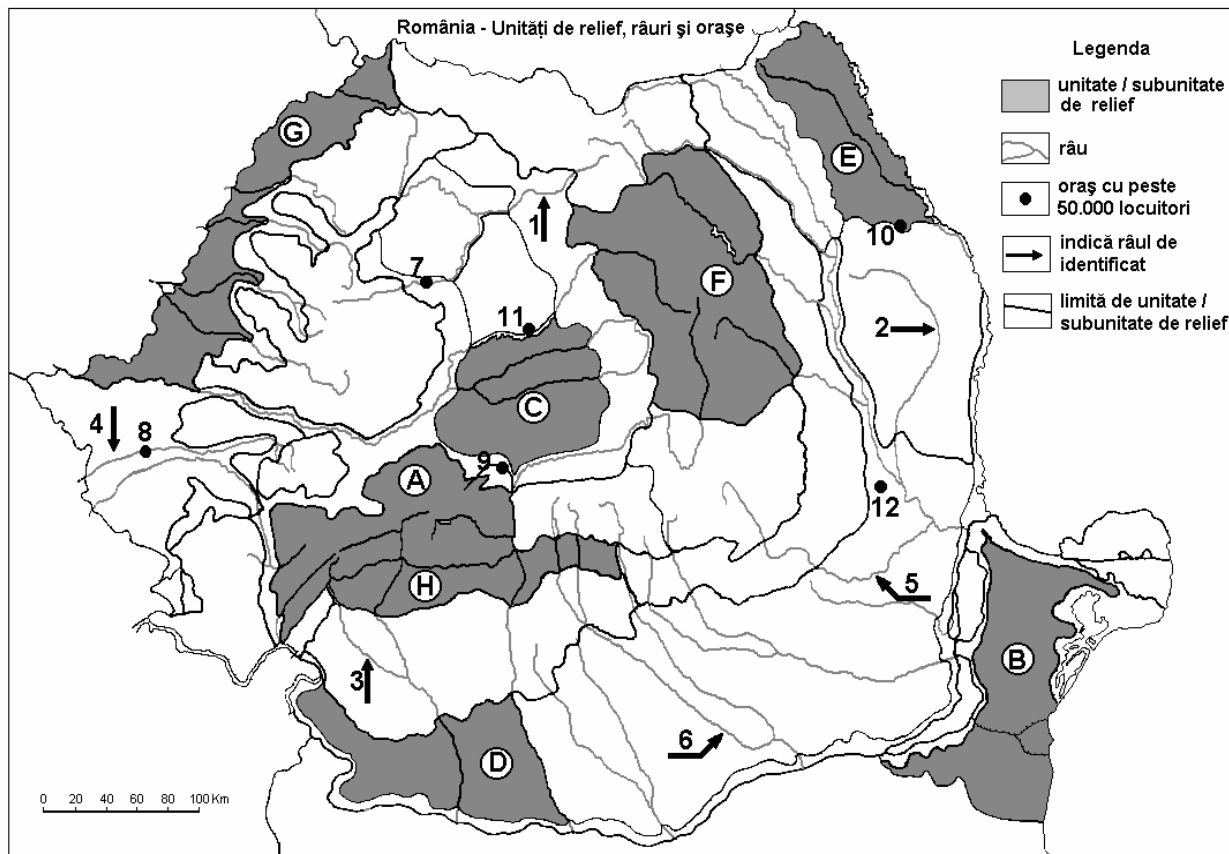
6 puncte

E. Prezentați două cauze care să explice frecvența mare a alunecărilor de teren în unitatea de relief marcată, pe hartă, cu litera **G**.

2 puncte

Examenul de bacalaureat 2008
Proba D, E, F
Proba scrisă la Geografie
Europa – România – Uniunea Europeană

- Toate subiectele sunt obligatorii. Se acordă 10 puncte din oficiu.
- Timpul efectiv de lucru este de 3 ore.

SUBIECTUL II**(30 puncte)**

Harta de mai sus se referă la subiectul II A – E. Pe hartă sunt marcate unități sau subunități de relief cu litere, râuri cu numere de la 1 la 6 și orașe cu numere de la 7 la 12.

A. Precizați:

1. numele râurilor marcate, pe hartă, cu numerele 4 și 6;
2. numele orașelor marcate, pe hartă, cu numerele 9 și 12.

4 puncte

B. Scrieți, pe foaia de examen, răspunsurile corecte care completează propozițiile de mai jos:

1. Domurile gazeifere se găsesc în unitatea de relief marcată, pe hartă, cu litera ...
2. Limita de vest a unității de relief marcată, pe hartă, cu litera H o reprezintă râul marcat, pe hartă, cu numărul...
3. Orașul marcat, pe hartă, cu numărul 7 este străbătut de râul numit ...

6 puncte

C. Scrieți, pe foaia de examen, litera corespunzătoare răspunsului corect pentru fiecare dintre afirmațiile de mai jos:

1. Cele mai mari altitudini se înregistrează, dintre unitățile marcate pe hartă, în unitatea de relief, marcată, pe hartă, cu litera:

a. A b. C c. F d. H **2 puncte**

2. Orașul marcat, pe hartă, cu numărul 11 este traversat de râul:

a. Mureș b. Someșul Mare c. Someșul Mic d. Târnava Mică **2 puncte**

3. Relieful vulcanic este bine reprezentat în unitatea de relief marcată, pe hartă, cu litera:
a. A **b. B** **c. F** **d. H** **2 puncte**
4. Cel mai mare număr de locuitori, dintre orașele marcate pe hartă, îl are orașul marcat cu numărul:
a. 9 **b. 10** **c. 11** **d. 12** **2 puncte**
5. Climatul temperat-oceanic este prezent în unitatea de relief marcată, pe hartă, cu litera:
a. B **b. D** **c. E** **d. G** **2 puncte**

D. Precizați trei asemănări între **relieful** unității marcate, pe hartă cu litera **D** și **relieful** unității marcate, pe hartă, cu litera **G**.

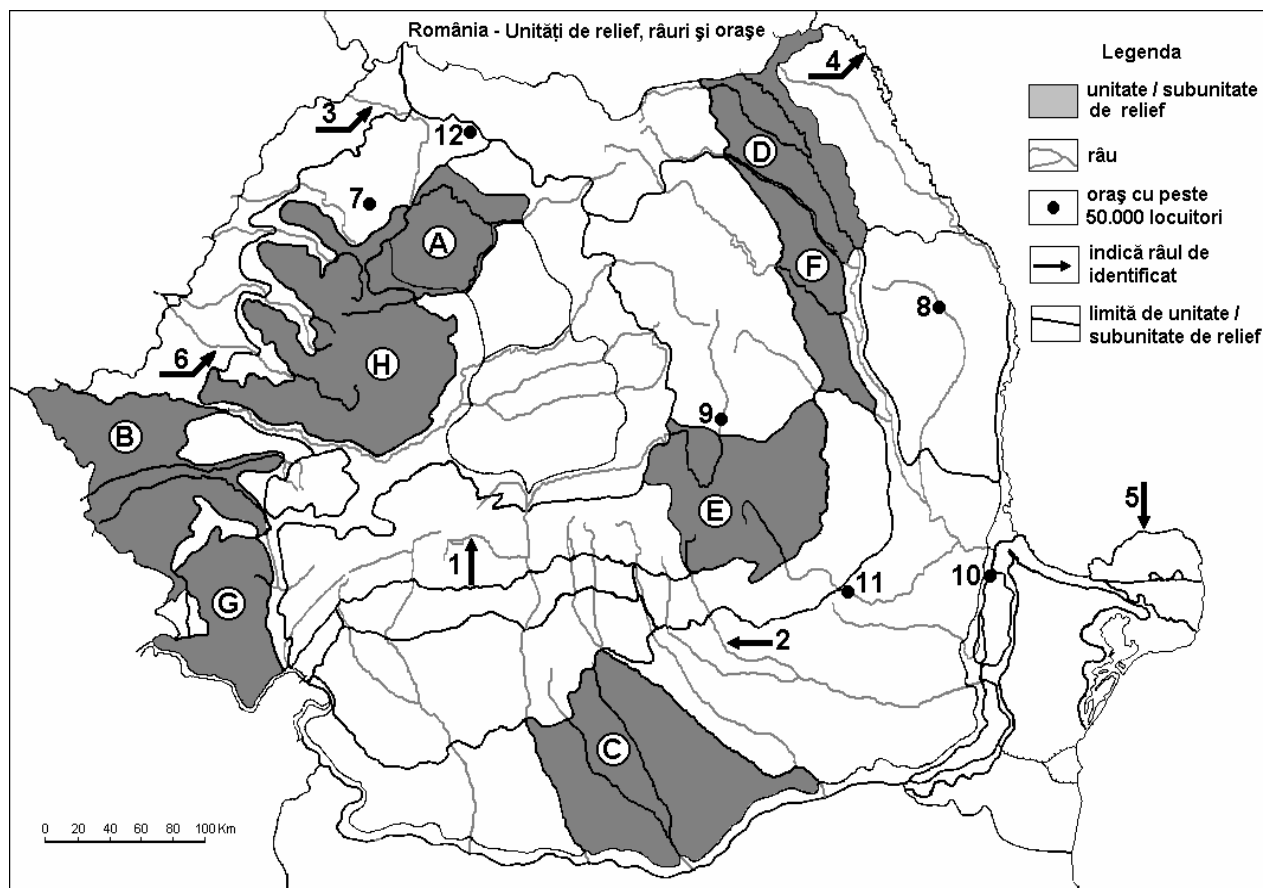
Nota 1: Asemănările se pot referi la oricare dintre următoarele aspecte ale reliefului: mod de formare, tipuri de roci pe care s-a format relieful, altitudini, înclinare, tipuri de relief, alte aspecte specifice ale reliefului.

Nota 2: Punctajul complet va fi acordat numai dacă cele două unități de relief vor fi prezentate comparativ și nu separat. **6 puncte**

E. Precizați două cauze care să explice diferențele dintre cantitățile de precipitații medii anuale înregistrate în unitatea de relief marcată, pe hartă, cu litera **B** și în unitatea de relief marcată, pe hartă, cu litera **A**. **4 puncte**

Examenul de bacalaureat 2008
Proba D, E, F
Proba scrisă la Geografie
Europa – România – Uniunea Europeană

- Toate subiectele sunt obligatorii. Se acordă 10 puncte din oficiu.
- Timpul efectiv de lucru este de 3 ore.

SUBIECTUL II**(30 puncte)**

Harta de mai sus se referă la subiectul II A – E. Pe hartă sunt marcate unități sau subunitățile de relief cu litere, râuri cu numere de la 1 la 6 și orașe cu numere de la 7 la 12.

A. Precizați:

- numele orașele marcate, pe hartă, cu numerele 10, 11 și 12;
- numele râului marcat, pe hartă, cu numărul 1.

4 puncte

B. Scrieți, pe foaia de examen, răspunsurile corecte care completează propozițiile de mai jos:

- Brațul Dunării marcat, pe hartă, cu numărul 5 se numește ...
- Sectorul din Câmpia Română situat la vest de unitatea de relief marcată, pe hartă, cu litera C se numește Câmpia ...
- Orașul marcat, pe hartă, cu numărul 8 este reședința județului ...

6 puncte

C. Scrieți, pe foaia de examen, răspunsurile corecte care completează propozițiile de mai jos:

- O unitate de relief formată prin cutare este cea marcată, pe hartă, cu litera:

a. B	b. C	c. D	d. H	2 puncte
------	------	------	------	-----------------
- Râul ce se varsă direct în Dunăre dintre cele marcate pe hartă, este cel marcat cu numărul:

a. 1	b. 2	c. 4	d. 6	2 puncte
------	------	------	------	-----------------
- Climatul submediteranean se resimte în unitatea de relief marcată, pe hartă, cu litera:

a. D	b. E	c. F	d. G	2 puncte
------	------	------	------	-----------------
- Clasa molisolurilor este prezentă în unitatea de relief marcată, pe hartă cu litera:

a. A	b. B	c. F	d. H	2 puncte
------	------	------	------	-----------------

5. Petrolul reprezintă o resursă a subsolului unității de relief marcate, pe hartă, cu litera:

a. C

b. D

c. G

d. H

2 puncte

D. Precizați două asemănări și o deosebire între **relieful** unității marcate, pe hartă, cu litera **E** și **relieful** unității marcate cu litera **F**.

***Nota 1:** Asemănările și deosebirea se pot referi la oricare dintre următoarele aspecte ale reliefului: mod de formare, tipuri de roci pe care s-a format relieful, altitudini, înclinare, fragmentare, tipuri de relief.*

***Nota 2:** Punctajul complet va fi acordat numai dacă cele două unități de relief vor fi prezentate comparativ și nu separat.*

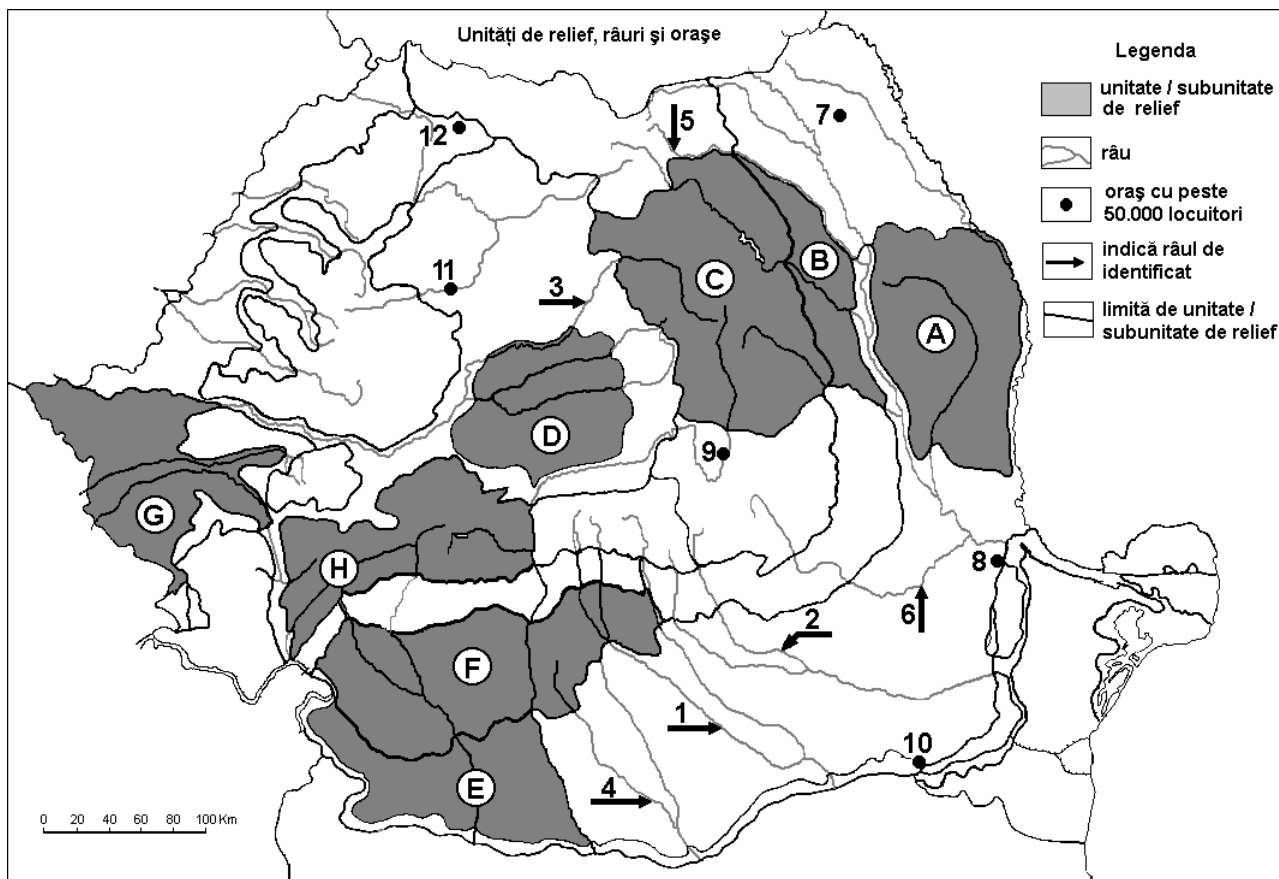
6 puncte

E. Precizați două cauze pentru care fondul forestier este valorificat diferit în unitatea de relief marcată, pe hartă, cu litera **C**, față de cel din unitatea de relief marcată, pe hartă, cu litera **H**.

4 puncte

Examenul de bacalaureat 2008
Proba D, E, F
Proba scrisă la Geografie
Europa – România – Uniunea Europeană

- Toate subiectele sunt obligatorii. Se acordă 10 puncte din oficiu.
- Timpul efectiv de lucru este de 3 ore.

SUBIECTUL II**(30 puncte)**

Harta de mai sus se referă la subiectul II A – D. Pe hartă sunt marcate unități de relief cu litere, râuri cu numere de la 1 la 6 orașe cu numere de la 7 la 12.

A. Precizați:

1. numele unităților de relief marcate, pe hartă, cu literele **A** și **B**;
2. numele orașelor marcate, pe hartă, cu numerele **7** și **11**.

4 puncte**B. Scrieți, pe foaia de examen, răspunsurile corecte care completează propozițiile de mai jos:**

1. Orașul marcat, pe hartă, cu numărul **12** se numește ...
2. Relieful vulcanic este dezvoltat în unitatea de relief marcată, pe hartă, cu litera ...
3. Lacuri glaciare sunt în unitatea de relief marcată, pe hartă, cu litera ...

6 puncte**C. Scrieți, pe foaia de examen, litera corespunzătoare răspunsului corect pentru fiecare dintre afirmațiile de mai jos:**

1. Orașul marcat, pe hartă, cu numărul **10** se numește:

a. Brăila	b. Călărași	c. Giurgiu	d. Slobozia	2 puncte
-----------	-------------	------------	-------------	-----------------
2. Domurile gazeifere sunt specifice unității de relief marcată, pe hartă, cu litera:

a. A	b. D	c. F	d. G	2 puncte
------	------	------	------	-----------------
3. Bazinul de lignit Motru - Rovinari se află situat în unitatea de relief marcată, pe hartă, cu litera:

a. B	b. C	c. E	d. F	2 puncte
------	------	------	------	-----------------

4. Râul Bega traversează subunitatea de relief marcată, pe hartă, cu litera:
a. A b. E c. F d. G 2 puncte
5. Orașul marcat, pe hartă, cu numărul **9** se numește:
a. Brașov b. Focșani c. Sfântu Gheorghe d. Sibiu 2 puncte

D. Precizați trei deosebiri între **relieful** unității marcate, pe hartă, cu litera **C** și **relieful** unității marcate, pe hartă, cu litera **H**.

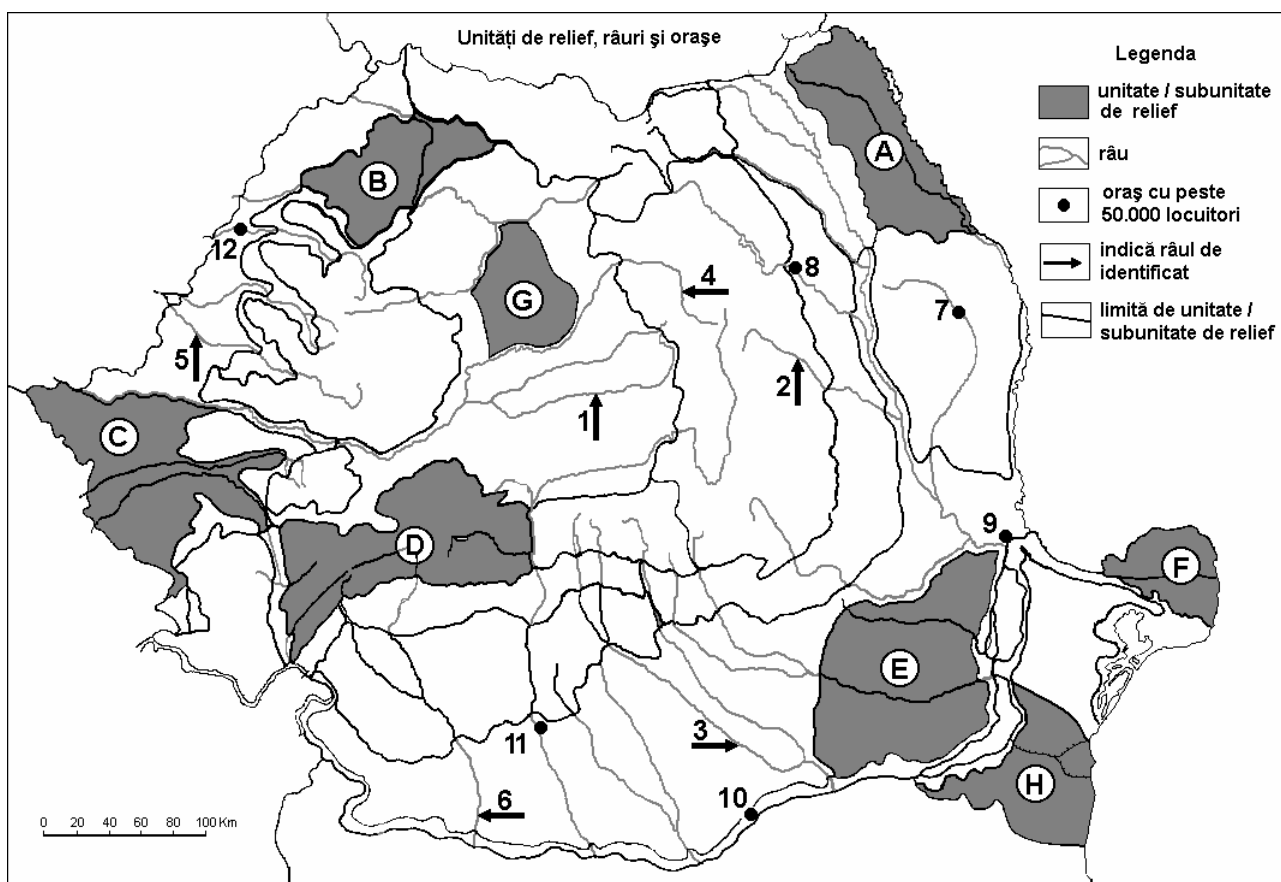
Nota 1: Deosebirile se pot referi la oricare dintre următoarele aspecte ale **reliefului**: mod de formare, tipuri de roci, distribuția spațială a altitudinilor, gradul de fragmentare, orientarea culmilor și văilor principale, tipuri genetice de relief, alte aspecte specifice ale reliefului.

Nota 2: Punctajul complet va fi acordat numai dacă cele trei deosebiri vor fi prezentate comparativ și nu separat. **6 puncte**

E. Prezentați două modificări survenite în structura populației ocupate, după 1990, în România. **4 puncte**

Examenul de bacalaureat 2008
Proba D, E, F
Proba scrisă la Geografie
Europa – România – Uniunea Europeană

- Toate subiectele sunt obligatorii. Se acordă 10 puncte din oficiu.
- Timpul efectiv de lucru este de 3 ore.

SUBIECTUL II**(30 puncte)**

Harta de mai sus se referă la subiectul II A – D. Pe hartă sunt marcate unități de relief cu litere, râuri cu numere de la 1 la 6 orașe cu numere de la 7 la 12.

A. Precizați:

- numele subunităților de relief marcate, pe hartă, cu literele **A** și **B**;
- numele râurilor marcate, pe hartă, cu numerele **2** și **6**.

4 puncte**B. Scrieți, pe foaia de examen, răspunsurile corecte care completează propozițiile de mai jos:**

- Bazinul de huiă Petroșani se află în unitatea de relief marcată, pe hartă, cu litera...
- Brațul navigabil al Deltei Dunării se află în unitatea de relief marcată, pe hartă, cu litera ...
- Port la Dunărea maritimă este orașul marcat, pe hartă, cu numărul...

6 puncte**C. Scrieți, pe foaia de examen, litera corespunzătoare răspunsului corect pentru fiecare dintre afirmațiile de mai jos:**

- Orașul marcat, pe hartă, cu numărul **8** se numește:

a. Bacău	b. Bârlad	c. Piatra Neamț	d. Suceava	2 puncte
----------	-----------	-----------------	------------	-----------------
- Orașul Vaslui este marcat, pe hartă, cu numărul:

a. 7	b. 8	c. 9	d. 11	2 puncte
------	------	------	-------	-----------------
- Defileul Toplița - Deda este format de râul marcat, pe hartă, cu numărul:

a. 2	b. 4	c. 6	d. 7	2 puncte
------	------	------	------	-----------------

4. Crovurile sunt forme de relief specifice unității de relief, marcată, pe hartă, cu litera:
a. A **b. E** **c. F** **d. G** **2 puncte**
5. Reședința județului Olt este marcată, pe hartă, cu numărul:
a. 7 **b. 10** **c. 11** **d. 12** **2 puncte**

D. Precizați două deosebiri și o asemănare între **clima** unității de relief marcate, pe hartă, cu litera **C** și **clima** unității de relief marcate, pe hartă, cu litera **E**.

Nota 1: Deosebirile se pot referi la oricare dintre următoarele elemente de **climă**: temperaturi medii anuale, precipitații medii anuale, vânturi, influență climatică, etaj climatic.

Nota 2: Punctajul complet va fi acordat numai dacă deosebirile și asemănările vor fi prezentate comparativ și nu separat.

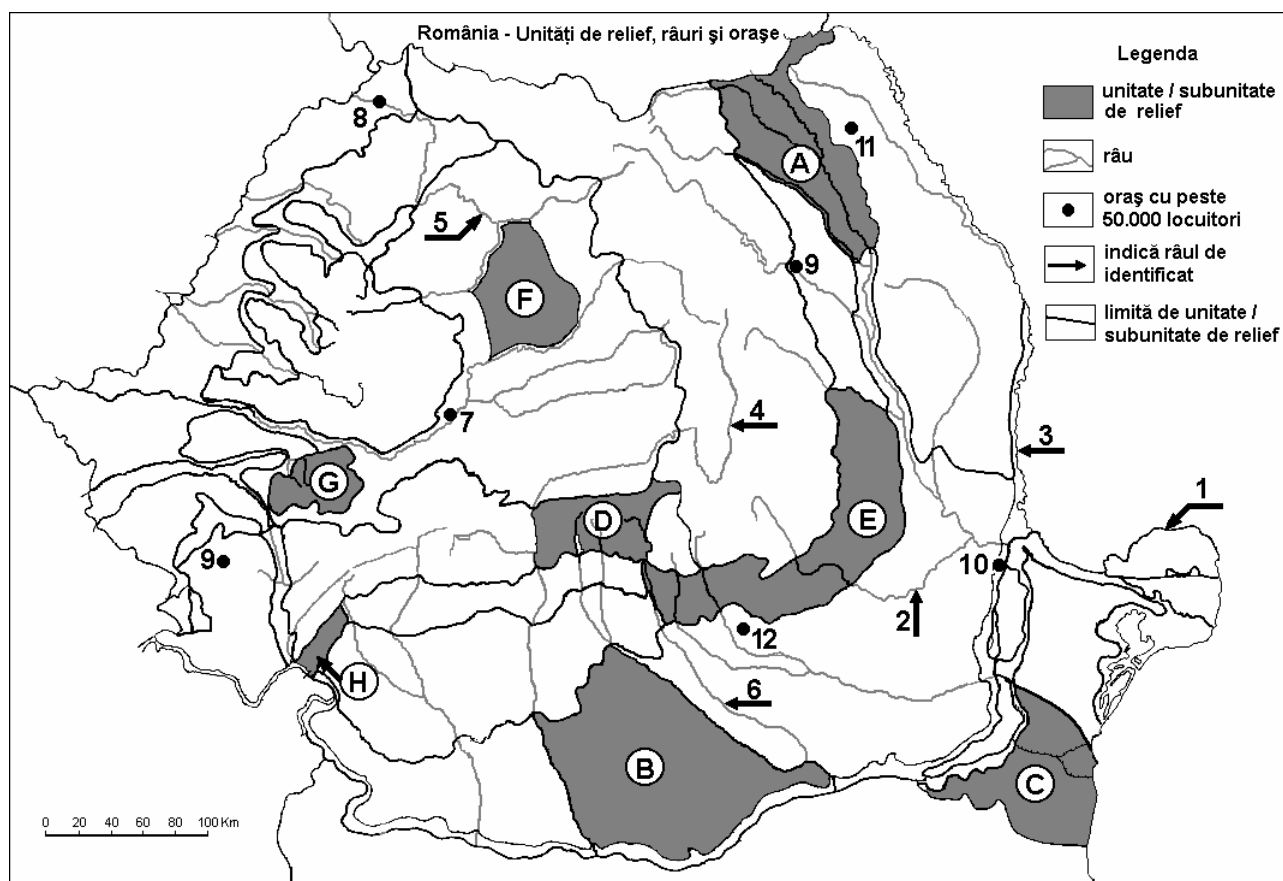
6 puncte

E. Precizați două caracteristici care demonstrează originalitatea Mării Negre.

4 puncte

Examenul de bacalaureat 2008
Proba D, E, F
Proba scrisă la Geografie
Europa – România – Uniunea Europeană

- Toate subiectele sunt obligatorii. Se acordă 10 puncte din oficiu.
- Timpul efectiv de lucru este de 3 ore.

SUBIECTUL II**(30 puncte)**

Harta de mai sus se referă la subiectul II A – D. Pe hartă sunt marcate unități de relief cu litere, râuri cu numere de la 1 la 6 și orașe cu numere de la 7 la 12.

A. Precizați:

1. numele unităților de relief marcate, pe hartă, cu literele **F** și **G**;
2. numele râurilor marcate, pe hartă, cu numerele **3** și **4**.

4 puncte**B. Scrieți, pe foaia de examen, răspunsurile corecte care completează propozițiile de mai jos:**

1. În unitatea de relief marcată, pe hartă, cu litera **A** sunt specifice influențe climatice ...
2. Reședința județului Caraș-Severin este orașul marcat, pe hartă, cu numărul ...
3. Unitatea de relief marcată, pe hartă, cu litera **E** este limitată la nord de râul numit ...

6 puncte**C. Scrieți, pe foaia de examen, litera corespunzătoare răspunsului corect pentru fiecare dintre afirmațiile de mai jos:**

1. Orașul marcat, pe hartă, cu numărul **7** se numește:

a. Alba Iulia	b. Cluj-Napoca	c. Deva	d. Turda	2 puncte
---------------	----------------	---------	----------	-----------------
2. Orașul marcat, pe hartă, cu numărul **12** se numește:

a. Buzău	b. Pitești	c. Ploiești	d. Târgoviște	2 puncte
----------	------------	-------------	---------------	-----------------
3. Relieful carstic este specific unității de relief marcate, pe hartă, cu litera:

a. A	b. E	c. D	d. H	2 puncte
------	------	------	------	-----------------

4. Râul marcat, pe hartă, cu numărul **6** se numește:

a. Argeș **b.** Dâmbovița **c.** Ialomița **d.** Prahova **2 puncte**

5. Minereu de fier se exploatează din unitatea de relief marcată, pe hartă, cu litera:

a. A **b.** D **c.** E **d.** G **2 puncte**

D. Precizați două deosebiri și o asemănare între **clima** unității de relief marcate, pe hartă, cu litera **A** și **clima** unității de relief marcate, pe hartă, cu litera **H**.

Nota 1: Deosebirile și asemănarea se pot referi la oricare dintre următoarele elemente de **climă**: temperaturi medii anuale, precipitații medii anuale, vânturi, influență climatică, etaj climatic.

Nota 2: Punctajul complet va fi acordat numai dacă deosebirile și asemănările vor fi prezentate comparativ și nu separat.

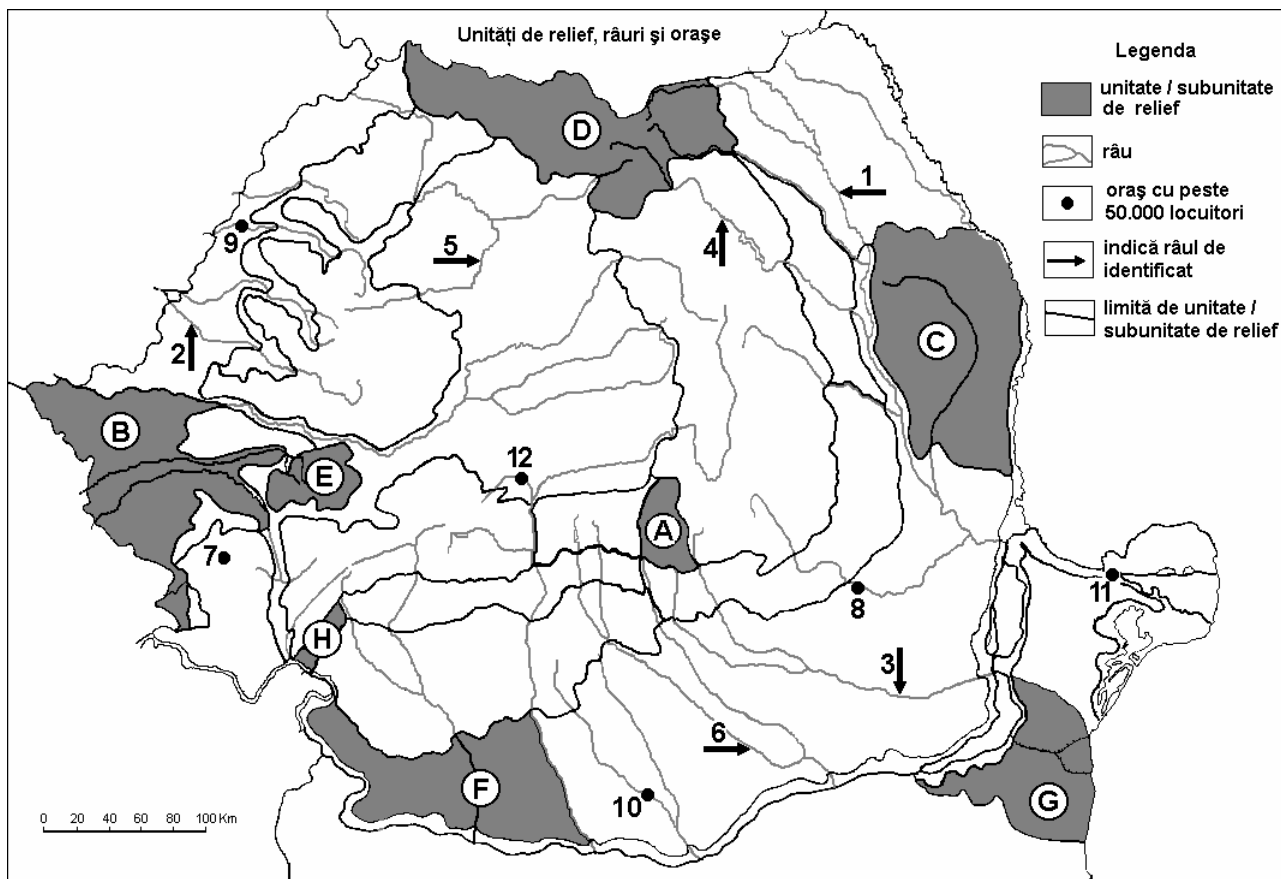
6 puncte

E. Prezentați două argumente pentru a susține avantajele economice conferite de vecinătatea țării noastre cu Marea Neagră.

4 puncte

Examenul de bacalaureat 2008
Proba D, E, F
Proba scrisă la Geografie
Europa – România – Uniunea Europeană

- Toate subiectele sunt obligatorii. Se acordă 10 puncte din oficiu.
- Timpul efectiv de lucru este de 3 ore.

SUBIECTUL II**(30 puncte)**

Harta de mai sus se referă la subiectele II A – D. Pe hartă sunt marcate unități de relief cu litere, râuri cu numere de la 1 la 6 și orașe cu numere de la 7 la 12.

A. Precizați:

- numele unităților de relief marcate, pe hartă, cu literele **C** și **E**;
- numele orașelor marcate, pe hartă, cu numerele **7** și **10**.

4 puncte

B. Scrieți, pe foaia de examen, răspunsurile corecte care completează propozițiile de mai jos:

- Orașul marcat, pe hartă, cu numărul **12** se numește ...
- Râul marcat, pe hartă, cu numărul **6** se numește ...
- Râul Motru delimitează la est unitatea de relief marcată, pe hartă, cu litera ...

6 puncte

C. Scrieți, pe foaia de examen, litera corespunzătoare răspunsului corect pentru fiecare dintre afirmațiile de mai jos:

- Râul marcat, pe hartă, cu numărul **2** se numește:

a. Bega	b. Crișul Alb	c. Crișul Negru	d. Mureș	2 puncte
---------	---------------	-----------------	----------	-----------------
- Orașul Bârlad este situat în unitatea de relief marcată, pe hartă, cu litera:

a. B	b. C	c. D	d. G	2 puncte
------	------	------	------	-----------------

3. Soluri din clasa molisoluri (tip cernoziom) caracterizează unitatea de relief marcată, pe hartă, cu litera:

a. A b. D c. E d. G **2 puncte**

4. Râul marcat, pe hartă, cu numărul 3 se numește:

a. Călmățui b. Dâmbovița c. Ialomița d. Prahova **2 puncte**

5. Reședința județului Buzău este orașul marcat, pe hartă, cu numărul:

a. 8 b. 9 c. 11 d. 12 **2 puncte**

D. Precizați trei deosebiri între **relieful** unității marcate, pe hartă, cu litera **A** și **relieful** unității marcate, pe hartă, cu litera **E**.

Nota 1: Deosebirile se pot referi la oricare dintre următoarele aspecte ale **reliefului**: mod de formare, tipuri de roci, distribuția spațială a altitudinilor, gradul de fragmentare, orientarea culmilor și văilor principale, tipuri genetice de relief, alte aspecte specifice ale reliefului.

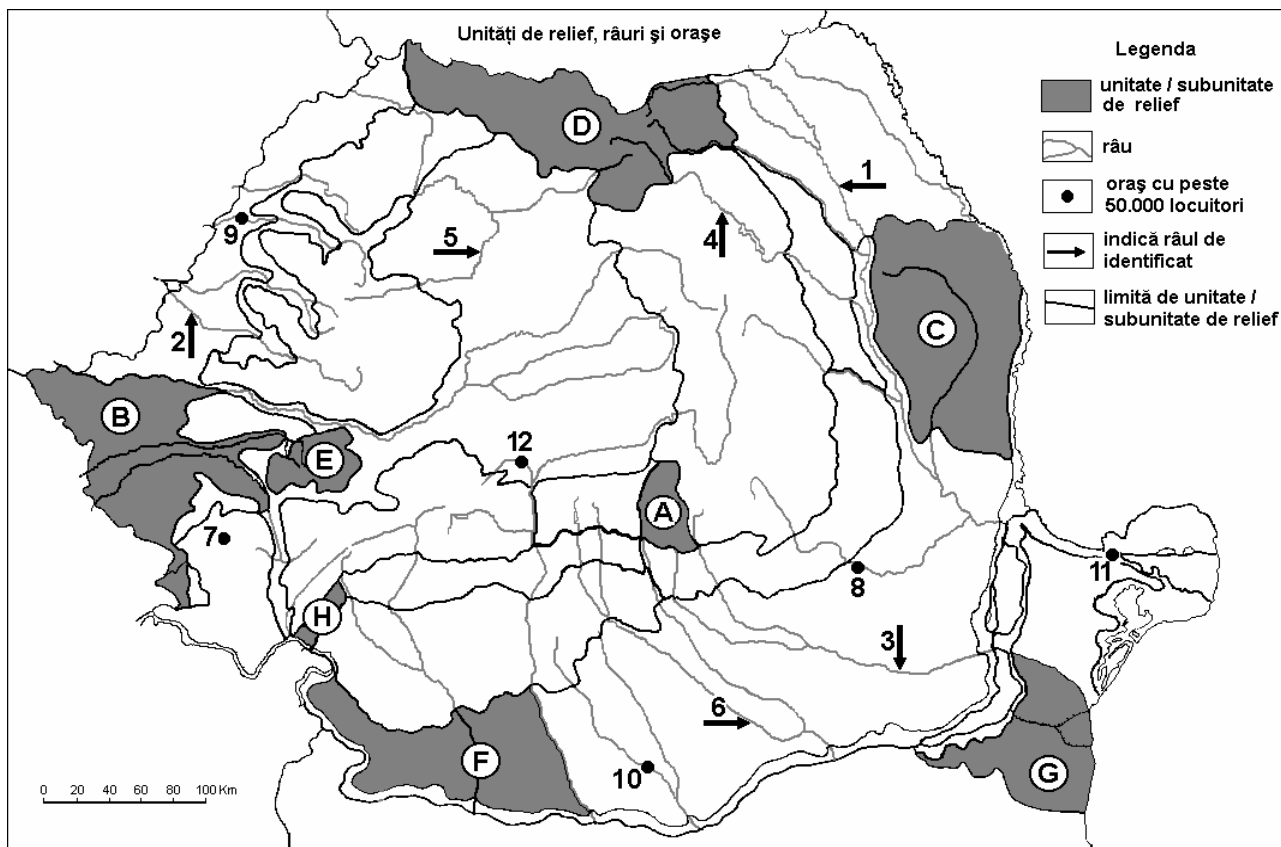
Nota 2: Punctajul complet va fi acordat numai dacă cele trei deosebiri vor fi prezentate comparativ și nu separat. **6 puncte**

E. Prezentați două argumente prin care să demonstrați rolul Munților Carpați în clima României.

4 puncte

Examenul de bacalaureat 2008
Proba D, E, F
Proba scrisă la Geografie
Europa – România – Uniunea Europeană

- Toate subiectele sunt obligatorii. Se acordă 10 puncte din oficiu.
- Timpul efectiv de lucru este de 3 ore.

SUBIECTUL II**(30 puncte)**

Harta de mai sus se referă la subiectele II A– D. Pe hartă sunt marcate unități de relief cu litere, râuri cu numere de la 1 la 6 și orașe cu numere de la 7 la 12.

A. Precizați:

1. numele unităților de relief marcate, pe hartă, cu literele **C** și **E**;
2. numele râurilor marcate, pe hartă, cu numerele **1** și **3**.

4 puncte**B. Scrieți, pe foaia de examen, răspunsurile corecte care completează propozițiile de mai jos:**

1. Orașul marcat, pe hartă, cu numărul **11** se numește ...
2. Orașul marcat, pe hartă, cu numărul **9** este traversat de râul numit ...
3. Babele și Sfinxul se găsesc în unitatea de relief marcată, pe hartă, cu litera ...

6 puncte**C. Scrieți, pe foaia de examen, litera corespunzătoare răspunsului corect pentru fiecare dintre afirmațiile de mai jos:**

1. Orașul marcat, pe hartă, cu numărul **12** se numește:

a. Brașov	b. Deva	c. Râmnicu Vâlcea	d. Sibiu	2 puncte
-----------	---------	-------------------	----------	-----------------
2. Orașul marcat, pe hartă, cu numărul **10** este reședința județului numit:

a. Argeș	b. Giurgiu	c. Olt	d. Teleorman	2 puncte
----------	------------	--------	--------------	-----------------
3. Râul marcat, pe hartă, cu numărul **4** se numește:

a. Bicz	b. Bistrița	c. Moldova	d. Trotuș	2 puncte
---------	-------------	------------	-----------	-----------------

4. Un important centru siderurgic este orașul marcat, pe hartă, cu numărul:
a. 7 b. 9 c. 10 d. 11 2 puncte
5. Influențe climatice scandinavo-baltice pătrund în unitatea de relief marcată, pe hartă, cu litera:
a. A b. B c. D d. H 2 puncte

D. Precizați două asemănări și o deosebire între **clima** unității de relief marcate, pe hartă, cu litera **F** și **clima** unității de relief marcate, pe hartă, cu litera **G**.

Nota 1: Asemănările și deosebirea se pot referi la oricare dintre următoarele elemente de **climă**: temperaturi medii anuale, precipitații medii anuale, vânturi, influență climatică, etaj climatic.

Nota 2: Punctajul complet va fi acordat numai dacă cele două asemănări și deosebirea vor fi prezentate comparativ și nu separat.

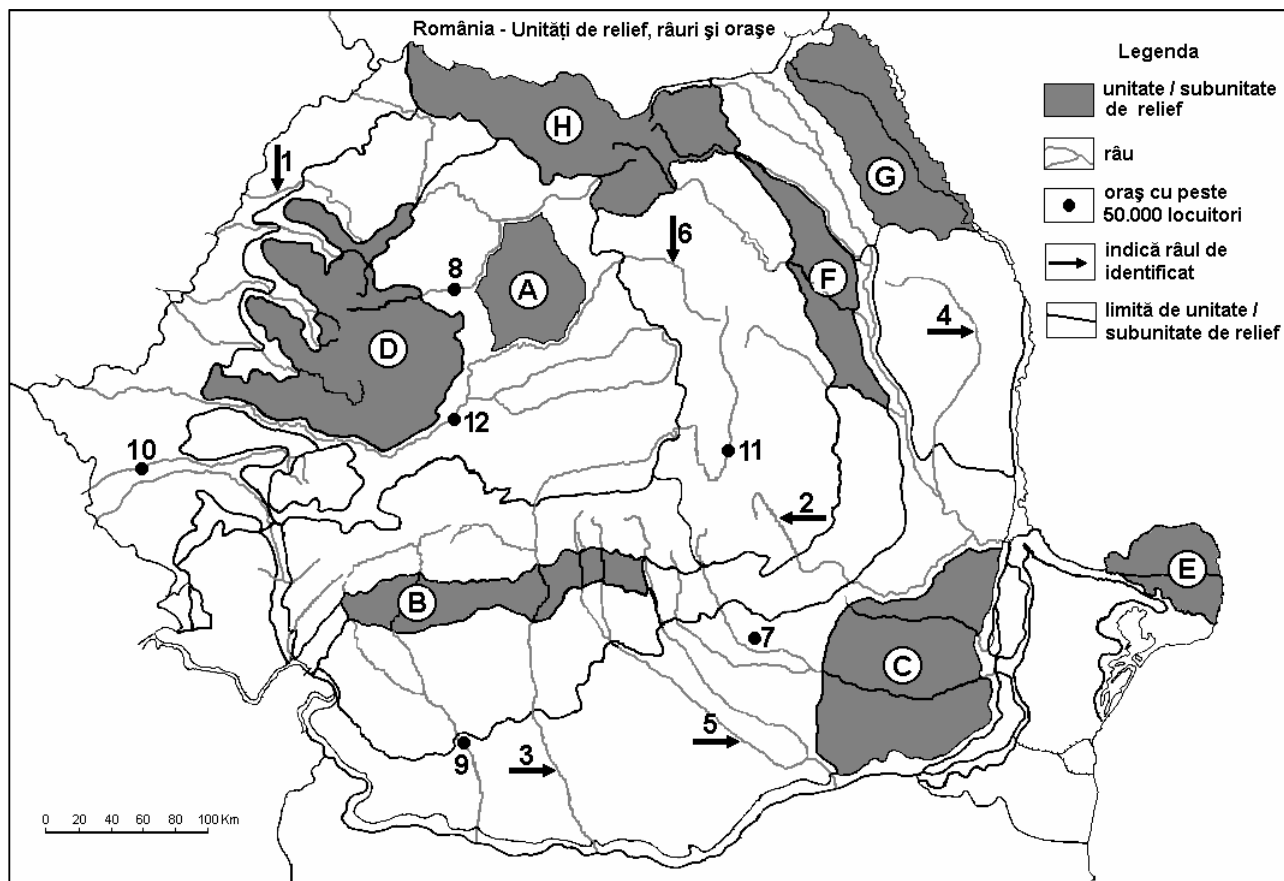
6 puncte

E. Prezentați două cauze prin care să explicați dispunerea radiar-concentrică a rețelei feroviare în România.

4 puncte

Examenul de bacalaureat 2008
Proba D, E, F
Proba scrisă la Geografie
Europa – România – Uniunea Europeană

- Toate subiectele sunt obligatorii. Se acordă 10 puncte din oficiu.
- Timpul efectiv de lucru este de 3 ore.

SUBIECTUL II**(30 puncte)**

Harta de mai sus se referă la subiectele II A – D. Pe hartă sunt marcate unități de relief cu litere, râuri cu numere de la 1 la 6 și orașe cu numere de la 7 la 12.

A. Precizați:

- numele subunităților de relief marcate, pe hartă, cu literele A și F;
- numele orașelor marcate, pe hartă, cu numerele 8 și 9.

4 puncte**B. Scrieți, pe foaia de examen, răspunsurile corecte care completează propozițiile de mai jos:**

- Orașul marcat, pe hartă, cu numărul 7 se numește ...
- Râul marcat, pe hartă, cu numărul 6 se numește ...
- Orașul Iași este situat în unitatea de relief marcată, pe hartă, cu litera ...

6 puncte**C. Scrieți, pe foaia de examen, litera corespunzătoare răspunsului corect pentru fiecare dintre afirmațiile de mai jos:**

- Orașul marcat, pe hartă, cu numărul 12 se numește:

a. Alba Iulia	b. Deva	c. Hunedoara	d. Sibiu	2 puncte
---------------	---------	--------------	----------	-----------------
- Structuri boltite sub formă de domuri există în unitatea de relief marcată, pe hartă, cu litera:

a. A	b. B	c. C	d. H	2 puncte
------	------	------	------	-----------------
- Cea mai redusă cantitate de precipitații medii anuale cade în unitatea de relief marcată, pe hartă, cu litera:

- | | | | | |
|---------------------------------------------------------------------------------------------|--------------|-------------|------------|-----------------|
| a. D | b. E | c. F | d. G | 2 puncte |
| 4. Râul marcat, pe hartă, cu numărul 5 se numește: | | | | |
| a. Argeș | b. Dâmbovița | c. Ialomița | d. Prahova | 2 puncte |
| 5. Vegetația de stepă este predominantă în unitatea de relief, marcată, pe hartă cu litera: | | | | |
| a. B | b. C | c. E | d. G | 2 puncte |

D. Precizați două deosebiri și o asemănare între **relieful** unității marcate, pe hartă, cu litera **D** și **relieful** unității marcate, pe hartă, cu litera **H**.

Nota 1: Deosebirile se pot referi la oricare dintre următoarele aspecte ale **reliefului**: mod de formare, tipuri de roci, distribuția spațială a altitudinilor, gradul de fragmentare, orientarea culmilor și văilor principale, tipuri genetice de relief, alte aspecte specifice ale reliefului.

Nota 2: Punctajul complet va fi acordat numai dacă cele două deosebiri și asemănarea vor fi prezentate comparativ și nu separat.

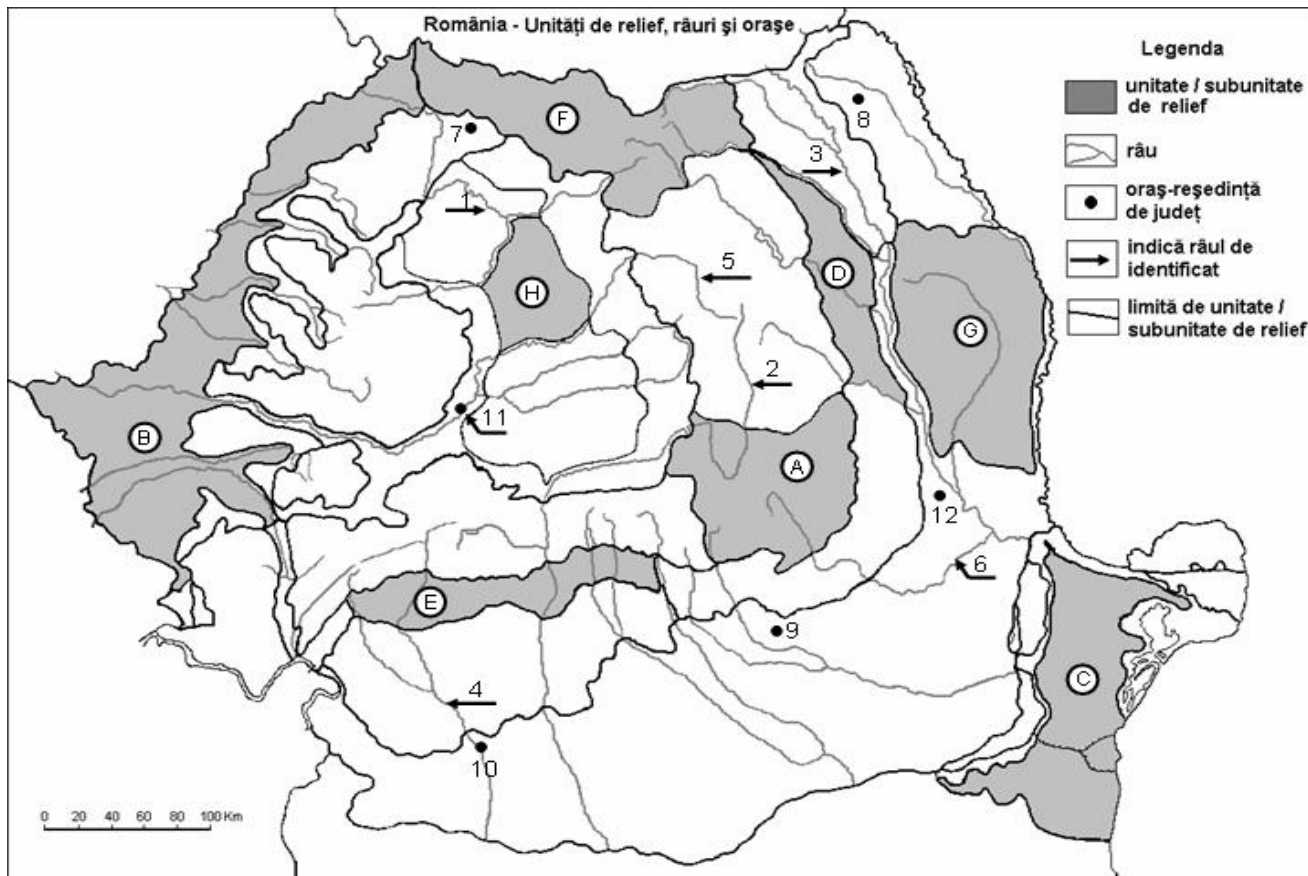
6 puncte

E. Prezentați două cauze care au determinat scăderea numărului de locuitori ai țării noastre, după 1990.

4 puncte

Examenul de bacalaureat 2008
Proba D, E, F
Proba scrisă la GEOGRAFIE
Europa–România–Uniunea Europeană

- Toate subiectele sunt obligatorii. Se acordă 10 puncte din oficiu.
- Timpul efectiv de lucru este de 3 ore.

SUBIECTUL II**(30 puncte)**

Harta de mai sus se referă la subiectul II A – C. Pe hartă sunt marcate unități de relief cu litere, râuri cu numere de la 1 la 6 și orașe cu numere de la 7 la 12.

A. Precizați:

- numele unităților de relief marcate, pe hartă, cu literele **A** și **H**.
- numele orașelor marcate, pe hartă, cu numerele **8** și **12**.

4 puncte**B. Scrieți, pe foaia de examen, răspunsurile corecte care completează propozițiile de mai jos:**

- Orașul marcat, pe hartă, cu numărul **10** este traversat de râul numit...
- Râul marcat, pe hartă, cu numărul **5** se numește ...
- Orașul marcat, pe hartă, cu numărul **11** se numește...

6 puncte**C. Scrieți, pe foaia de examen, litera corespunzătoare răspunsului corect pentru fiecare dintre afirmațiile de mai jos:**

- Cele mai mari altitudini se înregistrează în unitatea de relief marcată, pe hartă, cu litera:

a. A b. E c. G d. H **2 puncte**

- Orașul marcat, pe hartă, cu numărul **9** este reședința județului:

a. Dâmbovița b. Ialomița c. Prahova d. Vrancea **2 puncte**

- Influențe climatice pontice se manifestă în unitatea de relief marcată, pe hartă, cu litera:

a. B b. C c. F d. G **2 puncte**

4. Subcarpații Getici sunt marcați, pe hartă, cu litera:

a. A

b. D

c. E

d. G

2 puncte

5. Orașul marcat, pe hartă, cu numărul 7 se numește:

a. Baia Mare

b. Bistrița

c. Cluj-Napoca

d. Zalău

2 puncte

D. Precizați două asemănări și o deosebire între **relieful** Subcarpaților Getici și **relieful** Subcarpaților Moldovei.

Nota 1: Deosebirile se pot referi la oricare dintre următoarele aspecte ale **reliefului**: mod de formare, tipuri de roci pe care s-a format relieful, altitudini, fragmentare, tipuri de relief.

Nota 2: Punctajul complet va fi acordat numai dacă cele două asemănări și deosebirea vor fi prezentate comparativ și nu separat.

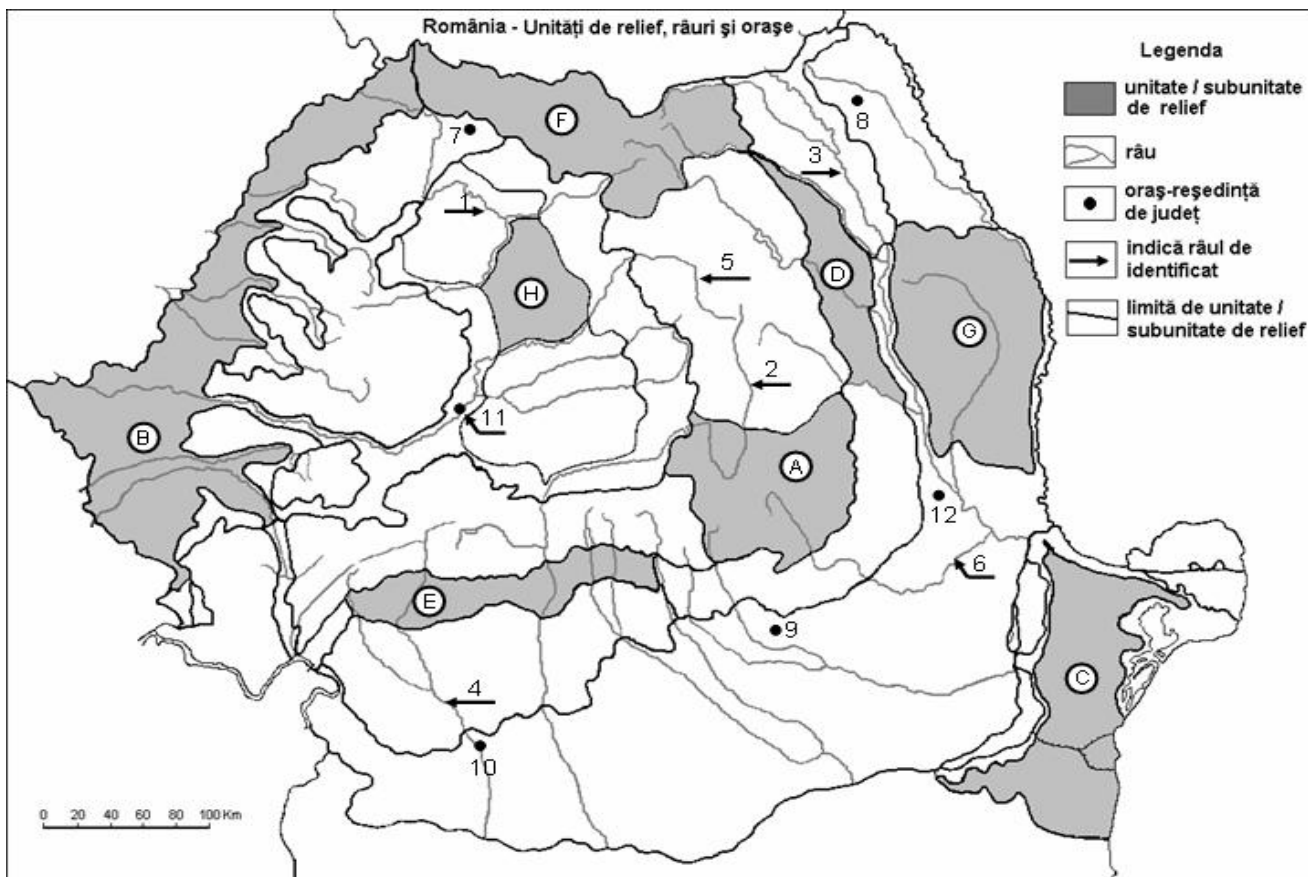
6 puncte

E. Prezentați două argumente pentru a demonstra faptul că Dunărea prezintă o importanță europeană.

4 puncte

Examenul de bacalaureat 2008
Proba D, E, F
Proba scrisă la GEOGRAFIE
Europa–România–Uniunea Europeană

- Toate subiectele sunt obligatorii. Se acordă 10 puncte din oficiu.
- Timpul efectiv de lucru este de 3 ore.

SUBIECTUL II**(30 puncte)**

Harta de mai sus se referă la subiectul II A – D. Pe hartă sunt marcate unități de relief cu litere, râuri cu numere de la 1 la 6 orașe cu numere de la 7 la 12.

A. Precizați:

1. numele unităților de relief marcate, pe hartă, cu literele **B** și **D**;
2. numele râurilor marcate, pe hartă, cu numerele **1** și **3**.

4 puncte**B. Scrieți, pe foaia de examen, răspunsurile corecte care completează propozițiile de mai jos:**

1. Orașul marcat, pe hartă, cu numărul **7** este reședința județului...
2. Râul marcat, pe hartă, cu numărul **5** se numește...
3. Orașul marcat, pe hartă, cu numărul **8** se numește ...

6 puncte**C. Scrieți, pe foaia de examen, litera corespunzătoare răspunsului corect pentru fiecare dintre afirmațiile de mai jos:**

1. Solurile din clasa molisoluri sunt dominante în unitatea de relief marcată, pe hartă, cu litera:

a. A	b. B	c. E	d. F	2 puncte
------	------	------	------	-----------------
2. Influențe climatice de ariditate se manifestă în unitatea de relief marcată, pe hartă, cu litera:

a. B	b. E	c. F	d. G	2 puncte
------	------	------	------	-----------------
3. Orașul marcat, pe hartă, cu numărul **10** este situat în zona de:

a. câmpie	b. deal	c. munte	d. podiș	2 puncte
-----------	---------	----------	----------	-----------------

4. Vegetația de stepă este caracteristică unității de relief marcate, pe hartă, cu litera:
a. A **b. C** **c. E** **d. F** **2 puncte**
5. Orașul marcat, pe hartă, cu numărul **11** este situat pe râul numit:
a. Mureș **b. Olt** **c. Someș** **d. Târnava** **2 puncte**

D. Precizați trei deosebiri între **relieful** unității marcate, pe hartă, cu litera **F** și **relieful** unității marcate, pe hartă, cu litera **G**.

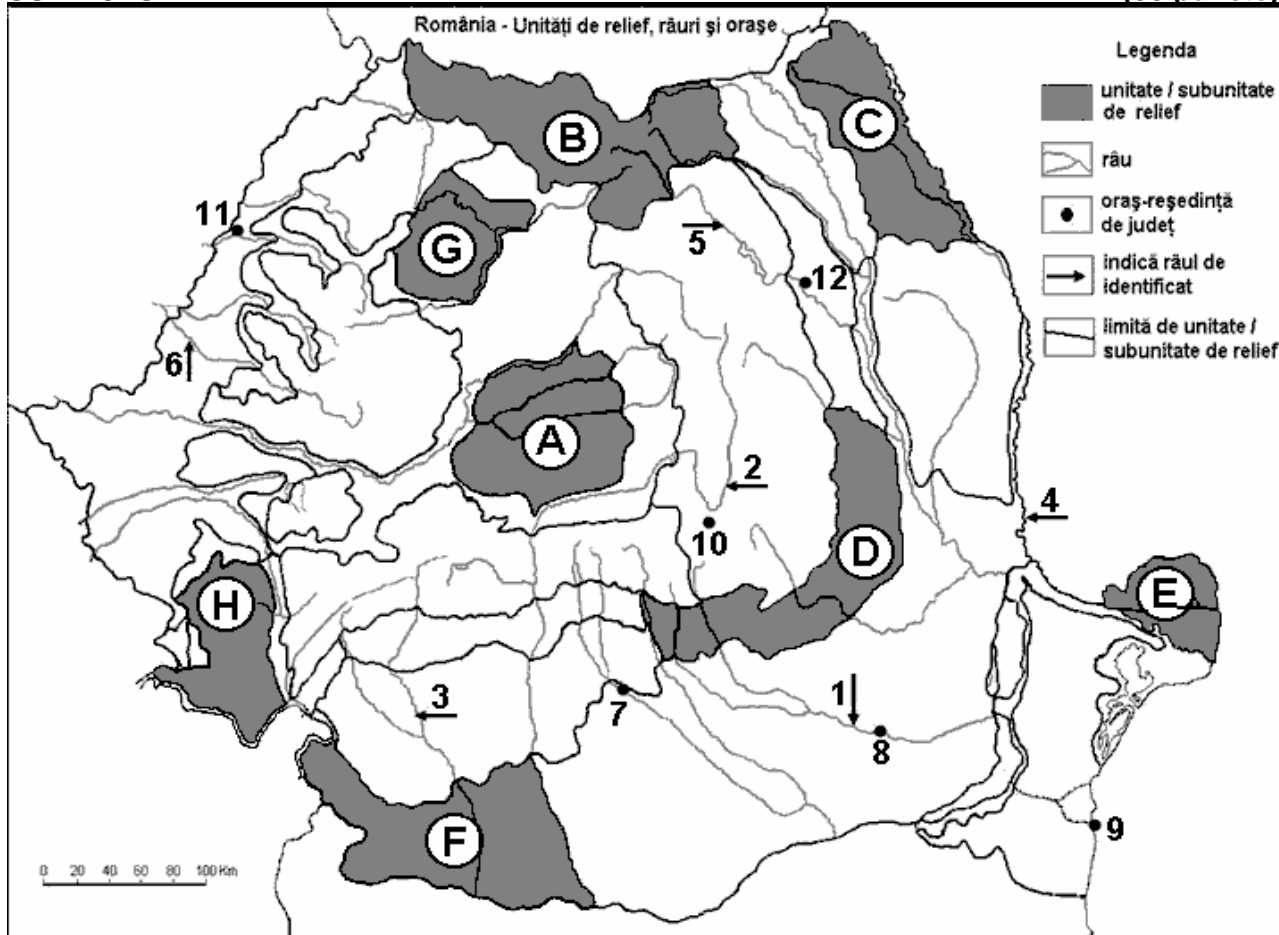
Nota 1: Deosebirile se pot referi la oricare dintre următoarele aspecte ale **reliefului**: mod de formare, tipuri de roci pe care s-a format relieful, altitudini, fragmentare, tipuri de relief, alte aspecte specifice ale reliefului.

Nota 2: Punctajul complet va fi acordat numai dacă cele trei deosebiri vor fi prezentate comparativ și nu separat. **6 puncte**

E. Prezentați două premise naturale ale practicării culturii cerealelor în Câmpia Română. **4 puncte**

Examenul de bacalaureat 2008
Proba D, E, F
Proba scrisă la GEOGRAFIE
Europa–România–Uniunea Europeană

- Toate subiectele sunt obligatorii. Se acordă 10 puncte din oficiu.
- Timpul efectiv de lucru este de 3 ore.

SUBIECTUL II**(30 puncte)**

Harta de mai sus se referă la subiectul II A – D. Pe hartă sunt marcate unități de relief cu litere, râuri cu numere de la 1 la 6 și orașe cu numere de la 7 la 12.

A. Precizați:

- numele unităților de relief marcate, pe hartă, cu literele **C** și **E**;
- numele orașelor marcate, pe hartă, cu numerele **7** și **9**.

4 puncte**B. Scrieți, pe foaia de examen, răspunsurile corecte care completează propozițiile de mai jos:**

- Orașul marcat, pe hartă, cu numărul **12** se numește ...
- Râul marcat, pe hartă, cu numărul **1** se numește ...
- Unitatea de relief marcată, pe hartă, cu litera **H** se numește ...

6 puncte**C. Scrieți, pe foaia de examen, litera corespunzătoare răspunsului corect pentru fiecare dintre afirmațiile de mai jos:**

- Orașul marcat, pe hartă, cu numărul **7** este reședința județului:

a. Argeș	b. Dâmbovița	c. Prahova	d. Vâlcea	2 puncte
----------	--------------	------------	-----------	-----------------
- Depresiunea Petroșani este străbătută de râul marcat, pe hartă, cu numărul:

a. 1	b. 3	c. 4	d. 6	2 puncte
------	------	------	------	-----------------
- Gaz metan se exploatează din unitatea de relief marcată, pe hartă, cu litera:

a. A	b. B	c. E	d. H	2 puncte
------	------	------	------	-----------------

4. Pădurile de conifere sunt specifice unității de relief marcate, pe hartă, cu litera:
a. A b. B c. E d. F 2 puncte
5. Se întâlnesc numeroase iazuri în unitatea de relief marcată, pe hartă, cu litera:
a. B b. C c. D d. H 2 puncte

D. Precizați trei deosebiri între **clima** unității de relief marcate, pe hartă, cu litera **E** și **clima** unității de relief marcate, pe hartă, cu litera **H**.

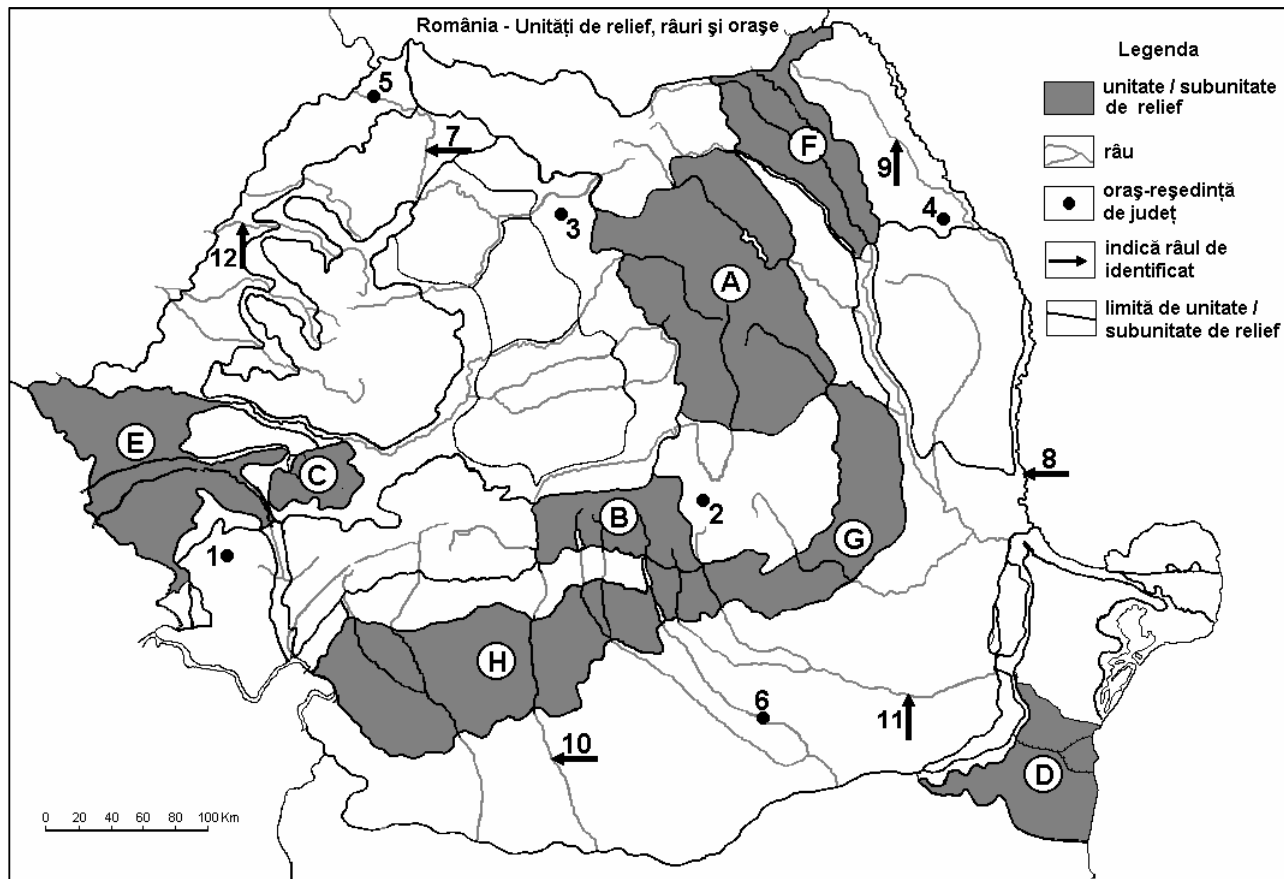
Nota 1: Deosebirile se pot referi la oricare dintre următoarele elemente de **climă**: temperaturi medii anuale, precipitații medii anuale, vânturi, influență climatică, etaj climatic.

Nota 2: Punctajul complet va fi acordat numai dacă cele trei deosebiri vor fi prezentate comparativ și nu separat. **6 puncte**

E. Prezentați două cauze care determină varietatea mare a solurilor din România **4 puncte**

Examenul de bacalaureat 2008
Proba D, E, F
Proba scrisă la Geografie
Europa – România – Uniunea Europeană

- Toate subiectele sunt obligatorii. Se acordă 10 puncte din oficiu.
- Timpul efectiv de lucru este de 3 ore.

SUBIECTUL II**(30 puncte)**

Harta de mai sus se referă la subiectul II A – D. Pe hartă sunt marcate unități sau subunități de relief cu litere, orașe cu numere de la 1 la 6 și râuri cu numere de la 7 la 12.

A. Precizați:

1. numele subunităților de relief marcate, pe hartă, cu literele **D** și **G**;
2. numele orașelor marcate, pe hartă, cu numerele **2** și **5**.

4 puncte**B. Scrieți, pe foaia de examen, răspunsurile corecte care completează propozițiile de mai jos:**

1. Orașul reședință de județ marcat, pe hartă, cu numărul **3** se numește...
2. În unitatea de relief marcată, pe hartă, cu litera **F** se resimt influențe climatice...
3. Importante zăcăminte de minereuri de fier și marmură se exploatează din unitatea de relief marcată, pe hartă, cu litera...

6 puncte**C. Scrieți, pe foaia de examen, litera corespunzătoare răspunsului corect pentru fiecare dintre afirmațiile de mai jos:**

1. Râul marcat, pe hartă, cu numărul **8** formează graniță naturală cu țara vecină numită:

a. Bulgaria	b. Republica Moldova	c. Ucraina	d. Ungaria	2 puncte
-------------	----------------------	------------	------------	-----------------
2. Cel mai mare oraș după numărul de locuitori din România este marcat, pe hartă, cu numărul:

a. 2	b. 3	c. 4	d. 6	2 puncte
------	------	------	------	-----------------

3. O importantă zonă viticolă a României este situată în unitatea de relief marcată, pe hartă, cu litera:

a. A b. B c. F d. G **2 puncte**

4. Râul marcat, pe hartă, cu numărul 12 se numește:

a. Crișul Alb b. Crișul Negru c. Crișul Repede d. Mureș **2 puncte**

5. Reședința județului Caraș-Severin este orașul marcat, pe hartă, cu numărul:

a. 1 b. 3 c. 5 d. 6 **2 puncte**

D. Precizați două deosebiri și o asemănare între **relieful** unității marcate, pe hartă, cu litera **A** și **relieful** unității marcate cu litera **B**.

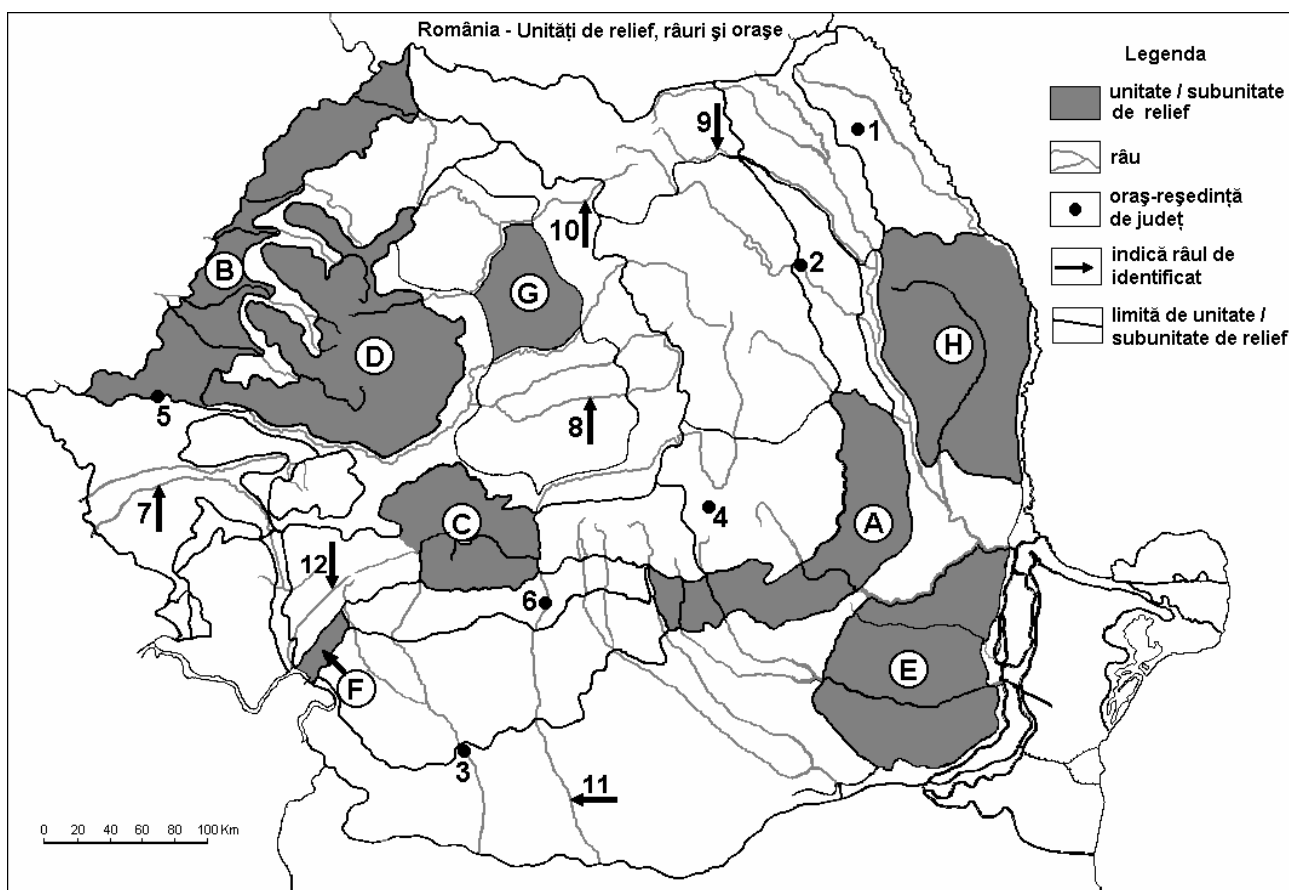
Nota 1: Deosebirile se pot referi la oricare dintre următoarele aspecte ale **reliefului**: mod de formare, tipuri de roci, distribuția spațială a altitudinilor, gradul de fragmentare, orientarea culmilor și văilor principale, tipuri genetice de relief, alte aspecte specifice ale reliefului.

Nota 2: Punctajul complet va fi acordat numai dacă cele două deosebiri și asemănarea vor fi prezentate comparativ și nu separat. **6 puncte**

E. Prezentați două argumente care să demonstreze importanța economică a Canalului Dunăre – Marea Neagră pentru România. **4 puncte**

Examenul de bacalaureat 2008
Proba D, E, F
Proba scrisă la Geografie
Europa – România – Uniunea Europeană

- Toate subiectele sunt obligatorii. Se acordă 10 puncte din oficiu.
- Timpul efectiv de lucru este de 3 ore.

SUBIECTUL II**(30 puncte)**

Harta de mai sus se referă la subiectul II A – D. Pe hartă sunt marcate unități sau subunități de relief cu litere, orașe cu numere de la 1 la 6 și râuri cu numere de la 7 la 12.

A. Precizați:

- numele unităților sau al subunităților de relief marcate, pe hartă, cu literele **A** și **H**;
- numele râurilor marcate, pe hartă, cu numerele **8** și **10**.

4 puncte**B. Scrieți, pe foaia de examen, răspunsurile corecte care completează propozițiile de mai jos:**

- Podișul Mehedinți este unitatea de relief marcată, pe hartă, cu litera ...
- Este străbătut de râul Mureș, orașul marcat, pe hartă, cu numărul ...
- Orașul marcat, pe hartă, cu numărul **2** este străbătut de râu numit l...

6 puncte**C. Scrieți, pe foaia de examen, litera corespunzătoare răspunsului corect pentru fiecare dintre afirmațiile de mai jos:**

- Relief de dune se află în unitățile de relief marcate, pe hartă, cu literele:

a. A și C	b. B și E	c. E și F	d. F și G	2 puncte
-----------	-----------	-----------	-----------	-----------------
- Râurile marcate, pe hartă, cu numerele **7** și **12** despart Grupa Retezat - Godeanu de Grupa:

a. Banat	b. Făgăraș	c. Parâng	d. Poiana Ruscă	2 puncte
----------	------------	-----------	-----------------	-----------------

3. Se produc autoturisme de oraș în apropierea orașului marcat, pe hartă, cu numărul:
a. 1 **b. 2** **c. 3** **d. 6** **2 puncte**
4. Sunt situate în Subcarpați orașele marcate, pe hartă, cu numerele:
a. 1 și 2 **b. 2 și 6** **c. 3 și 6** **d. 4 și 6** **2 puncte**
5. Orașele Sfântu Gheorghe și Miercurea Ciuc sunt străbătute de râul marcat, pe hartă, cu numărul:
a. 8 **b. 10** **c. 11** **d. 12** **2 puncte**

D. Precizați trei deosebiri între **relieful** unității marcate, pe hartă, cu litera **C** și **relieful** unității marcate cu litera **D**;

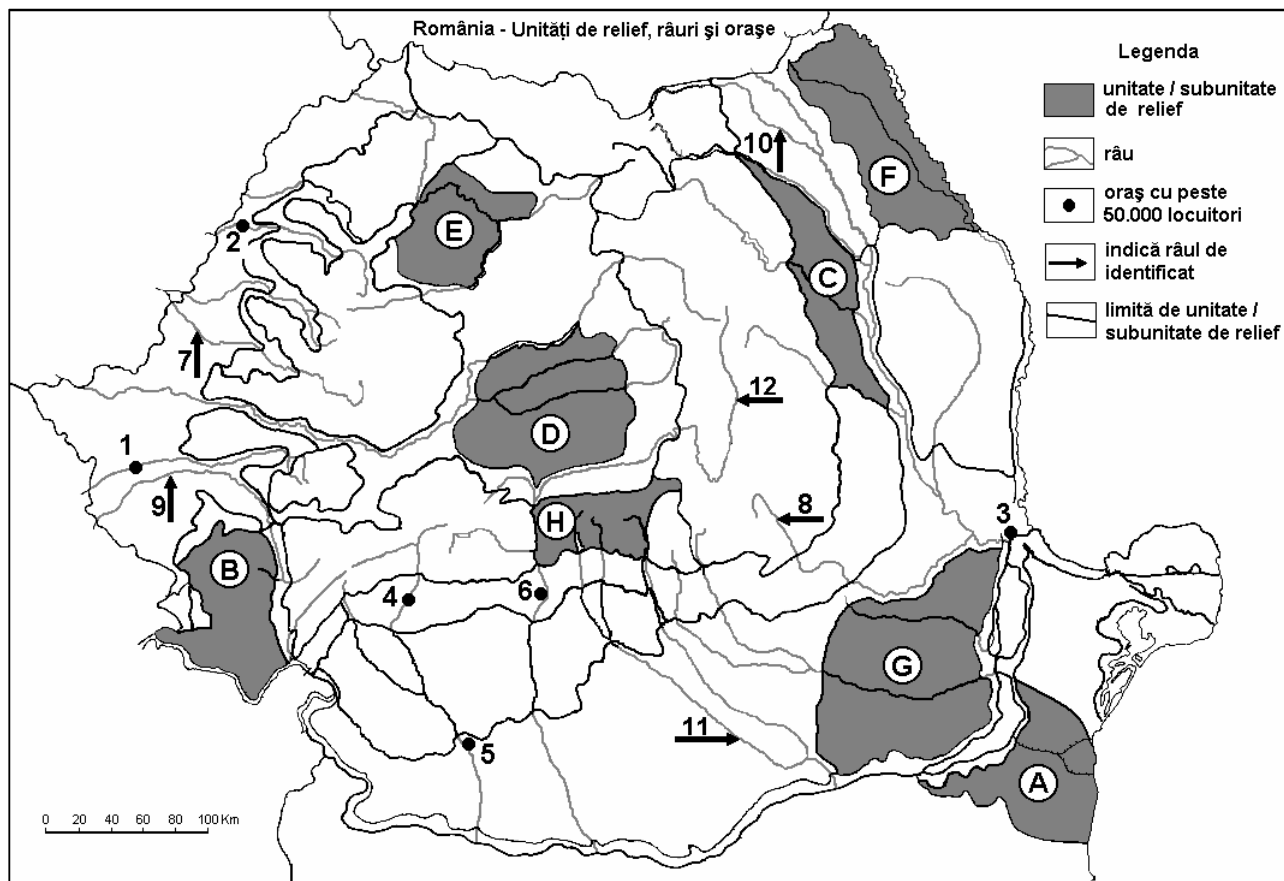
Nota 1: Deosebirile se pot referi la oricare dintre următoarele aspecte ale **reliefului**: mod de formare, tipuri de roci, distribuția spațială a altitudinilor, gradul de fragmentare, orientarea culmilor și văilor principale, tipuri genetice de relief, alte aspecte specifice ale reliefului.

Nota 2: Punctajul complet va fi acordat numai dacă cele trei deosebiri vor fi prezentate comparativ și nu separat. **6 puncte**

E. Prezentați două cauze care au determinat creșterea populației urbane în România. **4 puncte**

Examenul de bacalaureat 2008
Proba D, E, F
Proba scrisă la Geografie
Europa – România – Uniunea Europeană

- Toate subiectele sunt obligatorii. Se acordă 10 puncte din oficiu.
- Timpul efectiv de lucru este de 3 ore.

SUBIECTUL II**(30 puncte)**

Harta de mai sus se referă la subiectul II A – D. Pe hartă sunt marcate unități sau subunități de relief cu litere, orașe cu numere de la 1 la 6 și râuri cu numere de la 7 la 12.

A. Precizați:

- numele unităților sau al subunităților de relief marcate, pe hartă, cu literele **C** și **D**;
- numele râurilor marcate, pe hartă, cu numerele **9** și **11**.

4 puncte**B. Scrieți, pe foaia de examen, răspunsurile corecte care completează propozițiile de mai jos:**

- În unitatea de relief marcată, pe hartă, cu litera **B** se resimt influențe climatice.....
- Râul marcat, pe hartă, cu numărul **7** se numește.....
- Orașul marcat, pe hartă, cu numărul **6** este reședința județului numit.....

6 puncte**C. Scrieți, pe foaia de examen, litera corespunzătoare răspunsului corect pentru fiecare dintre afirmațiile de mai jos:**

- Lacul glaciar Bâlea este situat în unitatea de relief marcată, pe hartă, cu litera:

a. A	b. D	c. C	d. H	2 puncte
------	------	------	------	-----------------
- Canalul Dunăre – Marea Neagră a fost construit în unitatea de relief marcată, pe hartă, cu litera:

a. A	b. B	c. G	d. J	2 puncte
------	------	------	------	-----------------
- Sunt străbătute de râul Jiu orașele marcate, pe hartă, cu numerele:

a. 3 și 10	b. 4 și 5	c. 6 și 7	d. 10 și 12	2 puncte
------------	-----------	-----------	-------------	-----------------

4. În orașul marcat, pe hartă, cu numărul **3** ramura industrială dezvoltată se numește:
a. industria produselor farmaceutice **b.** metalurgie neferoasă
c. petrochimia **d.** siderurgia **2 puncte**
5. Orașul marcat, pe hartă, cu numărul **2** este reședința județului:
a. Bihor **b.** Gorj **c.** Mehedinți **d.** Vâlcea **2 puncte**

D. Precizați trei deosebiri între **clima** unității de relief marcată, pe hartă, cu litera **E** și **clima** unității de relief marcată, pe hartă, cu litera **G**.

Nota 1: Deosebirile se pot referi la oricare dintre următoarele elemente de **climă**: temperaturi medii anuale, precipitații medii anuale, vânturi, influență climatică, etaj climatic.

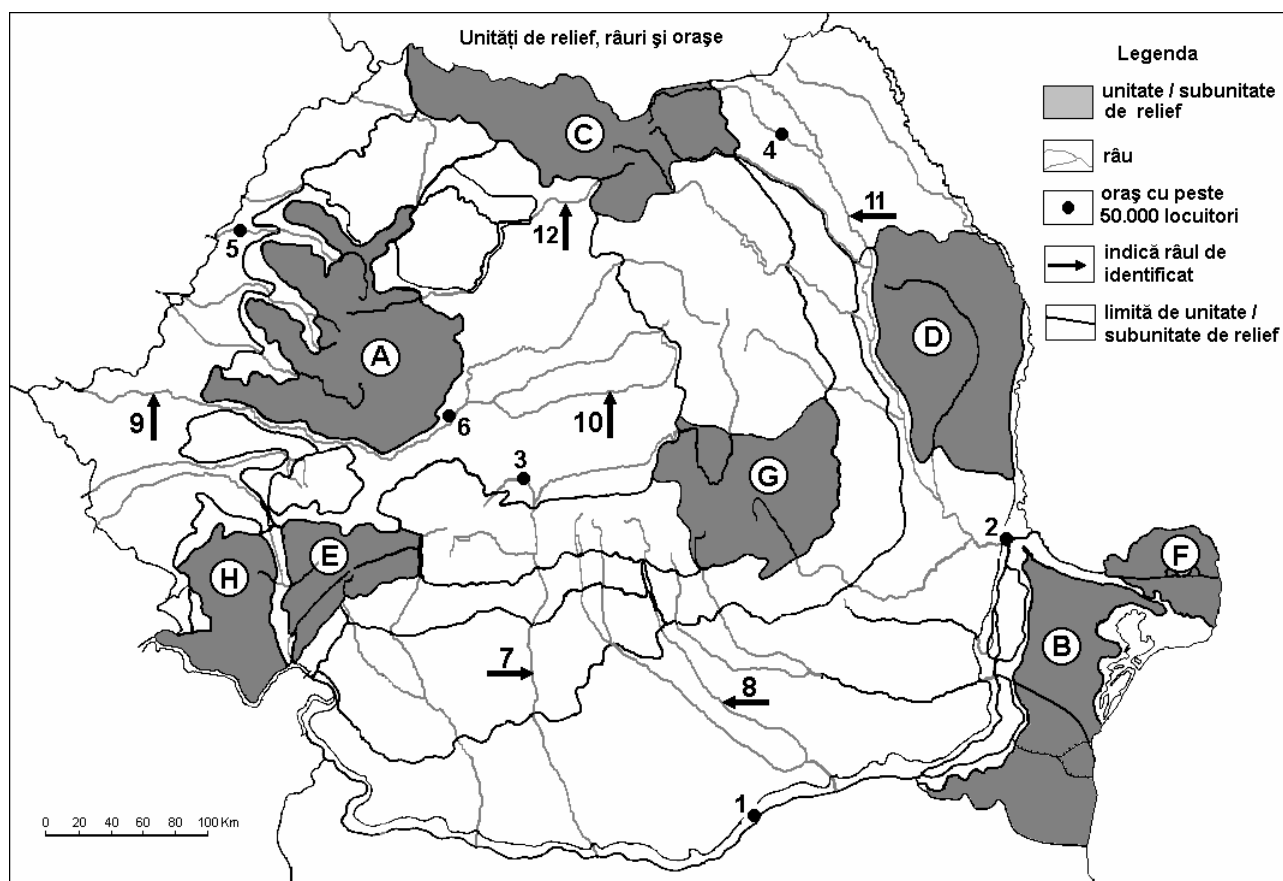
Nota 2: Punctajul complet va fi acordat numai dacă cele trei deosebiri vor fi prezentate comparativ și nu separat. **6 puncte**

E. Prezentați două argumente pentru a demonstra faptul ca terenurile arabile reprezintă cea mai importanta resursă naturală din România.

4 puncte

Examenul de bacalaureat 2008
Proba D, E, F
Proba scrisă la Geografie
Europa – România – Uniunea Europeană

- Toate subiectele sunt obligatorii. Se acordă 10 puncte din oficiu.
- Timpul efectiv de lucru este de 3 ore.

SUBIECTUL II**(30 puncte)**

Harta de mai sus se referă la subiectul II A – E. Pe hartă sunt marcate unități sau subunități de relief cu litere, orașe cu numere de la 1 la 6 și râuri cu numere de la 7 la 12.

A. Precizați:

- numele unităților de relief marcate, pe hartă, cu literele A și B;
- numele râurilor marcate, pe hartă, cu numerele 8 și 11.

4 puncte**B. Scrieți, pe foaia de examen, răspunsurile corecte care completează propozițiile de mai jos:**

- Grindurile sunt forme de relief specifice unității marcate, pe hartă, cu litera...
- Orașul marcat, pe hartă, cu numărul 4 este traversat de râul numit...
- Defileul Dunării limitează la sud unitatea de relief marcată, pe hartă, cu litera...

6 puncte**C. Scrieți, pe foaia de examen, litera corespunzătoare răspunsului corect pentru fiecare dintre afirmațiile de mai jos:**

- Relieful glaciar se întâlnește în unitatea de relief marcată, pe hartă, cu litera:

a. A b. E c. G d. H **2 puncte**

- Crivățul este un vânt specific unității de relief marcate, pe hartă, cu litera:

a. A b. D c. E d. H **2 puncte**

- Vegetația de stepă se întâlnește în unitatea de relief marcată, pe hartă, cu litera:

a. B b. C c. F d. G **2 puncte**

4. Orașul Oradea este marcat, pe hartă, cu numărul:

a. 2

b. 3

c. 5

d. 6

2 puncte

5. Străbate Carpații Meridionali râul marcat, pe hartă, cu numărul:

a. 7

b. 9

c. 10

d. 12

2 puncte

D. Precizați două asemănări și o deosebire între **clima** unității de relief marcate cu litera **C** și **clima** unității de relief marcate cu litera **E**.

Nota 1: Asemănările și deosebirea se pot referi la oricare dintre următoarele elemente de **climă**: temperaturi medii anuale, precipitații medii anuale, vânturi, influență climatică, etaj climatic.

Nota 2: Punctajul complet va fi acordat numai dacă asemănările și deosebirea vor fi precizate comparativ și nu separat.

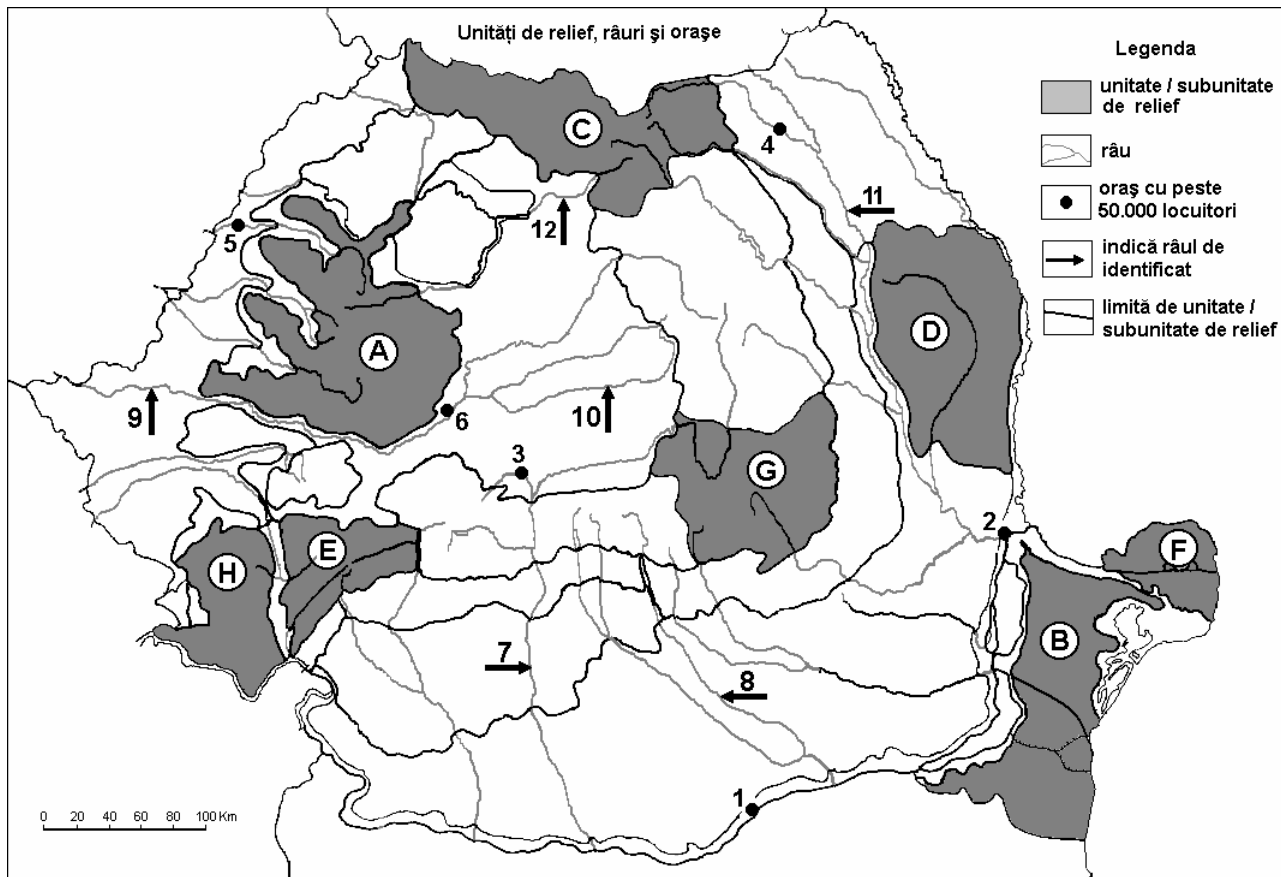
6 puncte

E. Prezentați două argumente pentru a susține afirmația: „Unitatea de relief marcată, pe hartă, cu litera **F** este o câmpie în formare”.

4 puncte

Examenul de bacalaureat 2008
Proba D, E, F
Proba scrisă la Geografie
Europa – România – Uniunea Europeană

- Toate subiectele sunt obligatorii. Se acordă 10 puncte din oficiu.
- Timpul efectiv de lucru este de 3 ore.

SUBIECTUL II**(30 puncte)**

Harta de mai sus se referă la subiectul II A – E. Pe hartă sunt marcate unități de relief cu litere, orașe cu numere de la 1 la 6 și râuri cu numere de la 7 la 12.

A. Precizați:

1. numele unităților de relief marcate, pe hartă, cu literele E și F;
2. numele orașelor marcate, pe hartă, cu numerele 2 și 3.

4 puncte**B. Scrieți, pe foaia de examen, răspunsurile corecte care completează propozițiile de mai jos:**

1. Resurse de bauxită se exploatează în unitatea de relief marcată, pe hartă, cu litera ...
2. Orașul marcat, pe hartă, cu numărul 6 este traversat de râul numit ...
3. În unitatea de relief marcată, pe hartă, cu litera D bate un vânt rece și uscat, numit ...

6 puncte**C. Scrieți, pe foaia de examen, litera corespunzătoare răspunsului corect pentru fiecare dintre afirmațiile de mai jos:**

1. Șisturile verzi sunt roci specifice unității de relief marcate, pe hartă, cu litera:

a. A	b. B	c. D	d. H	2 puncte
------	------	------	------	-----------------
2. Depresiunea Brașov se află în unitatea de relief marcată, pe hartă, cu litera:

a. C	b. D	c. E	d. G	2 puncte
------	------	------	------	-----------------
3. Străbate Carpații Meridionali râul marcat, pe hartă, cu numărul:

a. 7	b. 10	c. 11	d. 12	2 puncte
------	-------	-------	-------	-----------------

4. Orașul marcat, pe hartă, cu numărul **5** se numește:

a. Arad

b. Cluj - Napoca

c. Oradea

d. Zalău

2 puncte

5. Un important combinat siderurgic se află în orașul marcat, pe hartă, cu numărul:

a. 1

b. 2

c. 3

d. 4

2 puncte

D. Precizați trei deosebiri între **clima** unității de relief marcate cu litera **C** și **clima** unității de relief marcate cu litera **H**.

Nota 1: Deosebirile se pot referi la oricare dintre următoarele elemente de **climă**: temperaturi medii anuale, precipitații medii anuale, vânturi, influență climatică, etaj climatic.

Nota 2: Punctajul complet va fi acordat numai dacă cele trei deosebiri vor fi prezentate comparativ și nu separat.

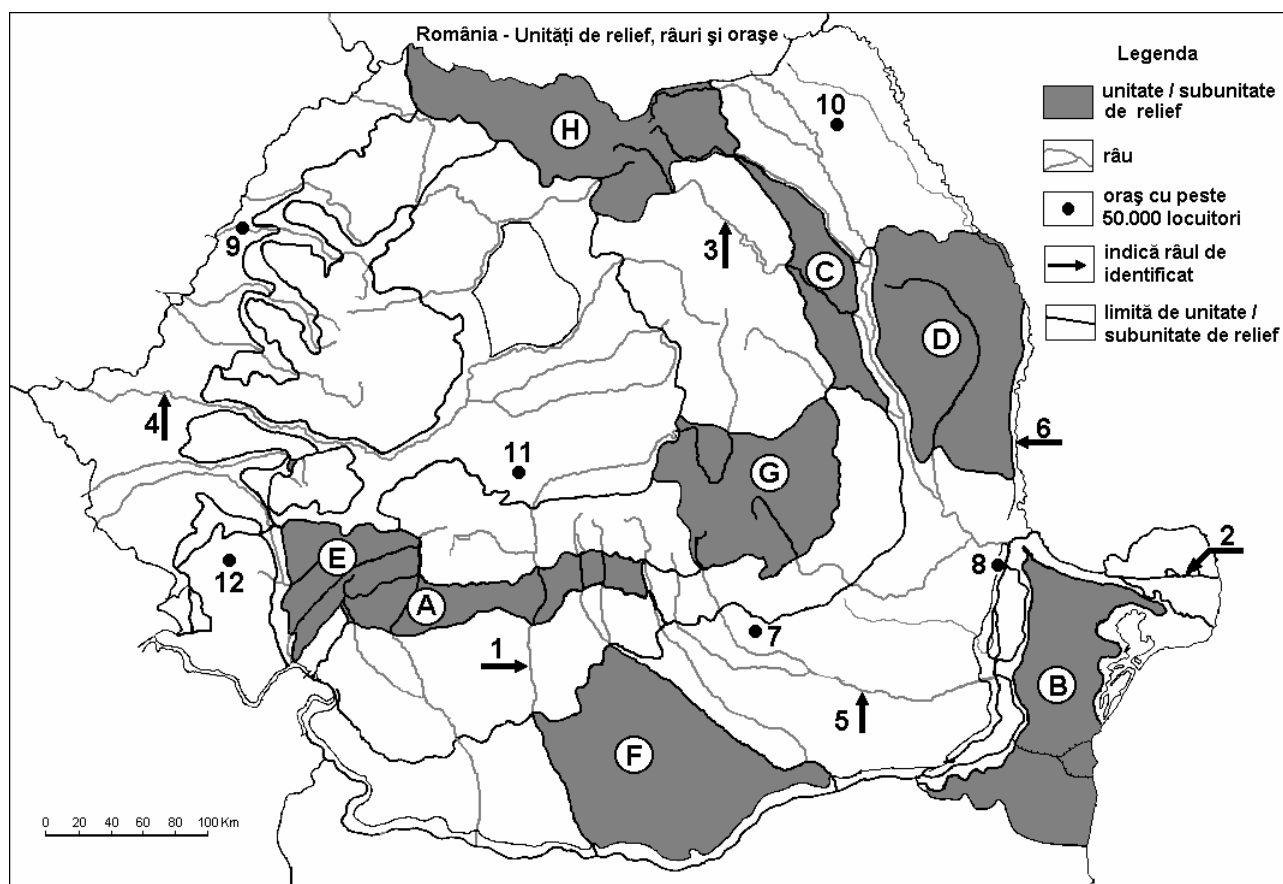
6 puncte

E. Precizați două cauze care determină diversitatea tipurilor genetice de relief în Carpații Orientali.

4 puncte

Examenul de bacalaureat 2008
Proba D, E, F
Proba scrisă la Geografie
Europa – România – Uniunea Europeană

- Toate subiectele sunt obligatorii. Se acordă 10 puncte din oficiu.
- Timpul efectiv de lucru este de 3 ore.

SUBIECTUL II**(30 puncte)**

Harta de mai sus se referă la subiectul II A – E. Pe hartă sunt marcate unități sau subunități de relief cu litere, râuri cu numere de la 1 la 6 și orașe cu numere de la 7 la 12.

A. Precizați:

1. numele unităților de relief marcate, pe hartă, cu literele A și G;
2. numele râurilor marcate, pe hartă, cu numerele 4 și 5.

4 puncte**B. Scrieți, pe foaia de examen, răspunsurile corecte care completează propozițiile de mai jos:**

1. Râul marcat, pe hartă, cu numărul 6 se numește ...
2. Orașul marcat, pe hartă, cu numărul 9 este traversat de râul numit ...
3. Influențe climatice pontice se resimt în unitatea de relief marcată, pe hartă, cu litera ...

6 puncte**C. Scrieți, pe foaia de examen, litera corespunzătoare răspunsului corect pentru fiecare dintre afirmațiile de mai jos:**

1. Brațul Dunării marcat, pe hartă, cu numărul 2 se numește:

a. Borcea	b. Chilia	c. Sfântu Gheorghe	d. Sulina	2 puncte
-----------	-----------	--------------------	-----------	-----------------
2. Orașul Sibiu este marcat, pe hartă, cu numărul:

a. 9	b. 10	c. 11	d. 12	2 puncte
------	-------	-------	-------	-----------------
3. Depresiunea Brașov este străbătută de râul marcat, pe hartă, cu numărul:

a. 1	b. 3	c. 4	d. 5	2 puncte
------	------	------	------	-----------------

4. Relieful glaciar se întâlnește în unitatea de relief marcată, pe hartă, cu litera:
a. A b. C c. D d. E 2 puncte
5. Este port fluvio – maritim orașul marcat, pe hartă, cu numărul:
a. 7 b. 8 c. 10 d. 11 2 puncte

D. Precizați trei deosebiri între **clima** unității de relief marcate cu **F** și **clima** unității de relief marcate cu **H**.

Nota 1: Deosebirile se pot referi la oricare dintre următoarele elemente de **climă**: temperaturi medii anuale, precipitații medii anuale, vânturi, influență climatică, etaj climatic.

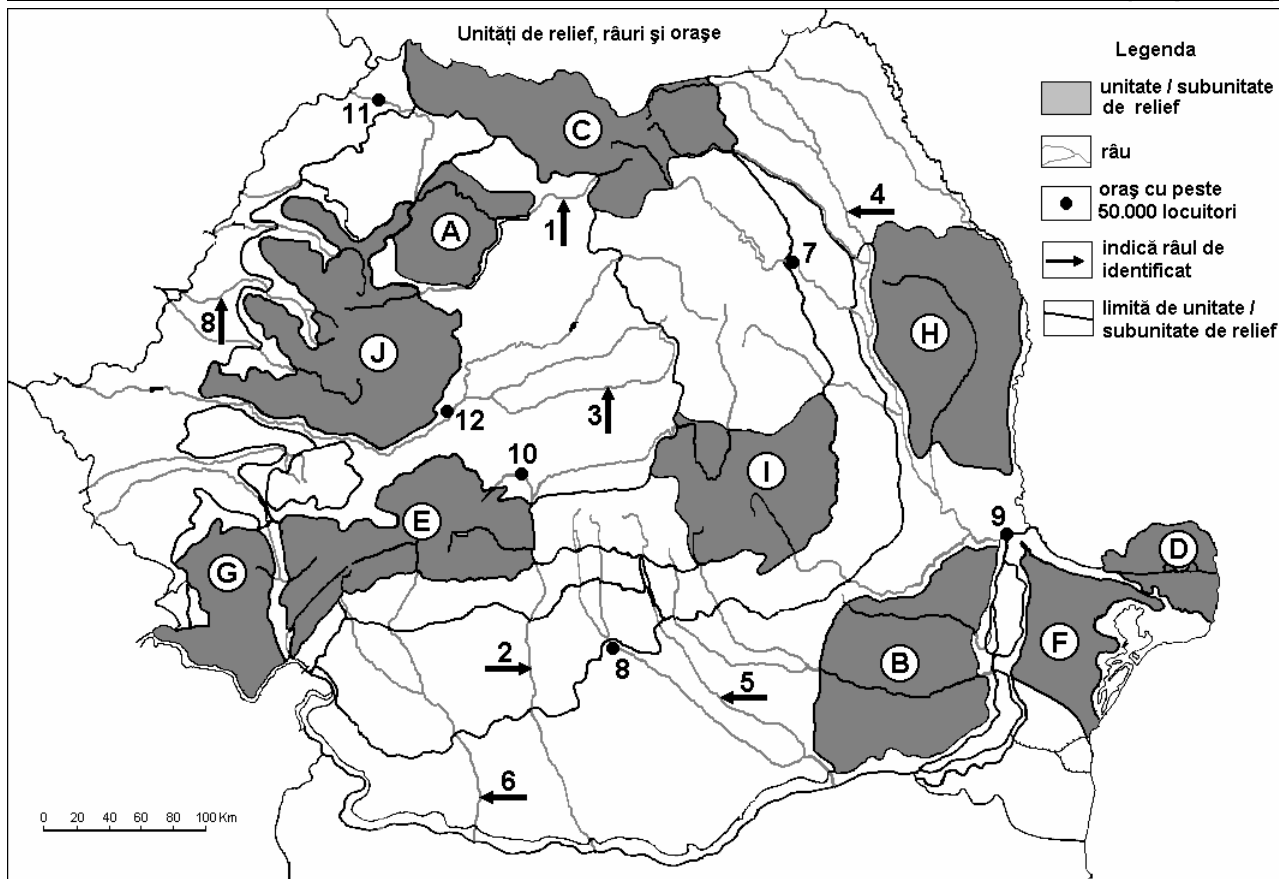
Nota 2: Punctajul complet va fi acordat numai dacă cele trei deosebiri vor fi prezentate comparativ și nu separat. **6 puncte**

E. Precizați două cauze care determină densitatea redusă a populației în unitatea de relief marcată, pe hartă, cu litera **E**.

4 puncte

Examenul de bacalaureat 2008
Proba D, E, F
Proba scrisă la GEOGRAFIE
Europa–România–Uniunea Europeană

- Toate subiectele sunt obligatorii. Se acordă 10 puncte din oficiu.
- Timpul efectiv de lucru este de 3 ore.

SUBIECTUL II**(30 puncte)**

Harta de mai sus se referă la subiectul II A-C. Pe hartă sunt marcate unități de relief, cu litere, râuri cu numere de la 1 la 6 și orașe cu numere de la 7 la 12.

A. Precizați:

- numele unităților de relief marcate, pe hartă, cu literele **A** și **I**;
- numele orașelor marcate, pe hartă, cu numerele **10** și **12**.

4 puncte**B. Scrieți, pe foaia de examen, răspunsurile corecte care completează propozițiile de mai jos:**

- Râul Buzău izvorăște din unitatea de relief marcată, pe hartă, cu litera ...
- Relief pozitiv de grinduri și ostroave se găsesc în unitatea de relief marcată, pe hartă, cu litera...
- Orașul ce reprezintă cel mai important centru siderurgic al țării este marcat, pe hartă, cu numărul ...

6 puncte**C. Scrieți, pe foaia de examen, litera corespunzătoare răspunsului corect pentru fiecare dintre afirmațiile de mai jos:**

- Râurile Suceava, Moldova și Trotuș sunt afluenți ai râului marcat, pe hartă, cu numărul:

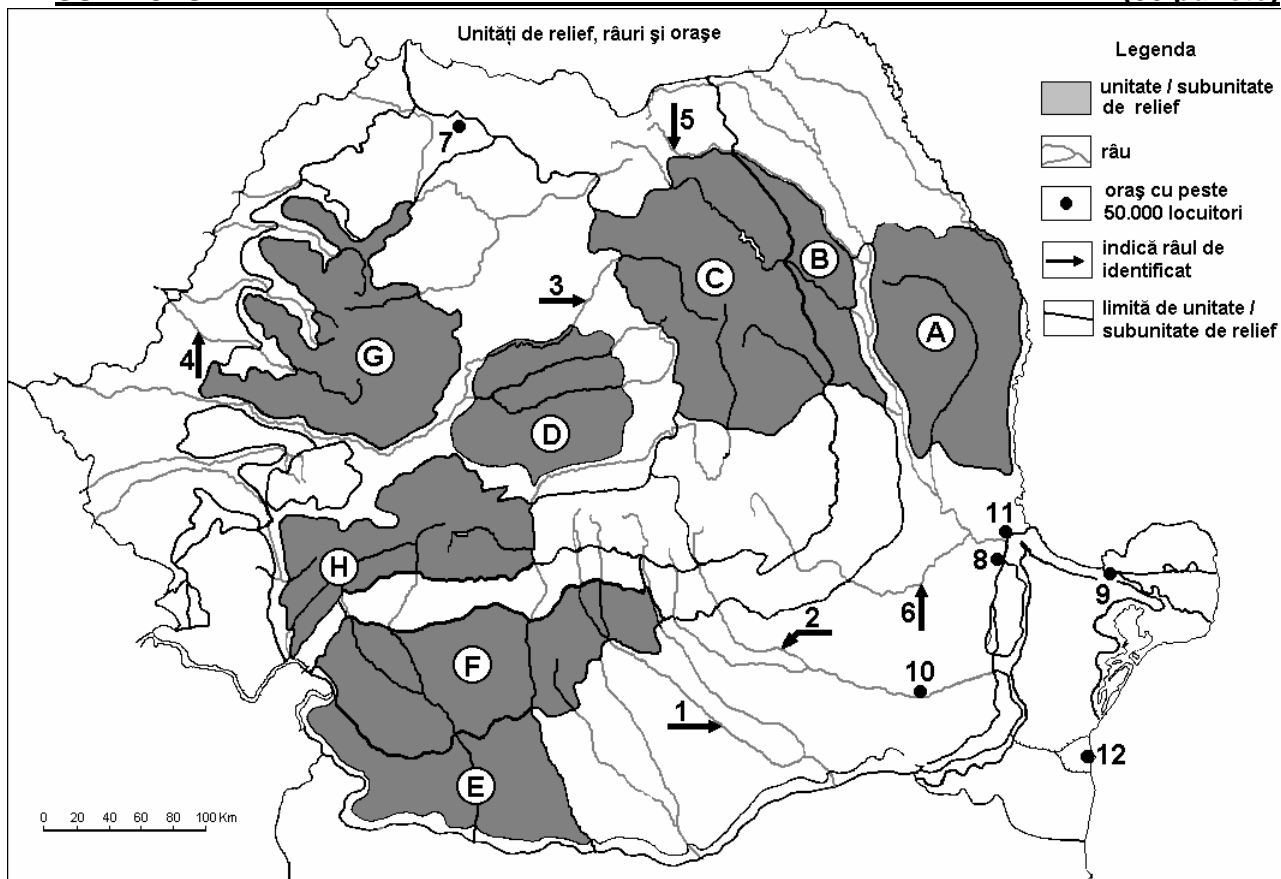
a. 1	b. 2	c. 4	d. 5	2 puncte
------	------	------	------	-----------------
- Crivățul bate în unitatea de relief marcată, pe hartă, cu litera:

a. A	b. E	c. G	d. H	2 puncte
------	------	------	------	-----------------
- Vegetația de stepă este caracteristică unității de relief marcate, pe hartă, cu litera:

a. A	b. B	c. G	d. J	2 puncte
------	------	------	------	-----------------

Examenul de bacalaureat 2008
Proba D, E, F
Proba scrisă la GEOGRAFIE
Europa–România–Uniunea Europeană

- Toate subiectele sunt obligatorii. Se acordă 10 puncte din oficiu.
- Timpul efectiv de lucru este de 3 ore.

SUBIECTUL II**(30 puncte)**

Harta de mai sus se referă la subiectul II A-C. Pe hartă sunt marcate unități de relief, cu litere, râuri cu numere de la 1 la 6 și orașe cu numere de la 7 la 12.

A. Precizați:

- numele unităților de relief marcate, pe hartă, cu literele **B** și **D**;
- numele orașelor marcate, pe hartă, cu numerele **7** și **8**.

4 puncte**B. Scrieți, pe foaia de examen, răspunsurile corecte care completează propozițiile de mai jos:**

- Orașul Buzău este străbătut de râul marcat, pe hartă, cu numărul....
- Influențe climatice submediteraneene se manifestă în unitatea de podiș marcată, pe hartă, cu litera...
- Resurse de gaz metan se găsesc în domurile din unitatea de relief marcată, pe hartă, cu litera...

6 puncte**C. Scrieți, pe foaia de examen, litera corespunzătoare răspunsului corect pentru fiecare dintre afirmațiile de mai jos:**

- Limita dintre Carpații Orientali și Carpații Meridionali este reprezentată de râul marcat, pe hartă, cu numărul:

a. 1	b. 2	c. 3	d. 6	2 puncte
------	------	------	------	-----------------
- Se manifestă influențe climatice oceanice în unitatea de relief marcată, pe hartă, cu litera:

a. A	b. B	c. E	d. G	2 puncte
------	------	------	------	-----------------
- Cel mai mare port fluvial este marcat, pe hartă, cu numărul:

a. 8	b. 9	c. 11	d. 12	2 puncte
------	------	-------	-------	-----------------

-
4. Lacul Vidraru este amenajat pe râul marcată, pe hartă, cu numărul:
a. 1 b. 2 c. 5 d. 6 2 puncte
5. Spodosolurile sunt caracteristice unităților de relief marcate, pe hartă, cu literele:
a. A și B b. C și H c. E și C d. F și D 2 puncte

D. Precizați două deosebiri și o asemănare între **relieful** Munților Banatului și **relieful** Grupei Făgăraș.

Nota 1: Deosebirile se pot referi la oricare dintre următoarele aspecte ale **reliefului**: mod de formare, tipuri de roci, distribuția spațială a altitudinilor, gradul de fragmentare, orientarea culmilor și văilor principale, tipuri genetice de relief, alte aspecte specifice ale reliefului.

Nota 2: Punctajul complet va fi acordat numai dacă cele două deosebiri și asemănarea vor fi prezentate comparativ și nu separat.

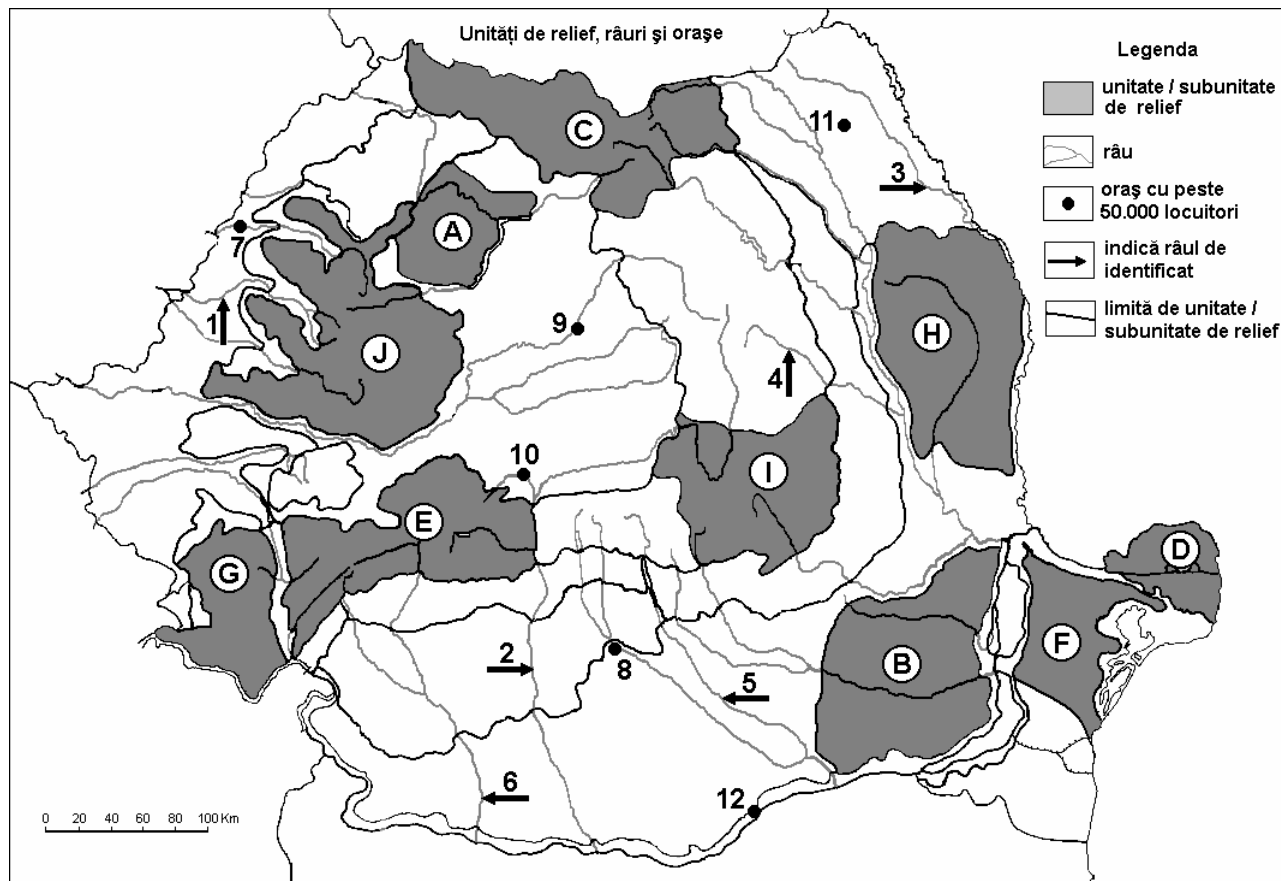
6 puncte

E. Prezentați două cauze pentru care densitatea populației țării noastre prezintă diferențieri teritoriale.

4 puncte

Examenul de bacalaureat 2008
Proba D, E, F
Proba scrisă la GEOGRAFIE
Europa–România–Uniunea Europeană

- Toate subiectele sunt obligatorii. Se acordă 10 puncte din oficiu.
- Timpul efectiv de lucru este de 3 ore.

SUBIECTUL II**(30 puncte)**

Harta de mai sus se referă la subiectul II A-C. Pe hartă sunt marcate unități de relief, cu litere, râuri cu numere de la 1 la 6 și orașe cu numere de la 7 la 12.

A. Precizați:

1. numele unităților de relief marcate, pe hartă, cu literele **A** și **G**;
2. numele orașelor marcate, pe hartă, cu numerele **11** și **12**.

4 puncte**B. Scrieți, pe foaia de examen, răspunsurile corecte care completează propozițiile de mai jos:**

1. Râul care străbate cele mai multe depresiuni intramontane este marcat, pe hartă, cu numărul
2. Vântul care bate în unitatea de relief marcată, pe hartă, cu litera **G** se numește
3. În unitatea de relief marcată, pe hartă, cu litera **C** se manifestă influențe climatice numite ...

6 puncte**C. Scrieți, pe foaia de examen, litera corespunzătoare răspunsului corect pentru fiecare dintre afirmațiile de mai jos:**

1. Molisourile sunt caracteristice unității de relief marcate, pe hartă, cu literele:

a. B b. C c. G d. J **2 puncte**

2. Prin orașul marcat, pe hartă, cu numărul **10** trece râul:

a. Cerna b. Cibin c. Lotru d. Olt **2 puncte**

-
3. Reședința județului Dolj este străbătută de râul marcat, pe hartă, cu numărul:
a. 2 b. 4 c. 5 d. 6 **2 puncte**
4. Relief vulcanic este prezent în unitățile de relief marcate, pe hartă, cu literele:
a. C și J b. E și H c. F și I d. G și F **2 puncte**
5. Cel mai mare bazin huilifer din țară se află în unitatea de relief marcată, pe hartă, cu litera:
a. C b. E c. G d. J **2 puncte**

D. Precizați două deosebiri și o asemănare între **relieful** Câmpiei Române și **relieful** Câmpiei Moldovei.

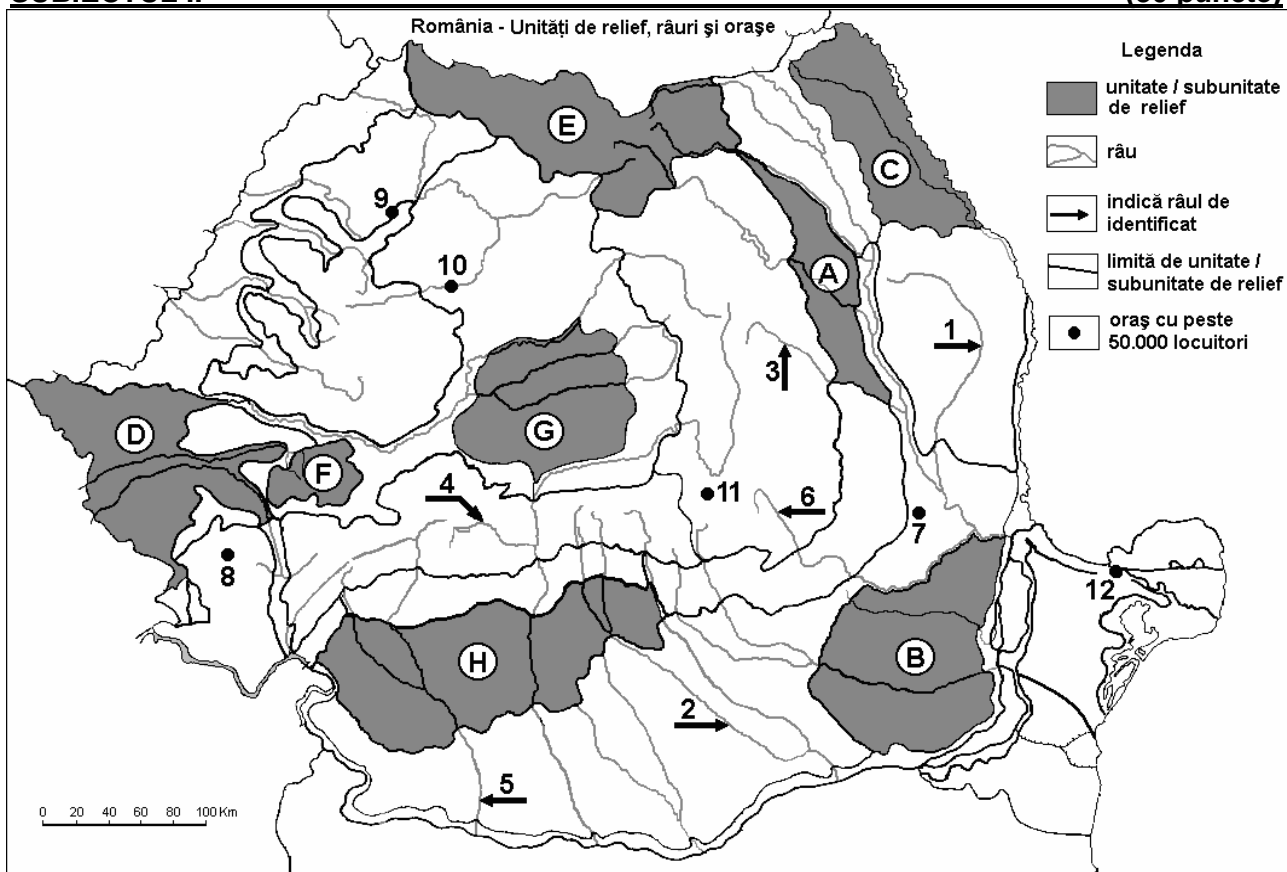
Nota 1: Deosebirile se pot referi la oricare dintre următoarele aspecte ale **reliefului**: mod de formare, tipuri de roci, distribuția spațială a altitudinilor, gradul de fragmentare, orientarea culmilor și văilor principale, tipuri genetice de relief, alte aspecte specifice ale reliefului.

Nota 2: Punctajul complet va fi acordat numai dacă cele două deosebiri și asemănarea vor fi prezentate comparativ și nu separat. **6 puncte**

E. Prezentați două cauze pentru care sectorul Carpaților Meridionali este considerat cel mai masiv și cel mai înalt. **4 puncte**

Examenul de bacalaureat 2008
Proba D, E, F
Proba scrisă la GEOGRAFIE
Europa–România–Uniunea Europeană

- Toate subiectele sunt obligatorii. Se acordă 10 puncte din oficiu.
- Timpul efectiv de lucru este de 3 ore.

SUBIECTUL II**(30 puncte)**

Harta de mai sus se referă la subiectul II A – D. Pe hartă sunt marcate unități de relief (sau subunități ale acestora) cu litere, râuri cu numere de la 1 la 6 și orașe de la 7 la 12.

A. Precizați:

- numele subunităților de relief marcate, pe hartă, cu literele **C** și **G**;
- numele orașelor marcate, pe hartă, cu numerele **8** și **11**.

4 puncte**B. Scrieți, pe foaia de examen, răspunsurile corecte care completează propozițiile de mai jos:**

- Orașul marcat, pe hartă, cu numărul **12** se numește ...
- Resurse de gaz metan există în subsolul unității de relief marcată, pe hartă, cu litera ...
- Orașul cu cel mai mare număr de locuitori din unitatea de relief marcată, pe hartă, cu litera **B** se numește ...

6 puncte**C. Scrieți, pe foaia de examen, litera corespunzătoare răspunsului corect pentru fiecare dintre afirmațiile de mai jos:**

- Relieful tipic piemontan este întâlnit în unitatea marcată, pe hartă, cu litera:

a. A	b. C	c. F	d. H	2 puncte
------	------	------	------	-----------------
- Orașul marcat, pe hartă, cu numărul **7** este reședința județului:

a. Buzău	b. Covasna	c. Harghita	d. Vrancea	2 puncte
----------	------------	-------------	------------	-----------------
- Depresiuni formate prin tasarea loessului există în unitatea de relief marcată, pe hartă, cu litera:

a. A	b. B	c. F	d. G	2 puncte
------	------	------	------	-----------------

4. Zăcămintele de petrol există în unitățile de relief marcate, pe hartă, cu literele:

a. A și E b. B și F c. C și G d. D și H **2 puncte**

5. Orașul marcat, pe hartă, cu numărul 9 se numește:

a. Baia Mare b. Cluj-Napoca c. Oradea d. Zalău **2 puncte**

D. Precizați trei deosebiri între **clima** unității de relief marcată, pe hartă cu litera **C** și **clima** unității de relief marcată, pe hartă cu litera **F**.

Nota 1: Deosebirile se pot referi la oricare dintre următoarele elemente de **climă**: temperaturi medii anuale, precipitații medii anuale, vânturi, influență climatică, etaj climatic.

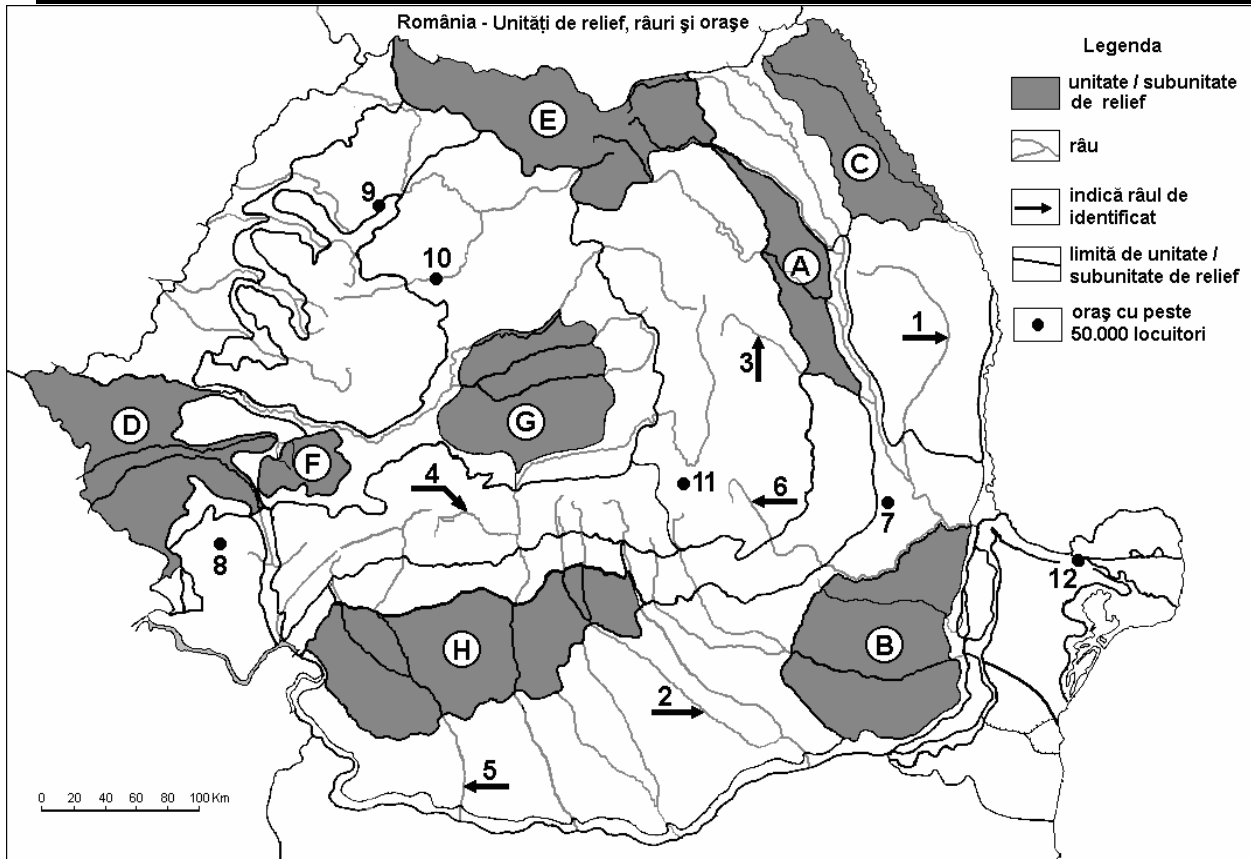
Nota 2: Punctajul complet va fi acordat numai dacă deosebirile vor fi prezentate comparativ și nu separat. **6 puncte**

E. Precizați două cauze ale valorilor foarte diferite ale densității populației în Câmpia Română.

4 puncte

Examenul de bacalaureat 2008
Proba D, E, F
Proba scrisă la GEOGRAFIE
Europa–România–Uniunea Europeană

- Toate subiectele sunt obligatorii. Se acordă 10 puncte din oficiu.
- Timpul efectiv de lucru este de 3 ore.

SUBIECTUL II**(30 puncte)**

Harta de mai sus se referă la subiectul II A – D. Pe hartă sunt marcate unități de relief (sau subunități ale acestora) cu litere, râuri cu numere de la 1 la 6 și orașe de la 7 la 12.

A. Precizați:

- numele unităților de relief marcate, pe hartă, cu literele **A** și **H**;
- numele orașelor marcate, pe hartă, cu numerele **7** și **10**.

4 puncte**B. Scrieți, pe foaia de examen, răspunsurile corecte care completează propozițiile de mai jos:**

- Orașul marcat, pe hartă, cu numărul **12** se numește ...
- Importante resurse de minereu de fier există în subsolul unității de relief marcată, pe hartă, cu litera ...
- Orașul cu cel mai mare număr de locuitori din unitatea de relief marcată, pe hartă, cu litera **D** se numește ...

6 puncte**C. Scrieți, pe foaia de examen, litera corespunzătoare răspunsului corect pentru fiecare dintre afirmațiile de mai jos:**

- Forme ale reliefului vulcanic se întâlnesc în unitatea marcată, pe hartă, cu litera:

a. A	b. E	c. F	d. G	2 puncte
------	------	------	------	-----------------
- Orașul marcat, pe hartă, cu numărul **9** este reședința județului:

a. Bihor	b. Călărași	c. Cluj	d. Sălaj	2 puncte
----------	-------------	---------	----------	-----------------

-
3. Depozite de loess se întâlnesc în unitatea de relief marcată, pe hartă, cu litera:
a. A **b. B** **c. F** **d. G** **2 puncte**
4. Zăcămintele de petrol există în unitățile de relief marcate, pe hartă, cu literele:
a. A și G **b. A și H** **c. C și G** **d. F și H** **2 puncte**
5. Un important centru al industriei siderurgice este în orașul marcat, pe hartă, cu numărul:
a. 8 **b. 9** **c. 11** **d. 12** **2 puncte**

D. Precizați două deosebiri și o asemănare între **clima** unității de relief marcată, pe hartă cu litera **A** și **clima** unității de relief marcată, pe hartă cu litera **B**.

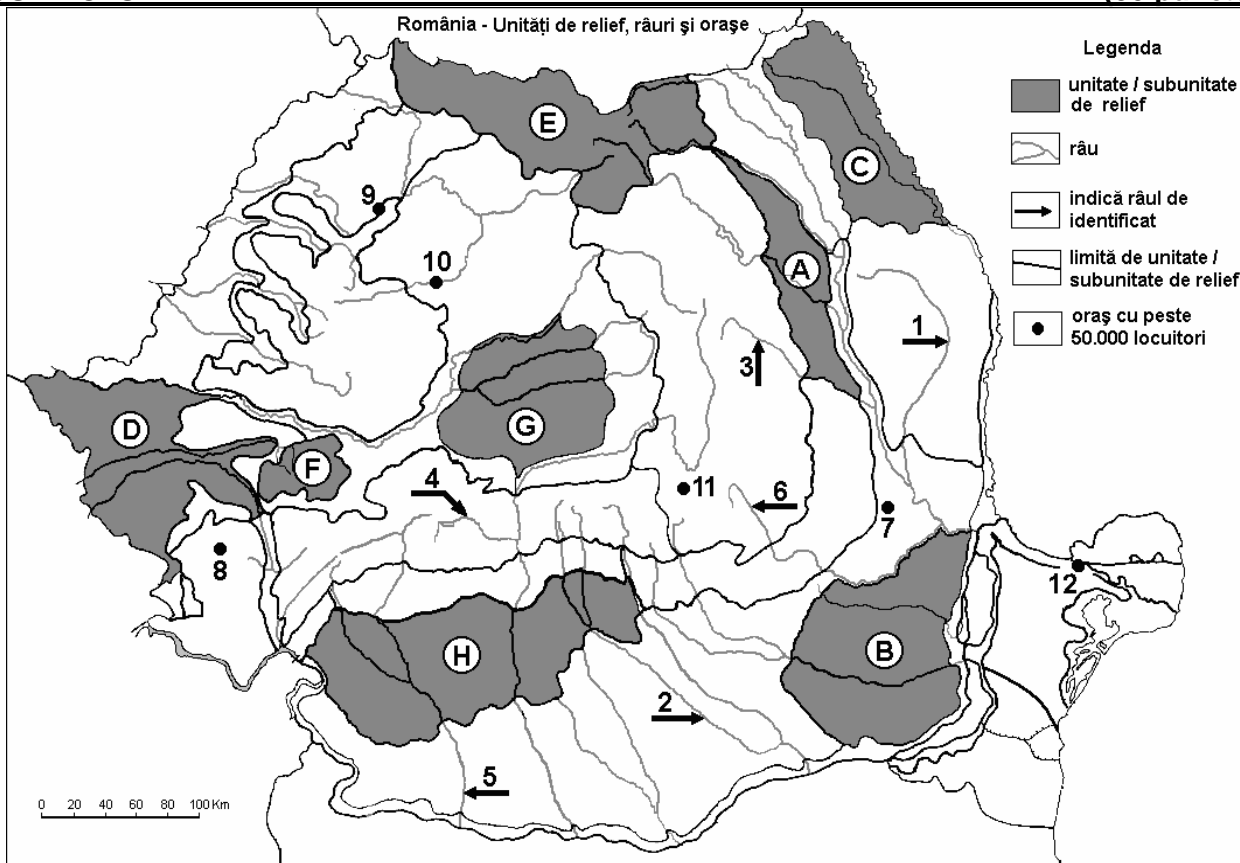
Nota 1: Deosebirile și asemănarea se pot referi la oricare dintre următoarele elemente de **climă**: temperaturi medii anuale, precipitații medii anuale, vânturi, influență climatică, etaj climatic.

Nota 2: Punctajul complet va fi acordat numai dacă asemănarea și deosebirile vor fi prezentate comparativ și nu separat. **6 puncte**

E. Prezentați doi factori restrictivi în dezvoltarea agriculturii în regiunile montane. **4 puncte**

Examenul de bacalaureat 2008
Proba D, E, F
Proba scrisă la GEOGRAFIE
Europa–România–Uniunea Europeană

- Toate subiectele sunt obligatorii. Se acordă 10 puncte din oficiu.
- Timpul efectiv de lucru este de 3 ore.

SUBIECTUL II**(30 puncte)**

Harta de mai sus se referă la subiectul II A – D. Pe hartă sunt marcate unități de relief (sau subunități ale acestora) cu litere, râuri cu numere de la 1 la 6 și orașe de la 7 la 12.

A. Precizați:

- numele unităților de relief marcate, pe hartă, cu literele **E** și **F**;
- numele orașelor marcate, pe hartă, cu numerele **9** și **12**.

4 puncte**B. Scrieți, pe foaia de examen, răspunsurile corecte care completează propozițiile de mai jos:**

- Orașul marcat, pe hartă, cu numărul **8** se numește ...
- Resurse de gaz metan există în subsolul unității de relief marcată, pe hartă, cu litera ...
- Orașul cu cel mai mare număr de locuitori din unitatea de relief marcată, pe hartă, cu litera **C** se numește ...

6 puncte**C. Scrieți, pe foaia de examen, litera corespunzătoare răspunsului corect pentru fiecare dintre afirmațiile de mai jos:**

- Forme ale reliefului glaciatic se întâlnesc în unitatea marcată, pe hartă, cu litera:

a. A	b. E	c. F	d. H	2 puncte
------	------	------	------	-----------------
- Orașul marcat, pe hartă, cu numărul **10** este reședința județului:

a. Bihor	b. Cluj	c. Satu Mare	d. Sălaj	2 puncte
----------	---------	--------------	----------	-----------------
- Depresiuni submontane se întâlnesc în unitatea de relief marcată, pe hartă, cu litera:

a. A	b. C	c. G	d. H	2 puncte
------	------	------	------	-----------------

4. Zăcăminte de petrol există în unitatea de relief marcată, pe hartă, cu litera:

a. B

b. C

c. F

d. G

2 puncte

5. Râul marcat, pe hartă, cu numărul 3 se numește:

a. Bârlad

b. Bistrița

c. Moldova

d. Trotuș

2 puncte

D. Precizați trei deosebiri între **clima** unității de relief marcată, pe hartă cu litera **B** și **clima** unității de relief marcată, pe hartă cu litera **G**.

Nota 1: Deosebirile se pot referi la oricare dintre următoarele elemente de **climă**: temperaturi medii anuale, precipitații medii anuale, vânturi, influență climatică, etaj climatic.

Nota 2: Punctajul complet va fi acordat numai dacă deosebirile vor fi prezentate comparativ și nu separat.

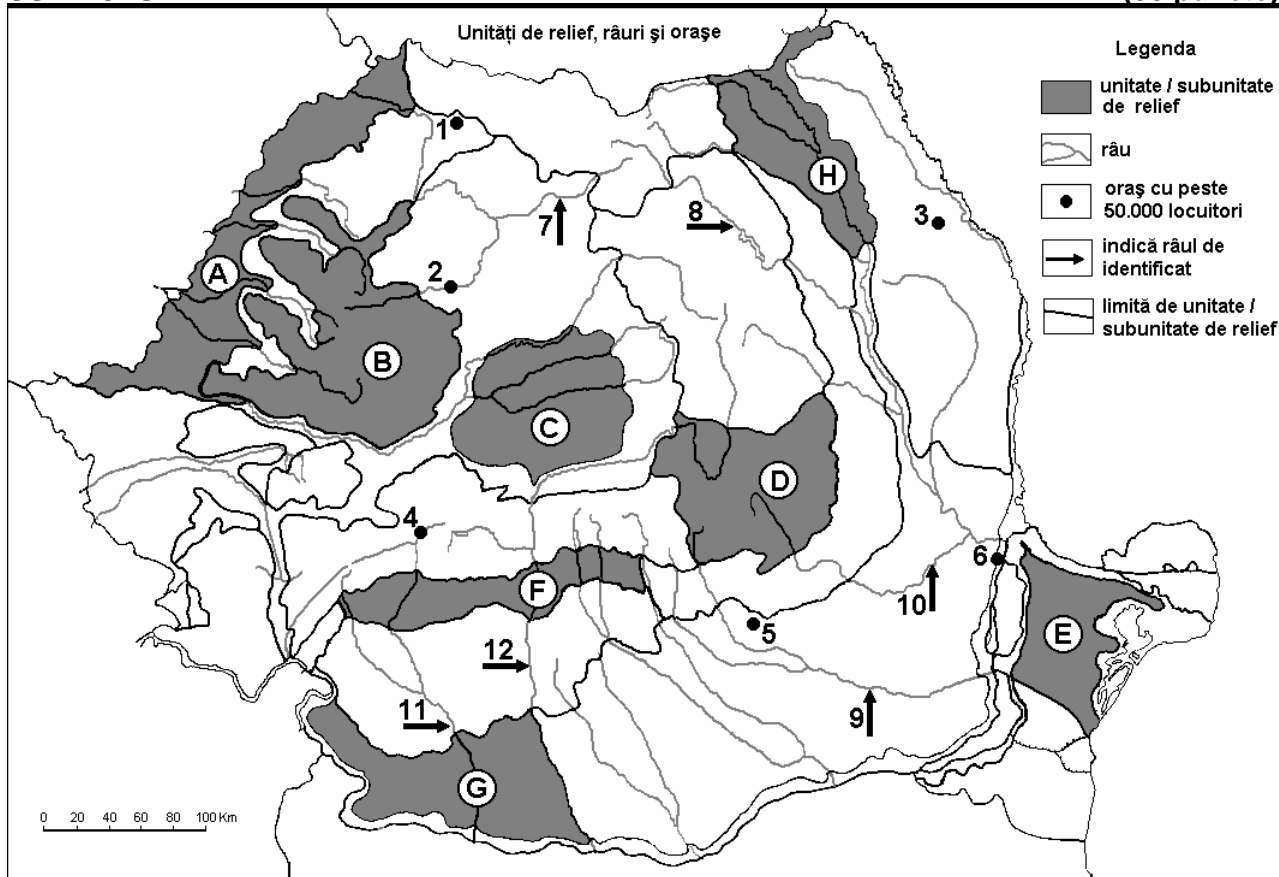
6 puncte

E. Precizați doi factori de favorabilitate în dezvoltarea orașului Brașov ca nod de comunicații.

4 puncte

Examenul de bacalaureat 2008
Proba D, E, F
Proba scrisă la Geografie
Europa – România – Uniunea Europeană

- Toate subiectele sunt obligatorii. Se acordă 10 puncte din oficiu.
- Timpul efectiv de lucru este de 3 ore.

SUBIECTUL II**(30 puncte)**

Harta de mai sus se referă la subiectul II A – D. Pe hartă sunt marcate unități de relief cu litere, orașe cu numere de la 1 la 6 și râuri cu numere de la 7 la 12.

A. Precizați:

- numele unităților de relief marcate, pe hartă, cu literele **C** și **F**;
- numele orașelor marcate, pe hartă, cu numerele **2** și **5**.

4 puncte**B. Scrieți, pe foaia de examen, răspunsurile corecte care completează propozițiile de mai jos:**

- Podișul Sucevei este marcat, pe hartă, cu litera ...
- În unitatea de relief marcată pe hartă cu litera **G**, se resimt influențe climatice ...
- Depresiunea Brașov este situată în unitatea de relief marcată, pe hartă, cu litera ...

6 puncte**C. Scrieți, pe foaia de examen, litera corespunzătoare răspunsului corect pentru fiecare dintre afirmațiile de mai jos:**

- Zăcămintele de bauxită există în unitatea de relief, marcată pe hartă cu litera:

a. A b. B c. C d. H **2 puncte**

- Din Munții Rodnei izvorăsc râurile marcate pe hartă cu numerele:

a. 7 și 8 b. 8 și 9 c. 9 și 10 d. 11 și 12 **2 puncte**

- Orașul marcat, pe hartă, cu numărul **4** este localizat în depresiunea:

a. Brașov b. Ciucului c. Petroșani d. Vrancei **2 puncte**

4. Râul Bahlui traversează orașul marcat pe hartă cu numărul:
a. 1 **b. 2** **c. 3** **d. 6** **2 puncte**

5. Râul marcat, pe hartă, cu numărul **12** străbate orașele:
a. Brașov și Craiova **b. Petroșani și Sibiu**
c. Râmnicu Vâlcea și Sfântu Gheorghe **d. Slatina și Timișoara** **2 puncte**

D. Precizați trei deosebiri între **clima** unității de relief marcate, pe hartă, cu litera **A** și **clima** unității de relief marcate, pe hartă, cu litera **E**.

Nota 1: Deosebirile se pot referi la oricare dintre următoarele elemente de **climă**: temperaturi medii anuale, precipitații medii anuale, vânturi, influență climatică, etaj climatic.

Nota 2: Punctajul complet va fi acordat numai dacă cele trei deosebiri vor fi prezentate comparativ și nu separat.

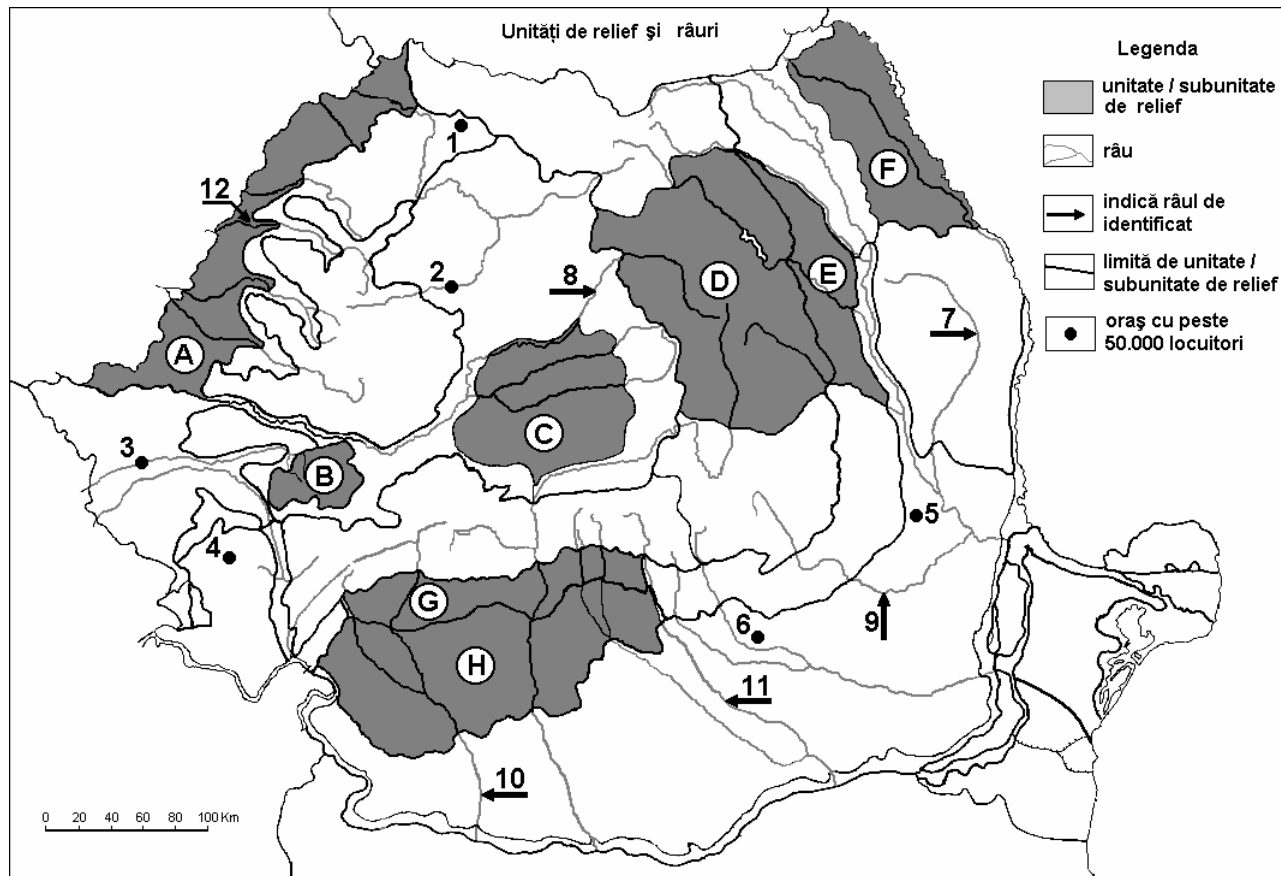
6 puncte

E. Prezentați două cauze care explică faptul că în Carpații Orientali există o varietate de tipuri genetice de relief.

4 puncte

Examenul de bacalaureat 2008
Proba D, E, F
Proba scrisă la Geografie
Europa – România – Uniunea Europeană

- Toate subiectele sunt obligatorii. Se acordă 10 puncte din oficiu.
- Timpul efectiv de lucru este de 3 ore.

SUBIECTUL II**(30 puncte)**

Harta de mai sus se referă la subiectul II A – D. Pe hartă sunt marcate unități de relief cu litere, orașe cu numere de la 1 la 6 și râuri cu numere de la 7 la 12.

A. Precizați:

1. numele unităților de relief marcate, pe hartă, cu literele **G** și **E**;
2. numele râurilor marcate, pe hartă, cu numerele **7** și **8**.

4 puncte**B. Scrieți, pe foaia de examen, răspunsurile corecte care completează propozițiile de mai jos:**

1. Importante zăcăminte de gaz metan există în unitatea de relief marcată, pe hartă, cu litera ...
2. Orașul marcat, pe hartă, cu numărul **4** se numește ...
3. În unitatea de relief marcată, pe hartă, cu litera **A** se resimt influențe climatice ...

6 puncte**C. Scrieți, pe foaia de examen, litera corespunzătoare răspunsului corect pentru fiecare dintre afirmațiile de mai jos:**

1. Un centru de prelucrare a minereurilor auro-argentifere este în orașul marcat, pe hartă, cu numărul:

a. 1	b. 3	c. 5	d. 6	2 puncte
------	------	------	------	-----------------
2. Orașul Buzău este străbătut de râul marcat, pe hartă, cu numărul:

a. 7	b. 8	c. 9	d. 12	2 puncte
------	------	------	-------	-----------------
3. Influențe climatice de tip continental se resimt în unitatea marcată, pe hartă, cu litera:

a. A	b. B	c. C	d. F	2 puncte
------	------	------	------	-----------------

4. Munți vulcanici există în unitatea de relief marcată, pe hartă, cu litera:

a. C

b. D

c. E

d. H

2 puncte

5. Râul marcat, pe hartă, cu numărul **10** străbate orașul:

a. Brașov

b. Craiova

c. Slatina

d. Timișoara

2 puncte

D. Precizați două deosebiri și o asemănare între **relieful** unității de relief marcată, pe hartă, cu litera **B** și **relieful** unității de relief marcată, pe hartă, cu litera **D**.

Nota 1: Deosebirile se pot referi la oricare dintre următoarele aspecte ale **reliefului**: mod de formare, tipuri de roci pe care s-a format relieful, distribuția spațială a altitudinilor, gradul de fragmentare, orientarea culmilor și văilor principale, tipuri genetice de relief, ale aspecte specifice ale reliefului.

Nota 2: Punctajul complet va fi acordat numai dacă cele două deosebiri și asemănarea, vor fi prezentate comparativ și nu separat.

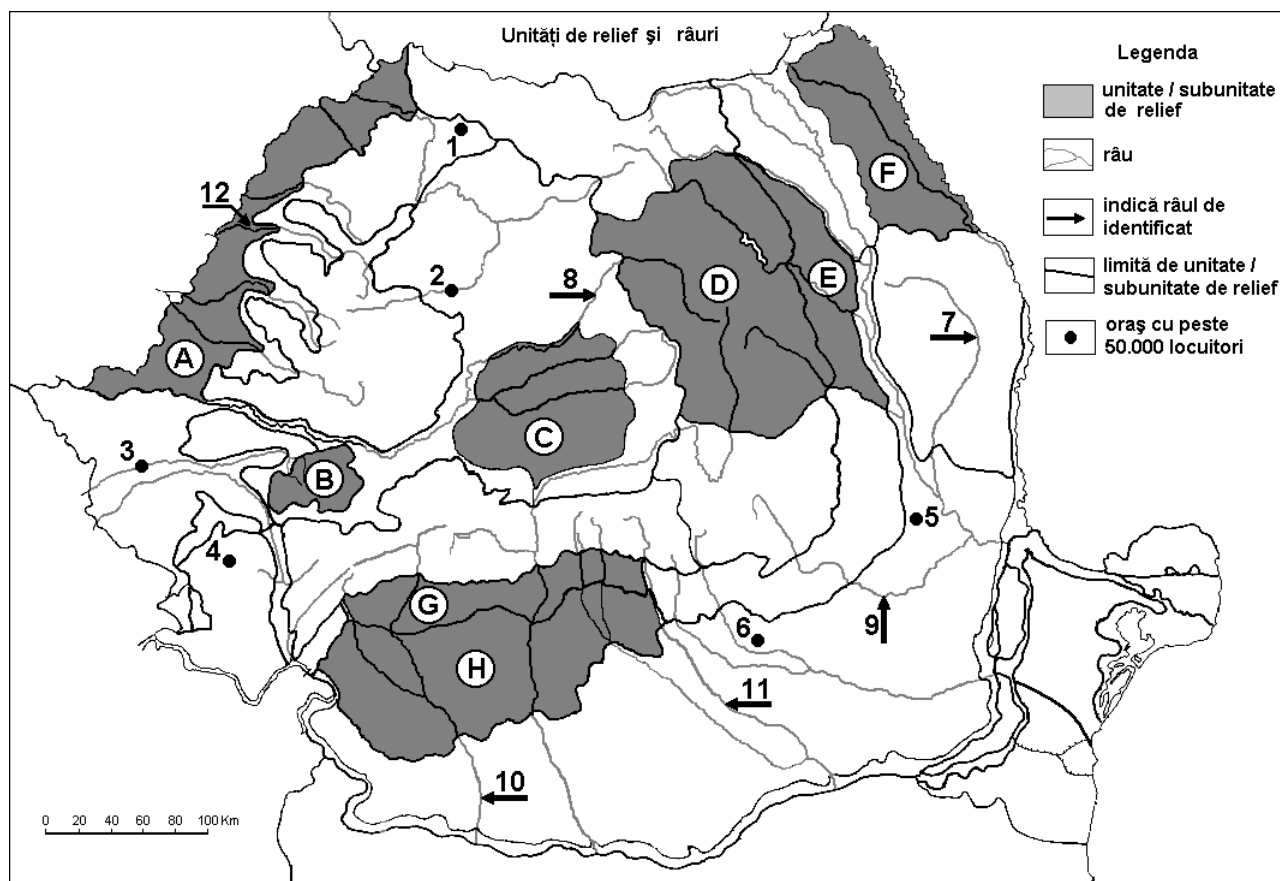
6 puncte

E. Precizați două exemple prin care să demonstrați că Dunărea are o importanță economică europeană.

4 puncte

Examenul de bacalaureat 2008
Proba D, E, F
Proba scrisă la Geografie
Europa – România – Uniunea Europeană

- Toate subiectele sunt obligatorii. Se acordă 10 puncte din oficiu.
- Timpul efectiv de lucru este de 3 ore.

SUBIECTUL II**(30 puncte)**

Harta de mai sus se referă la subiectul II A – D. Pe hartă sunt marcate unități de relief cu litere, orașe cu numere de la 1 la 6 și râuri cu numere de la 7 la 12.

A. Precizați:

1. numele unităților de relief marcate, pe hartă, cu literele **E** și **G**;
2. numele orașelor marcate, pe hartă, cu numerele **5** și **6**.

4 puncte**B. Scrieți, pe foaia de examen, răspunsurile corecte care completează propozițiile de mai jos:**

1. Lacul Sfânta Ana este situat în unitatea de relief marcată, pe hartă, cu litera ...
2. Orașul marcat, pe hartă, cu numărul **4** se numește ...
3. Bazinul carbonifer Motru-Rovinari este situat în unitatea de relief marcată, pe hartă, cu litera ...

6 puncte**C. Scrieți, pe foaia de examen, litera corespunzătoare răspunsului corect pentru fiecare dintre afirmațiile de mai jos:**

1. A apărut în perioada antică orașul marcat, pe hartă, cu numărul:

a. 2 b. 4 c. 5 d. 6 **2 puncte**

2. În unitatea de relief marcată, pe hartă, cu litera **A** predomină soluri din clasa:

a. argiluvisoluri b. cambisoluri c. molisoluri d. spodosoluri **2 puncte**

3. Relieful pe structură boltită (de tip „dom”) este caracteristic în unitatea de relief marcată, pe hartă, cu litera:

a. A b. C c. D d. H **2 puncte**

4. Orașul Craiova este străbătut de râul marcat, pe hartă, cu numărul:

a. 7 b. 8 c. 10 d. 11 **2 puncte**

5. Râul marcat, pe hartă, cu numărul **12** străbate orașul:

a. Arad b. Oradea c. Satu Mare d. Timișoara **2 puncte**

D. Precizați trei deosebiri între **clima** unității de relief marcată, pe hartă, cu litera **B** și **clima** unității de relief marcată, pe hartă, cu litera **F**.

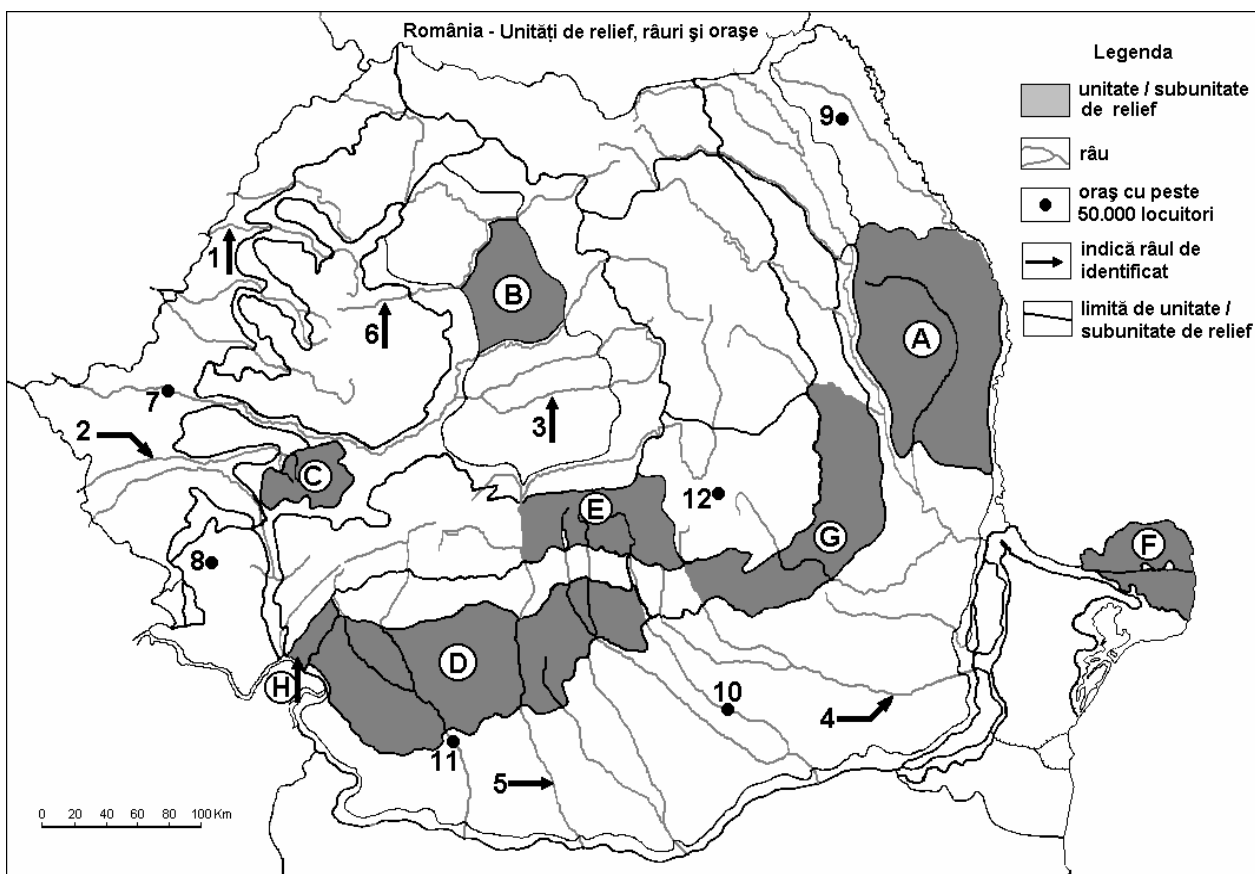
Nota 1: Deosebirile se pot referi la oricare dintre următoarele elemente de **climă**: temperaturi medii anuale, precipitații medii anuale, vânturi, influență climatică, etaj climatic.

Nota 2: Punctajul complet va fi acordat numai dacă cele trei deosebiri vor fi prezentate comparativ și nu separat. **6 puncte**

E. Precizați două cauze ale distribuției spațiale neuniforme a densității populației pe teritoriul țării noastre. **4 puncte**

Examenul de bacalaureat 2008
Proba D, E, F
Proba scrisă la Geografie
Europa – România – Uniunea Europeană

- Toate subiectele sunt obligatorii. Se acordă 10 puncte din oficiu.
- Timpul efectiv de lucru este de 3 ore.

SUBIECTUL II**(30 puncte)**

Harta de mai sus se referă la subiectul II A – D. Pe hartă sunt marcate unități sau subunitățile de relief cu litere, râuri cu numere de la 1 la 6 și orașe cu numere de la 7 la 12.

A. Precizați:

1. numele unităților de relief marcate, pe hartă, cu literele **A** și **F**;
2. numele orașelor marcate, pe hartă, cu numerele **8** și **10**.

4 puncte**B. Scrieți, pe foaia de examen, răspunsurile corecte care completează propozițiile de mai jos:**

1. Orașul Cluj-Napoca este străbătut de râul marcat, pe hartă, cu numărul ...
2. Brațul cu cel mai mare volum de ape din unitatea de relief marcată, pe hartă, cu litera **F**, se numește ...
3. Lacul hidroenergetic Vidraru se află situat în unitatea de relief marcată, pe hartă, cu litera ...

6 puncte**C. Scrieți, pe foaia de examen, răspunsurile corecte care completează propozițiile de mai jos**

1. Cea mai înaltă unitate de relief este cea marcată, pe hartă, cu litera:

a. D b. E c. F d. G **2 puncte**

2. Bazinul carbonifer Motru-Rovinari se găsește în unitatea de relief marcată, pe hartă, cu litera:

a. A b. B c. D d. E **2 puncte**

3. Râul marcat, pe hartă, cu numărul **2** se numește:

a. Bega **b.** Caraș **c.** Mureș **d.** Timiș **2 puncte**

4. Cele mici cantități de precipitații cad în unitatea de relief marcată, pe hartă, cu litera:

a. B **b.** C **c.** D **d.** F **2 puncte**

5. Industria constructoare de vagoane se găsește în orașul marcat, pe hartă, cu numărul:

a. 7 **b.** 8 **c.** 9 **d.** 11 **2 puncte**

D. Precizați două asemănări și o deosebire între **relieful** unității marcate, pe hartă, cu litera **C** și **relieful** unității marcate cu litera **G**.

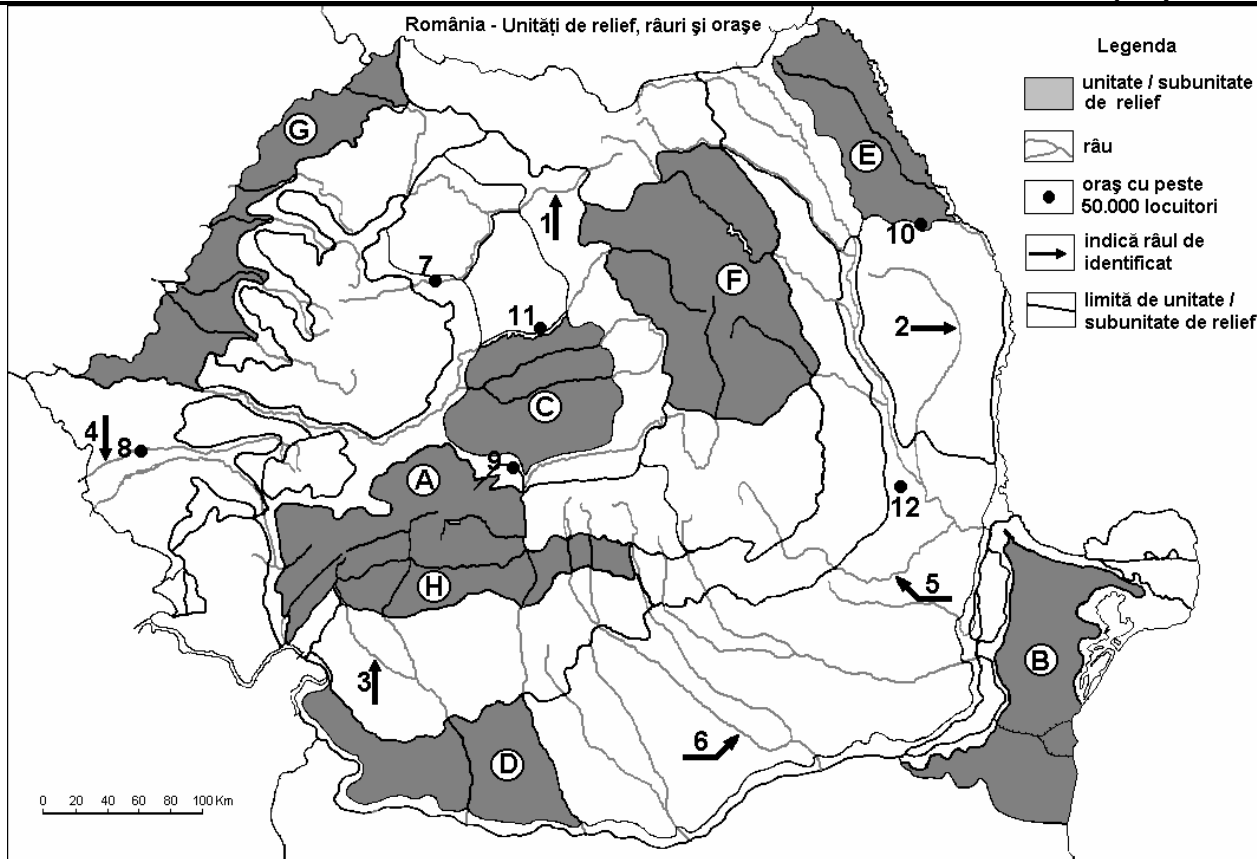
Nota 1: Asemănările și deosebirea se pot referi la oricare dintre următoarele aspecte ale reliefului: mod de formare, tipuri de roci, distribuția spațială a altitudinilor, gradul de fragmentare, orientarea culmilor și a văilor principale, tipuri genetice de relief, alte aspecte specifice ale reliefului.

Nota 2: Punctajul complet va fi acordat numai dacă cele două unități de relief vor fi prezentate comparativ și nu separat. **6 puncte**

E. Precizați două premise naturale care detremină practicarea culturii cerealelor în estul Câmpiei Române și în Podișul Dobrogei. **4 puncte**

Examenul de bacalaureat 2008
Proba D, E, F
Proba scrisă la Geografie
Europa – România – Uniunea Europeană

- Toate subiectele sunt obligatorii. Se acordă 10 puncte din oficiu.
- Timpul efectiv de lucru este de 3 ore.

SUBIECTUL II**(30 puncte)**

Harta de mai sus se referă la subiectul II A – D. Pe hartă sunt marcate unități sau subunitățile de relief cu litere, râuri cu numere de la 1 la 6 și orașe cu numere de la 7 la 12.

A. Precizați:

- numele râurilor marcate, pe hartă, cu numerele 4 și 5;
- numele orașelor marcate, pe hartă, cu numerele 10 și 11.

B. Scrieți, pe foaia de examen, răspunsurile corecte care completează propozițiile de mai jos:

- Lacul de baraj natural Lacul Roșu se găsește în unitatea de relief marcată, pe hartă, cu litera ...
- Limita de est pentru unitatea de relief marcată, pe hartă, cu litera H, o reprezintă râul numit ...
- Orașul marcat, pe hartă, cu numărul 12, este reședința județului ...

6 puncte

C. Scrieți, pe foaia de examen, litera corespunzătoare răspunsului corect pentru fiecare dintre afirmațiile de mai jos:

- Cele mai mari altitudini se înregistrează în unitatea de relief marcată, pe hartă, cu litera:

a. A	b. F	c. G	d. H	2 puncte
------	------	------	------	-----------------
- Orașul marcat, pe hartă, cu numărul 7 este traversat de râul numit.

a. Mureș	b. Someșul Mare	c. Someșul Mic	d. Târnava Mică	2 puncte
----------	-----------------	----------------	-----------------	-----------------
- Lacuri glaciare sunt prezente în unitatea de relief marcată, pe hartă, cu litera:

a. A	b. B	c. F	d. H	2 puncte
------	------	------	------	-----------------
- Vegetație de stepă există în unitatea de relief marcată, pe hartă, cu litera:

a. B	b. C	c. F	d. H	2 puncte
------	------	------	------	-----------------

5. Influențe climatice submediteraneene se fac simțite în unitatea de relief marcată, pe hartă, cu litera:

a. B

b. D

c. E

d. G

2 puncte

D. Precizați trei deosebiri între **relieful** unității marcate, pe hartă cu litera **A** și **relieful** unității marcate, pe hartă, cu litera **F**.

***Nota 1:** Deosebirile se pot referi la oricare dintre următoarele aspecte ale reliefului: mod de formare, tipuri de roci, distribuirea spațială a altitudinilor, gradul de fragmentare, orientarea culmilor și a văilor principale, tipuri genetice de relief, alte aspecte specifice ale reliefului.*

***Nota 2:** Punctajul complet va fi acordat numai dacă cele două unități de relief vor fi prezentate comparativ și nu separat.*

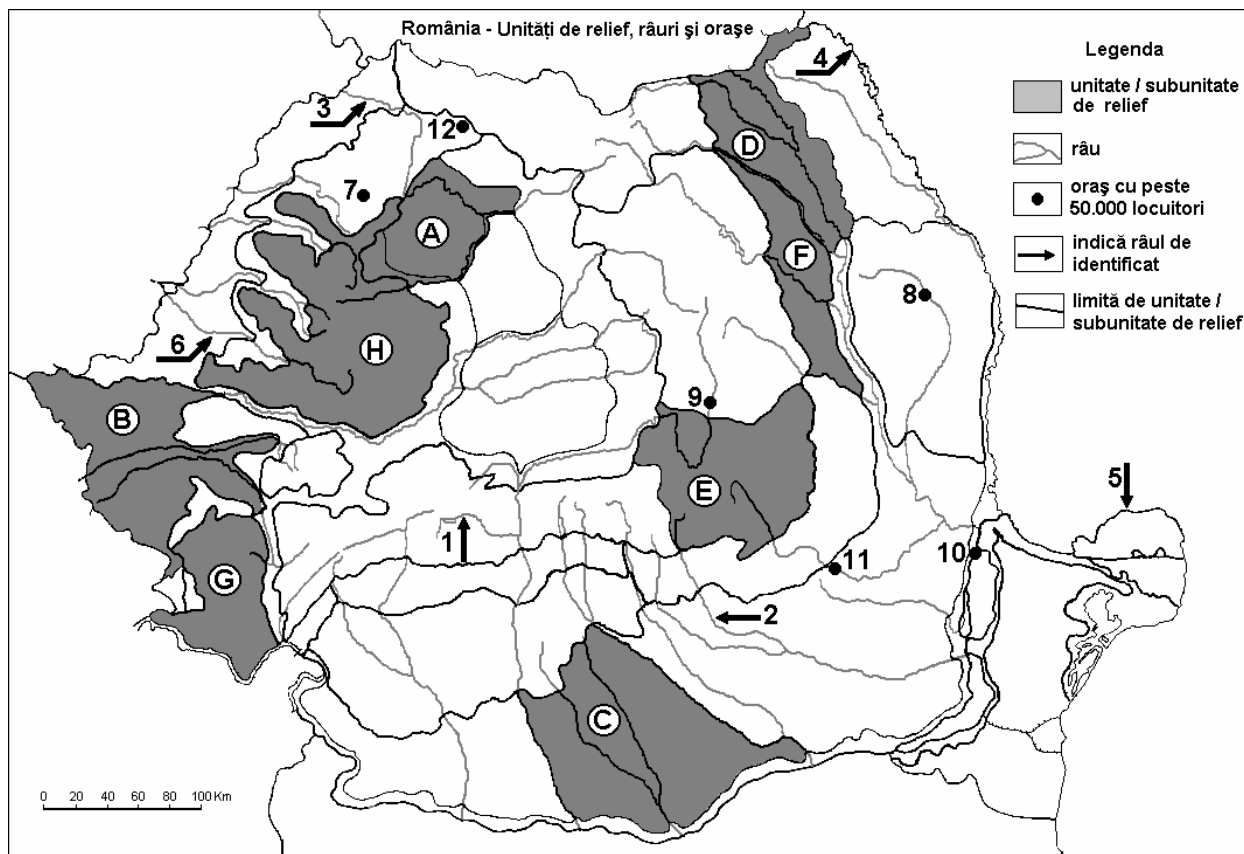
6 puncte

E. Precizați două cauze care au generat formarea Deltei Dunării.

4 puncte

Examenul de bacalaureat 2008
Proba D, E, F
Proba scrisă la Geografie
Europa – România – Uniunea Europeană

- Toate subiectele sunt obligatorii. Se acordă 10 puncte din oficiu.
- Timpul efectiv de lucru este de 3 ore.

SUBIECTUL II**(30 puncte)**

Harta de mai sus se referă la subiectul II A – D. Pe hartă sunt marcate unități sau subunități de relief cu litere, râuri cu numere de la 1 la 6 și orașe cu numere de la 7 la 12.

A. Precizați:

- numele unităților de relief marcate, pe hartă, cu literele **F** și **D**;
- numele râurilor marcate, pe hartă, cu numerele **4** și **6**.

4 puncte

B. Scrieți, pe foaia de examen, răspunsurile corecte care completează propozițiile de mai jos:

- Brațul Dunării marcat, pe hartă, cu numărul **5**, poartă denumirea de ...
- Orașul marcat, pe hartă, cu numărul **11** se numește ...
- Orașul marcat, pe hartă, cu numărul **12** este reședința județului ...

6 puncte

C. Scrieți, pe foaia de examen, răspunsurile corecte care completează propozițiile de mai jos:

1. Dintre unitățile de relief marcate pe hartă, o unitate de relief formată prin sedimentare este cea marcată, pe hartă, cu litera:

a. B b. E c. G d. H **2 puncte**

2. Râul marcat pe hartă, cu numărul **2** este afluentul râului numit:

a. Argeș b. Buzău c. Ialomița d. Siret **2 puncte**

3. Climatul submediteranean se resimte în unitatea de relief marcată, pe hartă, cu litera:

a. B b. E c. F d. H **2 puncte**

4. Clasa molisolurilor este prezentă în unitatea de relief marcată, pe hartă cu litera:

- | | | | | |
|-------------|-------------|-------------|-------------|-----------------|
| a. A | b. C | c. F | d. H | 2 puncte |
|-------------|-------------|-------------|-------------|-----------------|
5. Minereuri auro-argentifere se regăsesc în unitatea de relief marcată, pe hartă, cu litera:
- | | | | | |
|-------------|-------------|-------------|-------------|-----------------|
| a. C | b. D | c. E | d. H | 2 puncte |
|-------------|-------------|-------------|-------------|-----------------|

D. Precizați două asemănări și o deosebire între **relieful** unității marcate, pe hartă, cu litera **E** și **relieful** unității marcate cu litera **H**.

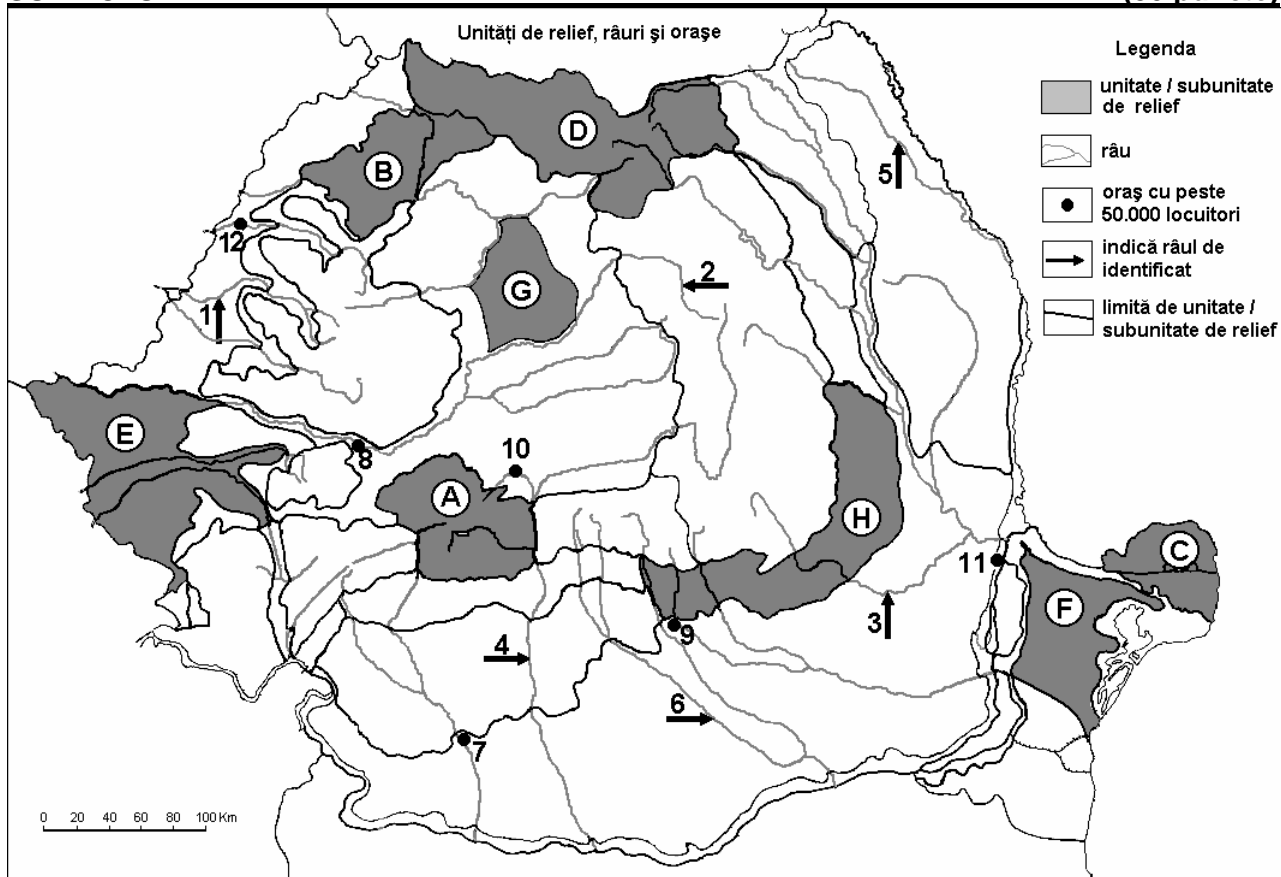
Nota 1: Asemănările și deosebirea se pot referi la oricare dintre următoarele aspecte ale reliefului: mod de formare, tipuri de roci, distribuția spațială a altitudinilor, gradul de fragmentare, orientarea culmilor și a văilor principale, tipuri genetice de relief, alte aspecte specifice ale reliefului.

Nota 2: Punctajul complet va fi acordat numai dacă cele două unități de relief vor fi prezentate comparativ și nu separat. **6 puncte**

E. Precizați două argumente care să justifice afirmația: „Munții Apuseni prezintă o mare diversitate morfostructurală și petrografică”. **4 puncte**

Examenul de bacalaureat 2008
Proba D, E, F
Proba scrisă la Geografie
Europa – România – Uniunea Europeană

- Toate subiectele sunt obligatorii. Se acordă 10 puncte din oficiu.
- Timpul efectiv de lucru este de 3 ore.

SUBIECTUL II**(30 puncte)**

Harta de mai sus se referă la subiectul II A – E. Pe hartă sunt marcate unități și subunități de relief cu litere, râuri cu numere de la 1 la 6 și orașe cu numere de la 7 la 12.

A. Precizați:

- numele unităților de relief marcate, pe hartă, cu literele **B** și **H**;
- numele râului marcat, pe hartă, cu numărul **5**;
- numele orașului marcat, pe hartă, cu numărul **9**.

4 puncte**B. Scrieți, pe foaia de examen, răspunsurile corecte care completează propozițiile de mai jos:**

- Influența climatică resimțită în subunitatea de relief marcată, pe hartă, cu litera **D** este cea ...
- Orașul marcat, pe hartă, cu numărul **11** se numește ...
- Orașul marcat, pe hartă, cu numărul **8** este reședința județului ...

6 puncte**C. Scrieți, pe foaia de examen, litera corespunzătoare răspunsului corect pentru fiecare dintre afirmațiile de mai jos:**

- Trăsătura comună a râurilor marcate, pe hartă, cu numerele **2** și **4** este:
 - au aceeași lungime
 - au izvoarele în aceeași unitate de relief
 - se varsă în Dunăre pe teritoriul României
 - traversează numai unități montane

2 puncte

2. Capitala culturală a Uniunii Europene, pentru anul 2007, a fost ales orașul marcat, pe hartă, cu numărul:

- a. 7 b. 10 c. 11 d. 12 **2 puncte**

3. Pentru subunitatea de relief marcată, pe hartă, cu litera **F** este caracteristică următoarea trăsătură de relief:

- a. are altitudini medii în jur de 500 m b. cuprinde cel mai vechi relief aflat la zi
c. prezintă relief de dune d. s-a format prin depunere de sedimente

2 puncte

4. Dintre unitățile de relief marcate pe hartă, cele mai mari altitudini se regăsesc în cea marcată cu litera:

- a. A b. D c. F d. H **2 puncte**

5. Lacul de baraj artificial Vidraru este amenajat pe râul marcat, pe hartă, cu numărul:

- a. 1 b. 3 c. 4 d. 6 **2 puncte**

D. Precizați o asemănare și două deosebiri între **relieful** unității marcate, pe hartă, cu litera **A** și **relieful** unității marcate, pe hartă, cu litera **D**.

Nota 1: Deosebirile și asemănarea se pot referi la oricare dintre următoarele aspecte ale **reliefului**: mod de formare, tipuri de roci, distribuția spațială a altitudinilor, gradul de fragmentare, orientarea culmilor și văilor principale, tipuri genetice de relief, alte aspecte specifice ale reliefului.

Nota 2: Punctajul complet va fi acordat numai dacă asemănarea și cele două deosebiri vor fi prezentate comparativ și nu separat.

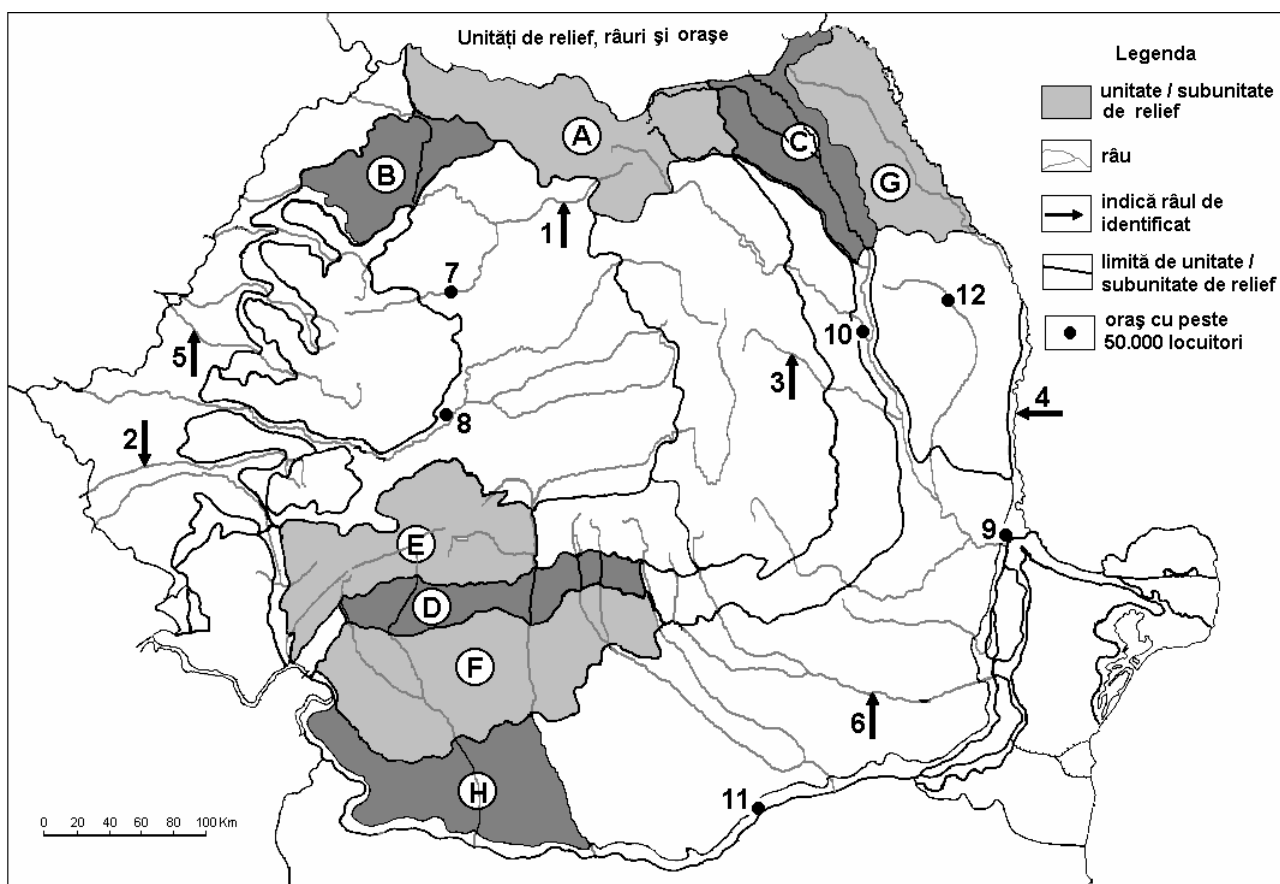
6 puncte

E. Precizați două cauze care să explice cantitatea redusă de precipitații medii anuale ce cad în unitatea de relief marcată, pe hartă, cu litera **F**.

4 puncte

Examenul de bacalaureat 2008
Proba D, E, F
Proba scrisă la Geografie
Europa – România – Uniunea Europeană

- Toate subiectele sunt obligatorii. Se acordă 10 puncte din oficiu.
- Timpul efectiv de lucru este de 3 ore.

SUBIECTUL II**(30 puncte)**

Harta de mai sus se referă la subiectul II A – E. Pe hartă sunt marcate unități și subunități de relief cu litere, râuri cu numere de la 1 la 6 și orașe cu numere de la 7 la 12.

A. Precizați:

1. numele unității de relief marcate, pe hartă, cu litera **D**;
2. numele râurilor marcate, pe hartă, cu numerele **1** și **2**;
3. numele orașului marcat, pe hartă cu numărul **10**.

4 puncte**B. Scrieți, pe foaia de examen, răspunsurile corecte care completează propozițiile de mai jos:**

1. Orașul marcat, pe hartă, cu numărul **12** se numește ...
2. Râul marcat, pe hartă, cu numărul **6** se numește ...
3. Cel mai mare combinat siderurgic din România se află în orașul marcat, pe hartă, cu numărul ...

6 puncte**C. Scrieți, pe foaia de examen, litera corespunzătoare răspunsului corect pentru fiecare dintre afirmațiile de mai jos:**

1. Trăsătura comună reliefului unităților marcate, pe hartă, cu literele **B** și respectiv **D** este:

a. au altitudini asemănătoare	b. fac parte din treapta dealurilor
c. s-au format în același mod	d. sunt bogate în sare

2 puncte

2. Râul marcat, pe hartă, cu numărul **5** se numește:
a. Barcău **b.** Crișul Alb **c.** Crișul Negru **d.** Crișul Repede **2 puncte**
3. Râul marcat, pe hartă, cu numărul **3** se varsă în:
a. Bistrița **b.** Moldova **c.** Prut **d.** Siret **2 puncte**
4. Orașul marcat, pe hartă, cu numărul **8** datează din perioada:
a. actuală **b.** antică **c.** evului mediu **d.** modernă **2 puncte**
5. Orașele marcate, pe hartă, cu numerele **7** și **11** au ca trăsătură comună:
a. influența climatică resimțită **b.** numărul de locuitori
c. perioada de apariție **d.** sunt reședințe de județ **2 puncte**

D. Precizați două asemănări și o deosebire între **clima** unității de relief marcată, pe hartă, cu litera **A** și **clima** unității de relief marcată, pe hartă, cu litera **E**.

Nota 1: Deosebirea și asemănările se pot referi la oricare dintre următoarele elemente de **climă**: temperaturi medii anuale, precipitații medii anuale, vânturi, influență climatică, etaj climatic.

Nota 2: Punctajul complet va fi acordat numai dacă asemănările și deosebirea vor fi prezentate comparativ și nu separat.

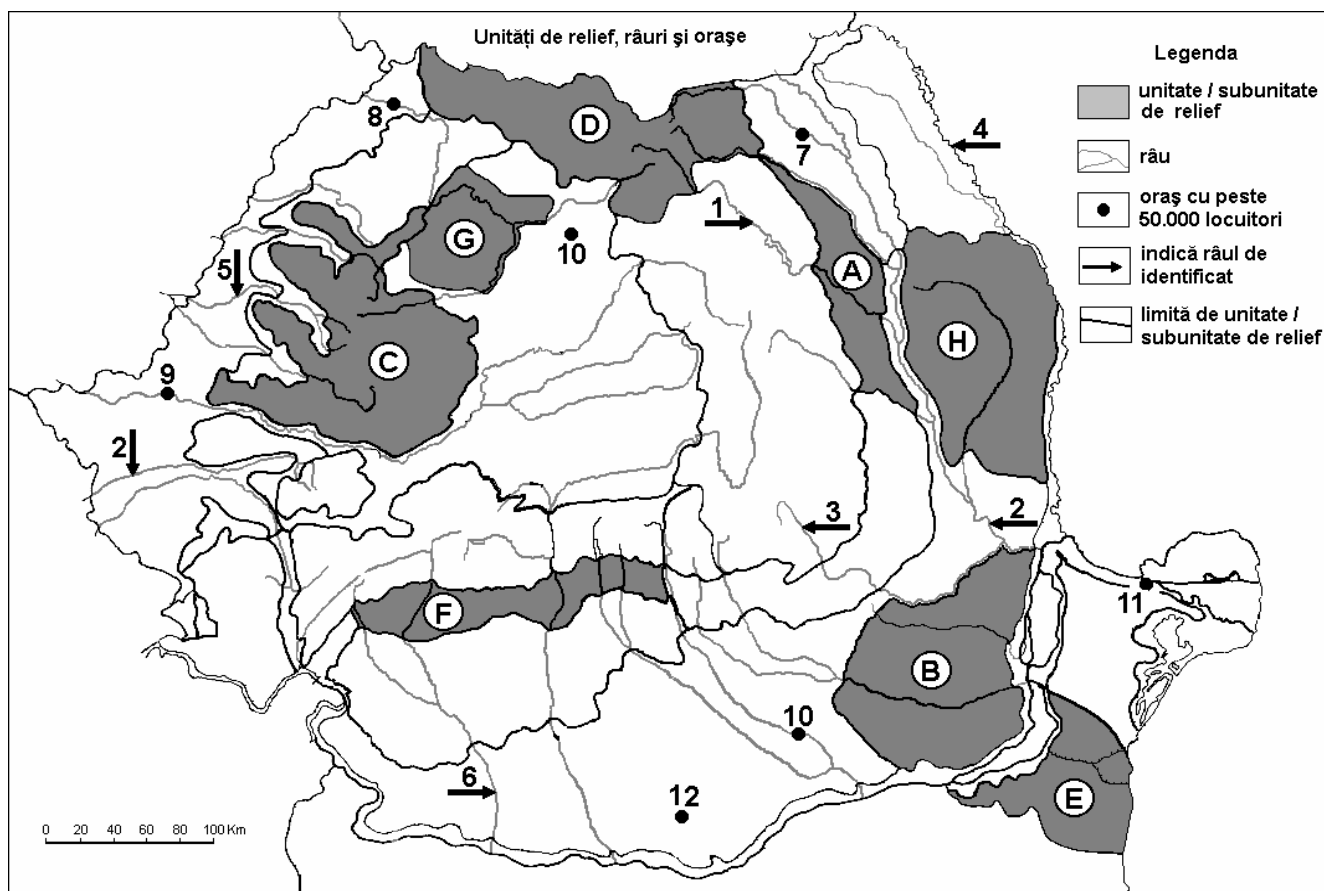
6 puncte

E. Se dă următoarea situație – problemă: Râul marcat, pe hartă, cu numărul **6** are o lungime de 400 km, asemănătoare cu a Someșului (390 km), însă debitul său, în cursul inferior, este doar de 45 m³/s, față de cel al Someșului, care este de 121 m³/s. Precizați două cauze care să explice debitul scăzut al râului, marcat pe hartă cu numărul **6**.

4 puncte

Examenul de bacalaureat 2008
Proba D, E, F
Proba scrisă la Geografie
Europa – România – Uniunea Europeană

- Toate subiectele sunt obligatorii. Se acordă 10 puncte din oficiu.
- Timpul efectiv de lucru este de 3 ore.

SUBIECTUL II**(30 puncte)**

Harta de mai sus se referă la subiectul II A – E. Pe hartă sunt marcate unități și subunități de relief cu litere, râuri cu numere de la 1 la 6 și orașe cu numere de la 7 la 12.

A. Precizați:

1. numele subunității de relief marcată, pe hartă, cu litera **G**;
2. numele râurilor marcate, pe hartă, cu numerele **1** și **5**;
3. numele orașului marcat, pe hartă, cu numărul **12**.

4 puncte**B. Scrieți, pe foaia de examen, răspunsurile corecte care completează propozițiile de mai jos:**

1. Râul marcat, pe hartă, cu numărul **3** se numește ...
2. Orașul marcat, pe hartă, cu numărul **7** se numește ...
3. Cel mai extins bazin hidrografic, dintre râurile marcate pe hartă, îl prezintă cel marcat cu numărul ...

6 puncte**C. Scrieți, pe foaia de examen, litera corespunzătoare răspunsului corect pentru fiecare dintre afirmațiile de mai jos:**

1. Influența climatică resimțită în unitatea de relief marcată, pe hartă, cu litera **F** este cea:

a. baltică	b. oceanică	c. pontică	d. submediteraneană
-------------------	--------------------	-------------------	----------------------------

2 puncte
2. Se află localizat în bazinul hidrografic al Someșului orașul marcat, pe hartă, cu numărul:

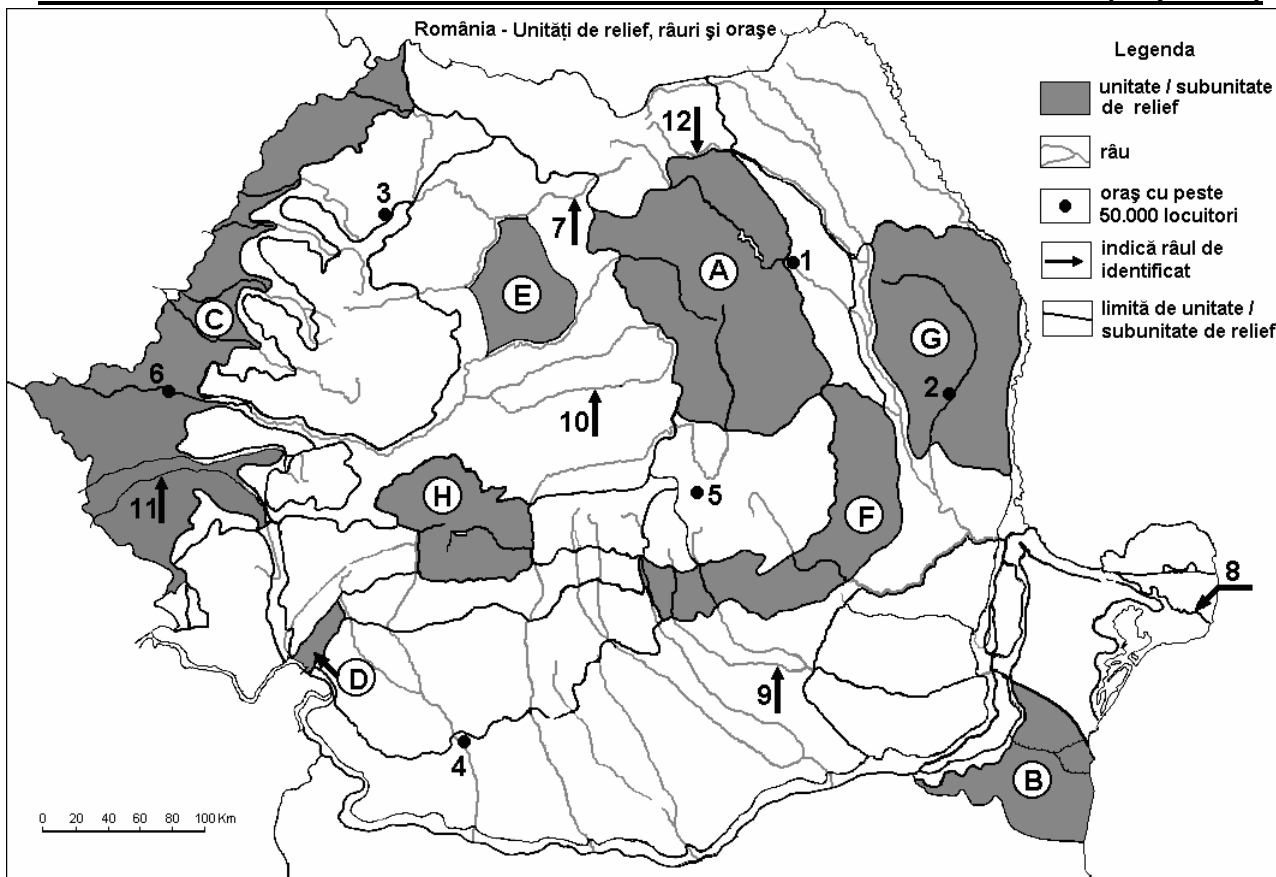
a. 7	b. 9	c. 10	d. 12
-------------	-------------	--------------	--------------

2 puncte

3. Trăsătura comună subunităților marcate, pe hartă, cu literele **E** și **H** este cea referitoare la:
- a. altitudinile maxime asemănătoare
 - b. cantitatea de precipitații medii anuale cuprinsă între 1.000 – 1.200 mm/an
 - c. formarea prin depunere de sedimente
 - d. influența climatică pontică **2 puncte**
4. Orașul marcat, pe hartă, cu numărul **9** se numește:
- a. Arad
 - b. Caransebeș
 - c. Ordea
 - d. Timișoara **2 puncte**
5. Trăsătura comună unității marcată, pe hartă, cu litera **A** și a subunității marcată cu litera **B** se referă la:
- a. altitudinile similare
 - b. aspectul reliefului
 - c. influența climatică est-europeană
 - d. modul de formare **2 puncte**
- D.** Precizați trei deosebiri între **relieful** unității marcate, pe hartă, cu litera **C** și **relieful** unității marcate cu litera **D**.
- Nota 1:** Deosebirile se pot referi la oricare dintre următoarele aspecte ale **reliefului**: mod de formare, tipuri de roci, distribuția spațială a altitudinilor, gradul de fragmentare, orientarea culmilor și a văilor principale, tipuri genetice de relief, alte aspecte specifice ale reliefului.
- Nota 2:** Punctajul complet va fi acordat numai dacă cele trei deosebiri vor fi prezentate comparativ și nu separat. **6 puncte**
- E.** Prezentați patru exemple pentru a demonstra că orașul marcat, pe hartă, cu numărul **11** are funcții complexe. **4 puncte**

Examenul de bacalaureat 2008
Proba D, E, F
Proba scrisă la Geografie
Europa – România – Uniunea Europeană

- Toate subiectele sunt obligatorii. Se acordă 10 puncte din oficiu.
- Timpul efectiv de lucru este de 3 ore.

SUBIECTUL II**(30 puncte)**

Harta de mai sus se referă la subiectul II A – D. Pe hartă sunt marcate unități de relief cu litere, orașe cu numere de la 1 la 6 și râuri cu numere de la 7 la 12.

A. Precizați:

- numele unităților de relief marcate, pe hartă, cu literele H și C;
- numele râurilor marcate, pe hartă, cu numerele 9 și 11.

4 puncte**B. Scrieți, pe foaia de examen, răspunsurile corecte care completează propozițiile de mai jos:**

- Unitatea de relief marcată, pe hartă, cu litera F se numește ...
- Structura geologică cu domuri este tipică pentru unitatea de relief marcată, pe hartă, cu litera ...
- Relieful vulcanic este prezent în unitatea de relief marcată, pe hartă, cu litera ...

6 puncte**C. Scrieți, pe foaia de examen, litera corespunzătoare răspunsului corect pentru fiecare dintre afirmațiile de mai jos:**

- Cu numărul 8 este marcat, pe hartă, brațul Dunării numit:

a. Chilia	b. Sf. Gheorghe	c. Sulina	d. Tulcea	2 puncte
-----------	-----------------	-----------	-----------	-----------------
- Orașul marcat, pe hartă, cu numărul 1 se numește:

a. Bârlad	b. Piatra Neamț	c. Vaslui	d. Zalău	2 puncte
-----------	-----------------	-----------	----------	-----------------
- Orașul marcat, pe hartă, cu numărul 4 se numește:

a. Craiova	b. Pitești	c. Slatina	d. Târgu Jiu	2 puncte
------------	------------	------------	--------------	-----------------

4. Influențe climatice submediteraneene pătrund în unitatea de relief marcată, pe hartă, cu litera:
a. A b. D c. E d. F 2 puncte
5. Orașul marcat, pe hartă, cu numărul **3** este reședința județului:
a. Bihor b. Covasna c. Dâmbovița d. Sălaj 2 puncte

D. Precizați trei deosebiri între **relieful** unității marcate, pe hartă, cu litera **D** și **relieful** unității marcate, pe hartă, cu litera **G**.

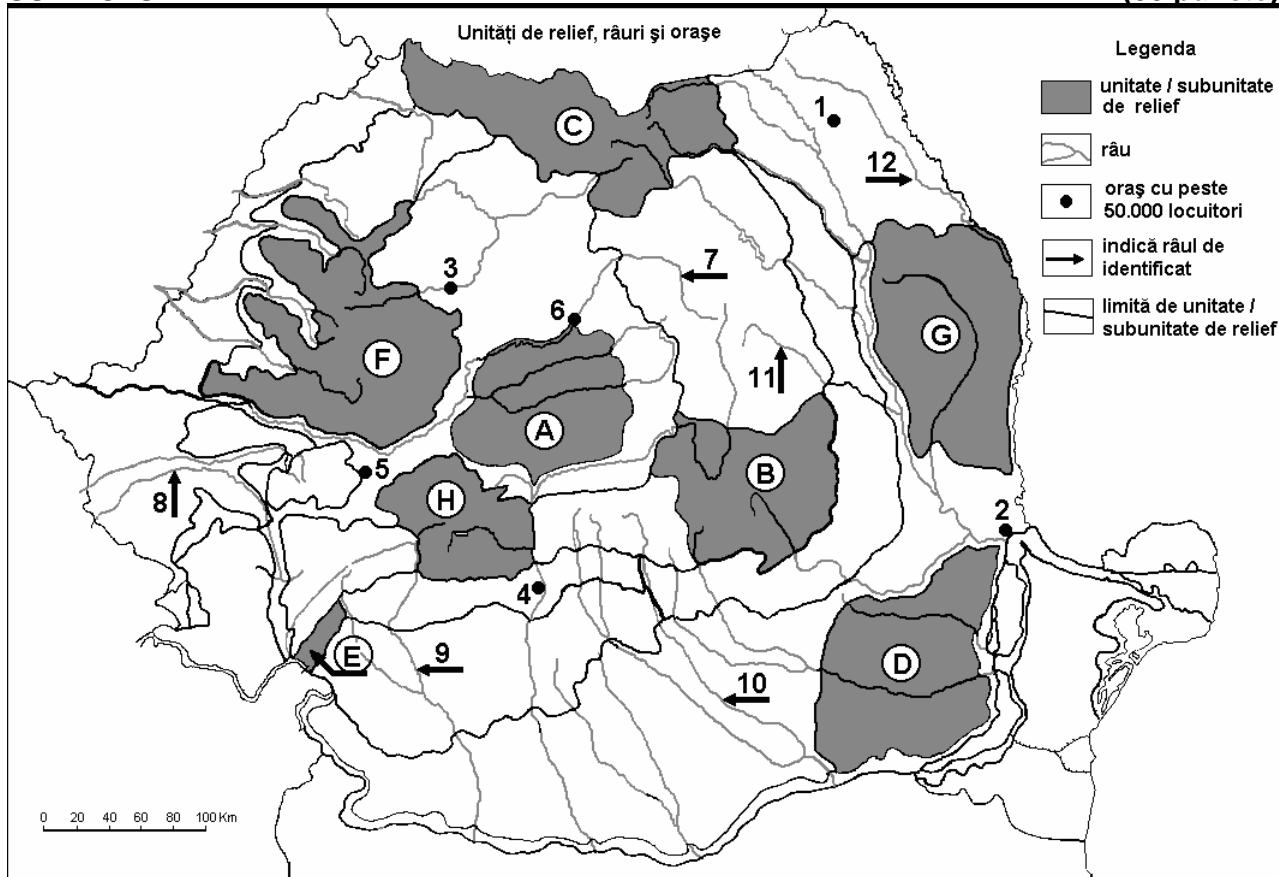
Nota 1: Deosebirile se pot referi la oricare dintre următoarele aspecte ale **reliefului**: mod de formare, tipuri de roci, distribuția spațială a altitudinilor, gradul de fragmentare, orientarea culmilor și a văilor principale, tipuri genetice de relief, alte aspecte specifice ale reliefului.

Nota 2: Punctajul complet va fi acordat numai dacă cele trei deosebiri vor fi prezentate comparativ și nu separat. **6 puncte**

E. Prezentați două argumente privind complexitatea geologică și geomorfologică a Podișului Dobrogei de Sud. **4 puncte**

Examenul de bacalaureat 2008
Proba D, E, F
Proba scrisă la Geografie
Europa – România – Uniunea Europeană

- Toate subiectele sunt obligatorii. Se acordă 10 puncte din oficiu.
- Timpul efectiv de lucru este de 3 ore.

SUBIECTUL II**(30 puncte)**

Harta de mai sus se referă la subiectul II A – D. Pe hartă sunt marcate unități de relief cu litere, orașe cu numere de la 1 la 6 și râuri cu numere de la 7 la 12.

A. Precizați:

- numele unităților de relief marcate, pe hartă, cu literele **A** și **E**;
- numele orașelor marcate, pe hartă, cu numerele **3** și **5**.

4 puncte**B. Scrieți, pe foaia de examen, răspunsurile corecte care completează propozițiile de mai jos:**

- Orașul marcat, pe hartă, cu numărul **6** se numește ...
- Râul marcat, pe hartă, cu numărul **8** se numește ...
- Depozite de loess există în unitatea de relief marcată, pe hartă, cu litera ...

6 puncte**C. Scrieți, pe foaia de examen, litera corespunzătoare răspunsului corect pentru fiecare dintre afirmațiile de mai jos:**

- Influențe climatice submediteraneene se resimt în unitatea de relief marcată, pe hartă, cu litera:

a. B	b. C	c. E	d. F	2 puncte
------	------	------	------	-----------------
- Orașul marcat, pe hartă, cu numărul **2** se numește:

a. Brăila	b. Buzău	c. Focșani	d. Galați	2 puncte
-----------	----------	------------	-----------	-----------------
- Magistrala feroviară București – Oradea trece și prin orașul marcat, pe hartă, cu numărul:

a. 1	b. 2	c. 3	d. 5	2 puncte
------	------	------	------	-----------------

4. Orașul marcat, pe hartă, cu numărul **4** este reședința județului:
a. Botoșani **b.** Cluj **c.** Hunedoara **d.** Vâlcea **2 puncte**
5. Relief glaciar s-a format în unitatea de relief marcată, pe hartă, cu litera:
a. B **b.** F **c.** G **d.** H **2 puncte**

D. Precizați două asemănări și o deosebire între **relieful** unității marcate, pe hartă, cu litera **C** și **relieful** unității marcate, pe hartă, cu litera **H**.

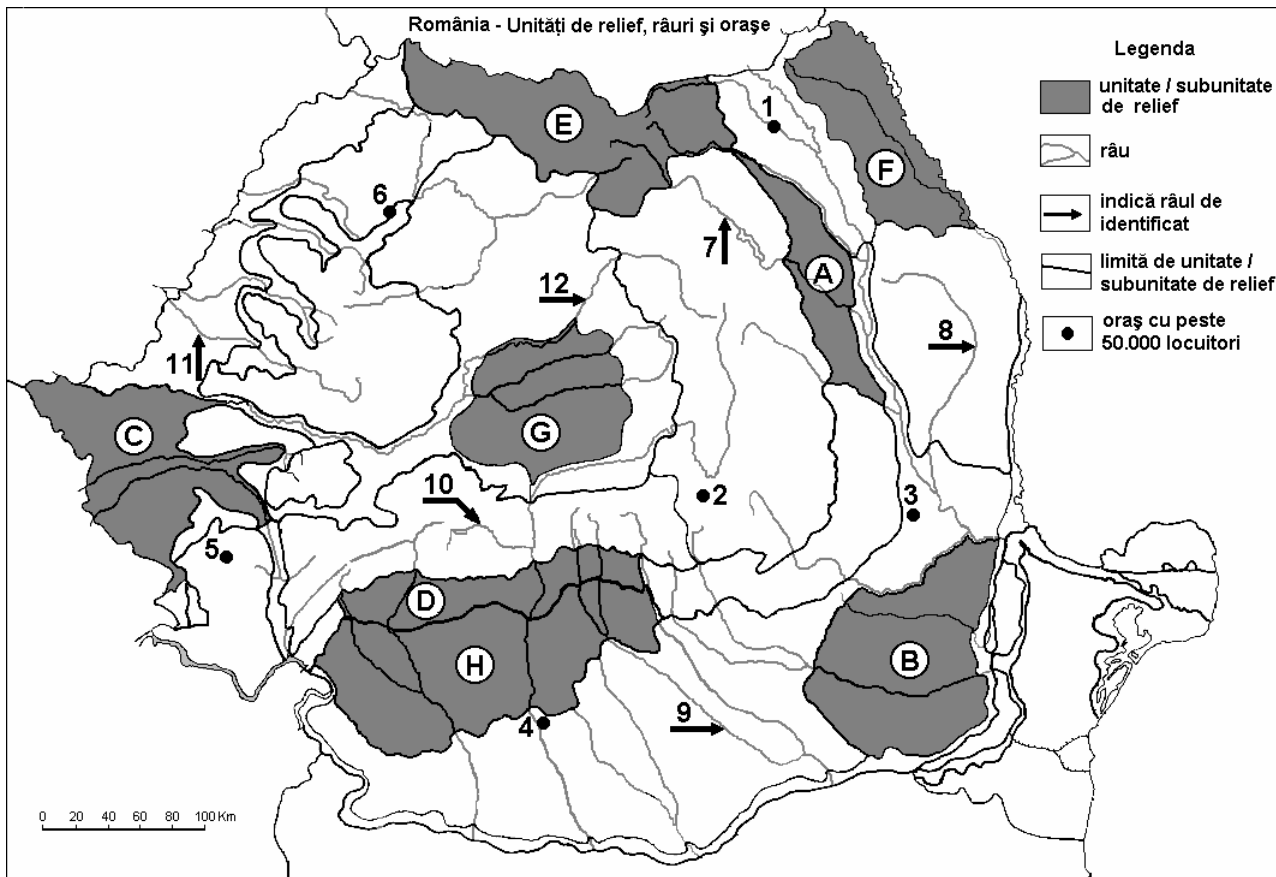
Nota 1: Asemănările și deosebirea se pot referi la oricare dintre următoarele aspecte ale **reliefului**: mod de formare, tipuri de roci, distribuția spațială a altitudinilor, gradul de fragmentare, orientarea culmilor și văilor principale, tipuri genetice de relief, alte aspecte specifice ale reliefului.

Nota 2: Punctajul complet va fi acordat numai dacă asemănările și deosebirea vor fi prezentate comparativ și nu separat. **6 puncte**

- E.** 1. Precizați o cauză a lipsei pădurilor în zona alpină.
2. Precizați o cauză a lipsei pădurilor în Bărăgan. **4 puncte**

Examenul de bacalaureat 2008
Proba D, E, F
Proba scrisă la Geografie
Europa – România – Uniunea Europeană

- Toate subiectele sunt obligatorii. Se acordă 10 puncte din oficiu.
- Timpul efectiv de lucru este de 3 ore.

SUBIECTUL II**(30 puncte)**

Harta de mai sus se referă la subiectul II A – D. Pe hartă sunt marcate unități de relief cu litere, orașe cu numere de la 1 la 6 și râuri cu numere de la 7 la 12.

A. Precizați:

- numele unităților de relief marcate, pe hartă, cu literele **B** și **H**;
- numele râurilor marcate, pe hartă, cu numerele **7** și **12**.

4 puncte**B. Scrieți, pe foaia de examen, răspunsurile corecte care completează propozițiile de mai jos:**

- Orașul marcat, pe hartă, cu numărul **2** se numește ...
- Râul marcat, pe hartă, cu numărul **11** se numește ...
- Lacuri de crov se formează în unitatea de relief marcată, pe hartă, cu litera ...

6 puncte**C. Scrieți, pe foaia de examen, litera corespunzătoare răspunsului corect pentru fiecare dintre afirmațiile de mai jos:**

- Orașul marcat, pe hartă, cu numărul **6** este reședința județului:

a. Bihor	b. Cluj	c. Sălaj	d. Vrancea	2 puncte
----------	---------	----------	------------	-----------------
- Orașul marcat, pe hartă, cu numărul **4** se numește:

a. Craiova	b. Pitești	c. Râmnicu Vâlcea	d. Slatina	2 puncte
------------	------------	-------------------	------------	-----------------
- Hidrocentrala Lotru – Ciunget este amenajată pe râul marcat, pe hartă, cu numărul:

a. 7	b. 8	c. 9	d. 10	2 puncte
------	------	------	-------	-----------------

4. Importante zăcăminte de sare există în unitatea de relief marcată, pe hartă, cu litera:
a. B b. C c. D d. F 2 puncte
5. Satele mari, de tip adunat, sunt specifice unității de relief marcată, pe hartă, cu litera:
a. A b. B c. D d. E 2 puncte

D. Precizați două asemănări și o deosebire între **relieful** unității marcate, pe hartă, cu litera **A** și **relieful** unității marcate, pe hartă, cu litera **D**.

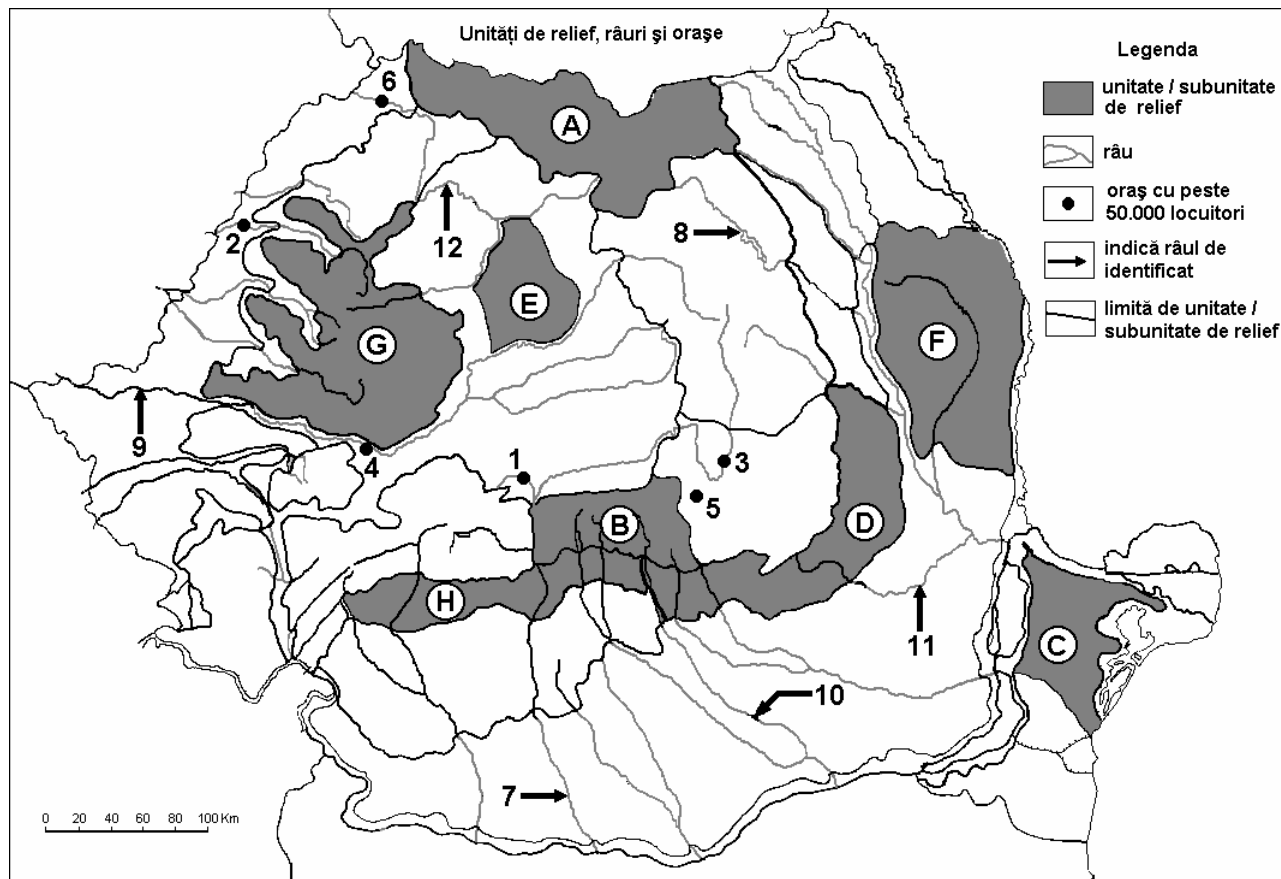
Nota 1: Asemănările și deosebirea se pot referi la oricare dintre următoarele aspecte ale **reliefului**: mod de formare, tipuri de roci, distribuția spațială a altitudinilor, gradul de fragmentare, orientarea culmilor și văilor principale, tipuri genetice de relief, alte aspecte specifice ale reliefului.

Nota 2: Punctajul complet va fi acordat numai dacă asemănările și deosebirea vor fi prezentate comparativ și nu separat. **6 puncte**

E. Explicați varietatea influențelor climatice de pe teritoriul țării noastre. **4 puncte**

Examenul de bacalaureat 2008
Proba D, E, F
Proba scrisă la GEOGRAFIE
Europa–România–Uniunea Europeană

- Toate subiectele sunt obligatorii. Se acordă 10 puncte din oficiu.
- Timpul efectiv de lucru este de 3 ore.

SUBIECTUL II**(30 puncte)**

Harta de mai sus se referă la subiectul II A – C. Pe hartă sunt marcate unități de relief cu litere, orașe cu numere de la 1 la 6 și râuri cu numere de la 7 la 12.

A. Precizați:

- numele unităților de relief marcate, pe hartă, cu literele **A** și **D**;
- numele râurilor marcate, pe hartă, cu numerele **7** și **9**.

4 puncte**B. Scrieți, pe foaia de examen, răspunsurile corecte care completează propozițiile de mai jos:**

- Unitatea de relief marcată, pe hartă, cu litera **B** s-a format în orogeneza ...
- În unitatea de relief marcată, pe hartă, cu litera **F** pătrund influențe climatice ...
- Orașul marcat, pe hartă, cu numărul **1** se numește ...

6 puncte**C. Scrieți, pe foaia de examen, litera corespunzătoare răspunsului corect pentru fiecare dintre afirmațiile de mai jos:**

- Șisturile verzi intră în alcătuirea geologică a unității de relief marcată, pe hartă, cu litera:

a. C	b. E	c. F	d. G	2 puncte
------	------	------	------	-----------------
- Magistrala feroviară București - Oradea trece prin orașele marcate, pe hartă, cu numerele:

a. 1 și 4	b. 2 și 5	c. 3 și 6	d. 4 și 5	2 puncte
-----------	-----------	-----------	-----------	-----------------
- Râul marcat, pe hartă, cu numărul **10** se numește:

a. Argeș	b. Dâmbovița	c. Ialomița	d. Olt	2 puncte
----------	--------------	-------------	--------	-----------------

4. Râul marcat, pe hartă, cu numărul 8:

- a. este afluentul Troțușului
- c. străbate orașul Bârlad

- b. este amenajat hidroenergetic
- d. izvorăște din Grupa Centrală a Carpaților Oriental

2 puncte

5. Petrol și sare se exploatează din subsolul unității de relief marcată, pe hartă, cu litera:

a. B

b. E

c. F

d. H

2 puncte

D. Precizați două deosebiri și o asemănare între **relieful** Grupei Făgăraș și **relieful** Grupei Centrale a Carpaților Orientali (Carpații Moldo - Transilvani).

Nota 1: Deosebirile și asemănarea se pot referi la oricare dintre următoarele aspecte ale **reliefului**: mod de formare, tipuri de roci pe care s-a format relieful, altitudini, fragmentare, tipuri de relief.

Nota 2: Punctajul complet va fi acordat numai dacă cele două deosebiri și asemănarea vor fi prezentate comparativ și nu separat.

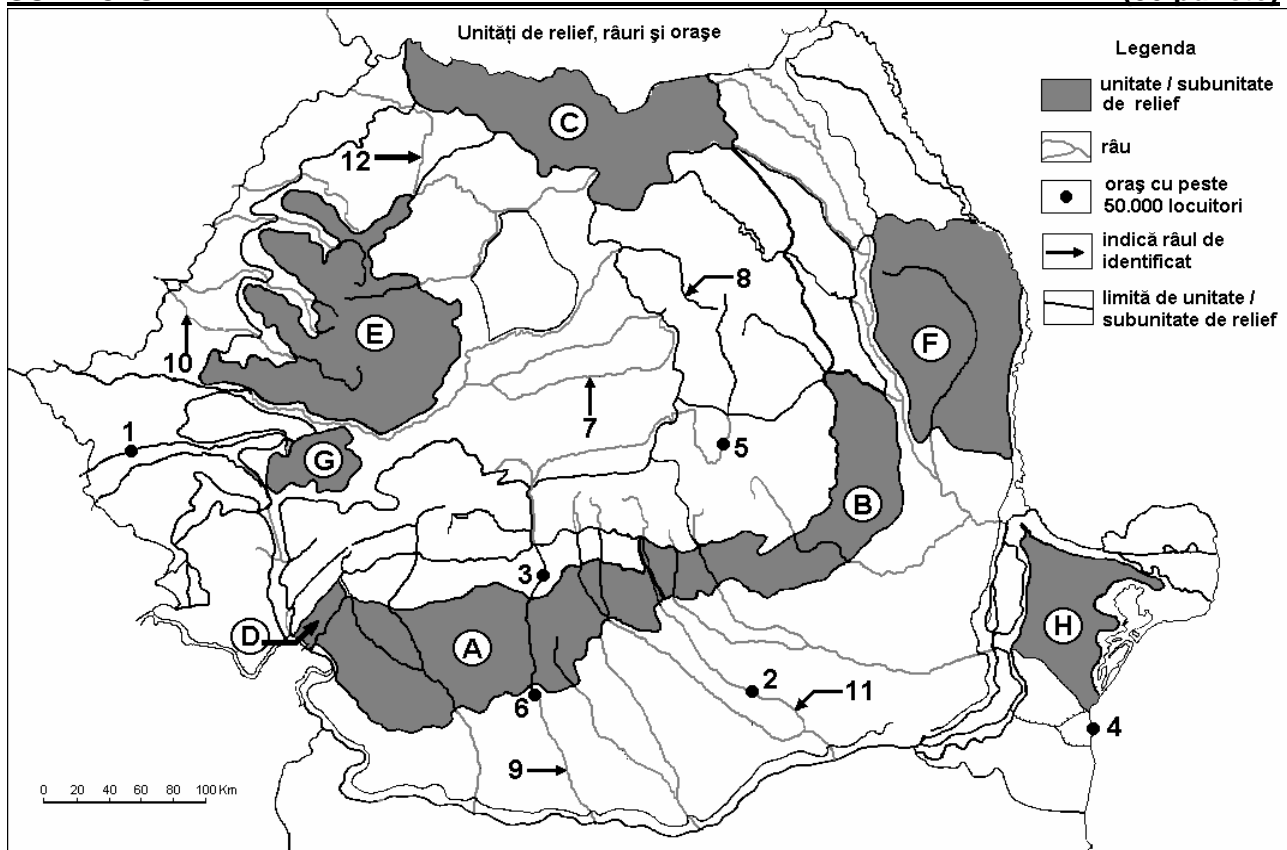
6 puncte

E. Prezentați doi factori de favorabilitate în dezvoltarea orașului Brașov ca oraș turistic.

4 puncte

Examenul de bacalaureat 2008
Proba D, E, F
Proba scrisă la GEOGRAFIE
Europa–România–Uniunea Europeană

- Toate subiectele sunt obligatorii. Se acordă 10 puncte din oficiu.
- Timpul efectiv de lucru este de 3 ore.

SUBIECTUL II**(30 puncte)**

Harta de mai sus se referă la subiectul II A – C. Pe hartă sunt marcate unități de relief cu litere, orașe cu numere de la 1 la 6 și râuri cu numere de la 7 la 12.

A. Precizați:

- numele unităților de relief marcate, pe hartă, cu literele **A** și **F**;
- numele orașelor marcate, pe hartă, cu numerele **2** și **4**.

4 puncte**B. Scrieți, pe foaia de examen, răspunsurile corecte care completează propozițiile de mai jos:**

- Unitatea de relief marcată, pe hartă, cu litera **D** se numește ...
- Unitatea de relief marcată, pe hartă, cu litera **B** s-a format prin ...
- Orașul marcat, pe hartă, cu numărul **1** se numește ...

6 puncte**C. Scrieți, pe foaia de examen, litera corespunzătoare răspunsului corect pentru fiecare dintre afirmațiile de mai jos:**

- Orașele marcate, pe hartă, cu numerele **3** și **5** sunt străbătute de râul numit:

a. Argeș	b. Dâmbovița	c. Ialomița	d. Olt	2 puncte
----------	--------------	-------------	--------	-----------------
- Bauxita este exploatată din unitatea de relief marcată, pe hartă, cu litera:

a. C	b. E	c. G	d. H	2 puncte
------	------	------	------	-----------------
- Râul marcat, pe hartă, cu numărul **9** desparte grupele montane:

a. Bucegi și Făgăraș	b. Bucegi și Parâng	2 puncte
c. Făgăraș și Parâng	d. Parâng și Retezat-Godeanu	

4. Orașul Alba - Iulia este traversat de râul marcat, pe hartă, cu numărul:
a. 6 **b. 8** **c. 9** **d. 10** **2 puncte**
5. Influențele oceanice sunt specifice unității de relief marcate, pe hartă, cu litera:
a. A **b. B** **c. E** **d. F** **2 puncte**

D. Precizați două deosebiri și o asemănare între **relieful** Subcarpaților Curburii și **relieful** Podișului Mehedinți.

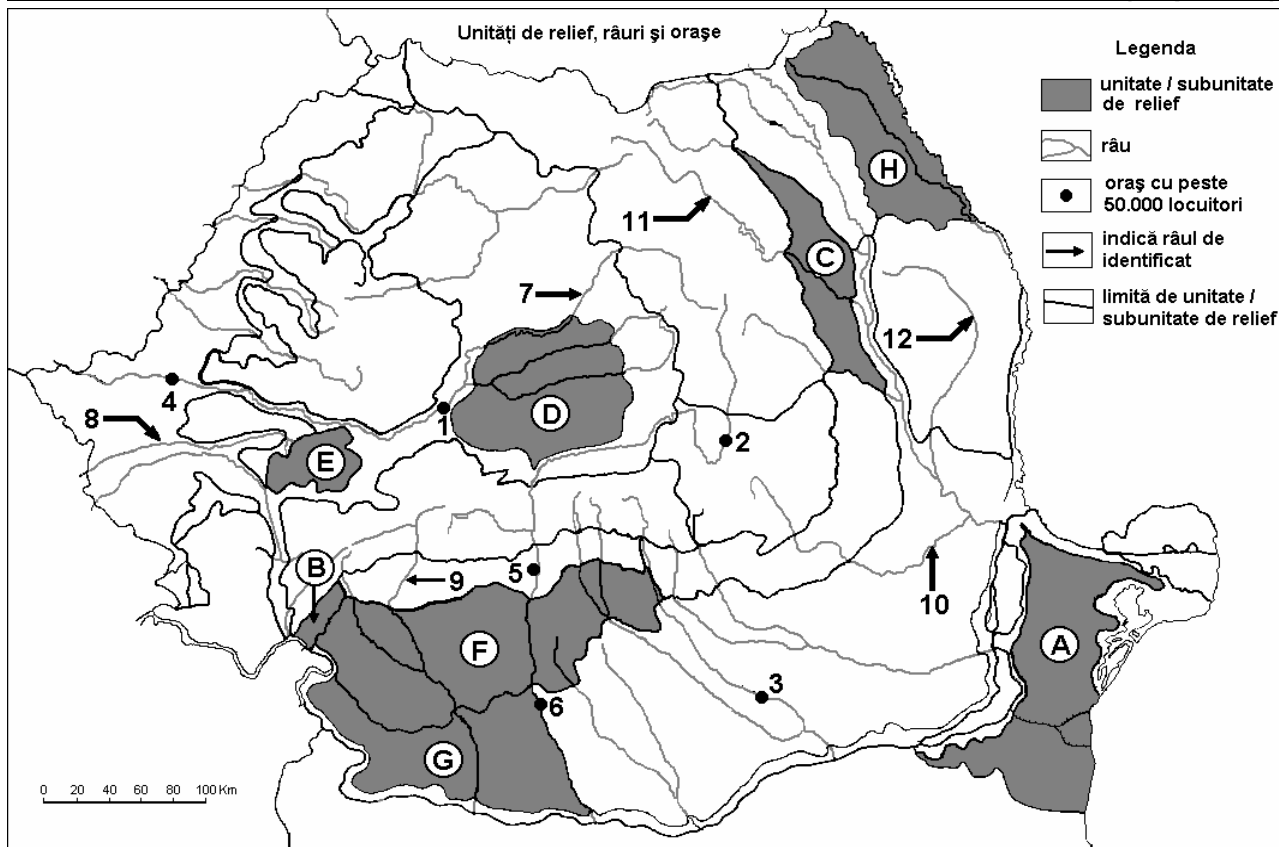
Nota 1: Deosebirile și asemănarea se pot referi la oricare dintre următoarele aspecte ale **reliefului**: mod de formare, tipuri de roci, distribuția spațială a altitudinilor, gradul de fragmentare, orientarea culmilor și văilor principale, tipuri genetice de relief, alte aspecte specifice ale reliefului.

Nota 2: Punctajul complet va fi acordat numai dacă cele două deosebiri și asemănarea vor fi prezentate comparativ și nu separat. **6 puncte**

E. Prezentați două argumente pentru a demonstra faptul că relieful României este variat. **4 puncte**

Examenul de bacalaureat 2008
Proba D, E, F
Proba scrisă la GEOGRAFIE
Europa–România–Uniunea Europeană

- Toate subiectele sunt obligatorii. Se acordă 10 puncte din oficiu.
- Timpul efectiv de lucru este de 3 ore.

SUBIECTUL II**(30 puncte)**

Harta de mai sus se referă la subiectul II A - C. Pe hartă sunt marcate unități de relief cu litere, orașe cu numere de la 1 la 6 și râuri cu numere de la 7 la 12.

A. Precizați:

- numele unităților de relief marcate, pe hartă, cu literele **D** și **F**;
- numele râurilor marcate, pe hartă, cu numerele **7** și **9**.

4 puncte**B. Scrieți, pe foaia de examen, răspunsurile corecte care completează propozițiile de mai jos:**

- Orașul marcat, pe hartă, cu numărul **3** se numește ...
- Cel mai important oraș pe care îl traversează râul marcat, pe hartă, cu numărul **8** se numește ...
- Unitatea de relief marcată, pe hartă, cu litera **B** se numește ...

6 puncte**C. Scrieți, pe foaia de examen, litera corespunzătoare răspunsului corect pentru fiecare dintre afirmațiile de mai jos:**

- Sunt traversate de râul Mureș orașele marcate, pe hartă, cu numerele:

a. 1 și 4	b. 1 și 5	c. 2 și 4	d. 2 și 5	2 puncte
-----------	-----------	-----------	-----------	-----------------
- Pe hartă, cu numărul **10** este marcat râul numit:

a. Bistrița	b. Buzău	c. Ialomița	d. Trotuș	2 puncte
-------------	----------	-------------	-----------	-----------------
- Domurile gazeifere sunt prezente în unitatea de relief marcată, pe hartă, cu litera:

a. A	b. C	c. D	d. E	2 puncte
------	------	------	------	-----------------
- Temperaturi medii anuale mai mari de 11°C sunt specifice unității marcate, pe hartă, cu litera:

a. D	b. E	c. G	d. H	2 puncte
------	------	------	------	-----------------

5. Aluminiul se produce în orașul marcat, pe hartă, cu numărul:

a. 1

b. 3

c. 5

d. 6

2 puncte

D. Precizați două deosebiri și o asemănare între **clima** Câmpiei de Vest și **clima** Câmpiei Române.

Nota 1: Deosebirile și asemănarea se pot referi la oricare dintre următoarele elemente de **climă**: temperaturi medii anuale, precipitații medii anuale, vânturi, influență climatică, etaj climatic.

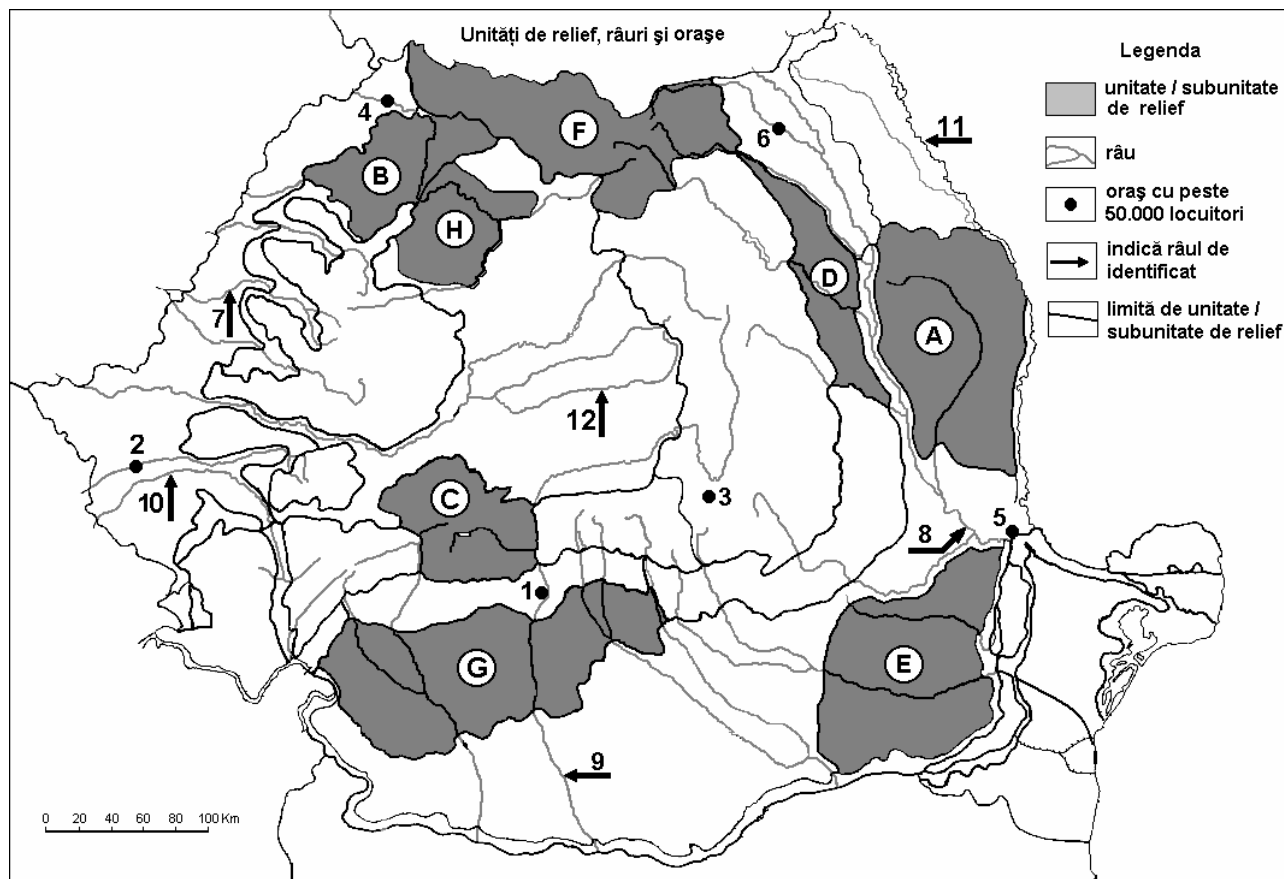
Nota 2: Punctajul complet va fi acordat numai dacă cele două deosebiri și asemănarea vor fi prezentate comparativ și nu separat. **6 puncte**

E. Prezentați două cauze care explică diversitatea tipurilor genetice de lacuri din România.

4 puncte

Examenul de bacalaureat 2008
Proba D, E, F
Proba scrisă la Geografie
Europa – România – Uniunea Europeană

- Toate subiectele sunt obligatorii. Se acordă 10 puncte din oficiu.
- Timpul efectiv de lucru este de 3 ore.

SUBIECTUL II**(30 puncte)**

Harta de mai sus se referă la subiectul II A - D. Pe hartă sunt marcate unități de relief cu litere, orașe cu numere de la 1 la 6 și râuri cu numere de la 7 la 12.

A. Precizați:

- numele unităților de relief marcate, pe hartă, cu literele **D** și **H**;
- numele râurilor marcate, pe hartă, cu numerele **9** și **11**.

4 puncte**B. Scrieți, pe foaia de examen, răspunsurile corecte care completează propozițiile de mai jos:**

- Râul care traversează orașul marcat, pe hartă, cu numărul **6** se numește ...
- Bazinul carbonifer Motru - Rovinari este situat în unitatea de relief marcată, pe hartă, cu litera ...
- Influențe scandinavo-baltice se resimt în unitatea de relief marcată, pe hartă, cu litera ...

6 puncte**C. Scrieți, pe foaia de examen, litera corespunzătoare răspunsului corect pentru fiecare dintre afirmațiile de mai jos:**

- Relieful glaciatic este specific unității de relief marcate, pe hartă, cu litera:

a. B	b. C	c. G	d. H	2 puncte
------	------	------	------	-----------------
- Depresiunea Beiuș este străbătută de râul marcat, pe hartă, cu numărul:

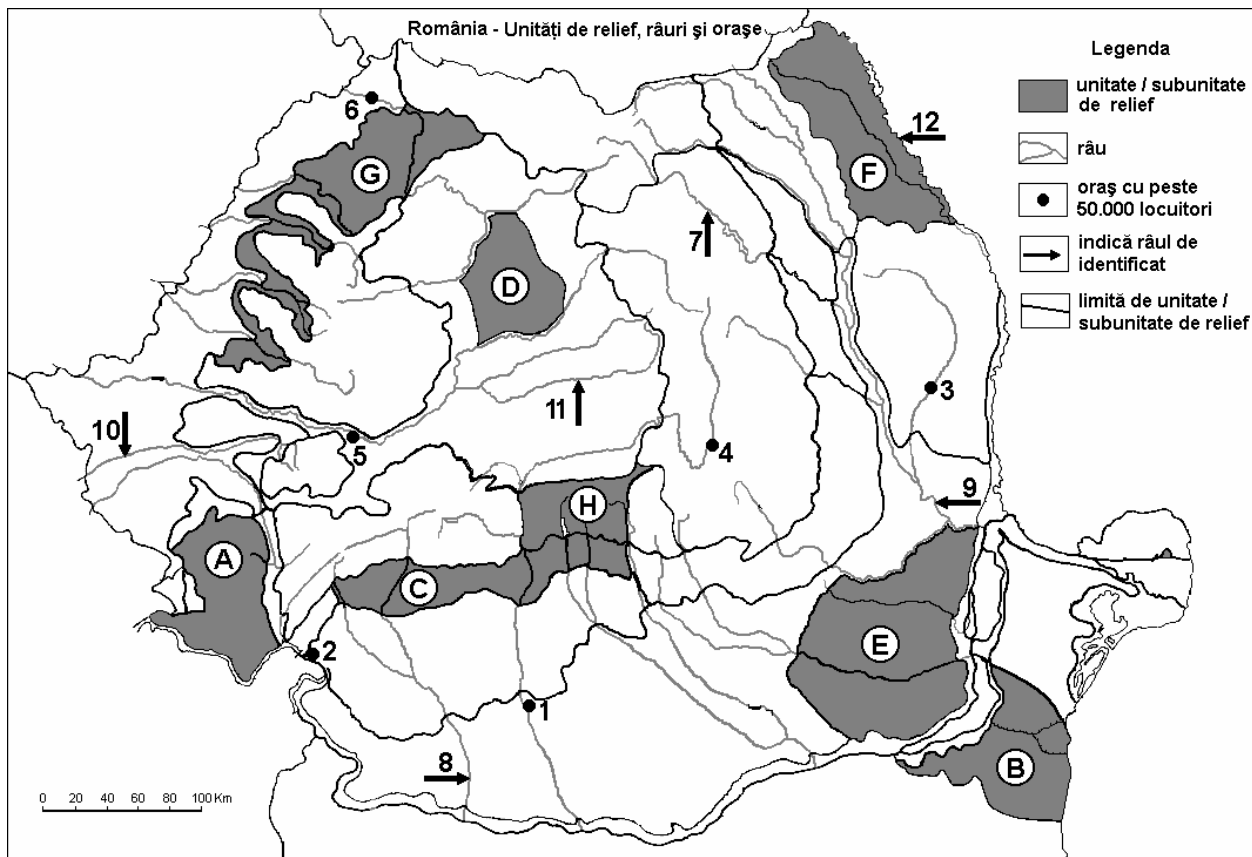
a. 7	b. 9	c. 10	d. 12	2 puncte
------	------	-------	-------	-----------------
- Orașul marcat, pe hartă, cu numărul **2** se numește:

a. Arad	b. Reșița	c. Slatina	d. Timișoara	2 puncte
---------	-----------	------------	--------------	-----------------

4. Cel mai mare combinat siderurgic este situat în orașul marcat, pe hartă, cu numărul:
a. 1 b. 3 c. 5 d. 6 2 puncte
5. Orașul marcat, pe hartă, cu numărul **4** este traversat de râul numit:
a. Barcău b. Crișul Ab c. Iza d. Someș 2 puncte
- D.** Precizați două deosebiri și o asemănare între **clima** unității marcate, pe hartă, cu litera **A** și **clima** unității marcate, pe hartă, cu litera **D**.
Nota 1: Deosebirile și asemănarea se pot referi la oricare dintre următoarele elemente de **climă**: temperaturi medii anuale, precipitații medii anuale, vânturi, influență climatică, etaj climatic.
Nota 2: Punctajul complet va fi acordat numai dacă cele două deosebiri și asemănarea vor fi prezentate comparativ și nu separat. **6 puncte**
- E.** 1. Precizați o cauză care să explice diferența de temperatură între sudul și nordul țării, la aceleași altitudini.
2. Precizați o cauză care să explice diferența dintre cantitatea de precipitații medii anuale între vestul și estul țării. **4 puncte**

Examenul de bacalaureat 2008
Proba D, E, F
Proba scrisă la Geografie
Europa – România – Uniunea Europeană

- Toate subiectele sunt obligatorii. Se acordă 10 puncte din oficiu.
- Timpul efectiv de lucru este de 3 ore.

SUBIECTUL II**(30 puncte)**

Harta de mai sus se referă la subiectul II A – D. Pe hartă sunt marcate unități de relief cu litere, orașe cu numere de la 1 la 6 și râuri cu numere de la 7 la 12.

A. Precizați:

- numele unităților de relief marcate, pe hartă, cu literele **E** și **H**;
- numele orașelor marcate, pe hartă, cu numerele **1** și **5**.

4 puncte**B. Scrieți, pe foaia de examen, răspunsurile corecte care completează propozițiile de mai jos:**

- Relieful glaciara este prezent în unitatea marcată, pe hartă, cu litera ...
- Gazul metan se exploatează din unitatea marcată, pe hartă, cu litera ...
- Râul marcat, pe hartă, cu numărul **7** se numește ...

6 puncte**C. Scrieți, pe foaia de examen, litera corespunzătoare răspunsului corect pentru fiecare dintre afirmațiile de mai jos:**

- Râul marcat, pe hartă, cu numărul **10** traversează orașul numit:

a. Arad b. Deva c. Reșița d. Timișoara

2 puncte

- Unitatea marcată, pe hartă, cu litera **H** este delimitată la vest de râul numit:

a. Argeș b. Dâmbovița c. Jiu d. Olt

2 puncte

- Influențe climatice pontice pătrund în unitatea marcată, pe hartă, cu litera:

a. A b. B c. C d. E

2 puncte

4. Orașul marcat, pe hartă, cu numărul **2** se numește:

a. Drobeta - Turnu Severin **b.** Orșova **c.** Reșița **d.** Slatina **2 puncte**

5. Pe râul marcat, pe hartă, cu numărul **7** s-a format lacul de acumulare numit:

a. Bucura **b.** Izvorul Muntelui **c.** Sfânta Ana **d.** Vidraru **2 puncte**

D. Precizați trei deosebiri între **clima** unității marcate, pe hartă, cu litera **C** și **clima** unității marcate, pe hartă, cu litera **F**.

Nota 1: Deosebirile se pot referi la oricare dintre următoarele aspecte ale **climei**: temperaturi medii anuale, precipitații medii anuale, vânturi, influență climatică, etaj climatic.

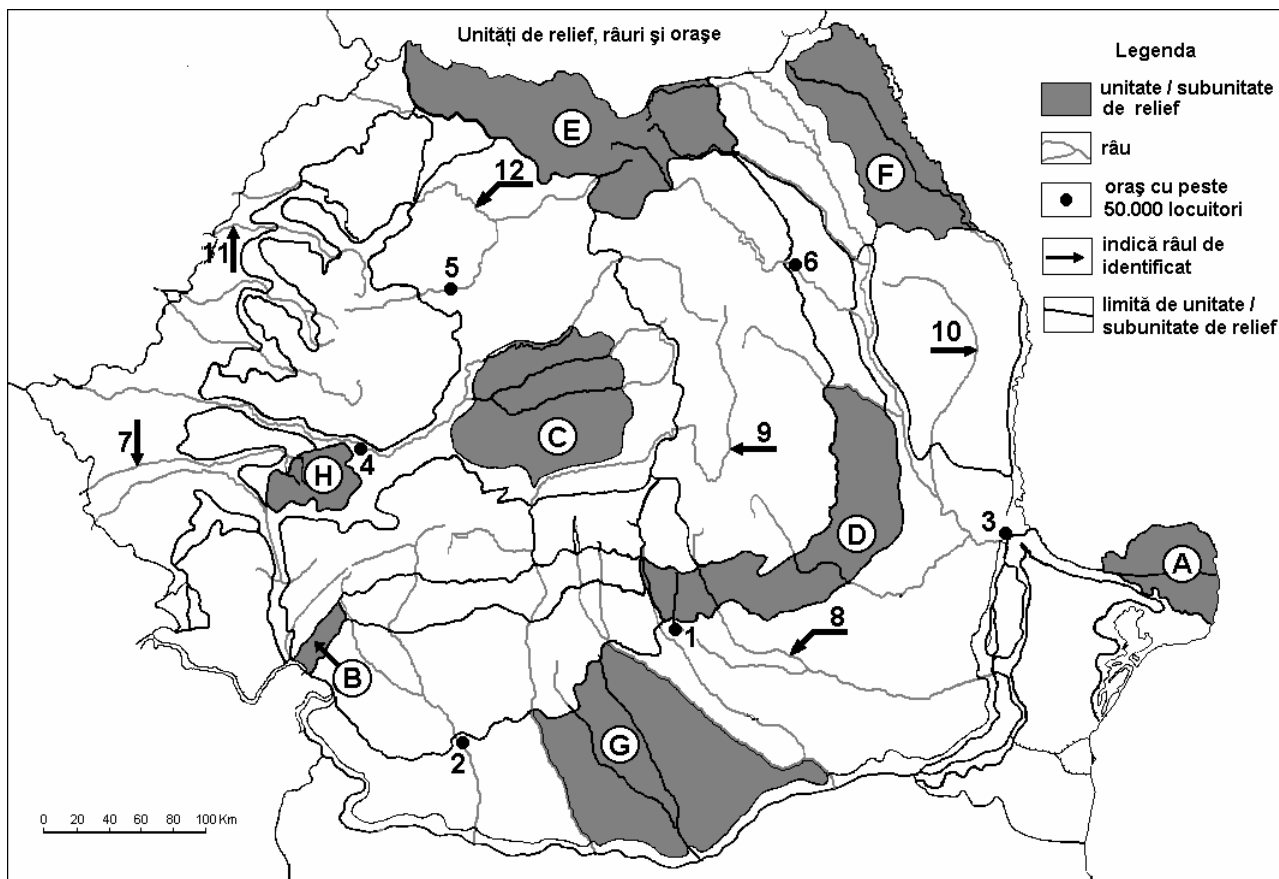
Nota 2: Punctajul complet va fi acordat numai dacă cele trei deosebiri vor fi prezentate comparativ și nu separat. **6 puncte**

E. Prezentați două cauze care determină repartiția inegală a populației pe teritoriul țării noastre.

4 puncte

Examenul de bacalaureat 2008
Proba D, E, F
Proba scrisă la Geografie
Europa – România – Uniunea Europeană

- Toate subiectele sunt obligatorii. Se acordă 10 puncte din oficiu.
- Timpul efectiv de lucru este de 3 ore.

SUBIECTUL II**(30 puncte)**

Harta de mai sus se referă la subiectul II A– D. Pe hartă sunt marcate unități de relief cu litere, orașe cu numere de la 1 la 6 și râuri cu numere de la 7 la 12.

A. Precizați:

- numele unităților de relief marcate, pe hartă, cu literele **B** și **C**;
- numele orașelor marcate, pe hartă, cu numerele **2** și **5**.

4 puncte**B. Scrieți, pe foaia de examen, răspunsurile corecte care completează propozițiile de mai jos:**

- Unitatea de relief marcată, pe hartă, cu litera **B** se numește ...
- Orașul marcat, pe hartă, cu numărul **1** se numește ...
- Influența climatică pontică se face simțită în unitatea de relief marcată, pe hartă, cu litera ...

6 puncte**C. Scrieți, pe foaia de examen, litera corespunzătoare răspunsului corect pentru fiecare dintre afirmațiile de mai jos:**

- Relieful vulcanic este prezent în unitatea de relief marcată, pe hartă, cu litera:

a. B b. C c. D d. E **2 puncte**

- Areale viticole importante există în unitatea de relief marcată, pe hartă, cu litera:

a. A b. B c. D d. H **2 puncte**

- Numeroase iazuri se găsesc în unitatea de relief marcată, pe hartă, cu litera:

a. A b. D c. F d. G **2 puncte**

4. Râul marcat, pe hartă, cu numărul **7** traversează orașul:

a. Arad

b. Deva

c. Reșița

d. Timișoara **2 puncte**

5. Minereu de fier se exploatează din unitatea de relief marcată, pe hartă, cu litera:

a. B

b. C

c. D

d. H **2 puncte**

D. Precizați două deosebiri și o asemănare între **clima** unității marcate pe hartă, cu litera **D** și **clima** unității marcate, pe hartă, cu litera **F**.

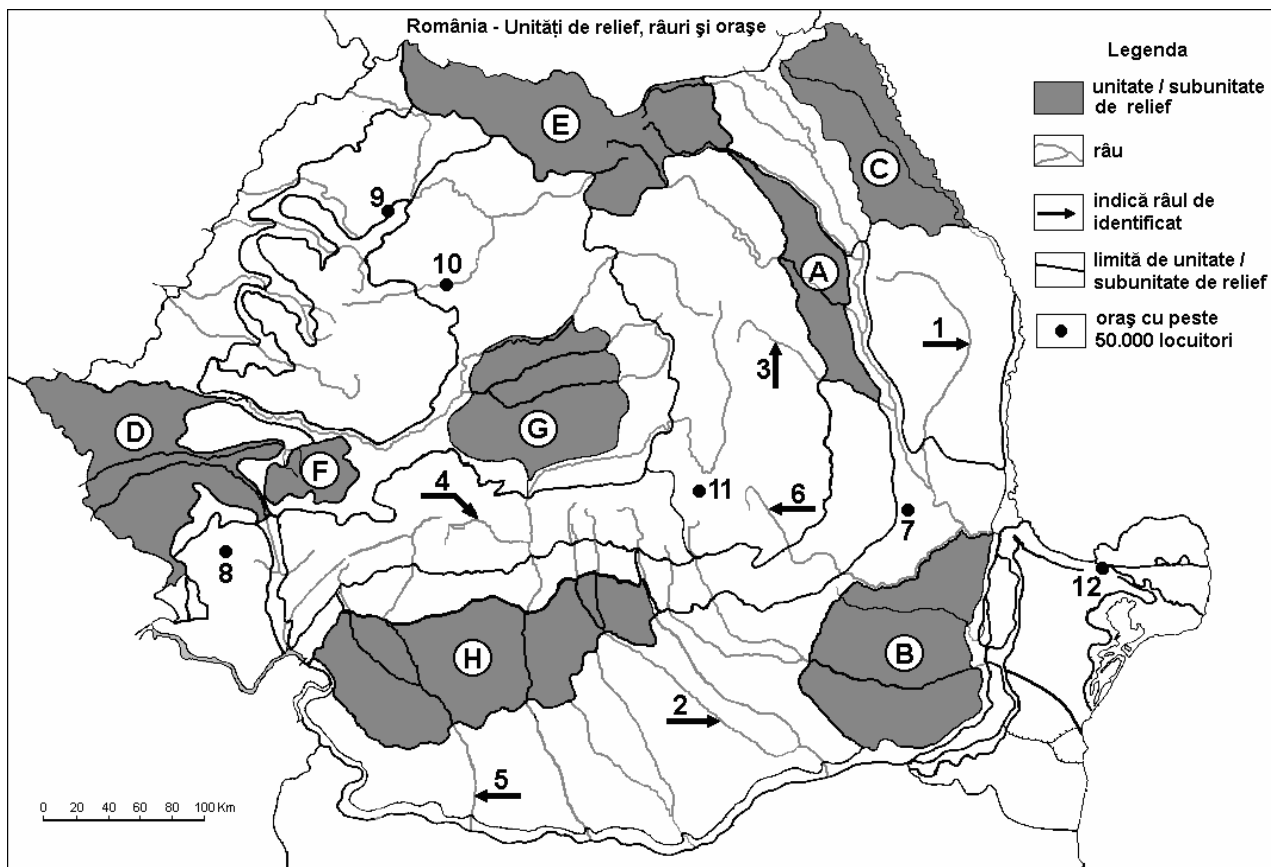
Nota 1: Deosebirile și asemănarea se pot referi la oricare dintre următoarele elemente de **climă**: temperaturi medii anuale, precipitații medii anuale, vânturi, influență climatică, etaj climatic.

Nota 2: Punctajul complet va fi acordat numai dacă deosebirile și asemănarea vor fi prezentate comparativ și nu separat. **6 puncte**

E. Prezentați două cauze ale prezenței terenurilor degradate în spațiul subcarpatic și în Depresiunea Colinară a Transilvaniei. **4 puncte**

Examenul de bacalaureat 2008
Proba D, E, F
Proba scrisă la GEOGRAFIE
Europa–România–Uniunea Europeană

- Toate subiectele sunt obligatorii. Se acordă 10 puncte din oficiu.
- Timpul efectiv de lucru este de 3 ore.

SUBIECTUL II**(30 puncte)**

Harta de mai sus se referă la subiectul II A – D. Pe hartă sunt marcate unități sau subunități de relief cu litere, râuri cu numere de la 1 la 6 și orașe de la 7 la 12.

A. Precizați:

- numele unităților sau al subunităților de relief marcate, pe hartă, cu literele **A** și **H**;
- numele orașelor marcate, pe hartă, cu numerele **7** și **10**.

4 puncte

B. Scrieți, pe foaia de examen, răspunsurile corecte care completează propozițiile de mai jos:

- Orașul marcat, pe hartă, cu numărul **12** se numește....
- Importante resurse de minereu de fier există în subsolul unității de relief marcată, pe hartă, cu litera...
- Orașul Timișoara este situat în unitatea de relief marcată, pe hartă, cu litera....

6 puncte

C. Scrieți, pe foaia de examen, litera corespunzătoare răspunsului corect pentru fiecare dintre afirmațiile de mai jos:

- Relief vulcanic există în unitatea marcată, pe hartă, cu litera:

a. A	b. E	c. F	d. G	2 puncte
------	------	------	------	-----------------
- Orașul marcat, pe hartă, cu numărul **9** este reședința județului:

a. Bihor	b. Călărași	c. Cluj	d. Sălaj	2 puncte
----------	-------------	---------	----------	-----------------
- Depozite de loess există în unitatea de relief marcată, pe hartă, cu litera:

a. A	b. B	c. F	d. G	2 puncte
------	------	------	------	-----------------

4. Zăcăminte de petrol există în unitățile de relief marcate, pe hartă, cu literele:
a. A și G **b.** A și H **c.** C și G **d.** F și H **2 puncte**
5. Un important centru al industriei siderurgice este în orașul marcat, pe hartă, cu numărul:
a. 8 **b.** 9 **c.** 11 **d.** 12 **2 puncte**

D. Precizați două deosebiri și o asemănare între **clima** unității de relief marcată, pe hartă cu litera **A** și **clima** unității de relief marcată, pe hartă cu litera **B**.

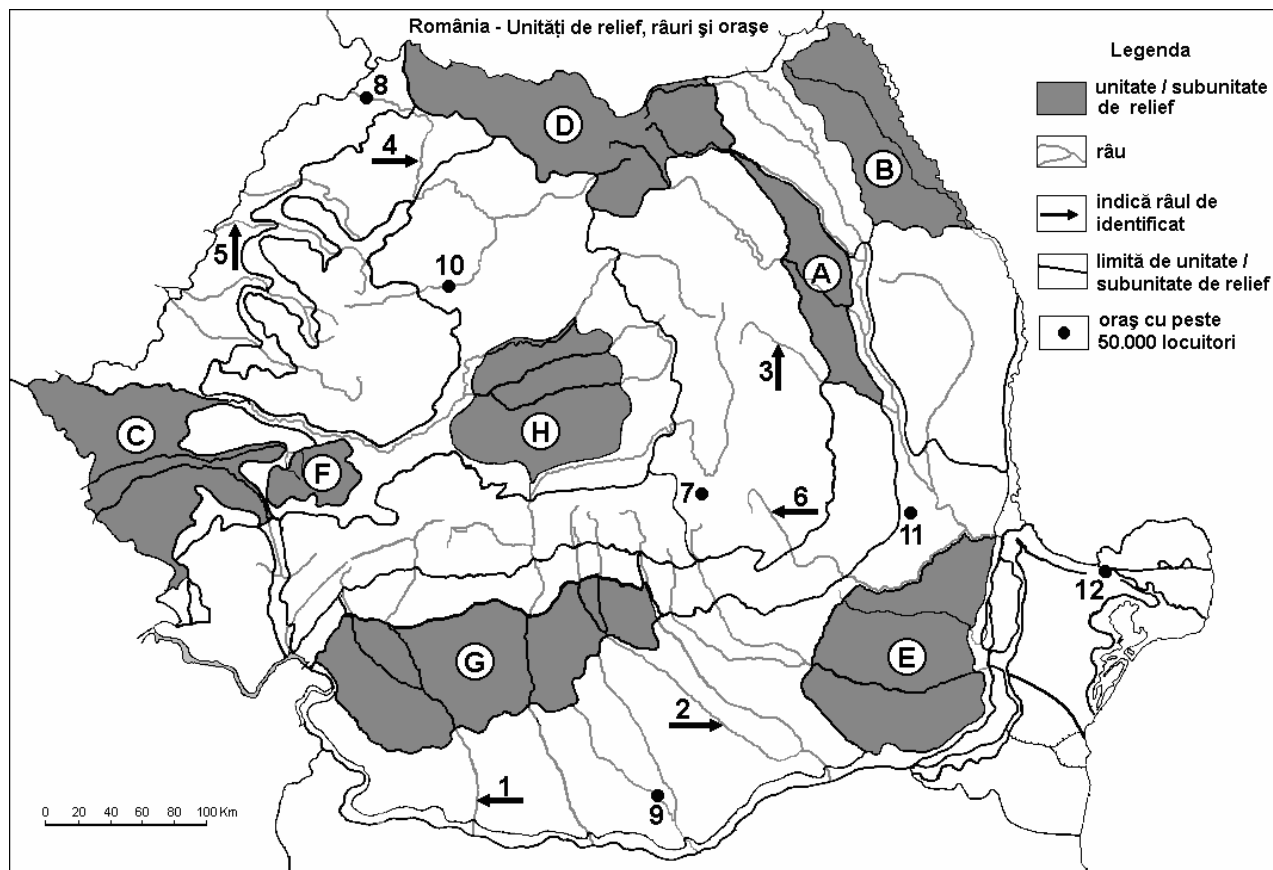
Nota 1: Deosebirile și asemănarea se pot referi la oricare dintre următoarele elemente de **climă**: temperaturi medii anuale, precipitații medii anuale, vânturi, influență climatică, etaj climatic.

Nota 2: Punctajul complet va fi acordat numai dacă asemănarea și deosebirile vor fi prezentate comparativ și nu separat. **6 puncte**

E. Precizați doi factori care determină fertilitatea scăzută a solurilor în Munții Carpați. **4 puncte**

Examenul de bacalaureat 2008
Proba D, E, F
Proba scrisă la GEOGRAFIE
Europa–România–Uniunea Europeană

- Toate subiectele sunt obligatorii. Se acordă 10 puncte din oficiu.
- Timpul efectiv de lucru este de 3 ore.

SUBIECTUL II**(30 puncte)**

Harta de mai sus se referă la subiectul II A – D. Pe hartă sunt marcate unități de relief (sau subunități ale acestora) cu litere, râuri cu numere de la 1 la 6 și orașe de la 7 la 12.

A. Precizați:

- numele unităților sau al subunităților de relief marcate, pe hartă, cu literele **F** și **G**;
- numele orașelor marcate, pe hartă, cu numerele **8** și **12**.

4 puncte**B. Scrieți, pe foaia de examen, răspunsurile corecte care completează propozițiile de mai jos:**

- Râul marcat, pe hartă, cu numărul **5** traversează orașul reședință de județ numit...
- Râul marcat pe hartă cu numărul **1** se numește ...
- Orașul marcat, pe hartă, cu numărul **9** este reședința județului...

6 puncte**C. Scrieți, pe foaia de examen, litera corespunzătoare răspunsului corect pentru fiecare dintre afirmațiile de mai jos:**

- Structuri geologice cu formă de dom există în unitatea de relief marcată, pe hartă, cu litera:

a. A b. B c. C d. H **2 puncte**

- Orașul marcat, pe hartă, cu numărul **11** se numește:

a. Arad b. Bacău c. Buzău d. Focșani **2 puncte**

- Depozite de loess există în unitatea de relief marcată, pe hartă, cu litera:

a. A b. E c. F d. H **2 puncte**

4. Zăcăminte de hidrocarburi se extrag din subsolul unităților de relief marcate, pe hartă, cu literele:
a. A și B **b.** A și G **c.** B și H **d.** E și F **2 puncte**
5. Râul marcat pe hartă cu numărul **3** este afluent al:
a. Siretului **b.** Sucevei **c.** Timișului **d.** Troțușului **2 puncte**

D. Precizați trei deosebiri între **clima** unității de relief marcată, pe hartă cu litera **D** și **clima** unității de relief marcată, pe hartă cu litera **H**.

Nota 1: Deosebirile se pot referi la oricare dintre următoarele elemente de **climă**: temperaturi medii anuale, precipitații medii anuale, vânturi, influență climatică, etaj climatic.

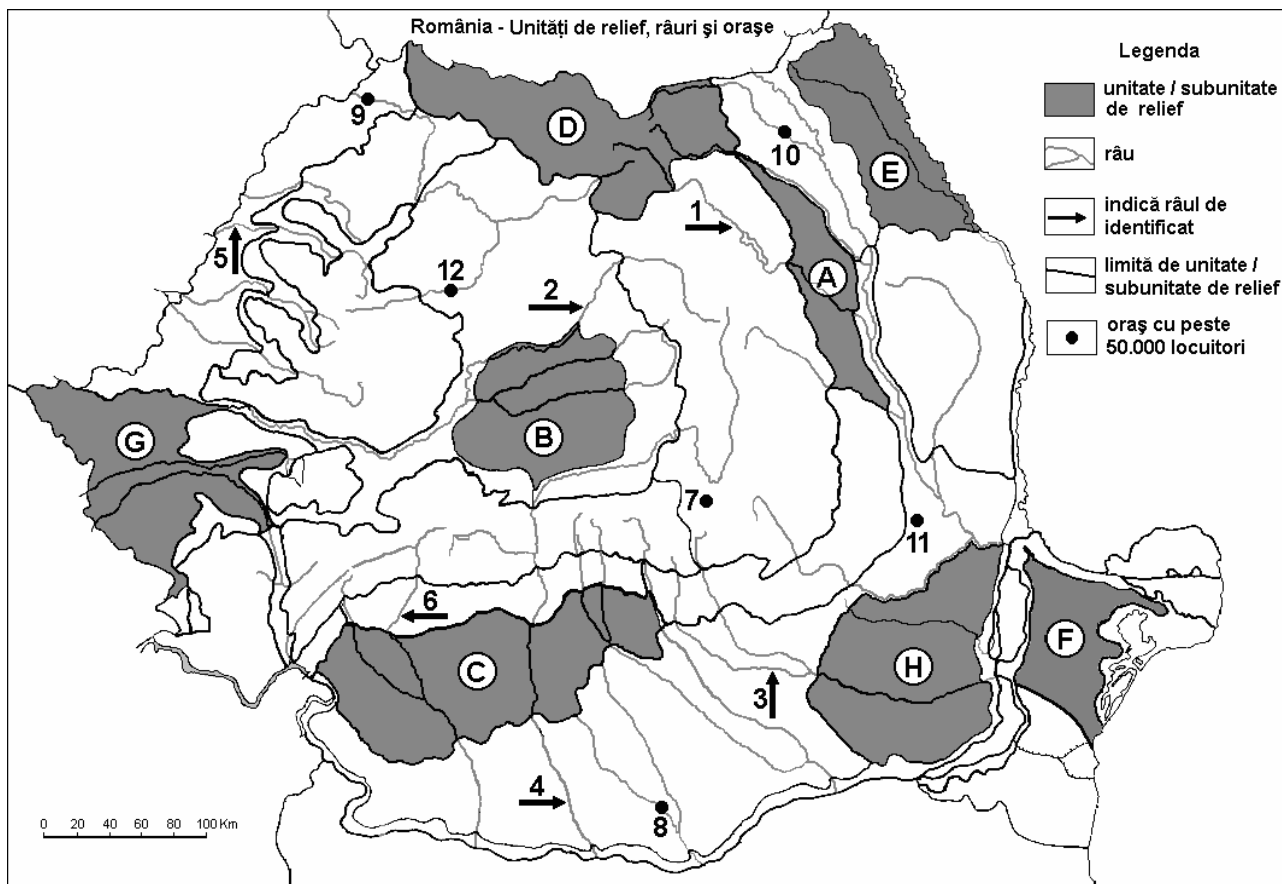
Nota 2: Punctajul complet va fi acordat numai dacă deosebirile vor fi prezentate comparativ și nu separat. **6 puncte**

E. Precizați două cauze care au determinat construirea unui combinat siderurgic la Reșița.

4 puncte

Examenul de bacalaureat 2008
Proba D, E, F
Proba scrisă la GEOGRAFIE
Europa–România–Uniunea Europeană

- Toate subiectele sunt obligatorii. Se acordă 10 puncte din oficiu.
- Timpul efectiv de lucru este de 3 ore.

SUBIECTUL II**(30 puncte)**

Harta de mai sus se referă la subiectul II A – D. Pe hartă sunt marcate unități de relief (sau subunități ale acestora) cu litere, râuri cu numere de la 1 la 6 și orașe de la 7 la 12.

A. Precizați:

- numele unităților sau al subunităților de relief marcate, pe hartă, cu literele **B** și **E**;
- numele orașelor marcate, pe hartă, cu numerele **8** și **10**.

4 puncte**B. Scrieți, pe foaia de examen, răspunsurile corecte care completează propozițiile de mai jos:**

- Râul marcat, pe hartă, cu numărul **5** traversează reședința județului numit...
- Râul marcat pe hartă cu numărul **1** este afluent al râului numit...
- Orașul marcat, pe hartă, cu numărul **11** este reședința județului numit...

6 puncte**C. Scrieți, pe foaia de examen, litera corespunzătoare răspunsului corect pentru fiecare dintre afirmațiile de mai jos:**

- Relief glaciar există în unitatea de relief marcată, pe hartă, cu litera:

a. A b. B c. D d. F **2 puncte**

- Orașul marcat, pe hartă, cu numărul **12** se numește:

a. Alba Iulia b. Cluj-Napoca c. Deva d. Zalău **2 puncte**

- Lacul de acumulare Izvorul Muntelui a fost amenajat pe râul marcat, pe hartă, cu numărul:

a. 1 b. 2 c. 3 d. 4 **2 puncte**

4. Magistrala feroviară București - Oradea trece și prin orașele marcate, pe hartă, cu numerele:
a. 7 și 9 **b.** 7 și 10 **c.** 7 și 12 **d.** 8 și 10 **2 puncte**
5. Relief format în timpul orogenezei hercinice, există în unitatea marcată, pe hartă, cu litera:
a. D **b.** F **c.** G **d.** H **2 puncte**

D. Precizați două deosebiri și o asemănare între **clima** unității de relief marcată, pe hartă cu litera **A** și **clima** unității de relief marcată, pe hartă cu litera **F**.

Nota 1: Deosebirile și asemănarea se pot referi la oricare dintre următoarele elemente de **climă**: temperaturi medii anuale, precipitații medii anuale, vânturi, influență climatică, etaj climatic.

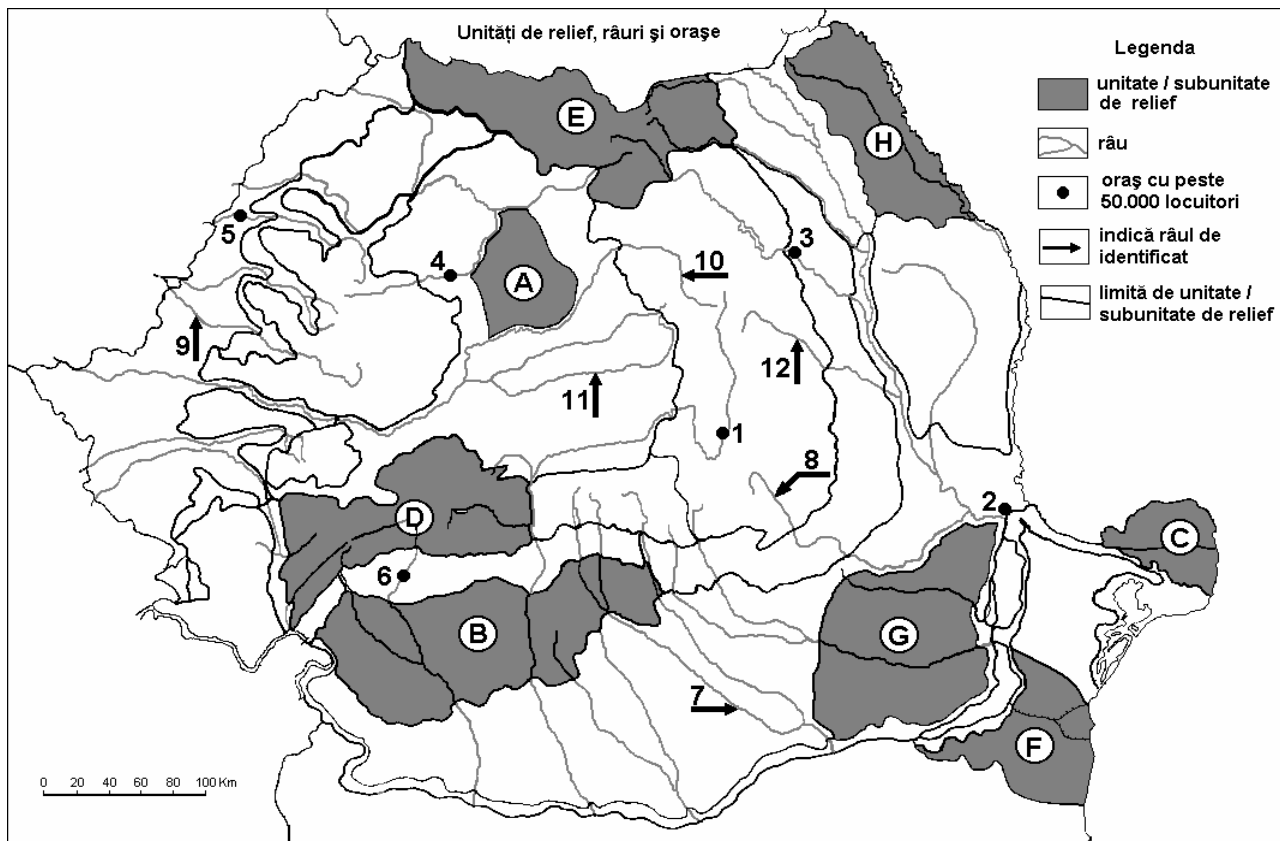
Nota 2: Punctajul complet va fi acordat numai dacă deosebirile și asemănarea vor fi prezentate comparativ și nu separat. **6 puncte**

E. Precizați doi factori care contribuie la absența pădurilor din zona de stepă.

4 puncte

Examenul de bacalaureat 2008
Proba D, E, F
Proba scrisă la Geografie
Europa – România – Uniunea Europeană

- Toate subiectele sunt obligatorii. Se acordă 10 puncte din oficiu.
- Timpul efectiv de lucru este de 3 ore.

SUBIECTUL II**(30 puncte)**

Harta de mai sus se referă la subiectul II A – D. Pe hartă sunt marcate unități de relief cu litere, orașe cu numere de la 1 la 6 și râuri cu numere de la 7 la 12.

A. Precizați:

1. numele unităților de relief marcate, pe hartă, cu literele **C** și **E**;
2. numele orașelor marcate, pe hartă, cu numerele **3** și **6**.

4 puncte**B. Scrieți, pe foaia de examen, răspunsurile corecte care completează propozițiile de mai jos:**

1. Râul marcat, pe hartă, cu numărul **8** se numește
2. Orașul marcat, pe hartă, cu numărul **5** se numește
3. Gazul metan se valorifică din unitatea de relief marcată, pe hartă, cu litera ...

6 puncte**C. Scrieți, pe foaia de examen, litera corespunzătoare răspunsului corect pentru fiecare dintre afirmațiile de mai jos:**

1. Influențe climatice scandinavo-baltice pătrund în unitatea de relief marcată, pe hartă, cu litera:

a. A	b. B	c. E	d. G	2 puncte
------	------	------	------	-----------------
2. Huilă se valorifică din unitatea de relief marcată, pe hartă, cu litera:

a. B	b. D	c. E	d. H	2 puncte
------	------	------	------	-----------------
3. Orașul marcat, pe hartă, cu numărul **2** se numește:

a. Brăila	b. Călărași	c. Galați	d. Tulcea	2 puncte
-----------	-------------	-----------	-----------	-----------------
4. Este afluent al râului marcat, pe hartă, cu numărul **7** râul:

a. Dâmbovița	b. Ialomița	c. Mostiștea	d. Vedea	2 puncte
--------------	-------------	--------------	----------	-----------------

5. Râul marcat, pe hartă, cu numărul **9** se numește:

a. Crișul Alb

b. Crișul Negru

c. Crișul Repede

d. Mureș

2 puncte

D. Precizați două deosebiri și o asemănare între **relieful** unității marcate, pe hartă, cu litera **B** și **relieful** unității marcate cu litera **G**.

Nota 1: Deosebirile și asemănarea se pot referi la oricare dintre următoarele aspecte ale **reliefului**: mod de formare, tipuri de roci, distribuția spațială a altitudinilor, gradul de fragmentare, orientarea culmilor și văilor principale, tipuri genetice de relief, alte aspecte specifice ale reliefului.

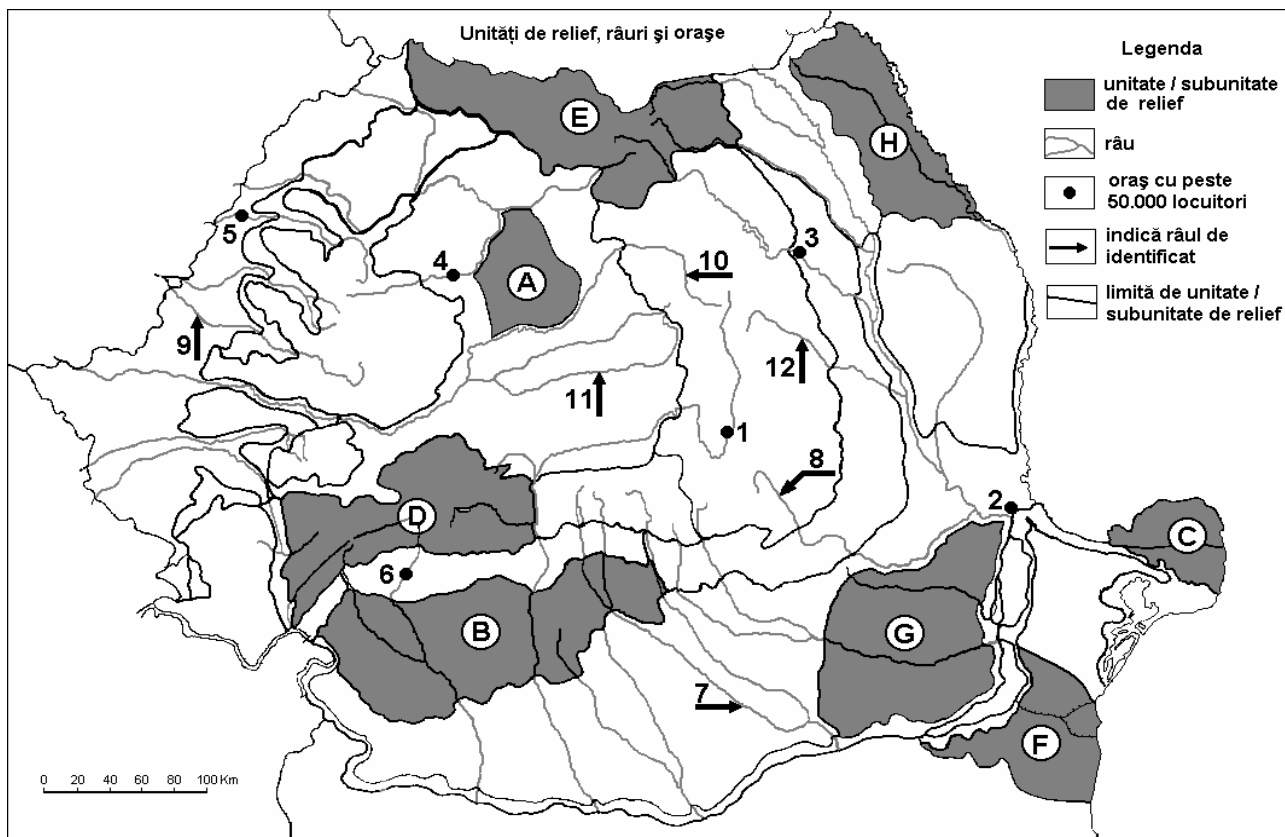
Nota 2: Punctajul complet va fi acordat numai dacă cele două deosebiri și asemănarea vor fi prezentate comparativ și nu separat. **6 puncte**

E. Menționați doi factori determinanți ai diferenței dintre valorile medii ale densității populației din județele Caraș-Severin și Prahova.

4 puncte

Examenul de bacalaureat 2008
Proba D, E, F
Proba scrisă la Geografie
Europa – România – Uniunea Europeană

- Toate subiectele sunt obligatorii. Se acordă 10 puncte din oficiu.
- Timpul efectiv de lucru este de 3 ore.

SUBIECTUL II**(30 puncte)**

Harta de mai sus se referă la subiectul II A- D. Pe hartă sunt marcate unități de relief cu litere, orașe cu numere de la 1 la 6 și râuri cu numere de la 7 la 12.

A. Precizați:

- numele unităților de relief marcate, pe hartă, cu literele **B** și **H**.
- numele râurilor marcate, pe hartă, cu numerele **8** și **9**.

4 puncte**B. Scrieți, pe foaia de examen, răspunsurile corecte care completează propozițiile de mai jos:**

- Orașul marcat, pe hartă, cu numărul **4** se numește ...
- Depresiunea Petroșani se află în unitatea de relief marcată, pe hartă, cu litera ...
- Orașul marcat, pe hartă, cu numărul **3** este traversat de râul numit ...

6 puncte**C. Scrieți, pe foaia de examen, litera corespunzătoare răspunsului corect pentru fiecare dintre afirmațiile de mai jos:**

- Orașul marcat, pe hartă, cu numărul **6** se numește:

a. Craiova	b. Petroșani	c. Râmnicu Vâlcea	d. Târgu Jiu	2 puncte
------------	--------------	-------------------	--------------	-----------------
- Influențe climatice submediteraneene pătrund în unitatea de relief marcată, pe hartă, cu litera:

a. A	b. B	c. H	d. G	2 puncte
------	------	------	------	-----------------
- Râul marcat, pe hartă, cu numărul **12** se numește:

a. Bistrița	b. Buzău	c. Moldova	d. Trotuș	2 puncte
-------------	----------	------------	-----------	-----------------
- Lacuri glaciare s-au format în unitatea de relief marcată, pe hartă, cu litera:

a. A	b. B	c. D	d. H	2 puncte
------	------	------	------	-----------------

5. Râul marcat, pe hartă, cu numărul **7** se numește:

a. Argeș

b. Dâmbovița

c. Ialomița

d. Vedea

2 puncte

D. Precizați trei deosebiri între **clima** unității de relief marcate, pe hartă, cu litera **E** și **clima** unității de relief marcate cu litera **F**.

Nota 1: Deosebirile se pot referi la oricare dintre următoarele elemente de **climă**: temperaturi medii anuale, precipitații medii anuale, vânturi, influență climatică, etaj climatic.

Nota 2: Punctajul complet va fi acordat numai dacă cele trei deosebiri vor fi prezentate comparativ și nu separat.

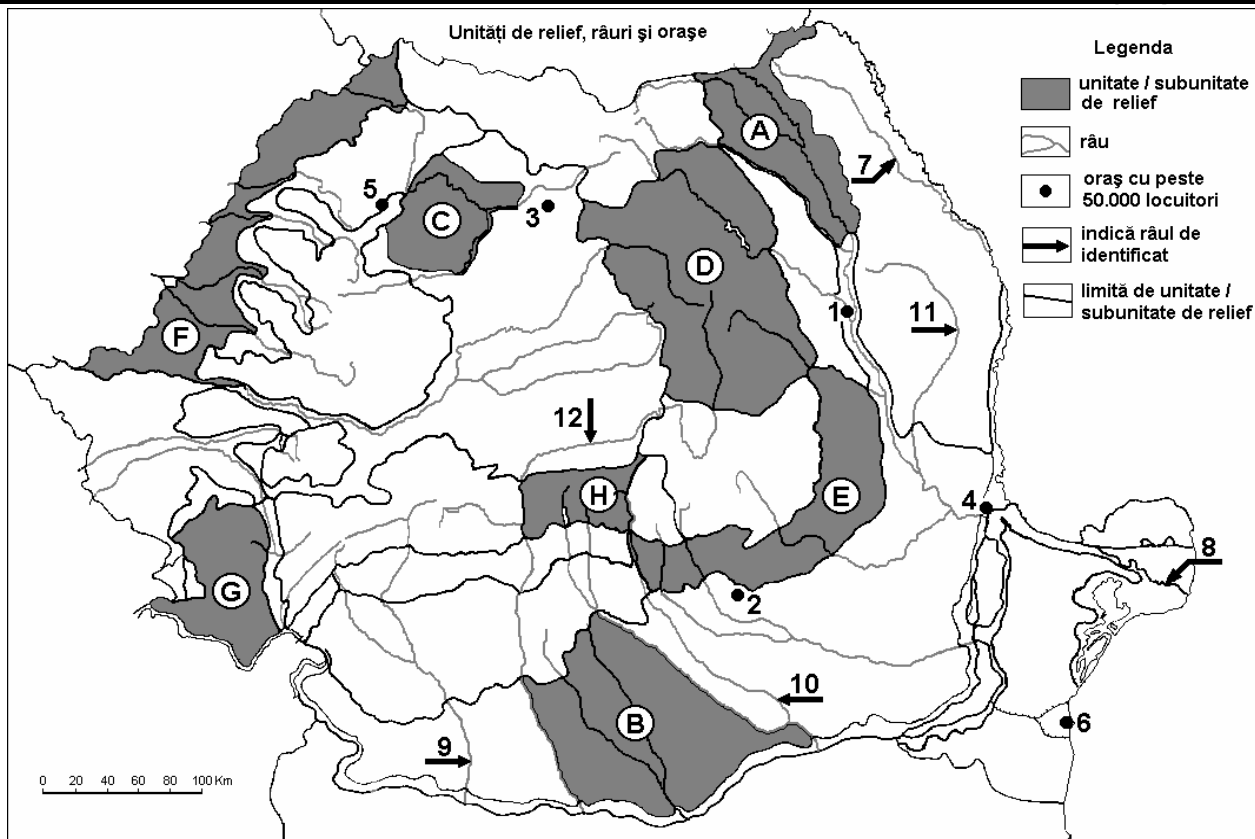
6 puncte

E. Prezentați două cauze care determină tendința de îmbătrânire a populației României.

4 puncte

Examenul de bacalaureat 2008
Proba D, E, F
Proba scrisă la GEOGRAFIE
Europa–România–Uniunea Europeană

- Toate subiectele sunt obligatorii. Se acordă 10 puncte din oficiu.
- Timpul efectiv de lucru este de 3 ore.

SUBIECTUL II**(30 puncte)**

Harta de mai sus se referă la subiectul II A – D. Pe hartă sunt marcate unități de relief cu litere, orașe cu numere de la 1 la 6 și râuri cu numere de la 7 la 12.

A. Precizați:

- numele unităților de relief marcate, pe hartă, cu literele **A** și **G**;
- numele râurilor marcate, pe hartă, cu numerele **9** și **11**.

4 puncte**B. Scrieți, pe foaia de examen, răspunsurile corecte care completează propozițiile de mai jos:**

- Orașul marcat, pe hartă, cu numărul **3** se numește ...
- Râul marcat, pe hartă, cu numărul **7** se numește ...
- Orașul marcat, pe hartă, cu numărul **5** este reședința județului numit ...

6 puncte**C. Scrieți, pe foaia de examen, litera corespunzătoare răspunsului corect pentru fiecare dintre afirmațiile de mai jos:**

- Influențe climatice oceanice sunt caracteristice unității de relief marcate, pe hartă, cu litera:

a. A	b. B	c. E	d. F	2 puncte
------	------	------	------	-----------------
- Este situat în unitatea de relief marcată, pe hartă, cu litera **G** orașul:

a. Arad	b. Deva	c. Reșița	d. Timișoara	2 puncte
---------	---------	-----------	--------------	-----------------
- Relief glaciar s-a format în unitatea de relief marcată, pe hartă, cu litera:

a. A	b. C	c. E	d. H	2 puncte
------	------	------	------	-----------------
- În unitatea de relief marcată, pe hartă, cu litera **E** se exploatează:

a. bauxită și gaze asociate	b. huiă și gaz matan	2 puncte
c. lignit și minereu de fier	d. petrol și sare	

5. Orașul marcat, pe hartă, cu numărul **2** este reședința județului:

a. Argeș

b. Buzău

c. Dâmbovița

d. Prahova

2 puncte

D. Precizați trei deosebiri între **relieful** unității marcate, pe hartă, cu litera **D** și **relieful** unității marcate cu litera **H**.

Nota 1: Deosebirile se pot referi la oricare dintre următoarele aspecte ale **reliefului**: mod de formare, tipuri de roci pe care s-a format relieful, altitudini, fragmentare, tipuri de relief, alte aspecte specifice ale reliefului.

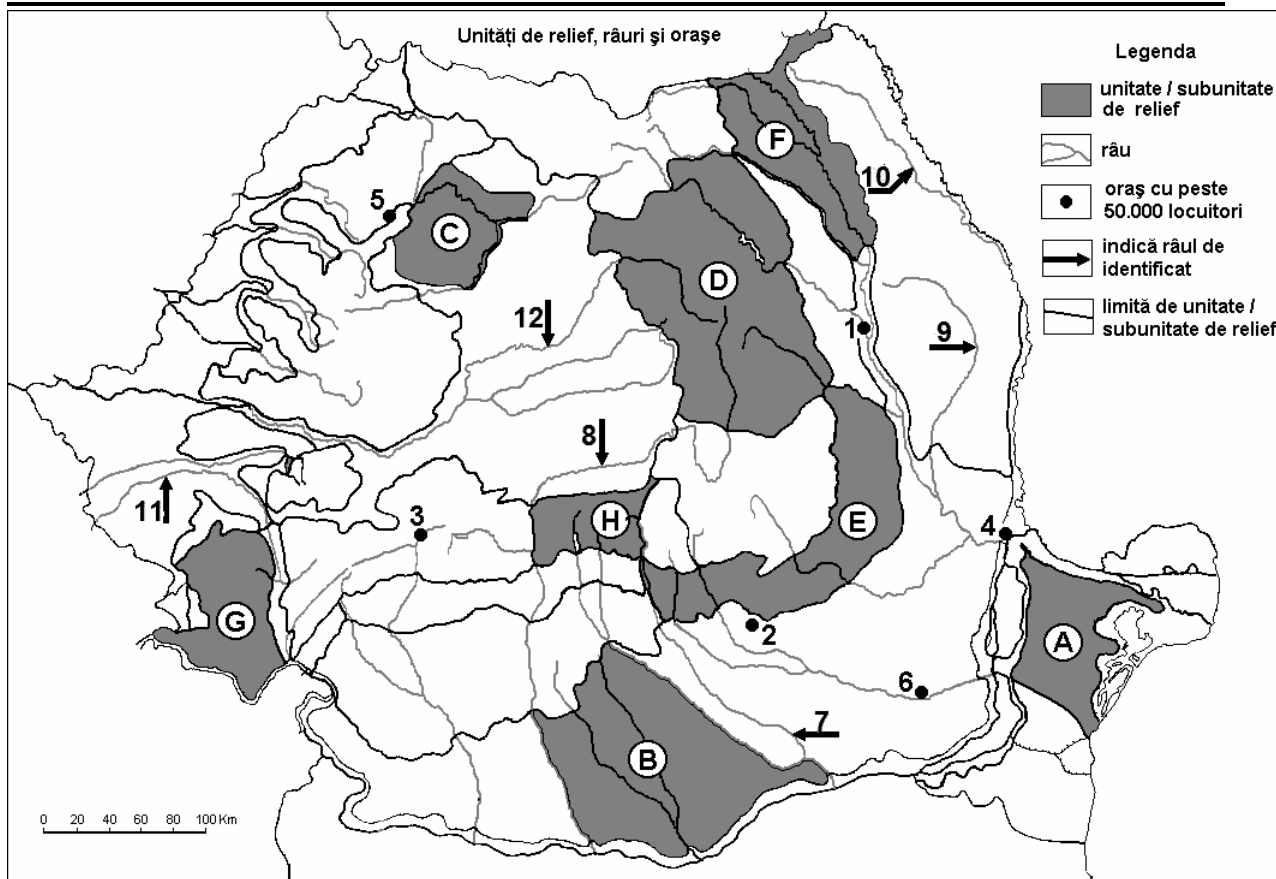
Nota 2: Punctajul complet va fi acordat numai dacă cele trei deosebiri vor fi prezentate comparativ și nu separat. **6 puncte**

E. Prezentați două cauze ce au determinat, după 1990, migrația dinspre mediul urban către mediul rural.

4 puncte

Examenul de bacalaureat 2008
Proba D, E, F
Proba scrisă la GEOGRAFIE
Europa-România-Uniunea Europeană

- Toate subiectele sunt obligatorii. Se acordă 10 puncte din oficiu.
- Timpul efectiv de lucru este de 3 ore.

SUBIECTUL II**30 PUNCTE**

Harta de mai sus se referă la subiectul II A, C, D. Pe hartă sunt marcate, cu litere, unități sau subunități de relief, cu numere de la 1 la 6 orașe și cu numere de la 7 la 12 râuri.

A. Precizați:

- numele subunităților de relief marcate, pe hartă, cu literele **C** și **F**;
- numele orașelor marcate, pe hartă, cu numerele **2** și **4**.

4 puncte**B. Scrieți pe foaia de examen, răspunsurile corecte care completează propozițiile de mai jos:**

- Munții Măcinului s-au format prin încrețire în orogeneza ...
- Pe crestele Munților Făgăraș, la peste 1.800 m altitudine, ghețarii care au existat în cuaternar au creat un relief ...
- În Depresiunea Colinară a Transilvaniei pătrund influențe climatice ...

6 puncte**C. Scrieți pe foaia de examen, litera corespunzătoare răspunsului corect pentru fiecare dintre afirmațiile de mai jos:**

- Orașul Zalău este marcat, pe hartă, cu numărul:

a. 2 b. 4 c. 5 d. 6 **2 puncte**

- În subunitatea de relief marcată, pe hartă, cu litera **G** influențele climatice sunt:

a. baltice b. oceanice c. pontice d. submediteraneene
2 puncte

- Subunitatea de relief marcată, pe hartă, cu litera **F** este străbătută de râul:

a. Bahlui b. Bârlad c. Suceava d. Trotuș **2 puncte**

4. Munții Apuseni sunt delimitați spre sud de râul marcat, pe hartă, cu numărul:
a. 7 **b. 8** **c. 11** **d. 12** **2 puncte**
5. Vegetația de stepă și silvostepă este caracteristică în unitatea marcată, pe hartă, cu litera:
a. A **b. D** **c. E** **d. G** **2 puncte**

D. Precizați trei deosebiri între **clima** subunității marcate, pe hartă cu litera **B** și **clima** subunității marcate cu litera **D**. **6 puncte**

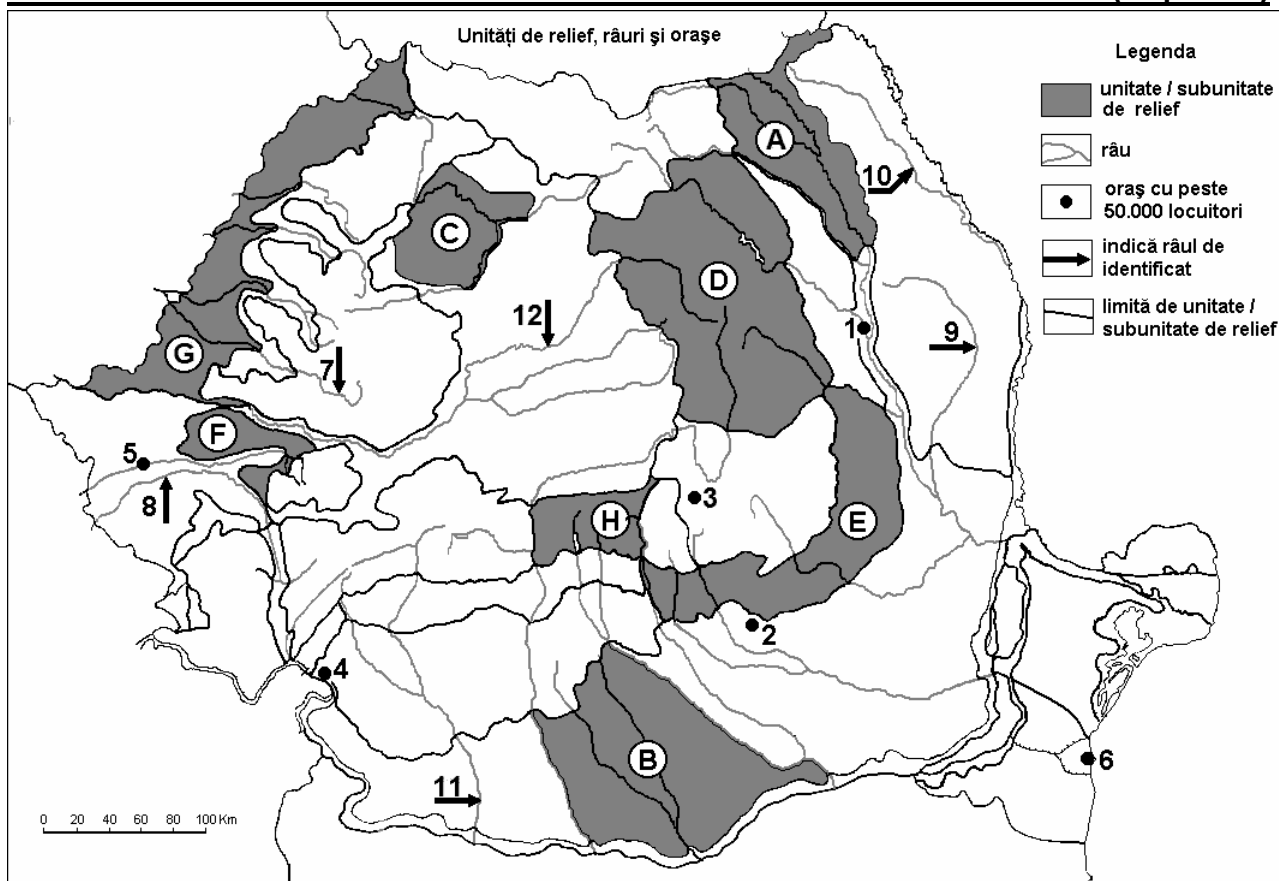
Nota 1: Deosebirile se pot referi la oricare dintre următoarele elemente de **climă**: temperaturi medii anuale, precipitații medii anuale, vânturi, influențe climatice, etaj climatic.

Nota 2: Punctajul complet va fi acordat numai dacă cele două unități de relief vor fi tratate comparativ și nu separat.

E. Prezentați două argumente pentru a explica faptul că Delta Dunării reprezintă un mediu unic pe teritoriul României. **4 puncte**

Examenul de bacalaureat 2008
Proba D, E, F
Proba scrisă la GEOGRAFIE
Europa-România-Uniunea Europeană

- Toate subiectele sunt obligatorii. Se acordă 10 puncte din oficiu.
- Timpul efectiv de lucru este de 3 ore.

SUBIECTUL II**(30 puncte)**

Harta de mai sus se referă la subiectul II A, B, C, D. Pe hartă sunt marcate subunități de relief cu litere, orașe cu numere de la 1 la 6 și râuri cu numere de la 7 la 12.

A. Precizați:

- numele subunităților de relief marcate, pe hartă, cu literele **A** și **D**;
- numele orașelor marcate, pe hartă, cu numerele **3** și **4**.

4 puncte**B. Scrieți pe foaia de examen, răspunsurile corecte care completează propozițiile de mai jos:**

- Subunitatea marcată, pe hartă, cu litera **H** s-a format în orogeneza ... **2 puncte**
- Râul marcat, pe hartă, cu numărul **11** se numește ... **2 puncte**
- Orașul marcat, pe hartă, cu numărul **6** se numește ... **2 puncte**

C. Scrieți pe foaia de examen, litera corespunzătoare răspunsului corect pentru fiecare dintre afirmațiile de mai jos:

- Orașul Bacău este marcat, pe hartă, cu numărul:

a. 1 b. 2 c. 4 d. 5 **2puncte**

- Cele mai mici altitudini medii se află în subunitatea de relief marcată, pe hartă, cu litera:

a. A b. C c. E d. F **2puncte**

- Subunitatea marcată, pe hartă, cu litera **C** este străbătută de la Est la Vest de râul:

a. Barcău b. Crișul Repede c. Someș d. Tur **2puncte**

- Zăcămintele de petrol se găsesc în subunitatea marcată, pe hartă, cu litera:

a. A b. C c. E d. H **2puncte**

5. Vegetația de silvostepă se află în subunitatea marcată, pe hartă, cu litera:

a. A

b. D

c. G

d. H

2puncte

D. Precizați trei deosebiri între **clima** subunității marcate, pe hartă, cu litera **E** și **clima** subunității marcate cu litera **G**. **6puncte**

Nota 1: Deosebirile se pot referi la oricare dintre următoarele elemente de **climă**: temperaturi medii anuale, precipitații medii anuale, vânturi, etaj climatic, influențe climatice.

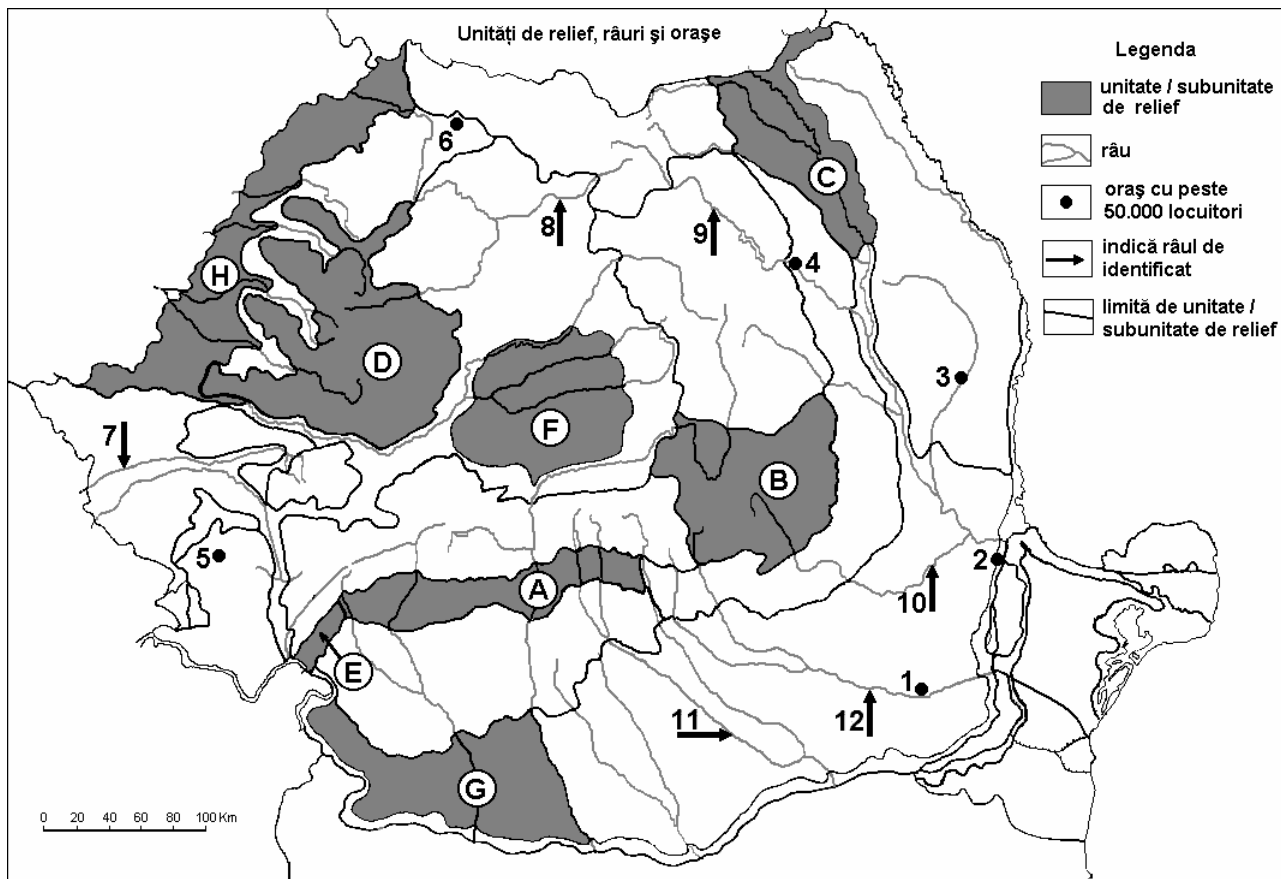
Nota 2: Punctajul complet va fi acordat numai dacă cele două unități de relief vor fi tratate comparativ și nu separat.

E. Prezentați două cauze ale scăderii numerice a populației României după 1990.

4 puncte

Examenul de bacalaureat 2008
Proba D, E, F
Proba scrisă la GEOGRAFIE
Europa-România-Uniunea Europeană

- Toate subiectele sunt obligatorii. Se acordă 10 puncte din oficiu.
- Timpul efectiv de lucru este de 3 ore.

SUBIECTUL II**(30 puncte)**

Harta de mai sus se referă la subiectul II A, B, C, D. Pe hartă sunt marcate, cu litere, subunități de relief, cu numere de la 1 la 6 orașe și cu numere de la 7 la 12 râuri.

A. Precizați:

1. numele subunităților de relief marcate, pe hartă, cu literele **A** și **F**;
2. numele orașelor marcate, pe hartă, cu numerele **3** și **4**.

4 puncte**B. Scrieți pe foaia de examen, răspunsurile corecte care completează propozițiile de mai jos:**

1. Subunitatea de relief marcată, pe hartă, cu litera **B** s-a format în orogeneza ... **2 puncte**
2. Subunitatea marcată, pe hartă, cu litera **C** se numește ... **2 puncte**
3. Orașul marcat, pe hartă, cu numărul **1** se numește ... **2 puncte**

C. Scrieți pe foaia de examen, litera corespunzătoare răspunsului corect pentru fiecare dintre afirmațiile de mai jos:

1. Orașul Timișoara este străbătut de râul marcat, pe hartă, cu numărul:

a. 7	b. 8	c. 10	d. 12	2 puncte
------	------	-------	-------	-----------------
2. Subunitatea de relief marcată, pe hartă, cu litera **A** este delimitată la est de râul:

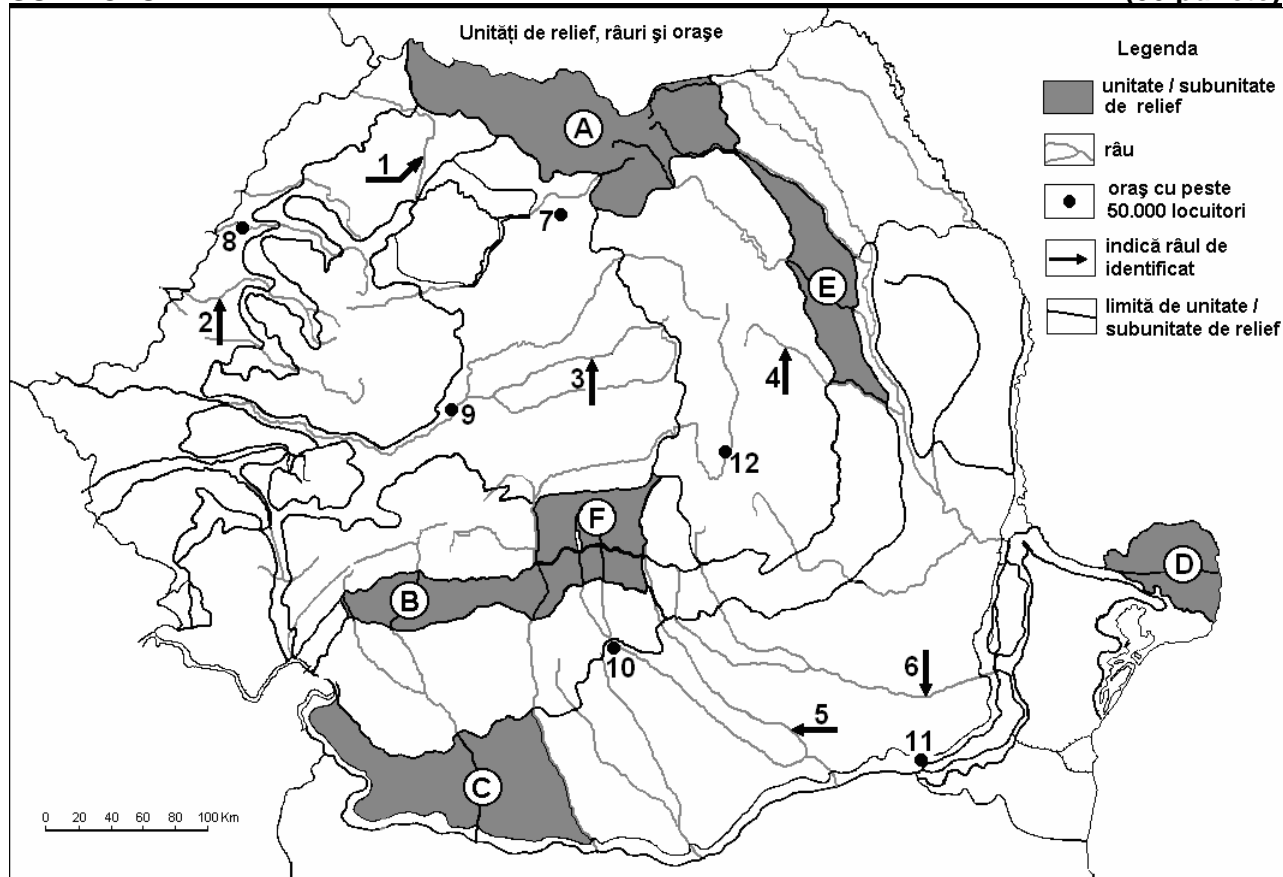
a. Argeș	b. Buzău	c. Dâmbovița	d. Ialomița	2 puncte
----------	----------	--------------	-------------	-----------------
3. Râul Bistrița este marcat, pe hartă, cu numărul:

a. 8	b. 9	c. 11	d. 12	2 puncte
------	------	-------	-------	-----------------

4. Zăcăminte de aur și argint se găsesc în subunitatea marcată, pe hartă, cu litera:
a. A b. B c. C d. D 2 puncte
5. Păduri de conifere se dezvoltă în subunitatea de relief marcată, pe hartă, cu litera:
a. B b. F c. G d. H 2 puncte
- D.** Precizați trei deosebiri între **clima** subunității de relief marcată, pe hartă, cu litera **D** și **clima** subunității de relief marcată cu litera **G**. **6puncte**
Nota 1: Deosebirile se pot referi la oricare dintre următoarele elemente de **climă**: temperaturi medii anuale, precipitații medii anuale, vânturi, etaj climatic, influență climatică.
Nota 2: Punctajul complet va fi acordat numai dacă cele două unități de relief vor fi tratate comparativ și nu separat.
- E.** Prezentați două cauze ale scăderii numerice a populației României după 1990. **4 puncte**

Examenul de bacalaureat 2008
Proba D, E, F
Proba scrisă la Geografie
Europa – România – Uniunea Europeană

- Toate subiectele sunt obligatorii. Se acordă 10 puncte din oficiu.
- Timpul efectiv de lucru este de 3 ore.

SUBIECTUL II**(30 puncte)**

Harta de mai sus se referă la subiectul II A – E. Pe hartă sunt marcate unități și subunități de relief cu litere, râuri cu numere de la 1 la 6 și orașe cu numere de la 7 la 12.

A. Precizați:

- numele râurilor marcate, pe hartă, cu numerele 3 și 4;
- numele orașelor marcate, pe hartă, cu numerele 8 și 11.

4 puncte

B. Scrieți, pe foaia de examen, răspunsurile corecte care completează propozițiile de mai jos:

- Orașul Bistrița este marcat, pe hartă, cu numărul ...
- Râul care străbate Podișul Someșan este marcat, pe hartă, cu numărul ...
- Influențe climatice pontice sunt caracteristice în unitatea de relief marcată, pe hartă, cu litera ...

6 puncte

C. Scrieți, pe foaia de examen, litera corespunzătoare răspunsului corect pentru fiecare dintre afirmațiile de mai jos:

- Râul Ialomița este marcat, pe hartă, cu numărul:

a. 1 b. 2 c. 5 d. 6 **2 puncte**

- Reședința județului Alba este orașul marcat, pe hartă, cu numărul:

a. 7 b. 8 c. 9 d. 10 **2 puncte**

- În Depresiunea Brașov este situat orașul marcat, pe hartă, cu numărul:

a. 8 b. 10 c. 11 d. 12 **2 puncte**

- Cultura cerealelor este extinsă în unitatea de relief marcată, pe hartă, cu litera:

a. A b. C c. D d. E **2 puncte**

5. Lacul Vidraru este situat în unitatea de relief marcată, pe hartă, cu litera:

a. A

b. C

c. D

d. F

2 puncte

D. Precizați două asemănări și o deosebire între **relieful** unității marcate, pe hartă, cu litera **B** și **relieful** unității marcate, pe hartă, cu litera **E**.

Nota 1: Deosebirea și asemănările se pot referi la oricare dintre următoarele aspecte ale **reliefului**: mod de formare, tipuri de roci, altitudini, gradul de fragmentare, orientarea culmilor și a văilor principale, tipuri genetice de relief, alte aspecte specifice ale reliefului.

Nota 2: Punctajul complet va fi acordat numai dacă cele două asemănări și deosebirea vor fi prezentate comparativ și nu separat.

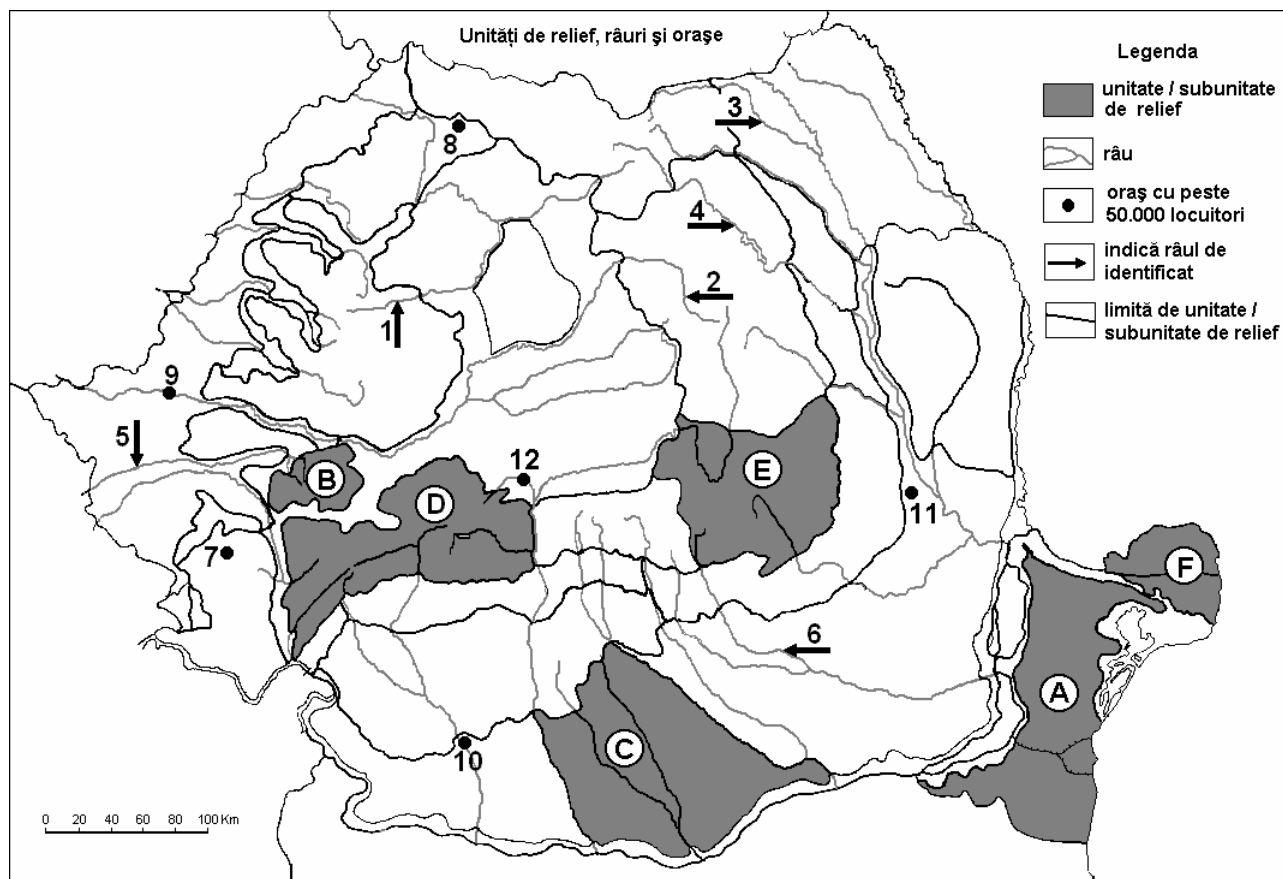
6 puncte

E. Precizați patru exemple pentru a demonstra varietatea resurselor naturale în unitatea de relief marcată, pe hartă, cu litera **A**.

4 puncte

Examenul de bacalaureat 2008
Proba D, E, F
Proba scrisă la Geografie
Europa – România – Uniunea Europeană

- Toate subiectele sunt obligatorii. Se acordă 10 puncte din oficiu.
- Timpul efectiv de lucru este de 3 ore.

SUBIECTUL II**(30 puncte)**

Harta de mai sus se referă la subiectul II A – D. Pe hartă sunt marcate unități și subunități de relief cu litere, râuri cu numere de la 1 la 6 și orașe cu numere de la 7 la 12.

A. Precizați:

- numele orașelor marcate, pe hartă, cu numerele 9 și 10;
- numele unităților de relief marcate, pe hartă, cu literele B și F.

4 puncte**B. Scrieți, pe foaia de examen, răspunsurile corecte care completează propozițiile de mai jos:**

- Orașul Cluj-Napoca este străbătut de râul marcat, pe hartă, cu numărul ...
- Depresiunea Petroșani este situată în interiorul unității de relief marcate, pe hartă, cu litera ...
- Străbate Depresiunea Giurgeu râul marcat, pe hartă, cu numărul ...

6 puncte**C. Scrieți, pe foaia de examen, litera corespunzătoare răspunsului corect pentru fiecare dintre afirmațiile de mai jos:**

- Podișul Sucevei este străbătut de râul marcat, pe hartă, cu numărul:

a. 1 b. 3 c. 5 d. 6 **2 puncte**

- În Munții Banatului este situat orașul marcat, pe hartă, cu numărul:

a. 7 b. 9 c. 10 d. 12 **2 puncte**

- Lacul Izvorul Muntelui este situat pe râul marcat, pe hartă, cu numărul:

a. 2 b. 4 c. 5 d. 6 **2 puncte**

4. Pădurea de conifere este extinsă în unitatea de relief notată, pe hartă, cu litera:

a. A

b. C

c. D

d. F

2 puncte

5. Un important centru al metalurgiei neferoase este în orașul marcat, pe hartă, cu numărul:

a. 8

b. 9

c. 11

d. 12

2 puncte

D. Precizați două asemănări și o deosebire între **clima** unității de relief marcate, pe hartă, cu litera **A** și **clima** unității de relief marcate, pe hartă, cu litera **C**.

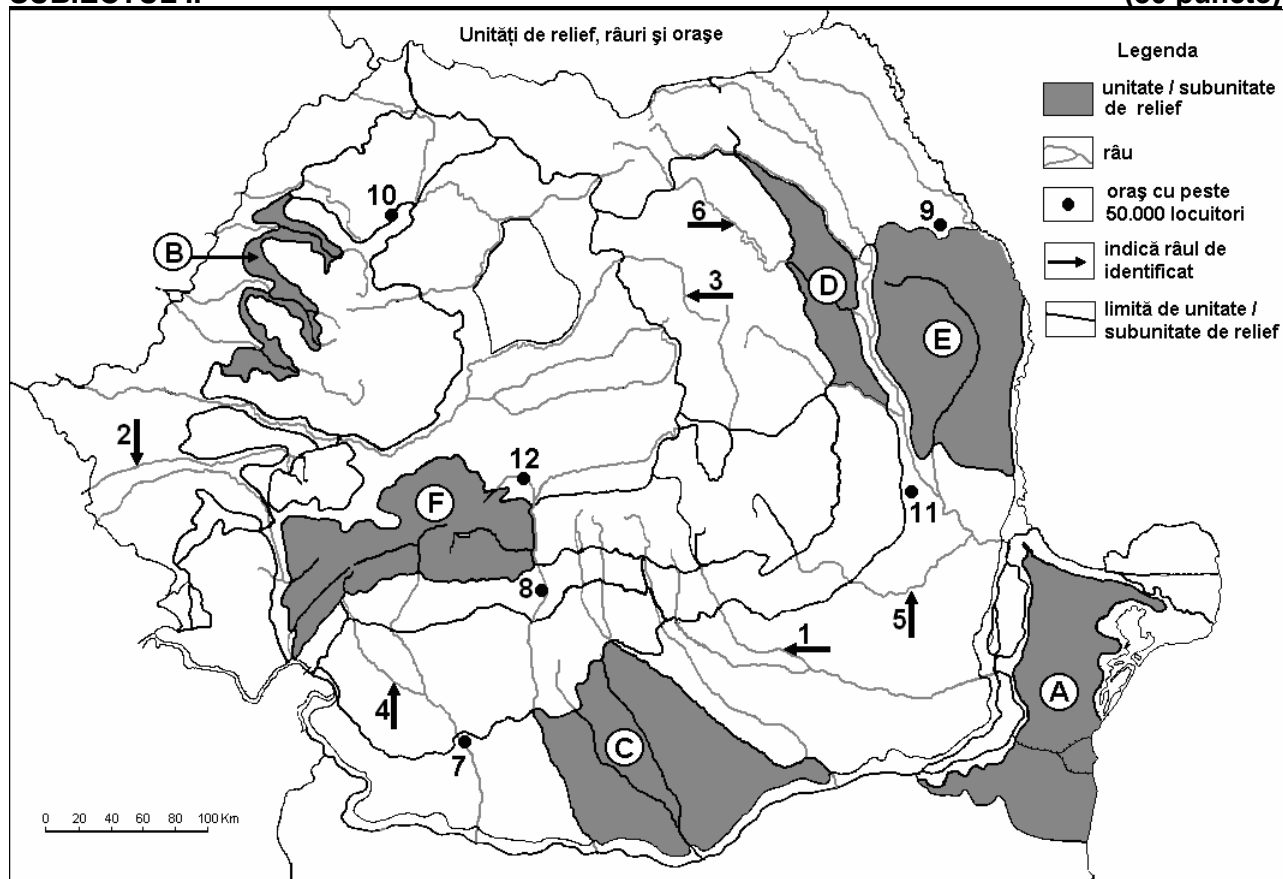
Nota 1: Asemănările și deosebirea se pot referi la oricare dintre următoarele elemente de **climă**: temperaturi medii anuale, precipitații medii anuale, vânturi, etaj climatic, influență climatică.

Nota 2: Punctajul complet va fi acordat numai dacă cele două asemănări și deosebirea vor fi prezentate comparativ și nu separat. **6 puncte**

E. Prezentați două cauze care să explice tendința de descreștere a populației României după anul 1990. **4 puncte**

Examenul de bacalaureat 2008
Proba D, E, F
Proba scrisă la Geografie
Europa – România – Uniunea Europeană

- Toate subiectele sunt obligatorii. Se acordă 10 puncte din oficiu.
- Timpul efectiv de lucru este de 3 ore.

SUBIECTUL II**(30 puncte)**

Harta de mai sus se referă la subiectul II A – E. Pe hartă sunt marcate unități și subunități de relief cu litere, râuri cu numere de la 1 la 6 și orașe cu numere de la 7 la 12.

A. Precizați:

- numele râurilor marcate, pe hartă, cu numerele 2, 3 și 4;
- numele orașului marcat, pe hartă, cu numărul 11.

4 puncte**B. Scrieți, pe foaia de examen, răspunsurile corecte care completează propozițiile de mai jos:**

- Relief glaciar se întâlnește în unitatea de relief marcată, pe hartă, cu litera ...
- Râul Prahova este marcat, pe hartă, cu numărul ...
- Orașul marcat, pe hartă, cu numărul 9 se numește ...

6 puncte**C. Scrieți, pe foaia de examen, litera corespunzătoare răspunsului corect pentru fiecare dintre afirmațiile de mai jos:**

- Autoturisme se fabrică în orașul marcat, pe hartă, cu numărul:

a. 7 b. 8 c. 10 d. 12 **2 puncte**

- Petrol se extrage din unitatea de relief marcată, pe hartă, cu litera:

a. A b. D c. E d. F **2 puncte**

- Orașul Râmnicu Vâlcea este marcat, pe hartă, cu numărul:

a. 7 b. 8 c. 11 d. 12 **2 puncte**

4. Orașul marcat, pe hartă, cu numărul **12** se numește:

a. Alba Iulia **b.** Deva **c.** Făgăraș **d.** Sibiu **2 puncte**

5. Influențe climatice de tranziție sunt caracteristice în unitatea de relief marcată, pe hartă, cu litera:

a. B **b.** C **c.** D **d.** F **2 puncte**

D. Precizați două deosebiri și o asemănare între **relieful** unității marcate, pe hartă, cu litera **E** și **relieful** unității marcate, pe hartă, cu litera **C**.

Nota 1: Deosebirile și asemănarea se pot referi la oricare dintre următoarele aspecte ale **reliefului**: mod de formare, tipuri de roci, altitudini, gradul de fragmentare, orientarea culmilor și a văilor principale, tipuri genetice de relief, alte aspecte specifice ale reliefului.

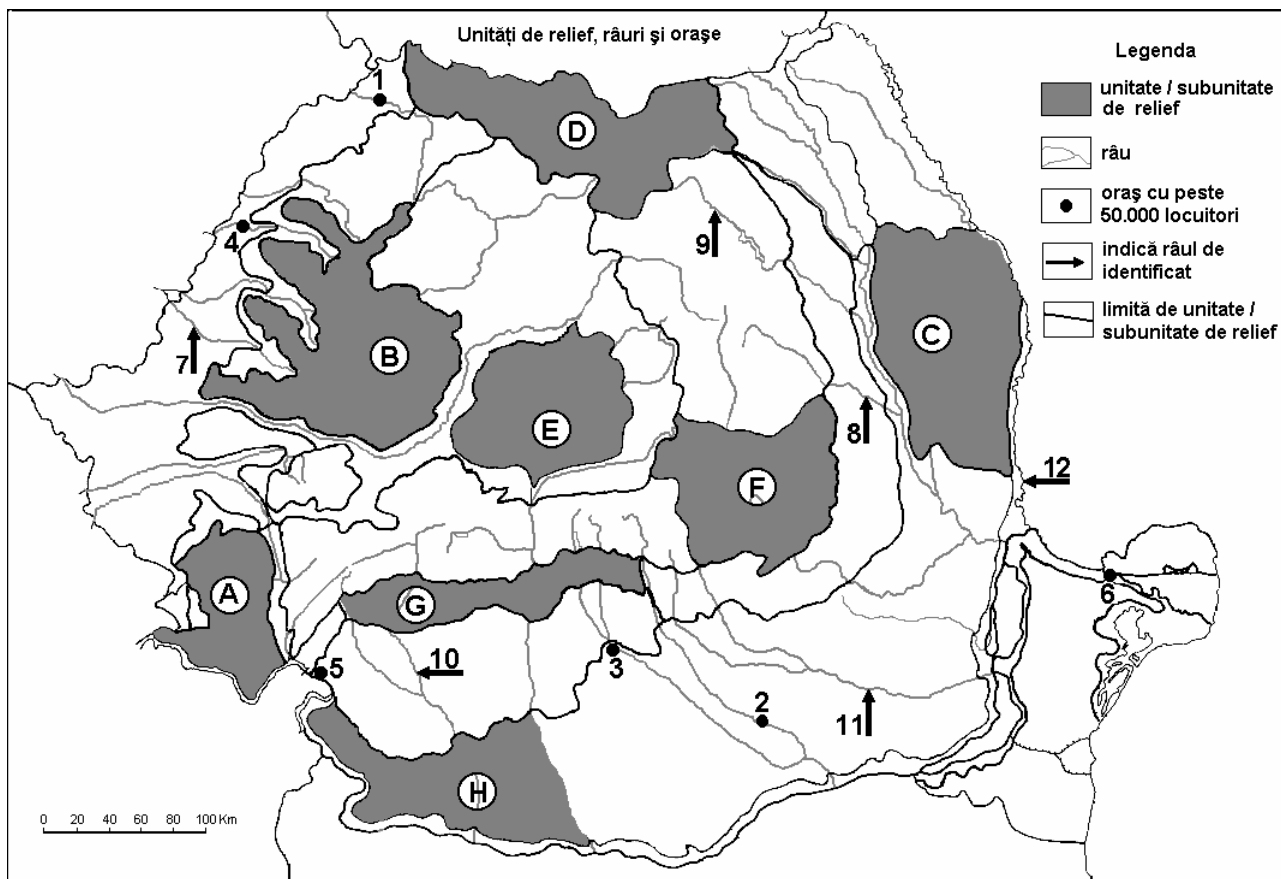
Nota 2: Punctajul complet va fi acordat numai dacă cele două deosebiri și asemănarea vor fi prezentate comparativ și nu separat. **6 puncte**

E. Explicați extinderea vegetației de stepă și silvostepă în partea centrală și sudică a unității de relief marcate, pe hartă, cu litera **A**.

4 puncte

Examenul de bacalaureat 2008
Proba D, E, F
Proba scrisă la Geografie
Europa – România – Uniunea Europeană

- Toate subiectele sunt obligatorii. Se acordă 10 puncte din oficiu.
- Timpul efectiv de lucru este de 3 ore.

SUBIECTUL II**(30 puncte)**

Harta de mai sus se referă la subiectul II A – C. Pe hartă sunt marcate unități de relief, cu litere, orașe cu numere de la 1 la 6 și râuri de la 7 la 12.

A. Precizați:

1. numele unităților de relief marcate, pe hartă, cu literele **C** și **F**.
2. numele orașelor marcate, pe hartă, cu numerele **1** și **5**.

4 puncte**B. Scrieți, pe foaia de examen, răspunsurile corecte care completează propozițiile de mai jos:**

1. Relief glaciar există în unitatea de relief marcată, pe hartă, cu litera...
2. Granița dintre România și Republica Moldova, este reprezentată de râul marcat, pe hartă, cu numărul...
3. Orașul marcat, pe hartă, cu numărul **4** este reședința județului...

6 puncte**C. Scrieți, pe foaia de examen, litera corespunzătoare răspunsului corect pentru fiecare dintre afirmațiile de mai jos:**

1. Pe râul marcat, pe hartă, cu numărul **9** s-a format lacul de acumulare numit:

a. Izvorul Muntelui	b. Siriu	c. Vidra	d. Vidraru	2 puncte
---------------------	----------	----------	------------	-----------------
2. Râul Jiu este marcat, pe hartă, cu numărul:

a. 8	b. 10	c. 11	d. 12	2 puncte
------	-------	-------	-------	-----------------

3. Influențe climatice scandinavo-baltice pătrund în unitatea de relief marcată, pe hartă, cu litera:
a. A b. D c. F d. H 2 puncte
4. Râul marcat, pe hartă, cu numărul 7 străbate depresiunea:
a. Beiuș b. Brașov c. Vad - Borod d. Zarand 2 puncte
5. Orașul marcat, pe hartă, cu numărul 2 este traversat de râul:
a. Buzău b. Dâmbovița c. Ialomița d. Vedea 2 puncte

D. Precizați trei deosebiri între **clima** Podișului Moldovei și **clima** Podișului Dobrogei.

Nota 1: Deosebirile se pot referi la oricare dintre următoarele elemente de **climă**: temperaturi medii anuale, precipitații medii anuale, vânturi, influență climatică, etaj climatic.

Nota 2: Punctajul complet va fi acordat numai dacă cele trei deosebiri vor fi prezentate comparativ și nu separat.

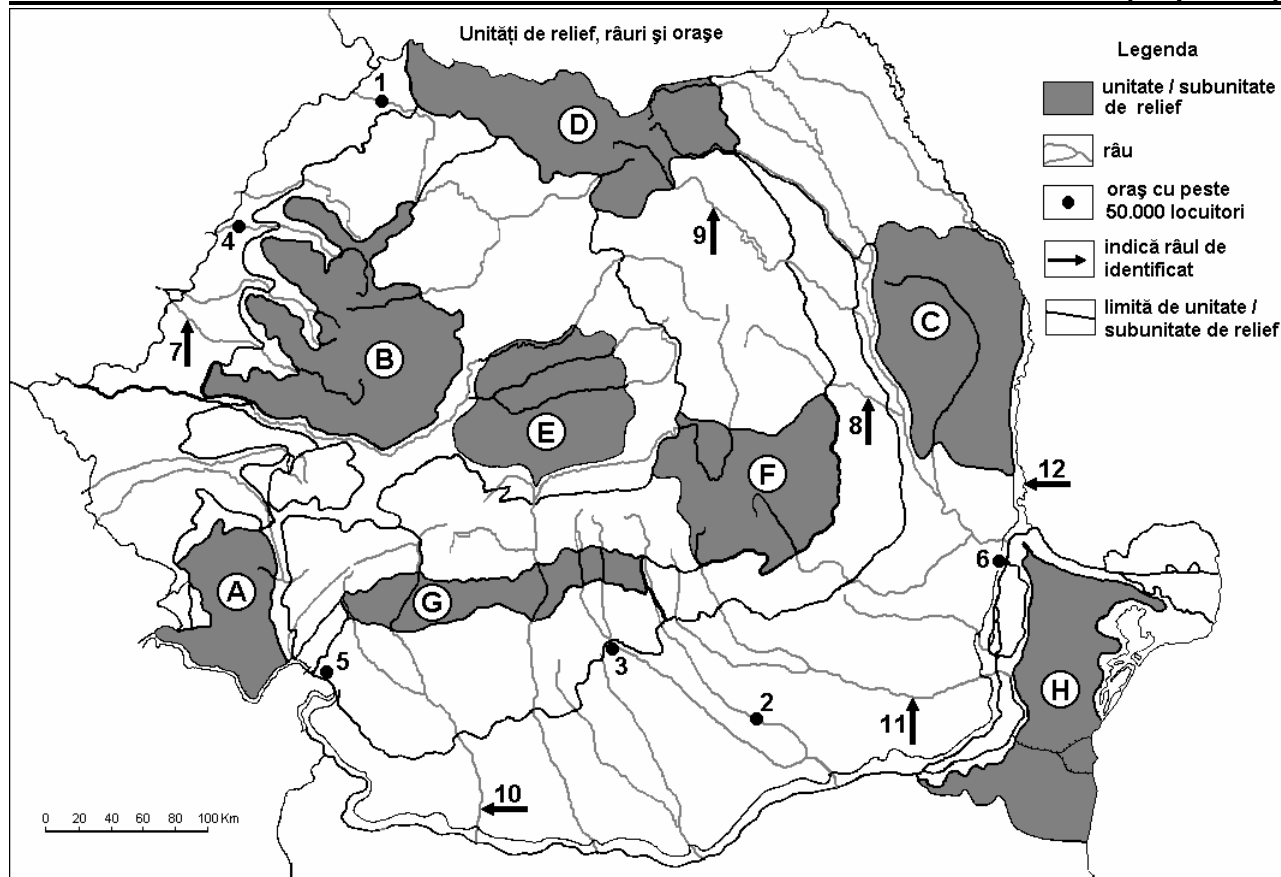
6 puncte

E. Precizați două argumente prin care să demonstrați originalitatea Mării Negre.

4 puncte

Examenul de bacalaureat 2008
Proba D, E, F
Proba scrisă la Geografie
Europa – România – Uniunea Europeană

- Toate subiectele sunt obligatorii. Se acordă 10 puncte din oficiu.
- Timpul efectiv de lucru este de 3 ore.

SUBIECTUL II**(30 puncte)**

Harta de mai sus se referă la subiectul II A - E. Pe hartă sunt marcate unități de relief cu litere, orașe cu numere de la 1 la 6 și râuri cu numere de la 7 la 12.

A. Precizați:

1. numele unităților de relief marcate, pe hartă, cu literele **C** și **H**;
2. numele râurilor marcate, pe hartă, cu numerele **11** și **12**.

4 puncte**B. Scrieți, pe foaia de examen, răspunsurile corecte care completează propozițiile de mai jos:**

1. Râul marcat, pe hartă, cu numărul **10** se numește ...
2. Râurile Bistrița și Someșul Mare izvorăsc din unitatea de relief marcată, pe hartă, cu litera...
3. Orașul marcat, pe hartă, cu numărul **4** se numește ...

6 puncte**C. Scrieți, pe foaia de examen, litera corespunzătoare răspunsului corect pentru fiecare dintre afirmațiile de mai jos:**

1. Munții Rodnei se găsesc în unitatea de relief marcată, pe hartă, cu litera:

a. A	b. B	c. D	d. F	2 puncte
------	------	------	------	-----------------

2. Orașul marcat, pe hartă, cu numărul **1** este străbătut de râul:

a. Barcău	b. Crișul Alb	c. Crișul Repede	d. Someș	2 puncte
-----------	---------------	------------------	----------	-----------------

3. Râul Prahova este afluentul principal al râului marcat, pe hartă, cu numărul:

a. 7	b. 10	c. 11	d. 12	2 puncte
------	-------	-------	-------	-----------------

4. Orașul marcat, pe hartă, cu numărul **3** se numește: **2 puncte**
a. Craiova b. Pitești c. Slatina d. Târgoviște
5. Gaz metan se exploatează din subsolul unității de relief marcată, pe hartă, cu litera:
a. A b. B c. C d. E **2 puncte**

D. Precizați două deosebiri și o asemănare între **relieful** unității marcate, pe hartă, cu litera **B** și **relieful** unității marcate cu litera **D**.

Nota 1: Deosebirile și asemănarea se pot referi la oricare dintre următoarele aspecte ale **reliefului**: mod de formare, tipuri de roci, distribuția spațială a altitudinilor, gradul de fragmentare, orientarea culmilor și a văilor principale, tipuri genetice de relief, alte aspecte specifice ale reliefului.

Nota 2: Punctajul complet va fi acordat numai dacă cele două deosebiri și asemănarea vor fi prezentate comparativ și nu separat.

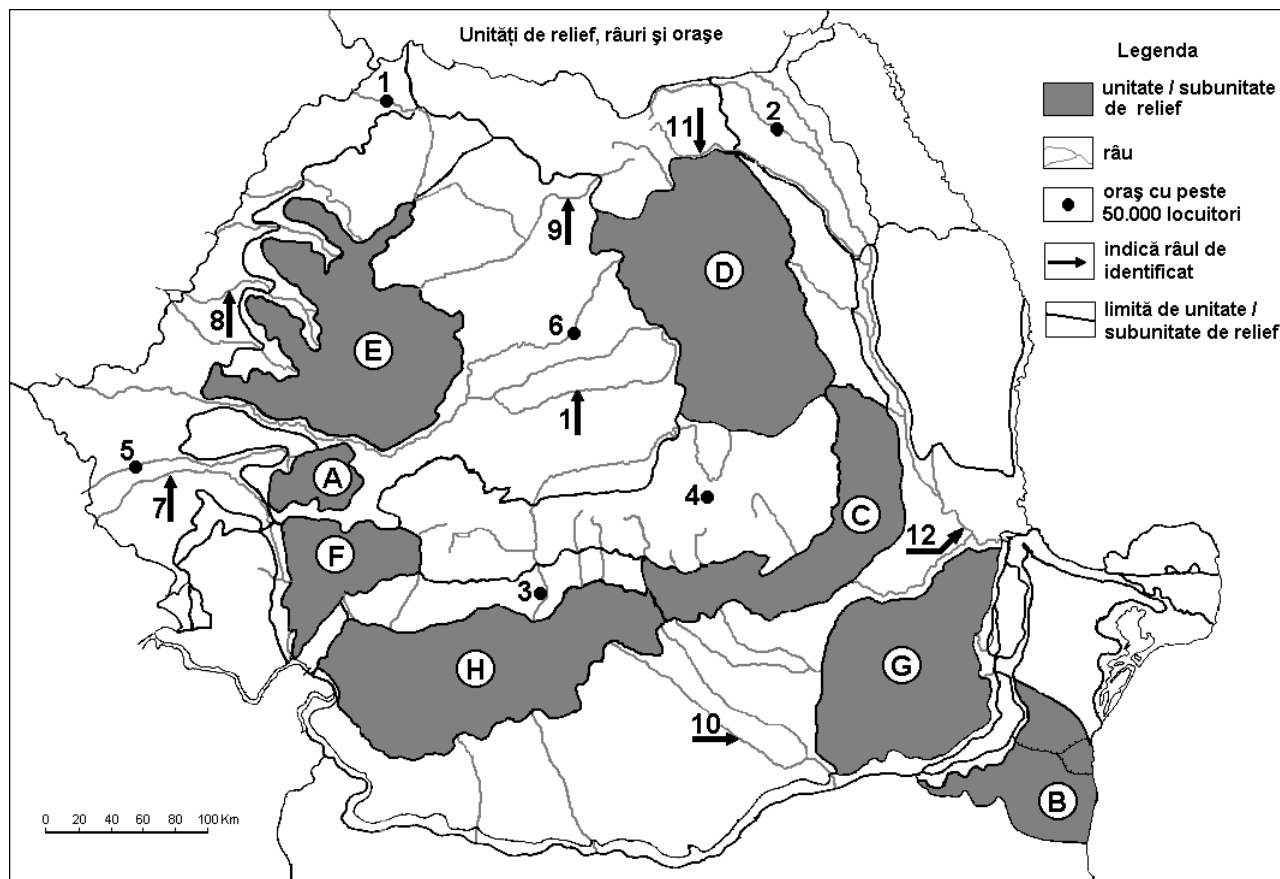
6 puncte

E. Prezentați două elemente de originalitate ale reliefului unității de relief marcată, pe hartă, cu litera **H**.

4 puncte

Examenul de bacalaureat 2008
Proba D, E, F
Proba scrisă la Geografie
Europa – România – Uniunea Europeană

- Toate subiectele sunt obligatorii. Se acordă 10 puncte din oficiu.
- Timpul efectiv de lucru este de 3 ore.

SUBIECTUL II**(30 puncte)**

Harta de mai sus se referă la subiectul II A – D. Pe hartă sunt marcate unități de relief cu litere, orașe cu numere de la 1 la 6 și râuri cu numere de la 7 la 12.

A. Precizați:

1. numele unităților de relief marcate, pe hartă, cu literele **A** și **C**;
2. numele orașelor marcate, pe hartă, cu numerele **2** și **6**.

4 puncte

B. Scrieți, pe foaia de examen, răspunsurile corecte care completează propozițiile de mai jos:

1. Influențe climatice pontice sunt specifice unității de relief marcate, pe hartă, cu litera...
2. Râul marcat, pe hartă, cu numărul **11** se numește...
3. Orașul marcat, pe hartă, cu numărul **4** se numește...

6 puncte

C. Scrieți, pe foaia de examen, litera corespunzătoare răspunsului corect pentru fiecare dintre afirmațiile de mai jos:

1. Minereu de fier și marmură se exploatează din unitatea de relief marcată, pe hartă, cu litera:

a. A	b. C	c. F	d. H	2 puncte
------	------	------	------	-----------------
2. Orașul marcat, pe hartă, cu numărul **3** se numește:

a. Pitești	b. Râmnicu Vâlcea	c. Slatina	d. Târgu Jiu	2 puncte
------------	-------------------	------------	--------------	-----------------
3. Râul marcat, pe hartă, cu numărul **7** se numește:

a. Bega	b. Caraș	c. Cerna	d. Timiș	2 puncte
---------	----------	----------	----------	-----------------

4. Orașul marcat, pe hartă, cu numărul **6** este traversat de râul:
a. Crișul Alb **b.** Mureș **c.** Olt **d.** Someș **2 puncte**
5. În unitatea de relief marcată, pe hartă, cu litera **F** cel mai înalt vârf este:
a. Moldoveanu **b.** Omu **c.** Peleaga **d.** Parângu Mare **2 puncte**

D. Precizați două asemănări și o deosebire între **relieful** unității marcate, pe hartă, cu litera **D** și **relieful** unității marcate cu litera **E**.

Nota 1: Deosebirea și asemănările se pot referi la oricare dintre următoarele aspecte ale **reliefului**: mod de formare, tipuri de roci, distribuția spațială a altitudinilor, gradul de fragmentare, orientarea culmilor și a văilor principale, tipuri genetice de relief, alte aspecte specifice ale reliefului.

Nota 2: Punctajul complet va fi acordat numai dacă cele două deosebiri și o asemănare vor fi prezentate comparativ și nu separat.

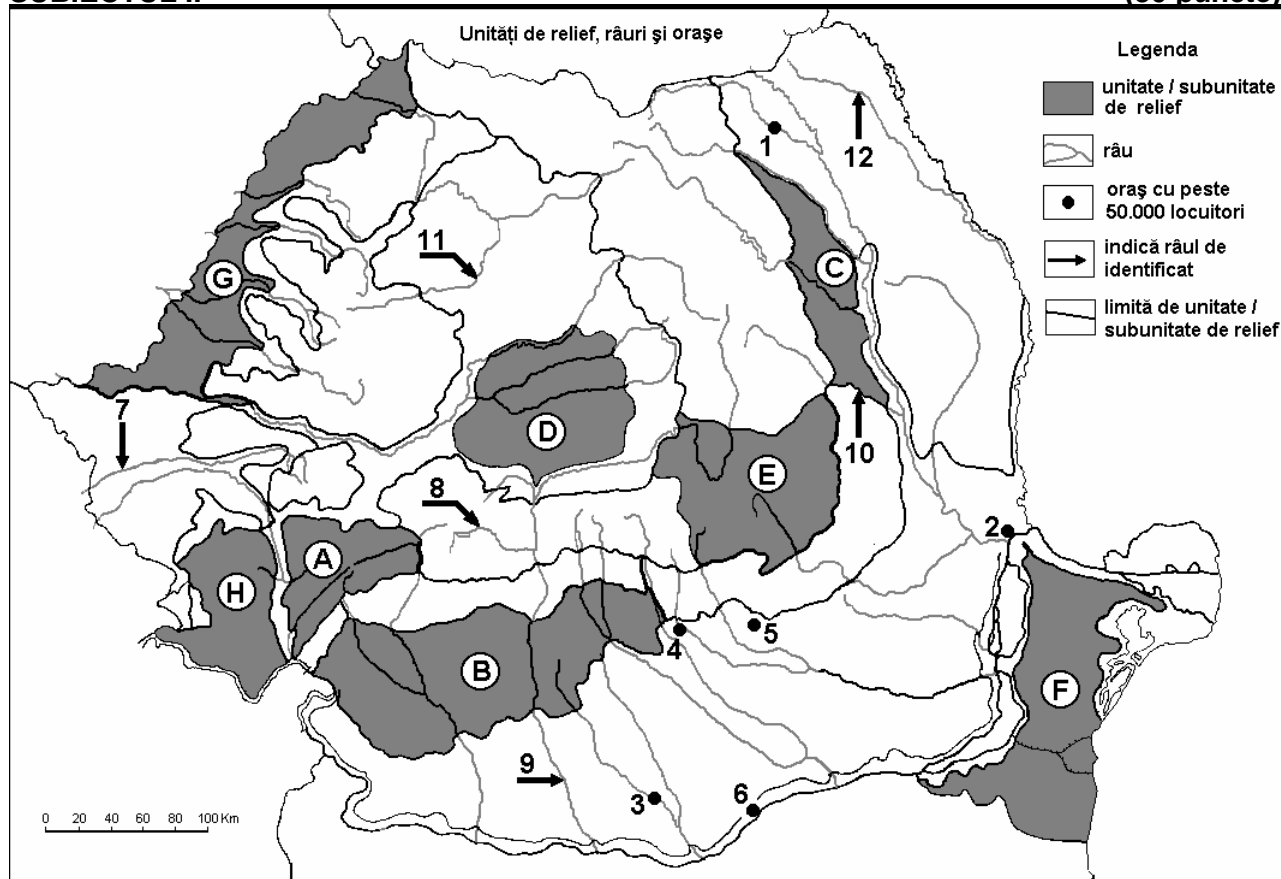
6 puncte

E. Prezentați doi factori care au determinat formarea Deltei Dunării.

4 puncte

Examenul de bacalaureat 2008
Proba D, E, F
Proba scrisă la GEOGRAFIE
Europa–România–Uniunea Europeană

- Toate subiectele sunt obligatorii. Se acordă 10 puncte din oficiu.
- Timpul efectiv de lucru este de 3 ore.

SUBIECTUL II**(30 puncte)**

Harta de mai sus se referă la subiectul II A–E. Pe hartă sunt marcate unități de relief cu litere, orașe cu numere de la 1 la 6 și râuri cu numere de la 7 la 12.

A. Precizați:

- numele unităților de relief marcate, pe hartă, cu literele **A** și **C**;
- numele râurilor marcate, pe hartă, cu numerele **10** și **12**.

4 puncte**B. Scrieți, pe foaia de examen, răspunsurile corecte care completează propozițiile de mai jos:**

- Orașul marcat, pe hartă, cu numărul **3** este străbătut de râul numit ...
- Utilaj petrolier este produs în orașul marcat, pe hartă, cu numărul ...
- Unitatea de relief marcată, pe hartă, cu litera **F** se numește ...

6 puncte**C. Scrieți, pe foaia de examen, litera corespunzătoare răspunsului corect pentru fiecare dintre afirmațiile de mai jos:**

- Sunt centre ale industriei siderurgice, orașele marcate, pe hartă, cu numerele:

a. 1 și 3	b. 1 și 4	c. 2 și 4	d. 3 și 5	2 puncte
-----------	-----------	-----------	-----------	-----------------
- Râul marcat, pe hartă, cu numărul **8** se numește:

a. Cerna	b. Lotru	c. Motru	d. Olt	2 puncte
----------	----------	----------	--------	-----------------
- Orașul marcat, pe hartă, cu numărul **1** se numește:

a. Botoșani	b. Piatra Neamț	c. Suceava	d. Vatra Dornei	2 puncte
-------------	-----------------	------------	-----------------	-----------------
- Râul marcat, pe hartă, cu numărul **11** străbate orașul:

a. Baia Mare	b. Bistrița	c. Cluj-Napoca	d. Zalău	2 puncte
--------------	-------------	----------------	----------	-----------------

5. Gazul metan este exploatat din unitatea de relief marcată, pe hartă, cu litera:

a. B

b. D

c. F

d. G

2 puncte

D. Precizați trei deosebiri între **relieful** unității marcate, pe hartă, cu litera **A** și **relieful** unității marcate, pe hartă, cu litera **E**.

Nota 1: Deosebirile se pot referi la oricare dintre următoarele aspecte ale **reliefului**: mod de formare, tipuri de roci pe care s-a format relieful, altitudini, fragmentare, tipuri de relief, alte aspecte specifice ale reliefului.

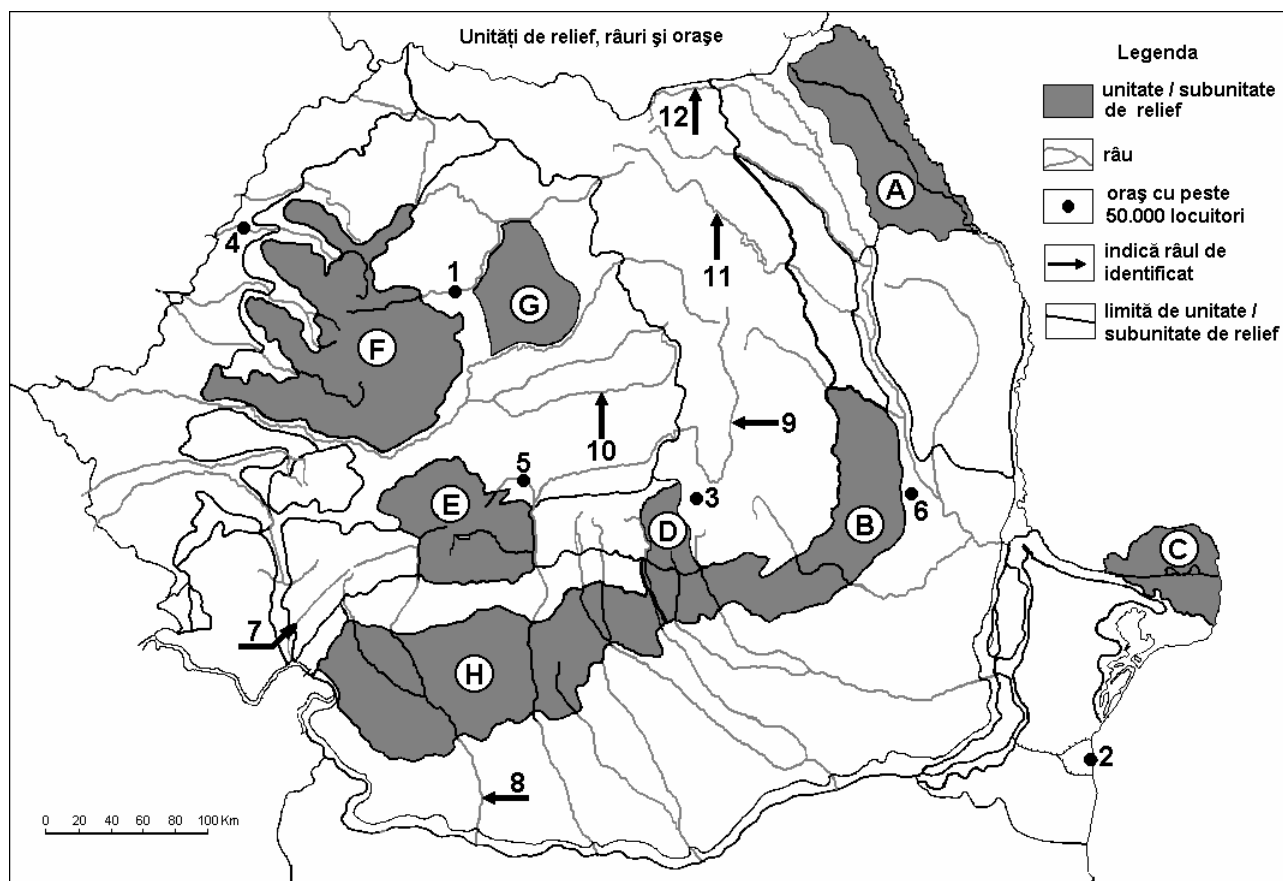
Nota 2: Punctajul complet va fi acordat numai dacă cele trei deosebiri vor fi prezentate comparativ și nu separat. **6 puncte**

E. Precizați două argumente prin care să susțineți afirmația: „Unitatea de relief marcată, pe hartă, cu litera **B** reprezintă o regiune importantă de exploatare a combustibililor minerali fosili.”

4 puncte

Examenul de bacalaureat 2008
Proba D, E, F
Proba scrisă la GEOGRAFIE
Europa–România–Uniunea Europeană

- Toate subiectele sunt obligatorii. Se acordă 10 puncte din oficiu.
- Timpul efectiv de lucru este de 3 ore.

SUBIECTUL II**(30 puncte)**

Harta de mai sus se referă la subiectul II A – E. Pe hartă sunt marcate unități de relief cu litere, orașe cu numere de la 1 la 6 și râuri cu numere de la 7 la 12.

A. Precizați:

- numele unităților de relief marcate, pe hartă, cu literele **A** și **B**;
- numele râurilor marcate, pe hartă, cu numerele **7** și **12**.

4 puncte**B. Scrieți, pe foaia de examen, răspunsurile corecte care completează propozițiile de mai jos:**

- Cele mai reduse cantități de precipitații medii anuale cad în unitatea de relief marcată, pe hartă, cu litera ...
- Termocentrala Turceni, cea mai mare din țară, este localizată în unitatea de relief marcată, pe hartă, cu litera ...
- A fost declarat capitală europeană a culturii în anul 2007, orașul marcat, pe hartă, cu numărul ...

6 puncte**C. Scrieți, pe foaia de examen, litera corespunzătoare răspunsului corect pentru fiecare dintre afirmațiile de mai jos:**

- Numeroase hidrocentrale au fost amenajate pe râurile marcate, pe hartă, cu numerele:

a. 7 și 9	b. 8 și 9	c. 9 și 11	d. 11 și 12	2 puncte
-----------	-----------	------------	-------------	-----------------
- Datează din perioada antică orașele marcate, pe hartă, cu numerele:

a. 1 și 2	b. 1 și 3	c. 1 și 5	d. 2 și 4	2 puncte
-----------	-----------	-----------	-----------	-----------------

3. Din subsolul unității de relief marcate, pe hartă, cu litera G, se exploatează:
a. cărbuni **b.** gaz metan **c.** ape geotermale **d.** petrol **2 puncte**
4. Orașul marcat, pe hartă, cu numărul 6 se numește:
a. Bârlad **b.** Buzău **c.** Focșani **d.** Slobozia **2 puncte**
5. Dintre unitățile de relief marcate pe hartă cu litere, cele mai mari altitudini le are unitatea marcată cu:
a. B **b.** D **c.** E **d.** F **2 puncte**

D. Precizați o asemănare și două deosebiri între **relieful** unității de relief marcate, pe hartă, cu litera **D** și **relieful** unității de relief marcate cu litera **F**.

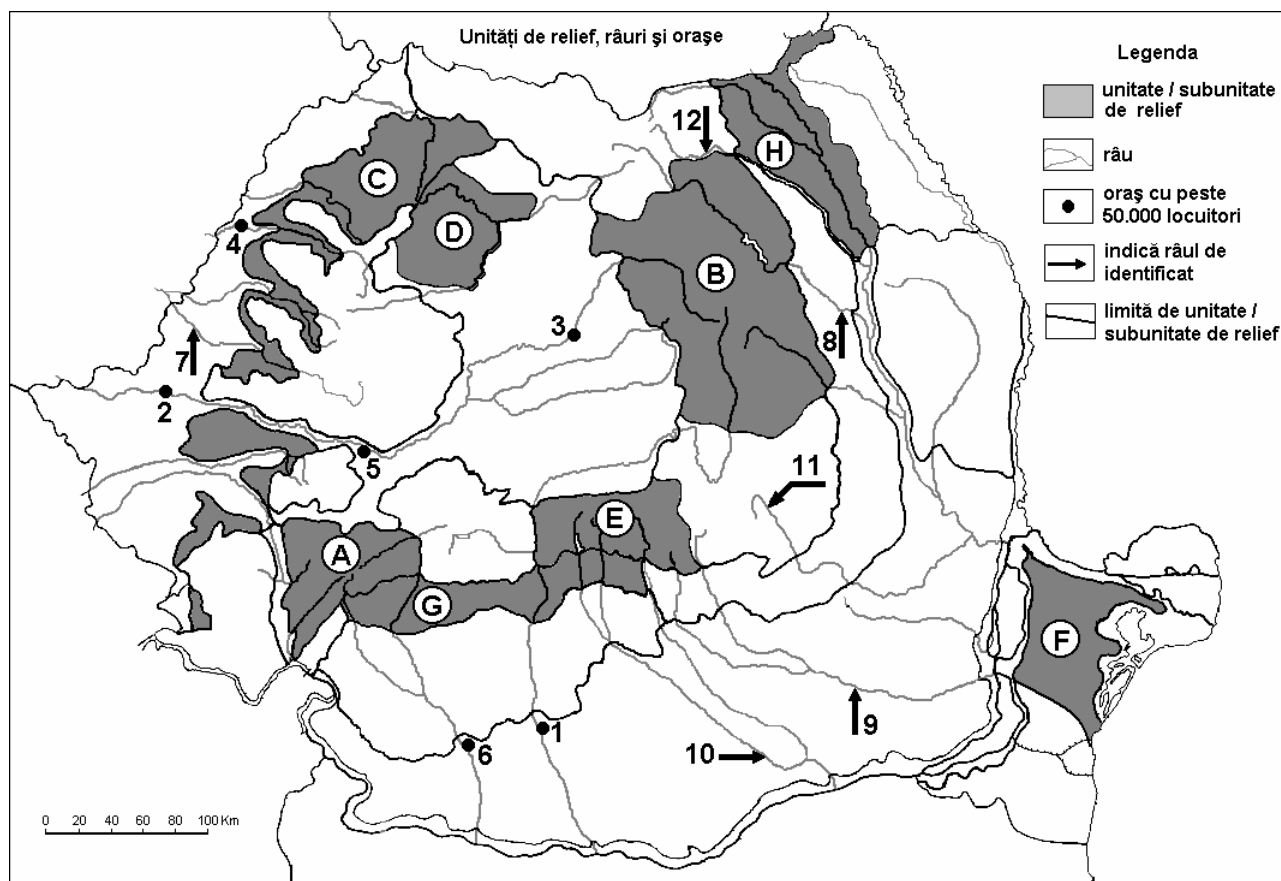
Nota 1: Asemănarea și deosebirile se pot referi la oricare dintre următoarele aspecte ale **reliefului**: mod de formare, tipuri de roci pe care s-a format relieful, altitudini, fragmentare, tipuri de relief, alte aspecte specifice ale reliefului.

Nota 2: Punctajul complet va fi acordat numai dacă asemănarea și deosebirile vor fi prezentate comparativ și nu separat. **6 puncte**

E. Precizați două cauze în urma cărora dezvoltarea funcțiilor economice a determinat transformarea spațiului urban al orașului marcat, pe hartă, cu numărul 2. **4 puncte**

Examenul de bacalaureat 2008
Proba D, E, F
Proba scrisă la GEOGRAFIE
Europa–România–Uniunea Europeană

- Toate subiectele sunt obligatorii. Se acordă 10 puncte din oficiu.
- Timpul efectiv de lucru este de 3 ore.

SUBIECTUL II**(30 puncte)**

Harta de mai sus se referă la subiectul II A – E. Pe hartă sunt marcate unități de relief cu litere, orașe cu numere de la 1 la 6 și râuri cu numere de la 7 la 12.

A. Precizați:

- numele unităților de relief marcate, pe hartă, cu literele **D** și **G**;
- numele râurilor marcate, pe hartă, cu numerele **7** și **9**.

4 puncte**B. Scrieți, pe foaia de examen, răspunsurile corecte care completează propozițiile de mai jos:**

- Resurse de huiță există în unitatea de relief marcată, pe hartă, cu litera ...
- Orașele marcate, pe hartă, cu numerele **2** și **5** sunt străbătute de râul ...
- Locomotive și autoturisme se produc în orașul marcat, pe hartă, cu numărul ...

6 puncte**C. Scrieți, pe foaia de examen, litera corespunzătoare răspunsului corect pentru fiecare dintre afirmațiile de mai jos:**

- Orașul marcat, pe hartă, cu numărul **3** se numește:

a. Alba Iulia	b. Mediaș	c. Târgu Mureș	d. Turda	2 puncte
---------------	-----------	----------------	----------	-----------------
- Râul marcat, pe hartă, cu numărul **11** se numește:

a. Bârlad	b. Buzău	c. Călmățui	d. Trotuș	2 puncte
-----------	----------	-------------	-----------	-----------------
- Influențe climatice scandinavo - baltice sunt caracteristice unității marcate, pe hartă, cu litera:

a. A	b. C	c. D	d. H	2 puncte
------	------	------	------	-----------------

4. Este centru al industriei aluminiului orașul marcat, pe hartă, cu numărul:
a. 1 b. 2 c. 5 d. 6 2 puncte
5. Prezintă numeroase amenajări hidroenergetice, râurile marcate, pe hartă cu numerele:
a. 7 și 11 b. 8 și 10 c. 10 și 12 d. 11 și 12 2 puncte

D. Precizați trei deosebiri între **relieful** unității marcate, pe hartă, cu litera **B** și **relieful** unității marcate cu litera **E**.

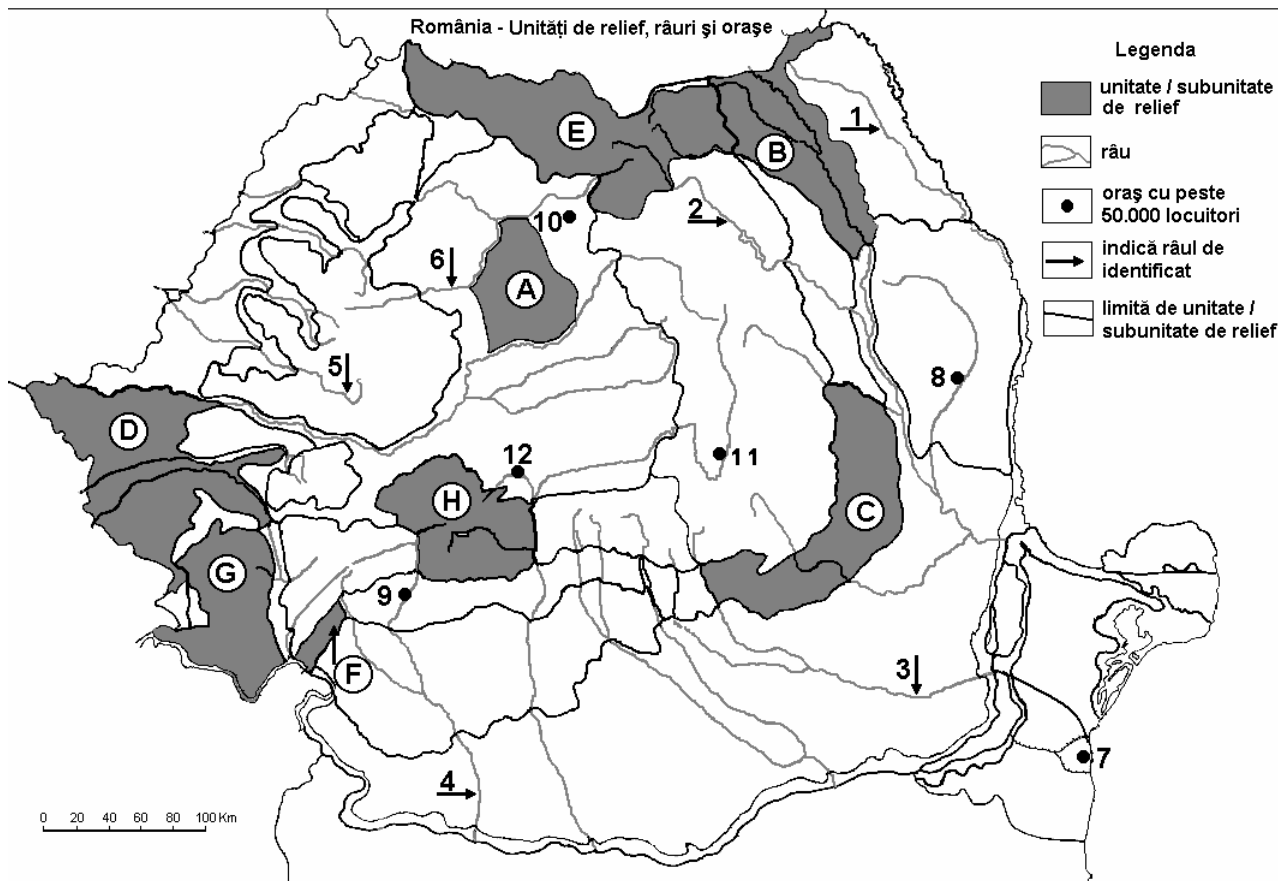
Nota 1: Deosebirile se pot referi la oricare dintre următoarele aspecte ale **reliefului**: mod de formare, tipuri de roci pe care s-a format relieful, altitudini, fragmentare, tipuri de relief, alte aspecte specifice ale reliefului.

Nota 2: Punctajul complet va fi acordat numai dacă cele trei deosebiri vor fi prezentate comparativ și nu separat. **6 puncte**

E. Precizați două cauze pentru a explica diferența dintre cantitatea de precipitații medii anuale din unitatea de relief marcată, pe hartă, cu litera **C** și unitatea marcată, pe hartă, cu litera **F**. **4 puncte**

Examenul de bacalaureat 2008
Proba D, E, F
Proba scrisă la GEOGRAFIE
Europa–România–Uniunea Europeană

- Toate subiectele sunt obligatorii. Se acordă 10 puncte din oficiu.
- Timpul efectiv de lucru este de 3 ore.

SUBIECTUL II**(30 puncte)**

Harta de mai sus se referă la subiectul II A – D. Pe hartă sunt marcate unități de relief cu litere, râuri cu numere de la 1 la 6 și orașe cu numere de la 7 la 12.

A. Precizați:

- numele unităților de relief marcate, pe hartă, cu literele **B** și **C**;
- numele orașelor marcate, pe hartă, cu numerele **7** și **12**.

4 puncte**B. Scrieți, pe foaia de examen, răspunsurile corecte care completează propozițiile de mai jos:**

- Unitatea de podiș formată în timpul orogenezei alpine este marcată, pe hartă, cu litera ...
- Apartine bazinului hidrografic al Prutului râul marcat, pe hartă, cu numărul ...
- Râul marcat pe hartă cu numărul **2** se numește ...

6 puncte**C. Scrieți, pe foaia de examen, litera corespunzătoare răspunsului corect pentru fiecare dintre afirmațiile de mai jos:**

- Râul marcat, pe hartă, cu numărul **6** se numește:

a. Someșul Mare b. Someșul Mic c. Târnava Mare d. Târnava Mică

2 puncte

- Lacul Vidra se află situat în unitatea de relief notată pe hartă cu litera:

a. A b. C c. G d. H

2 puncte

- Drenează o depresiune de tip „golf” râul notat pe hartă cu numărul:

a. 3 b. 4 c. 5 d. 6

2 puncte

4. Orașul marcat, pe hartă, cu numărul **11** se numește:

a. Brașov **b.** Buzău **c.** Miercurea Ciuc **d.** Sfântu Gheorghe **2 puncte**

5. Domuri gazeifere se găsesc în unitatea de relief marcată, pe hartă, cu litera:

a. A **b.** B **c.** C **d.** D **2 puncte**

D. Precizați trei deosebiri între **relieful** unității marcate, pe hartă, cu litera **E** și **relieful** unității marcate cu litera **G**.

Nota 1: Deosebirile se pot referi la oricare dintre următoarele aspecte ale **reliefului**: mod de formare, tipuri de roci pe care s-a format relieful, distribuția spațială a altitudinilor, gradul de fragmentare, orientarea culmilor și a văilor principale, tipuri genetice de relief, alte aspecte specifice ale reliefului.

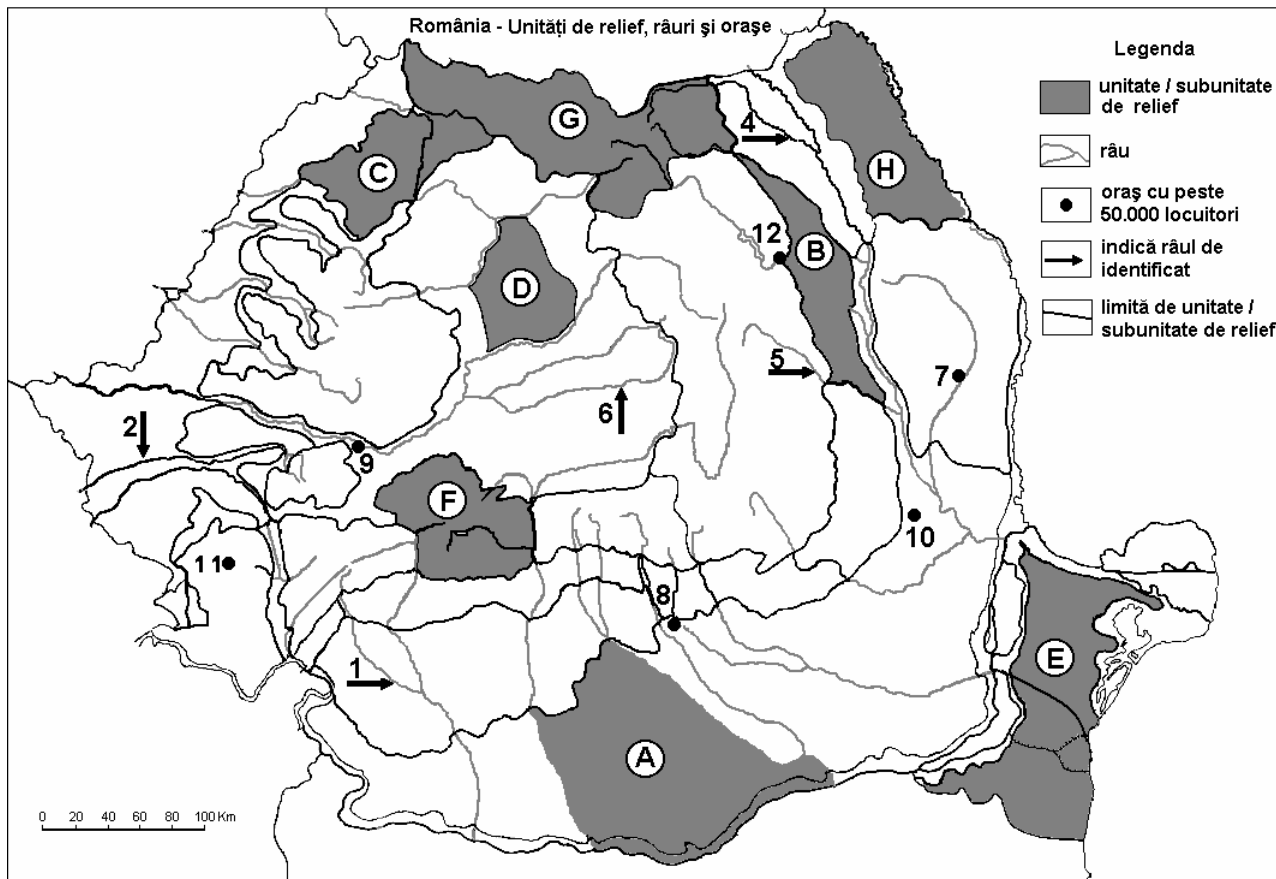
Nota 2: Punctajul complet va fi acordat numai dacă cele trei deosebiri vor fi prezentate comparativ și nu separat. **6 puncte**

E. Prezentați două caracteristici morfologice ale reliefului prin care acesta influențează clima României.

4 puncte

Examenul de bacalaureat 2008
Proba D, E, F
Proba scrisă la GEOGRAFIE
Europa–România–Uniunea Europeană

- Toate subiectele sunt obligatorii. Se acordă 10 puncte din oficiu.
- Timpul efectiv de lucru este de 3 ore.

SUBIECTUL II**(30 puncte)**

Harta de mai sus se referă la subiectul II A – D. Pe hartă sunt marcate unități de relief cu litere, râuri cu numere de la 1 la 6 orașe cu numere de la 7 la 12.

A. Precizați:

- numele orașelor marcate, pe hartă, cu numerele 9 și 12;
- numele râurilor marcate, pe hartă, cu numerele 5 și 6;

4 puncte**B. Scrieți, pe foaia de examen, răspunsurile corecte care completează propozițiile de mai jos:**

- Unitatea subcarpatică cu importante resurse energetice (petrol, gaze naturale) este marcată, pe hartă, cu litera ...
- Unitatea de relief marcată, pe hartă, cu litera **E** se numește ...
- Orașul Alexandria este localizat în unitatea de relief marcată, pe hartă, cu litera ...

6 puncte**C. Scrieți, pe foaia de examen, litera corespunzătoare răspunsului corect pentru fiecare dintre afirmațiile de mai jos:**

- Orașul notat pe hartă cu numărul 7 este:

a. Bârlad	b. Focșani	c. Iași	d. Vaslui	2 puncte
-----------	------------	---------	-----------	-----------------

- Un important combinat siderurgic este situat în orașul notat pe hartă cu numărul:

a. 9	b. 10	c. 11	d. 12	2 puncte
------	-------	-------	-------	-----------------

- Lacul Vidra se află situat în unitatea notată pe hartă cu litera:

a. C	b. D	c. E	d. F	2 puncte
------	------	------	------	-----------------

4. Râul marcat, pe hartă, cu numărul **1** se numește:

a. Cerna

b. Jiu

c. Motru

d. Olteț

2 puncte

5. Cea mai veche unitate de relief este marcată, pe hartă, cu litera:

a. A

b. B

c. C

d. E

2 puncte

D. Precizați trei deosebiri între **clima** unității de relief marcate, pe hartă, cu litera **E** și **clima** unității marcate cu litera **F**.

Nota 1: Deosebirile se pot referi la oricare dintre următoarele aspecte ale climei: temperaturi medii anuale, precipitații medii anuale, vânturi, etaj climatic, influență climatică.

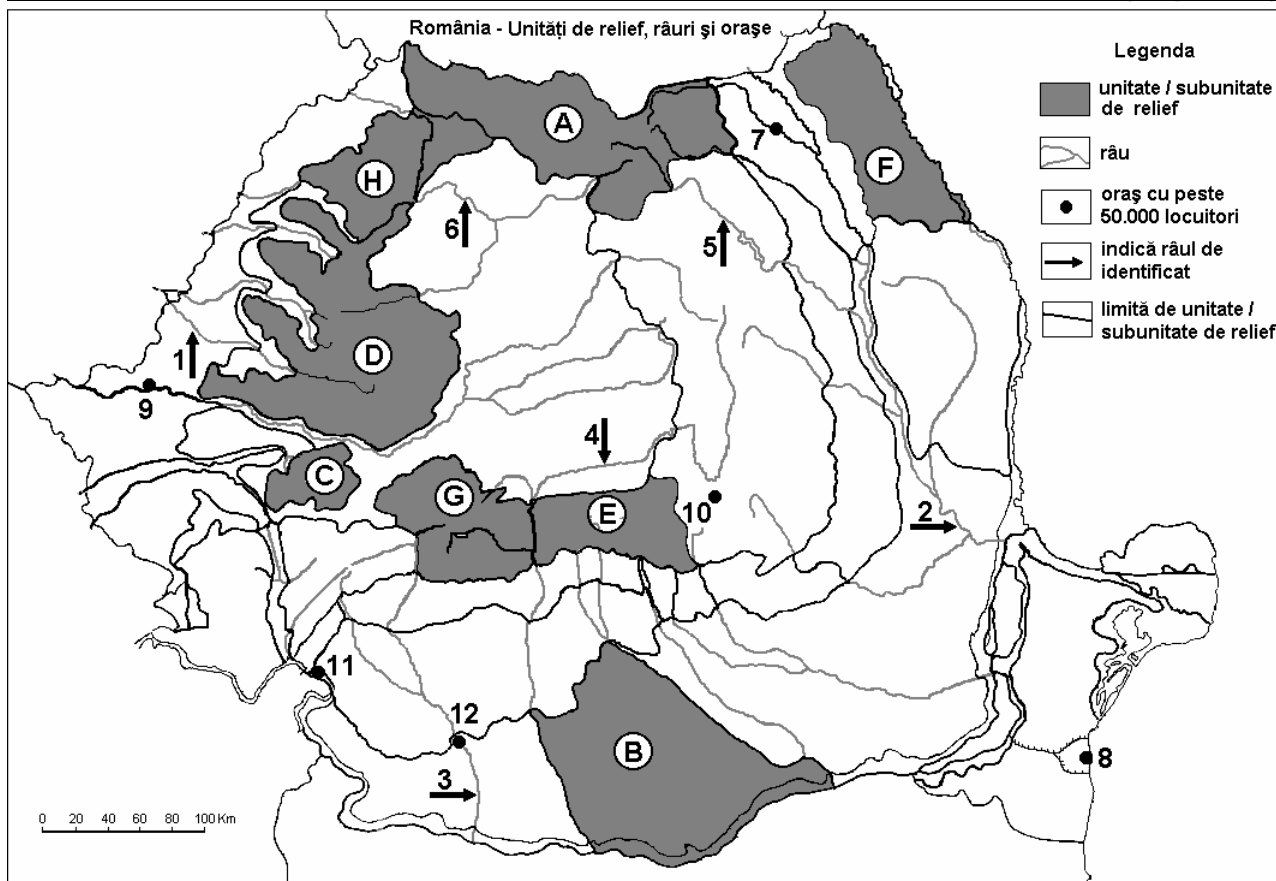
Nota 2: Punctajul complet va fi acordat numai dacă cele trei deosebiri vor fi prezentate comparativ și nu separat. **6 puncte**

E. Prezentați doi factori care influențează debitul râurilor din România.

4 puncte

Examenul de bacalaureat 2008
Proba D, E, F
Proba scrisă la GEOGRAFIE
Europa–România–Uniunea Europeană

- Toate subiectele sunt obligatorii. Se acordă 10 puncte din oficiu.
- Timpul efectiv de lucru este de 3 ore.

SUBIECTUL II**(30 puncte)**

Harta de mai sus se referă la subiectul II A – C. Pe hartă sunt marcate unități de relief cu litere, râuri cu numere de la 1 la 6 și orașe cu numere de la 7 la 12 .

A. Precizați:

- numele unităților de relief marcate, pe hartă, cu literele **A** și **C**;
- numele râurilor marcate, pe hartă, cu numerele **2** și **5**;

4 puncte**B. Scrieți, pe foaia de examen, răspunsurile corecte care completează propozițiile de mai jos:**

- Au orientare predominant NV-SE culmile munților din unitatea de relief marcată, pe hartă, cu litera ...
- În unitatea de relief marcată, pe hartă, cu litera **D** se manifestă influența climatică...
- Orașul-port fluvial marcat, pe hartă, cu numărul **11** se numește

6 puncte**C. Scrieți, pe foaia de examen, litera corespunzătoare răspunsului corect pentru fiecare dintre afirmațiile de mai jos:**

- Relief carstic diversificat este specific în unitatea de relief marcată, pe hartă, cu litera:

a. B b. D c. F d. H **2 puncte**

- Orașul marcat, pe hartă, cu numărul **12** este străbătut de:

a. Buzău b. Ialomița c. Jiu d. Olt **2 puncte**

- Râul marcat, pe hartă, cu numărul **4** străbate Depresiunea:

a. Giurgeu b. Loviștei c. Maramureș d. Petroșani **2 puncte**

4. Străbate o câmpie de subsidență râul marcat, pe hartă, cu numărul:

a. 2

b. 3

c. 4

d. 5

2 puncte

5. Vegetația alpină este bine reprezentată în unitatea de relief marcată, pe hartă, cu litera:

a. C

b. E

c. F

d. H

2 puncte

D. Precizați două deosebiri și o asemănare între **relieful** Podișului Getic și **relieful** Depresiunii Colinare a Transilvaniei.

Nota 1: Deosebirile și asemănarea se pot referi la oricare dintre următoarele aspecte ale **reliefului**: mod de formare, tipuri de roci pe care s-a format relieful, distribuția spațială a altitudinilor, gradul de fragmentare, înclinare, tipuri genetice de relief, alte aspecte specifice ale reliefului.

Nota 2: Punctajul complet va fi acordat numai dacă deosebirile și asemănarea vor fi prezentate comparativ și nu separat.

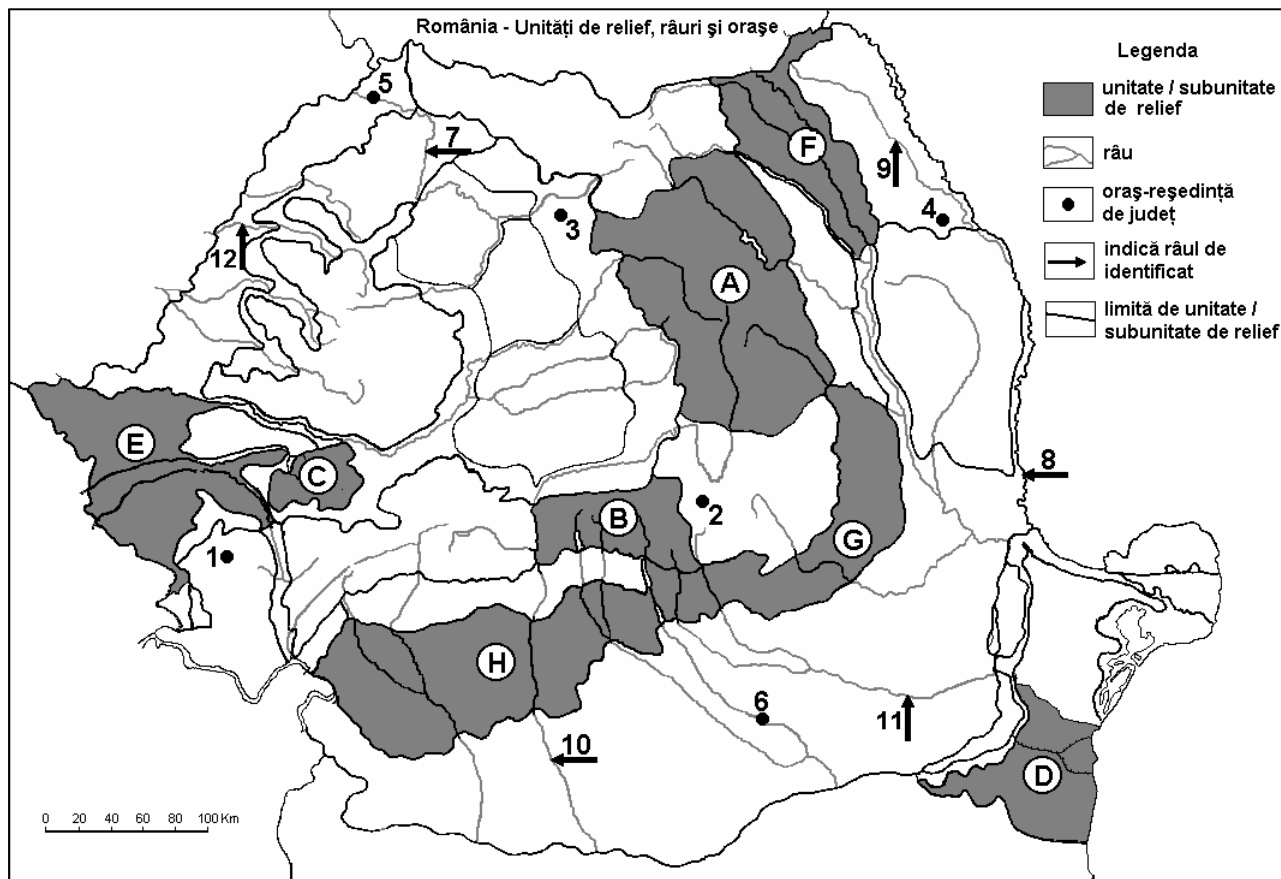
6 puncte

E. Precizați două argumente care să susțină afirmația că „Podișul Dobrogei este cea mai veche și mai complexă unitate de relief din țară.”

4 puncte

Examenul de bacalaureat 2008
Proba D, E, F
Proba scrisă la Geografie
Europa – România – Uniunea Europeană

- Toate subiectele sunt obligatorii. Se acordă 10 puncte din oficiu.
- Timpul efectiv de lucru este de 3 ore.

SUBIECTUL II**(30 puncte)**

Harta de mai sus se referă la subiectul II A – D. Pe hartă sunt marcate unități sau subunități de relief cu litere, orașe cu numere de la 1 la 6 și râuri cu numere de la 7 la 12.

A. Precizați:

- numele subunităților de relief marcate, pe hartă, cu literele C și H;
- numele orașelor marcate, pe hartă, cu numerele 1 și 4.

4 puncte**B. Scrieți, pe foaia de examen, răspunsurile corecte care completează propozițiile de mai jos:**

- Orașul marcat, pe hartă, cu numărul 5 se numește...
- În unitatea de relief marcată, pe hartă, cu litera F se resimt influențe climatice...
- Importante zăcăminte de minereuri de fier și marmură se exploatează din unitatea de relief marcată, pe hartă, cu litera...

6 puncte**C. Scrieți, pe foaia de examen, litera corespunzătoare răspunsului corect pentru fiecare dintre afirmațiile de mai jos:**

- Râul marcat, pe hartă, cu numărul 8 se numește:

a. Bârlad	b. Moldova	c. Prut	d. Siret	2 puncte
-----------	------------	---------	----------	-----------------
- Orașul marcat, pe hartă, cu numărul 6 este străbătut de râul:

a. Argeș	b. Călmățui	c. Dâmbovița	d. Prahova	2 puncte
----------	-------------	--------------	------------	-----------------

3. Cel mai important bazin de exploatare a lignitului este situat în unitatea de relief marcată, pe hartă, cu litera:

a. C b. D c. F d. H **2 puncte**

4. Râul marcat, pe hartă, cu numărul 7 se numește:

a. Crișul Alb b. Crișul Negru c. Crișul Repede d. Someș **2 puncte**

5. Orașul marcat, pe hartă, cu numărul 2 se numește:

a. Brașov b. Covasna c. Miercurea Ciuc d. Sfântu Gheorghe **2 puncte**

D. Precizați trei deosebiri între **relieful** unității marcate, pe hartă, cu litera **B** și **relieful** unității marcate cu litera **G**.

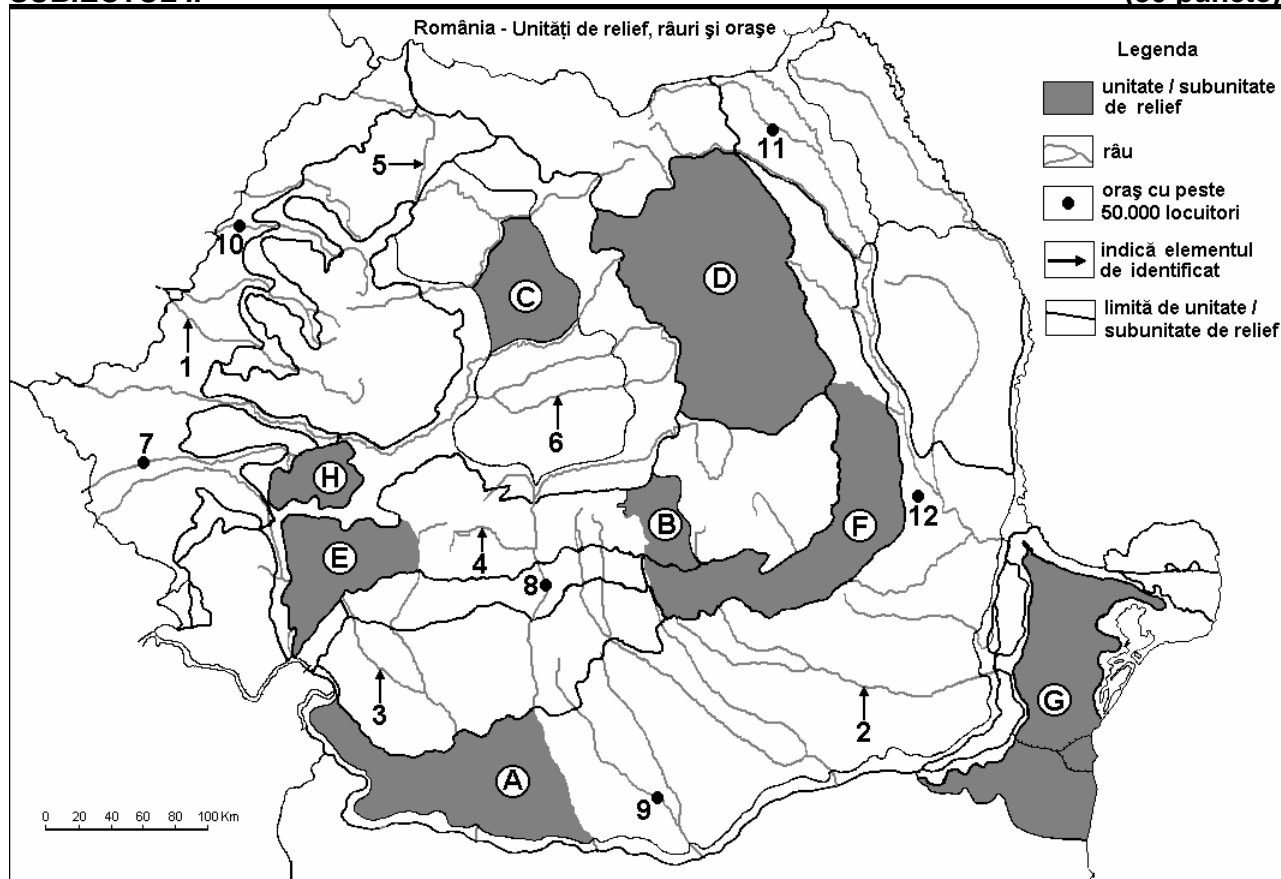
Nota 1: Deosebirile se pot referi la oricare dintre următoarele aspecte ale **reliefului**: mod de formare, tipuri de roci, distribuția spațială a altitudinilor, gradul de fragmentare, orientarea culmilor și văilor principale, tipuri genetice de relief, alte aspecte specifice ale reliefului.

Nota 2: Punctajul complet va fi acordat numai dacă deosebirile vor fi prezentate comparativ și nu separat. **6 puncte**

E. Explicați varietatea influențelor climatice de pe teritoriul țării noastre. **4 puncte**

Examenul de bacalaureat 2008
Proba D, E, F
Proba scrisă la Geografie
Europa – România – Uniunea Europeană

- Toate subiectele sunt obligatorii. Se acordă 10 puncte din oficiu.
- Timpul efectiv de lucru este de 3 ore.

SUBIECTUL II**(30 puncte)**

Harta de mai sus se referă la subiectul II A – E. Pe hartă sunt marcate unități de relief cu litere, râuri cu numere de la 1 la 6 și orașe cu numere de la 7 la 12.

A. Precizați:

- numele râurilor marcate, pe hartă, cu numerele 3 și 6;
- numele orașelor marcate, pe hartă, cu numerele 7 și 12.

4 puncte**B. Scrieți, pe foaia de examen, răspunsurile corecte care completează propozițiile de mai jos:**

- Conuri și cratere vulcanice sunt prezente în unitatea de relief marcată, pe hartă, cu litera ...
- Este situat în Subcarpații Getici orașul marcat, pe hartă, cu numărul ...
- Prezintă roci foarte vechi unitatea de relief marcată, pe hartă, cu litera ...

6 puncte**C. Scrieți, pe foaia de examen, litera corespunzătoare răspunsului corect pentru fiecare dintre afirmațiile de mai jos:**

- Zăcăminte de marmură și minereu de fier există în subsolul unității de relief marcată, pe hartă, cu litera:

a. B	b. C	c. E	d. H	2 puncte
------	------	------	------	-----------------

- Prezintă un relief de domuri unitatea de relief marcată, pe hartă, cu litera:

a. A	b. C	c. D	d. G	2 puncte
------	------	------	------	-----------------

- Străbate Podișul Getic râul marcat, pe hartă, cu numărul:

a. 2	b. 3	c. 4	d. 6	2 puncte
------	------	------	------	-----------------

-
4. Râul marcat, pe hartă, cu numărul **2** străbate orașul:
a. Buzău **b.** Focșani **c.** Galați **d.** Slobozia **2 puncte**
5. Este situat într-o zonă de podiș orașul marcat, pe hartă, cu numărul:
a. 9 **b.** 10 **c.** 11 **d.** 12 **2 puncte**

D. Precizați două deosebiri și o asemănare între **relieful** unității marcate, pe hartă, cu litera **E** și **relieful** unității marcată, pe hartă, cu litera **D**.

Nota 1: Deosebirile și asemănarea se pot referi la oricare dintre următoarele aspecte ale **reliefului**: mod de formare, tipuri de roci, distribuția spațială a altitudinilor, gradul de fragmentare, orientarea culmilor și a văilor principale, tipuri genetice de relief, alte aspecte specifice ale reliefului.

Nota 2: Punctajul complet va fi acordat numai dacă cele două deosebiri și asemănarea vor fi prezentate comparativ și nu separat.

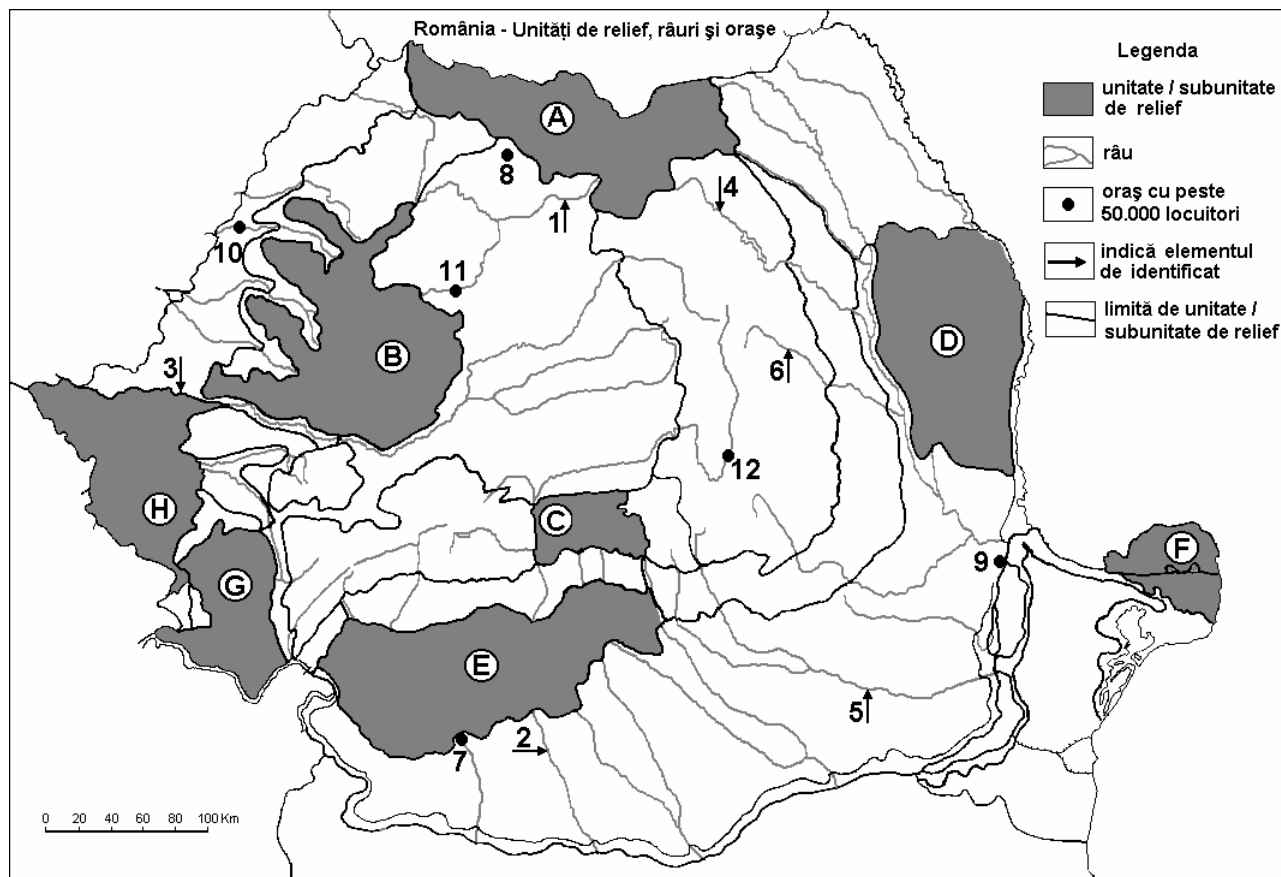
6 puncte

E. Precizați două cauze care determină cantități reduse de precipitații în unitatea de relief marcată, pe hartă, cu litera **G**.

4 puncte

Examenul de bacalaureat 2008
Proba D, E, F
Proba scrisă la Geografie
Europa – România – Uniunea Europeană

- Toate subiectele sunt obligatorii. Se acordă 10 puncte din oficiu.
- Timpul efectiv de lucru este de 3 ore.

SUBIECTUL II**(30 puncte)**

Harta de mai sus se referă la subiectul II A – E. Pe hartă sunt marcate unități de relief cu litere, râuri cu numere de la 1 la 6 și orașe cu numere de la 7 la 12.

A. Precizați:

- numele râurilor marcate pe hartă cu numerele 1 și 6;
- numele orașelor marcate, pe hartă, cu numerele 10 și 12.

4 puncte**B. Scrieți, pe foaia de examen, răspunsurile corecte care completează propozițiile de mai jos:**

- Prezintă cele mai mari altitudini din țară unitatea de relief marcată, pe hartă, cu litera ...
- Relieful de custe este caracteristic subunității de relief marcată, pe hartă, cu litera ...
- Orașul Reșița este situat în unitatea de relief marcată, pe hartă, cu litera ...

6 puncte**C. Scrieți, pe foaia de examen, litera corespunzătoare răspunsului corect pentru fiecare dintre afirmațiile de mai jos:**

- Cea mai joasă unitate de relief este marcată, pe hartă, cu litera:

a. A	b. B	c. F	d. H	2 puncte
------	------	------	------	-----------------

- Poartă denumirea de piemont unitatea de relief marcată, pe hartă, cu litera:

a. C	b. D	c. E	d. F	2 puncte
------	------	------	------	-----------------

- Influențe baltice se resimt în unitatea de relief marcată, pe hartă, cu litera:

a. A	b. B	c. D	d. G	2 puncte
------	------	------	------	-----------------

4. Orașul situat la cea mai joasă altitudine dintre cele de pe hartă, este cel marcat cu numărul:
a. 7 b. 8 c. 9 d. 11 2 puncte
5. Câmpia Bărăganului este traversată de râul marcat, pe hartă, cu numărul:
a. 2 b. 3 c. 5 d. 6 2 puncte

D. Precizați două deosebiri și o asemănare între **relieful** unității marcată, pe hartă, cu litera **A** și **relieful** unității marcată, pe hartă, cu litera **B**.

Nota 1: Deosebirile și asemănarea se pot referi la oricare dintre următoarele aspecte ale **reliefului**: mod de formare, tipuri de roci, distribuția spațială a altitudinilor, gradul de fragmentare, orientarea culmilor și a văilor principale, tipuri genetice de relief, alte aspecte specifice ale reliefului.

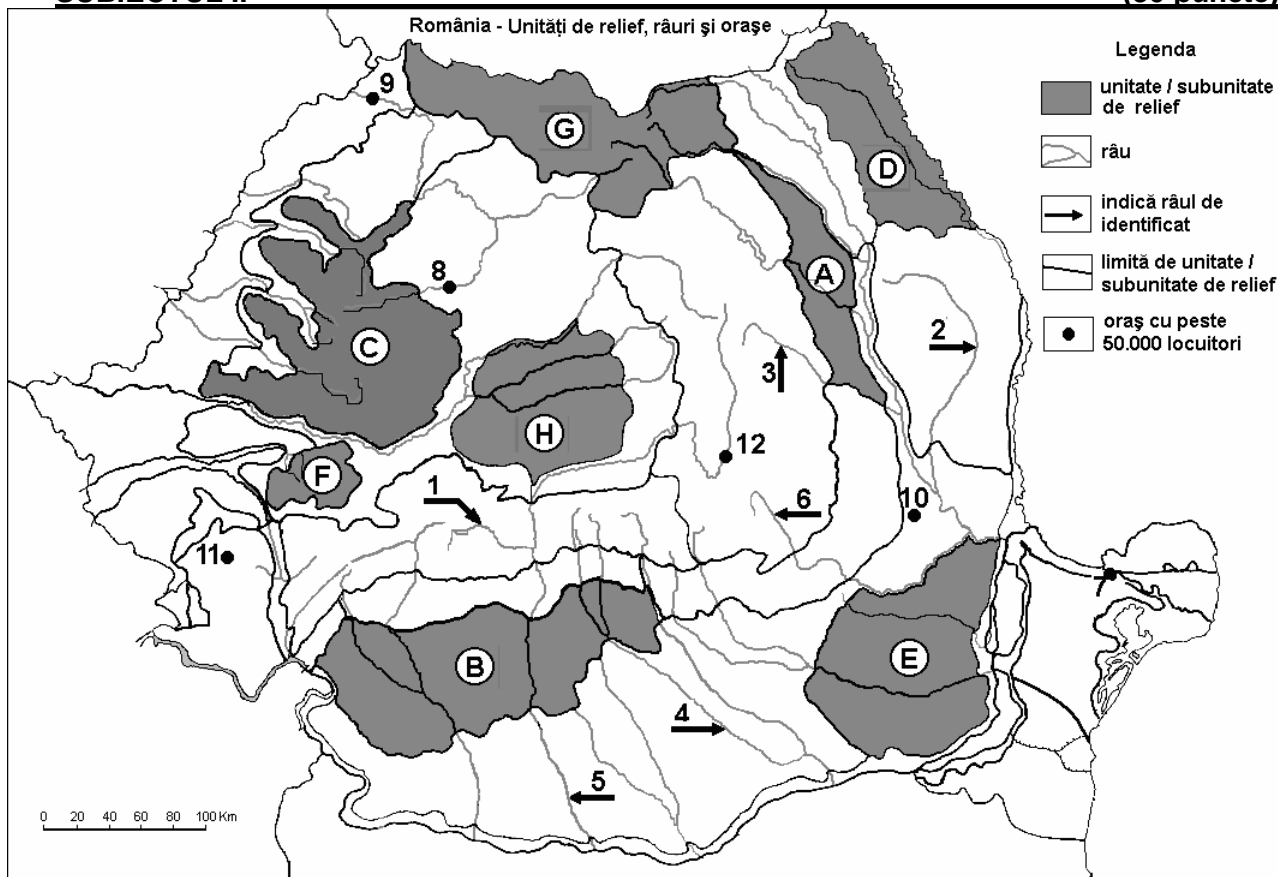
Nota 2: Punctajul complet va fi acordat numai dacă cele două deosebiri și asemănarea vor fi prezentate comparativ și nu separat **6 puncte**

E. Precizați două cauze care explică cantitățile mari de precipitații din unitatea marcată, pe hartă, cu litera **B**.

4 puncte

Examenul de bacalaureat 2008
Proba D, E, F
Proba scrisă la Geografie
Europa – România – Uniunea Europeană

- Toate subiectele sunt obligatorii. Se acordă 10 puncte din oficiu.
- Timpul efectiv de lucru este de 3 ore.

SUBIECTUL II**(30 puncte)**

Harta de mai sus se referă la subiectul II A – D. Pe hartă sunt marcate unități de relief cu litere de la A la H, râuri cu numere de la 1 la 6 și orașe cu numere de la 7 la 12.

A. Precizați:

- numele unităților de relief marcate, pe hartă, cu literele D și F;
- numele orașelor marcate, pe hartă, cu numerele 11 și 12.

4 puncte**B. Scrieți, pe foaia de examen, răspunsurile corecte care completează propozițiile de mai jos:**

- În unitatea de relief marcată, pe hartă, cu litera C sunt pătrund influenței climatice ...
- Râul marcat, pe hartă, cu numărul 6 traversează reședința județului numit ...
- Orașul marcat, pe hartă, cu numărul 11 se numește ...

6 puncte**C. Scrieți, pe foaia de examen, litera corespunzătoare răspunsului corect pentru fiecare dintre afirmațiile de mai jos:**

- Petrol și sare se exploatează din subsolul unității de relief marcate, pe hartă, cu litera:

a. A	b. B	c. D	d. E	2 puncte
------	------	------	------	-----------------
- Influențele climatice scandinav-baltice pătrund în unitatea de relief marcată, pe hartă, cu litera:

a. C	b. F	c. G	d. H	2 puncte
------	------	------	------	-----------------
- Temperaturi medii anuale mai mari de 11°C sunt specifice unității marcate, pe hartă, cu litera:

a. A	b. B	c. D	d. E	2 puncte
------	------	------	------	-----------------
- Este situat în Câmpia de Vest orașul marcat, pe hartă, cu numărul:

a. 8	b. 9	c. 11	d. 12	2 puncte
------	------	-------	-------	-----------------

5. Râurile marcate, pe hartă, cu numerele 2 și 3:

- a. izvorăsc din Subcarpații Moldovei
c. sunt afluenți ai Bistriței

- b. sunt amenajate hidroenergetic
d. sunt afluenți ai Siretului

2 puncte

D. Precizați două deosebiri și o asemănare între **relieful** unității marcate, pe hartă, cu litera E și **relieful** unității de relief marcată, pe hartă, cu litera H.

Nota 1: Deosebirile și asemănarea se pot referi la oricare dintre următoarele aspecte ale **reliefului**: mod de formare, tipuri de roci, distribuția spațială a altitudinilor, gradul de fragmentare, orientarea culmilor și a văilor principale, tipuri genetice de relief, alte aspecte specifice ale reliefului.

Nota 2: Punctajul complet va fi acordat numai dacă deosebirile și asemănarea vor fi prezentate comparativ și nu separat.

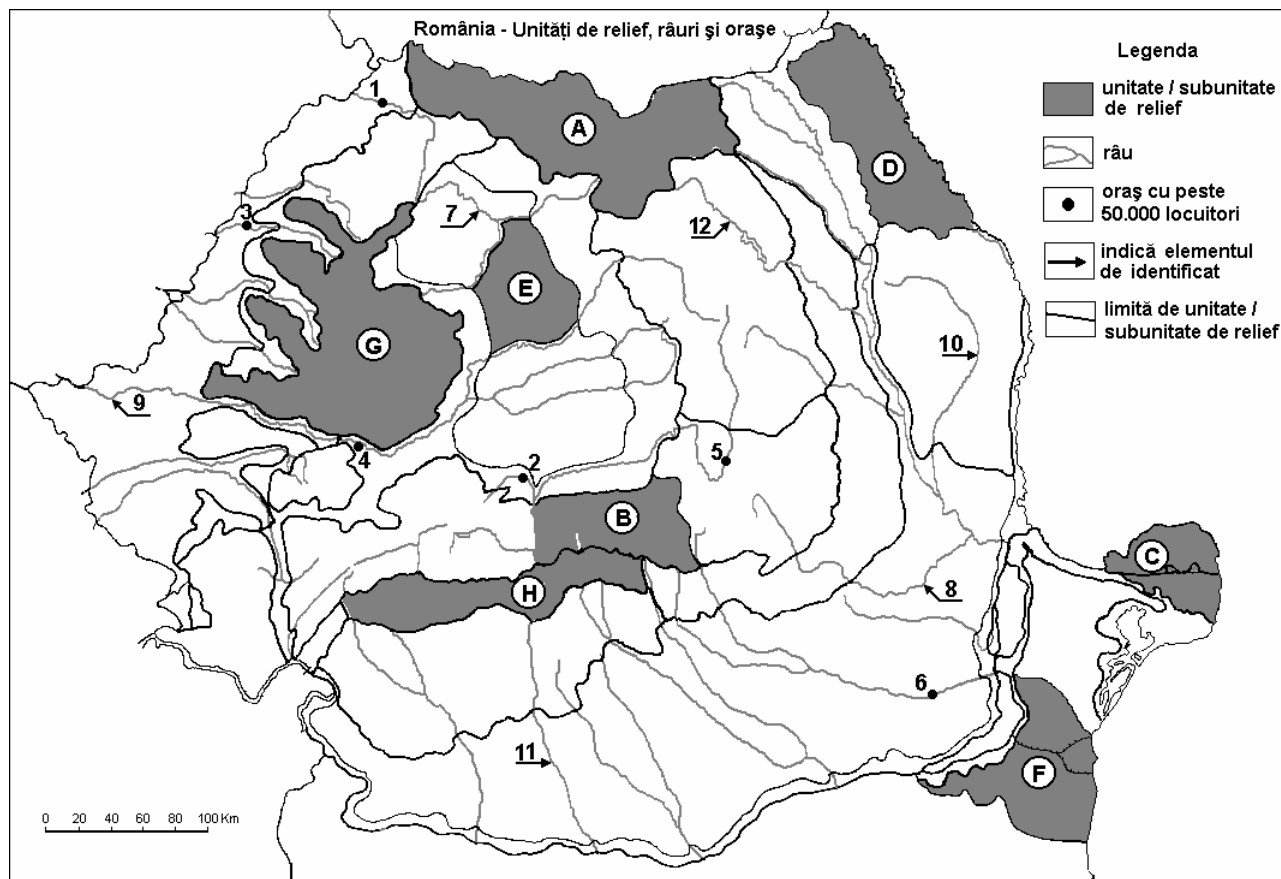
6 puncte

E. Prezentați două cauze care explică diversitatea tipurilor genetice de lacuri din România.

4 puncte

Examenul de bacalaureat 2008
Proba D, E, F
Proba scrisă la Geografie
Europa – România – Uniunea Europeană

- Toate subiectele sunt obligatorii. Se acordă 10 puncte din oficiu.
- Timpul efectiv de lucru este de 3 ore.

SUBIECTUL II**(30 puncte)**

Harta de mai sus se referă la subiectul II A – E. Pe hartă sunt marcate unități de relief cu litere de la A la H, orașe cu numere de la 1 la 6 și râuri cu numere de la 7 la 12.

A. Precizați:

1. numele unităților de relief marcate, pe hartă, cu literele **D** și **E**;
2. numele râurilor marcate, pe hartă, cu numerele **10** și **11**.

4 puncte**B. Scrieți, pe foaia de examen, răspunsurile corecte care completează propozițiile de mai jos:**

1. Orașul marcat, pe hartă, cu numărul **6** este reședința județului...
2. Relieful glaciara are cea mai mare dezvoltare în unitatea de relief marcată, pe hartă, cu litera ...
3. Resurse de petrol, gaze naturale, sare și cărbuni se pot exploata din subsolul unității marcate, pe hartă, cu litera ...

6 puncte**C. Scrieți, pe foaia de examen, litera corespunzătoare răspunsului corect pentru fiecare dintre afirmațiile de mai jos:**

1. Bauxită se exploatează din subsolul unității de relief marcate, pe hartă, cu litera:

a. D	b. B	c. G	d. H	2 puncte
------	------	------	------	-----------------
2. Influențele climatice oceanice sunt specifice unității de relief marcate, pe hartă, cu litera:

a. C	b. D	c. E	d. H	2 puncte
------	------	------	------	-----------------

3. Relieful carstic are o mare dezvoltare în unitatea de relief marcată, pe hartă, cu litera:

a. C **b. D** **c. E** **d. G** **2 puncte**

4. Străbate Podișul Getic râul marcat, pe hartă, cu numărul:

a. 8 **b. 9** **c. 10** **d. 11** **2 puncte**

5. Amenajări hidroenergetice sunt pe râul marcat, pe hartă, cu numărul:

a. 7 **b. 9** **c. 10** **d. 12** **2 puncte**

D. Precizați două deosebiri și o asemănare între **relieful** unității marcate, pe hartă cu litera **E** și **relieful** unității marcate, pe hartă cu litera **F**.

Nota 1: Deosebirile și asemănarea se pot referi la oricare dintre următoarele aspecte ale **reliefului**: mod de formare, tipuri de roci, distribuția spațială a altitudinilor, gradul de fragmentare, orientarea culmilor și a văilor principale, tipuri genetice de relief, alte aspecte specifice ale reliefului.

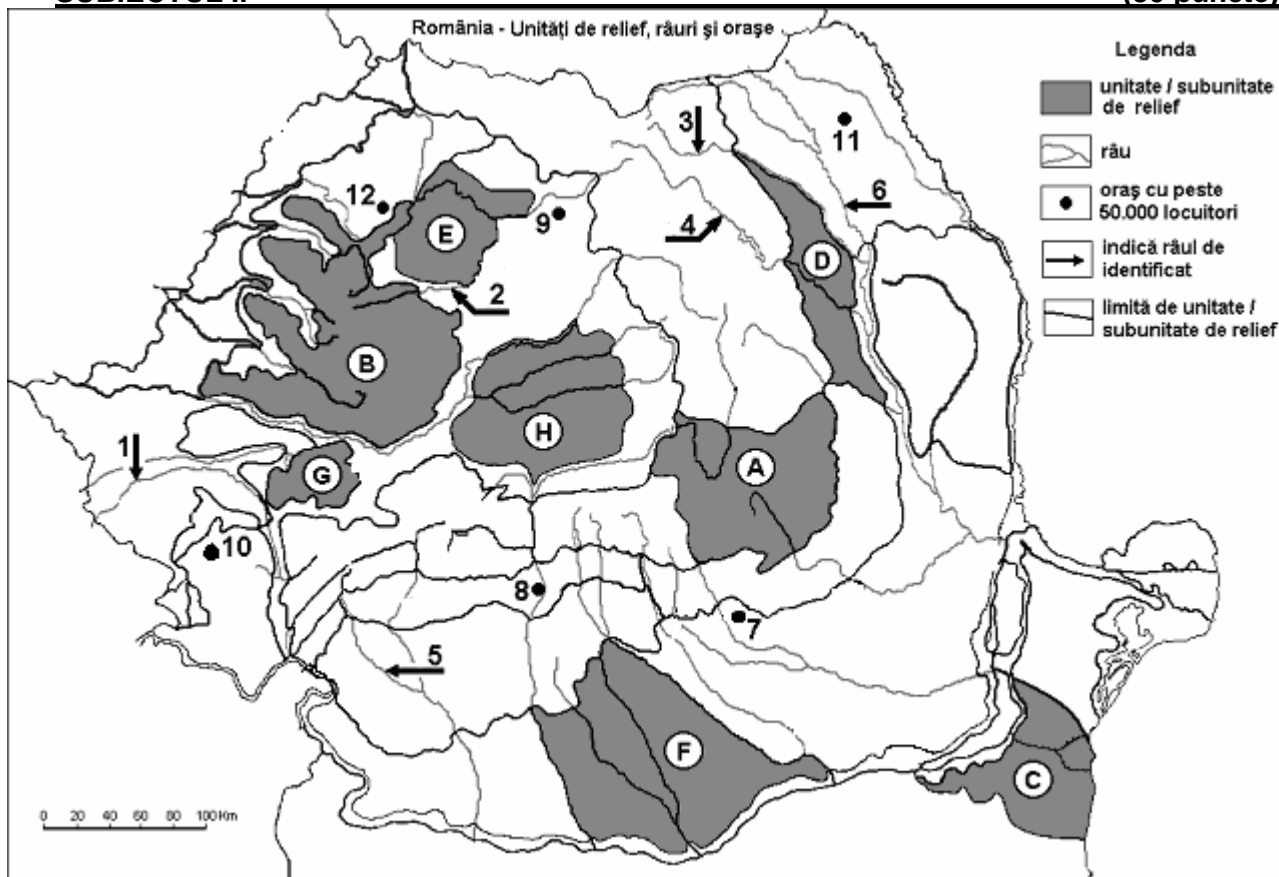
Nota 2: Punctajul complet va fi acordat numai dacă asemănarea și deosebirile vor fi prezentate comparativ și nu separat. **6 puncte**

E. Precizați două cauze care determină cantități reduse de precipitații în unitatea marcată, pe hartă, cu litera **C**.

4 puncte

Examenul de bacalaureat 2008
Proba D, E, F
Proba scrisă la Geografie
Europa – România – Uniunea Europeană

- Toate subiectele sunt obligatorii. Se acordă 10 puncte din oficiu.
- Timpul efectiv de lucru este de 3 ore.

SUBIECTUL II**(30 puncte)**

Harta de mai sus se referă la subiectul II A – D. Pe hartă sunt marcate unități de relief cu litere, râuri cu numere de la 1 la 6 și orașe cu numere de la 7 la 12.

A. Precizați:

- numele unităților de relief marcate, pe hartă, cu literele **D** și **H**;
- numele râurilor marcate, pe hartă, cu numerele **4** și **5**.

4 puncte**B. Scrieți, pe foaia de examen, răspunsurile corecte care completează propozițiile de mai jos:**

- Influențe climatice continentale și pontice sunt specifice în subunitatea de relief marcată, pe hartă, cu litera ...
- Zăcămintele de gaz metan se exploatează din unitatea de relief marcată, pe hartă, cu litera ...
- Unitatea montană în care s-a dezvoltat un oraș, reședință de județ, cu aproape 300.000 locuitori este marcată, pe hartă, cu litera ...

6 puncte**C. Scrieți, pe foaia de examen, litera corespunzătoare răspunsului corect pentru fiecare dintre afirmațiile de mai jos:**

- Orașul marcat, pe hartă, cu numărul **7** este reședința județului:

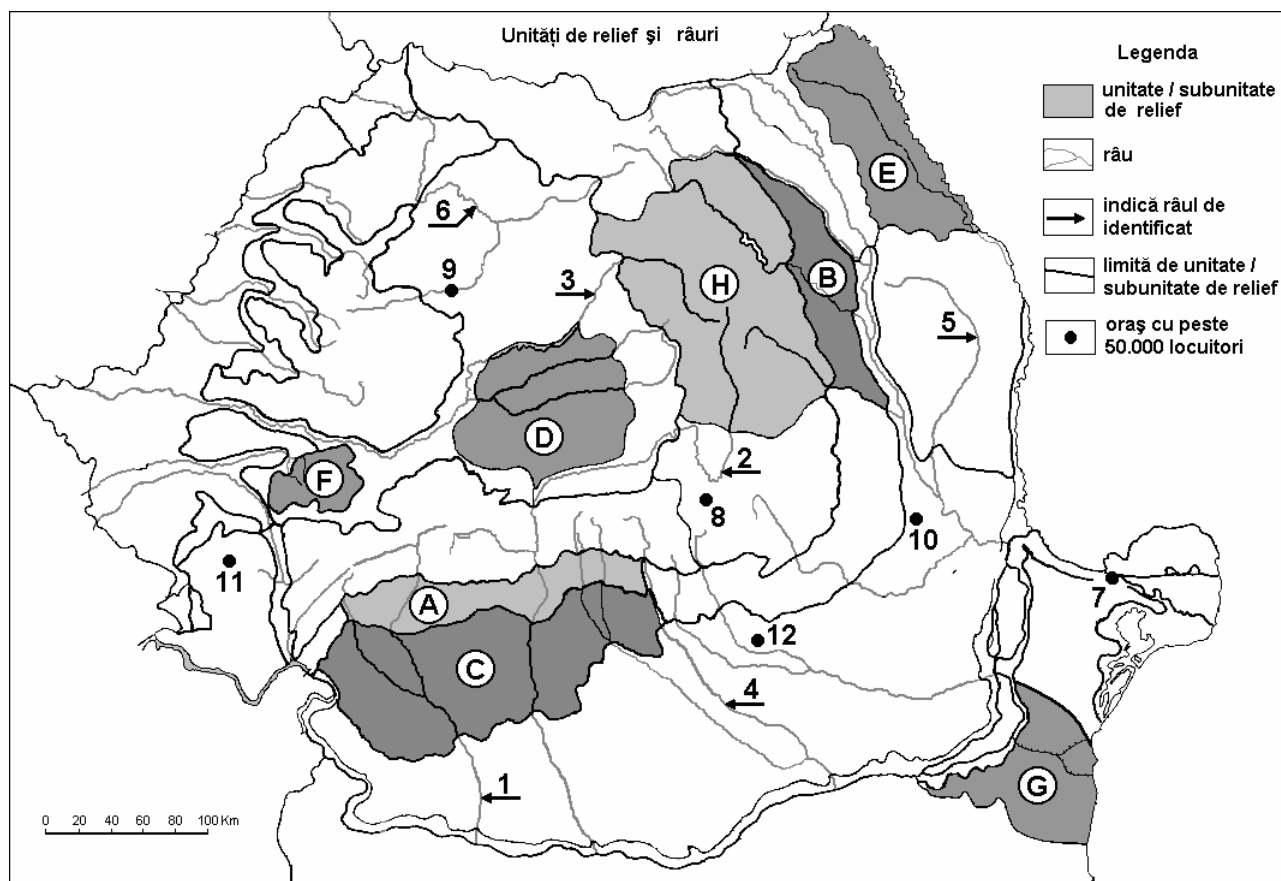
a. Buzău	b. Dâmbovița	c. Prahova	d. Vrancea	2 puncte
----------	--------------	------------	------------	-----------------
- Râul marcat, pe hartă, cu numărul **3** se numește:

a. Jijia	b. Moldova	c. Suceava	d. Trotuș	2 puncte
----------	------------	------------	-----------	-----------------
- Orașul marcat, pe hartă, cu numărul **11** se numește:

a. Bacău	b. Botoșani	c. Piatra Neamț	d. Vaslui	2 puncte
----------	-------------	-----------------	-----------	-----------------

Examenul de bacalaureat 2008
Proba D, E, F
Proba scrisă la GEOGRAFIE
Europa–România–Uniunea Europeană

- Toate subiectele sunt obligatorii. Se acordă 10 puncte din oficiu.
- Timpul efectiv de lucru este de 3 ore.

SUBIECTUL II**(30 puncte)**

Harta de mai sus se referă la subiectul II A – D. Pe hartă sunt marcate unități de relief cu litere, râuri cu numere de la 1 la 6 și orașe cu numere de la 7 la 12.

A. Precizați:

- numele unităților de relief marcate, pe hartă, cu literele **A** și **E**;
- numele râurilor marcate, pe hartă, cu numerele **1** și **5**.

4 puncte**B. Scrieți, pe foaia de examen, răspunsurile corecte care completează propozițiile de mai jos:**

- O subunitate a Podișului Moldovei este marcată, pe hartă, cu litera ...
- Relief vulcanic este prezent în unitatea de relief marcată, pe hartă, cu litera ...
- Râul care delimitează la sud unitatea de relief marcată, pe hartă, cu litera **B** se numește ...

6 puncte**C. Scrieți, pe foaia de examen, litera corespunzătoare răspunsului corect pentru fiecare dintre afirmațiile de mai jos:**

- Râul care delimitează spre est Subcarpații Getici este marcat, pe hartă, cu numărul:

a. 1	b. 3	c. 4	d. 6	2 puncte
------	------	------	------	-----------------
- Relief de dealuri pe structuri de tip „dom” este specific unității marcate, pe hartă, cu litera:

a. C	b. D	c. E	d. H	2 puncte
------	------	------	------	-----------------
- În unitatea de relief marcată, pe hartă, cu litera **F** pătrund influențe climatice:

a. de ariditate	b. de tranziție	c. oceanice	d. pontice	2 puncte
-----------------	-----------------	-------------	------------	-----------------

4. La cea mai joasă altitudine se află orașul marcat, pe hartă, cu numărul:
a. 7 **b. 9** **c. 11** **d. 12** **2 puncte**
5. Cele mai coborâte altitudini sunt în unitatea de relief marcată, pe hartă, cu litera:
a. A **b. B** **c. E** **d. H** **2 puncte**

D. Precizați trei deosebiri între **clima** unității de relief marcate, pe hartă, cu litera **D** și **clima** unității de relief marcate, pe hartă, cu litera **G**.

Nota 1: Deosebirile se pot referi la oricare dintre următoarele elemente de **climă**: temperaturi medii anuale, precipitații medii anuale, vânturi, influență climatică, etaj climatic.

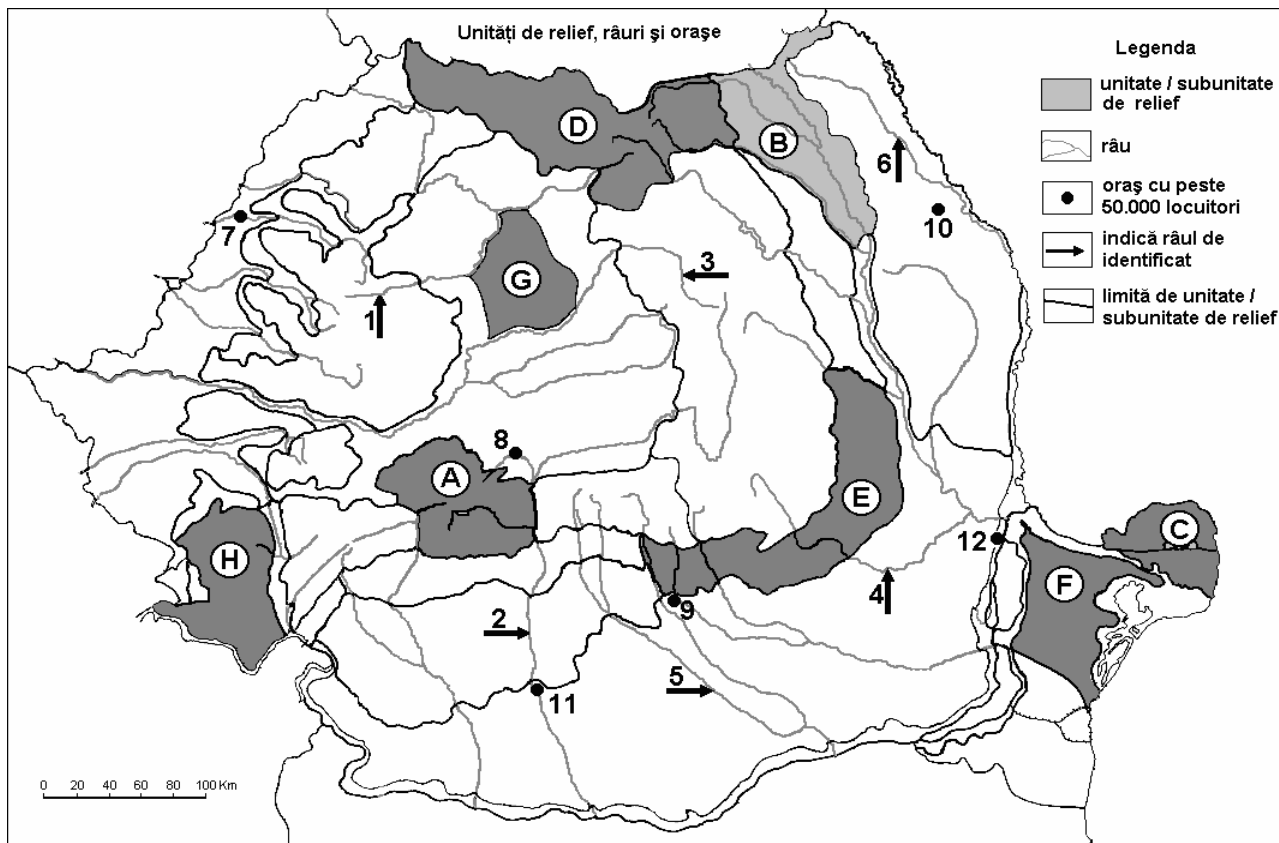
Nota 2: Punctajul complet va fi acordat numai dacă cele trei deosebiri vor fi prezentate comparativ și nu separat.

6 puncte

E. Prezentați două argumente prin care să explicați importanța fondului forestier pentru țara noastră. **4 puncte**

Examenul de bacalaureat 2008
Proba D, E, F
Proba scrisă la GEOGRAFIE
Europa–România–Uniunea Europeană

- Toate subiectele sunt obligatorii. Se acordă 10 puncte din oficiu.
- Timpul efectiv de lucru este de 3 ore.

SUBIECTUL II**(30 puncte)**

Harta de mai sus se referă la subiectul II A – D. Pe hartă sunt marcate unități de relief cu litere, râuri cu numere de la 1 la 6 și orașe cu numere de la 7 la 12.

A. Precizați:

- numele unităților de relief marcate, pe hartă, cu literele **E** și **G**;
- numele orașelor marcate, pe hartă, cu numerele **8** și **9**.

4 puncte**B. Scrieți, pe foaia de examen, răspunsurile corecte care completează propozițiile de mai jos:**

- Râul marcat, pe hartă, cu numărul **5** se numește...
- Orașul marcat, pe hartă, cu numărul **12** se numește ...
- Râul care traversează orașul marcat, pe hartă, cu numărul **7** se numește ...

6 puncte**C. Scrieți, pe foaia de examen, litera corespunzătoare răspunsului corect pentru fiecare dintre afirmațiile de mai jos:**

- Solurile din clasa spodosolurilor caracterizează unitățile de relief marcate, pe hartă, cu literele:

a. A și D	b. B și F	c. C și E	d. G și H	2 puncte
-----------	-----------	-----------	-----------	-----------------
- Cele mai vechi roci din România care apar la zi (suprafață) intră în alcătuirea unității de relief marcată, pe hartă, cu litera:

a. B	b. F	c. G	d. H	2 puncte
------	------	------	------	-----------------
- Râul marcat, pe hartă, cu numărul **6** se numește:

a. Bârlad	b. Jijia	c. Prut	d. Siret	2 puncte
-----------	----------	---------	----------	-----------------
- Orașul marcat, pe hartă, cu numărul **11** se numește:

a. Alexandria	b. Craiova	c. Râmnicu Vâlcea	d. Slatina	2 puncte
---------------	------------	-------------------	------------	-----------------

5. Râul marcat, pe hartă, cu numărul 3 străbate, de la izvor spre vărsare, orașele:

a. Alba Iulia, Hunedoara, Arad

b. Arad, Deva, Târgu Mureș

c. Sibiu, Deva, Arad

d. Târgu Mureș, Deva, Arad

2 puncte

D. Precizați două deosebiri și o asemănare între **relieful** unități marcate, pe hartă, cu litera **A** și **relieful** unității marcate, pe hartă, cu litera **D**.

Nota 1: Deosebirile și asemănarea se pot referi la oricare dintre următoarele aspecte ale reliefului: mod de formare, tipuri de roci, distribuția spațială a altitudinilor, gradul de fragmentare, orientarea culmilor și văilor principale, tipuri genetice de relief, alte aspecte specifice ale reliefului.

Nota 2: Punctajul complet va fi acordat numai dacă asemănarea și deosebirile vor fi prezentate comparativ și nu separat.

6 puncte

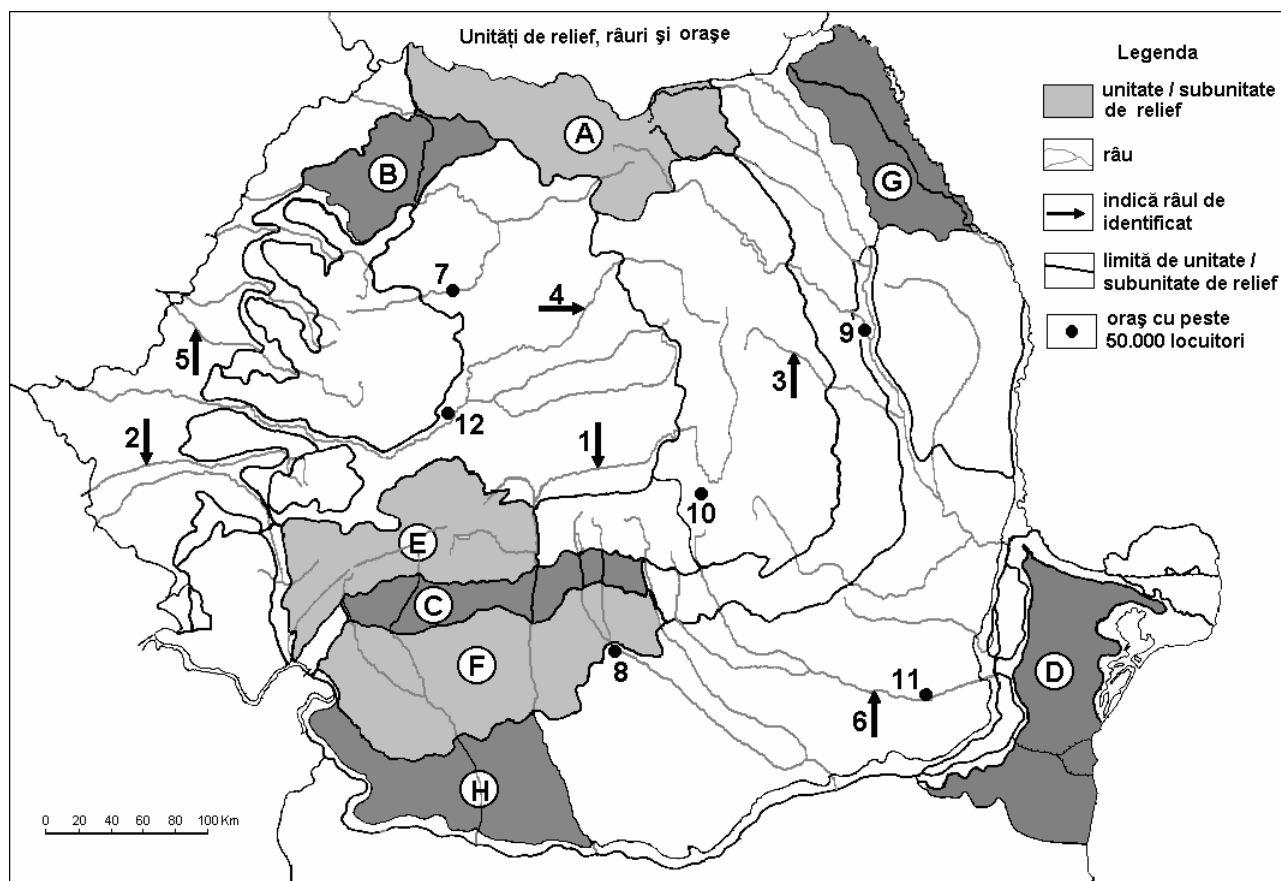
E. 1. Precizați doi factori care determină valori mai mici, decât media pe țară, ale densității populației în unele regiuni ale țării.

2. Menționați două județe din aceste regiuni unde populația are densități mai mici decât media pe țară.

4 puncte

Examenul de bacalaureat 2008
Proba D, E, F
Proba scrisă la GEOGRAFIE
Europa–România–Uniunea Europeană

- Toate subiectele sunt obligatorii. Se acordă 10 puncte din oficiu.
- Timpul efectiv de lucru este de 3 ore.

SUBIECTUL II**(30 puncte)**

Harta de mai sus se referă la subiectul II A – D. Pe hartă sunt marcate unități de relief cu litere, râuri cu numere de la 1 la 6 și orașe cu numere de la 7 la 12.

A. Precizați:

1. numele unităților de relief marcate, pe hartă, cu literele **C** și **H**;
2. numele râurilor marcate, pe hartă, cu numerele **2** și **5**.

4 puncte**B. Scrieți, pe foaia de examen, răspunsurile corecte care completează propozițiile de mai jos:**

1. Râul care străbate orașul marcat, pe hartă, cu numărul **7** se numește ...
2. Relieful vulcanic este prezent în unitatea de relief marcată, pe hartă, cu litera ...
3. În Depresiunea Brașov este situat orașul marcat, pe hartă, cu numărul ...

6 puncte**C. Scrieți, pe foaia de examen, litera corespunzătoare răspunsului corect pentru fiecare dintre afirmațiile de mai jos:**

1. Solurile din clasa molisoluri caracterizează unitățile de relief marcate, pe hartă, cu literele:

a. A și B b. C și F c. D și H d. E și G **2 puncte**

2. Râul marcat, pe hartă, cu numărul **3** se numește:

a. Bistrița b. Buzău c. Putna d. Trotuș **2 puncte**

3. În unitatea de relief marcată, pe hartă, cu litera **H** pătrund influențe climatice:

a. continentale b. oceanice c. pontice d. submediteraneene **2 puncte**

4. Unitatea de relief marcată, pe hartă, cu litera **E** s-a format prin:
a. erupții vulcanice **b.** încrețirea scoarței **c.** prăbușire **d.** sedimentare **2 puncte**
5. Lacuri în masive de sare s-au format în unitatea de relief marcată, pe hartă, cu litera:
a. A **b.** B **c.** D **d.** F **2 puncte**

D. Precizați:

1. două deosebiri între **clima** unității de relief marcate, pe hartă, cu litera **B** și **clima** unității de relief marcate, pe hartă, litera cu **G**;
2. o asemănare între **relieful** unității marcate, pe hartă, cu litera **A** și **relieful** unității marcate, pe hartă, cu litera **E**.

Nota 1: Pentru punctul 1, deosebirile se pot referi la oricare dintre următoarele elemente de **climă**: temperaturi medii anuale, precipitații medii anuale, vânturi, influență climatică, etaj climatic.

Pentru punctul 2, asemănarea se poate referi la oricare dintre următoarele aspecte ale **reliefului**: mod de formare, tipuri de roci, distribuția spațială a altitudinilor, gradul de fragmentare, orientarea culmilor și văilor principale, tipuri genetice de relief, alte aspecte specifice ale reliefului.

Nota 2: Punctajul complet va fi acordat numai dacă deosebirile și asemănarea vor fi prezentate comparativ și nu separat.

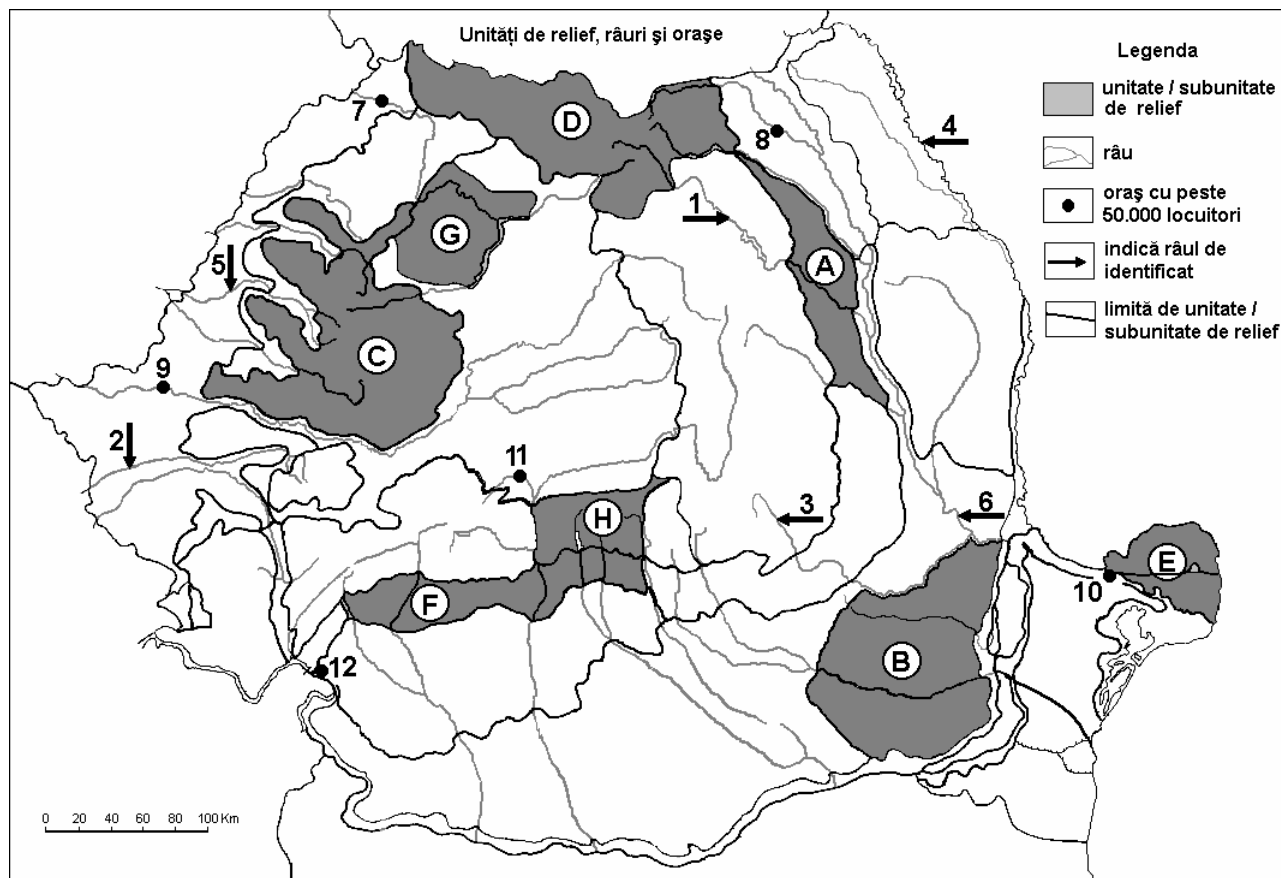
6 puncte

- E.** Prezentați două caracteristici care să evidențieze particularitățile biopedogeografice ale Deltei Dunării.

4 puncte

Examenul de bacalaureat 2008
Proba D, E, F
Proba scrisă la Geografie
Europa–România–Uniunea Europeană

- Toate subiectele sunt obligatorii. Se acordă 10 puncte din oficiu.
- Timpul efectiv de lucru este de 3 ore.

SUBIECTUL II**(30 puncte)**

Harta de mai sus se referă la subiectele II A – D. Pe hartă sunt marcate unități de relief cu litere, râuri cu numere de la 1 la 6 și orașe cu numere de la 7 la 12

A. Precizați:

1. numele unităților de relief marcate, pe hartă, cu literele **A** și **F**;
2. numele orașelor marcate, pe hartă, cu numerele **8** și **12**.

4 puncte**B. Scrieți, pe foaia de examen, răspunsurile corecte care completează propozițiile de mai jos:**

1. Râul marcat, pe hartă, cu numărul **2**, izvorăște din Munții ...
2. Roca gălbuie și prăfoasă, care acoperă mari întinderi în unitatea de relief marcată, pe hartă, cu litera **B** se numește ...
3. Pentru unitatea de relief marcată pe hartă cu litera **G** este specifică influența climatică ...

6 puncte**C. Scrieți, pe foaia de examen, litera corespunzătoare răspunsului corect pentru fiecare dintre afirmațiile de mai jos:**

1. Prin orașul marcat, pe hartă, cu numărul **11** trece râul:

a. Cibin	b. Lotru	c. Sadu	d. Strei	2 puncte
----------	----------	---------	----------	-----------------
2. Trotușul este afluent al râului marcat, pe hartă, cu numărul:

a. 2	b. 3	c. 4	d. 6	2 puncte
------	------	------	------	-----------------
3. În Delta Dunării formele de relief mai înalte poartă numele de:

a. crovuri	b. cueste	c. domuri	d. grinduri	2 puncte
------------	-----------	-----------	-------------	-----------------

-
4. În unitatea de relief marcată, pe hartă, cu litera **C** cele mai multe sate, după modul de distribuție a gospodăriilor (după structură), sunt:
- | | | | | |
|-------------------|--------------------|---------------------|--------------------|-----------------|
| a. adunate | b. compacte | c. răsfirate | d. risipite | 2 puncte |
|-------------------|--------------------|---------------------|--------------------|-----------------|
5. Lacul de acumulare Izvorul Muntelui se află pe râul marcat, pe hartă, cu numărul:
- | | | | | |
|-------------|-------------|-------------|-------------|-----------------|
| a. 1 | b. 3 | c. 4 | d. 5 | 2 puncte |
|-------------|-------------|-------------|-------------|-----------------|

D. Precizați două deosebiri și o asemănare între **relieful** unității marcate, pe hartă, cu litera **D** și **relieful** unității marcate, pe hartă, cu litera **H**.

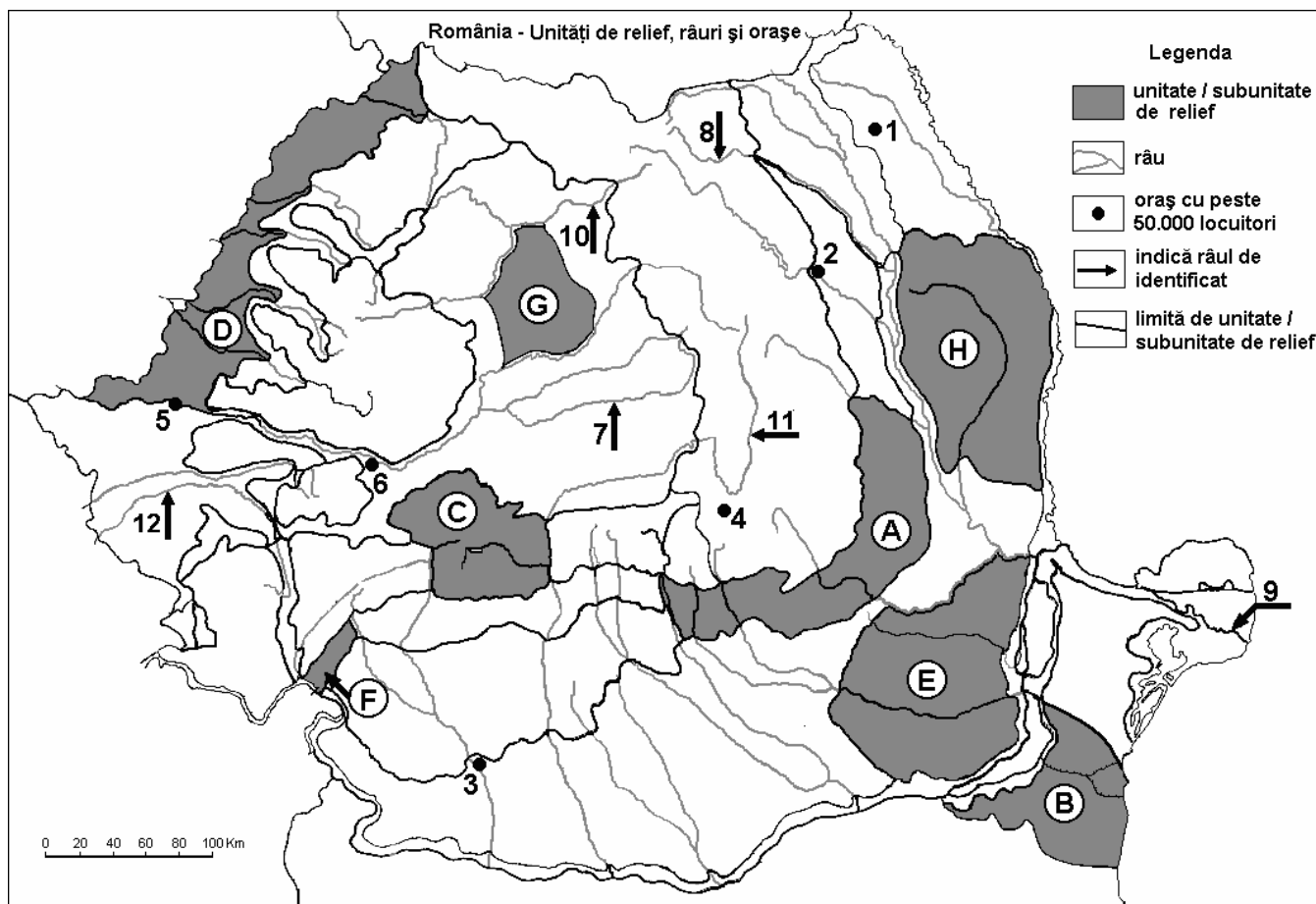
Nota 1: Deosebirile și asemănarea se pot referi la oricare dintre următoarele aspecte ale **reliefului**: mod de formare, tipuri de roci, distribuția spațială a altitudinilor, gradul de fragmentare, orientarea culmilor și văilor principale, tipuri genetice de relief, alte aspecte specifice ale reliefului.

Nota 2: Punctajul complet va fi acordat numai dacă deosebirile și asemănarea vor fi prezentate comparativ și nu separat. **6 puncte**

E. Prezentați două argumente pentru a justifica absența amenajărilor hidroenergetice pe râurile dobrogene. **4 puncte**

Examenul de bacalaureat 2008
Proba D, E, F
Proba scrisă la Geografie
Europa – România – Uniunea Europeană

- Toate subiectele sunt obligatorii. Se acordă 10 puncte din oficiu.
- Timpul efectiv de lucru este de 3 ore.

SUBIECTUL II**(30 puncte)**

Harta de mai sus se referă la subiectul II A – D. Pe hartă sunt marcate unități sau subunități de relief cu litere, orașe cu numere de la 1 la 6 și râuri cu numere de la 7 la 12.

A. Precizați:

- numele subunităților de relief marcate, pe hartă, cu literele A și G;
- numele orașelor marcate, pe hartă, cu numerele 1 și 4.

4 puncte**B. Scrieți, pe foaia de examen, răspunsurile corecte care completează propozițiile de mai jos:**

- În unitatea de relief marcată, pe hartă, cu litera H se resimt influențe climatice.....
- Râul marcat, pe hartă, cu numărul 12 se numește.....
- Orașele marcate, pe hartă, cu numerele 5 și 6 sunt străbătute de râul numit.....

6 puncte**C. Scrieți, pe foaia de examen, litera corespunzătoare răspunsului corect pentru fiecare dintre afirmațiile de mai jos:**

- Vegetația de stepă este caracteristică unității de relief marcate, pe hartă, cu litera:

a. A	b. B	c. C	d. F	
				2 puncte
- Orașul situat în Subcarpații Moldovei este marcat, pe hartă, cu numărul:

a. 1	b. 2	c. 4	d. 6	
				2 puncte

3. S-a format prin încrețirea scoarței terestre, ca și Carpații, unitatea de relief marcată, pe hartă, cu litera:

a. E b. F c. G d. H **2 puncte**

4. Râul marcat, pe hartă, cu numărul **10** este numit:

a. Someșul Mare c. Târnava Mare
b. Someșul Mic d. Târnava Mică **2 puncte**

5. Râul marcat, pe hartă, cu numărul **8** limitează spre nord unitatea de relief numită:

a. Podișul Sucevei c. Podișul Bârladului
b. Subcarpații Curburii d. Subcarpații Moldovei **2 puncte**

D. Precizați trei deosebiri între **clima** unității de relief marcate, pe hartă, cu litera **D** și **clima** unității de relief marcate, pe hartă, cu **E**.

Nota 1: Deosebirile se pot referi la oricare dintre următoarele elemente de **climă**: temperaturi medii anuale, precipitații medii anuale, vânturi, influență climatică, etaj climatic.

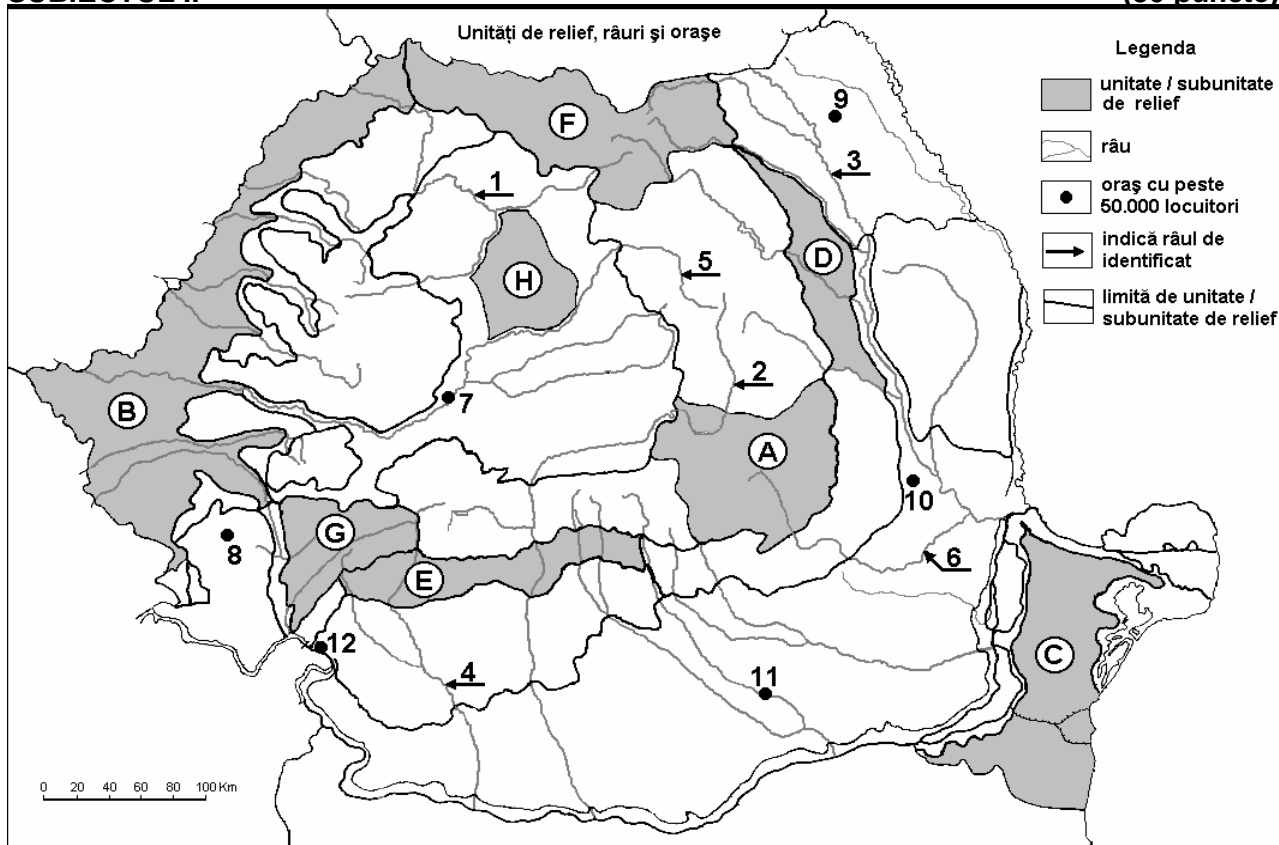
Nota 2: Punctajul complet va fi acordat numai dacă cele trei deosebiri vor fi prezentate comparativ și nu separat. **6 puncte**

E. Prezentați două cauze ale diversității formațiunilor vegetale pe teritoriul României

4 puncte

Examenul de bacalaureat 2008
Proba D, E, F
Proba scrisă la Geografie
Europa – România – Uniunea Europeană

- Toate subiectele sunt obligatorii. Se acordă 10 puncte din oficiu.
- Timpul efectiv de lucru este de 3 ore.

SUBIECTUL II**(30 puncte)**

Harta de mai sus se referă la subiectul II A, B, C, D. Pe hartă sunt marcate unități de relief cu litere, râuri cu numere de la 1 la 6 și orașe cu numere de la 7 la 12.

A. Precizați:

- numele unităților de relief marcate, pe hartă, cu literele **D** și **G**;
- numele orașelor marcate, pe hartă, cu numerele **7** și **9**.

4 puncte**B. Scrieți, pe foaia de examen, răspunsurile corecte care completează propozițiile de mai jos:**

- Domuri din care se exploatează gaz metan se găsesc în unitatea de relief marcată, pe hartă, cu litera
- Șisturile verzi apar în unitatea de relief marcată, pe hartă, cu litera ...
- Râul marcat, pe hartă, cu numărul **3** se numește ...

6 puncte**C. Scrieți, pe foaia de examen, litera corespunzătoare răspunsului corect pentru fiecare dintre afirmațiile de mai jos:**

- Cel mai mare oraș din Câmpia Română este marcat, pe hartă, cu numărul:

a. 8	b. 10	c. 11	d. 12	2 puncte
------	-------	-------	-------	-----------------
- Râurile marcate, pe hartă, cu numerele **2** și **5** își au izvoarele în Munții:

a. Ceahlău	b. Ciucului	c. Giurgeu	d. Hășmașul Mare	2 puncte
------------	-------------	------------	------------------	-----------------
- Vechi centru al industriei siderurgice este orașul marcat, pe hartă, cu numărul:

a. 7	b. 8	c. 10	d. 12	2 puncte
------	------	-------	-------	-----------------
- Un oraș din perioada antică este marcat, pe hartă, cu numărul:

a. 9	b. 10	c. 11	d. 12	2 puncte
------	-------	-------	-------	-----------------

5. Depresiunea Brașov este situată în unitatea de relief marcată, pe hartă, cu litera:

a. A

b. D

c. E

d. F

2 puncte

D. Precizați trei deosebiri între **relieful** unității marcate, pe hartă, cu litera **E** și **relieful** unității marcate, pe hartă, cu litera **F**.

Nota 1: Deosebirile se pot referi la oricare dintre următoarele aspecte ale reliefului: mod de formare, tipuri de roci, distribuția spațială a altitudinilor, gradul de fragmentare, orientarea culmilor și văilor principale, tipuri genetice de relief, alte aspecte specifice ale reliefului.

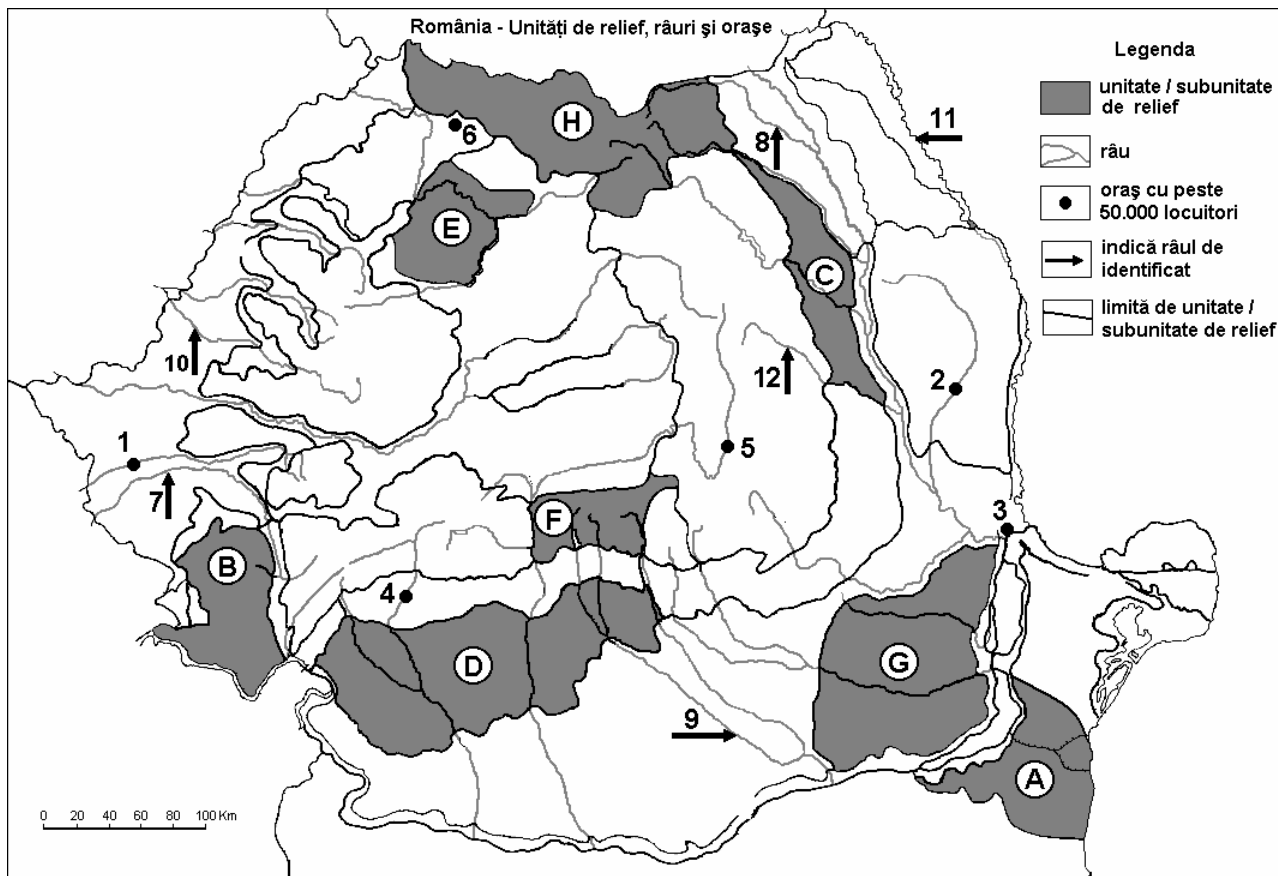
Nota 2: Punctajul complet va fi acordat numai dacă cele trei deosebiri vor fi prezentate comparativ și nu separat. **6 puncte**

E. Prezentați două cauze care să explice faptul că industria materialelor de construcții este foarte răspândită în România.

4 puncte

Examenul de bacalaureat 2008
Proba D, E, F
Proba scrisă la Geografie
Europa – România – Uniunea Europeană

- Toate subiectele sunt obligatorii. Se acordă 10 puncte din oficiu.
- Timpul efectiv de lucru este de 3 ore.

SUBIECTUL II**(30 puncte)**

Harta de mai sus se referă la subiectul II A – E. Pe hartă sunt marcate unități de relief cu litere, orașe cu numere de la 1 la 6 și râuri cu numere de la 7 la 12.

A. Precizați:

- numele unităților de relief marcate, pe hartă, cu literele **B** și **G**;
- numele râurilor marcate, pe hartă, cu numerele **10** și **12**.

4 puncte**B. Scrieți, pe foaia de examen, răspunsurile corecte care completează propozițiile de mai jos:**

- Altitudini mai mari de 2.500 m sunt în unitatea de relief marcată, pe hartă, cu litera ...
- Orașul marcat, pe hartă, cu numărul **4** este străbătut de râul numit ...
- Orașul marcat, pe hartă, cu numărul **6** se numește ...

6 puncte**C. Scrieți, pe foaia de examen, litera corespunzătoare răspunsului corect pentru fiecare dintre afirmațiile de mai jos:**

- Lacul hidroenergetic Vidraru este situat pe râul marcat, pe hartă, cu numărul:

a. 7 b. 8 c. 9 d. 11 **2 puncte**

- Se află sub influențe scandinavo - baltice unitatea de relief marcată, pe hartă cu litera:

a. A b. B c. E d. H **2 puncte**

- Este o subdiviziune a Câmpiei Române unitatea de relief marcată, pe hartă, cu litera:

a. A b. B c. D d. G **2 puncte**

4. Orașul marcat, pe hartă, cu numărul **3** este numit:

a. Brăila **b.** Focșani **c.** Galați **d.** Tulcea **2 puncte**

5. Roci vulcanice sunt specifice unității de relief marcate, pe hartă, cu litera:

a. A **b.** C **c.** D **d.** H **2 puncte**

D. Precizați două deosebiri și o asemănare între **relieful** unității marcate, pe hartă, cu litera **B** și **relieful** unității marcate, pe hartă cu litera **F**.

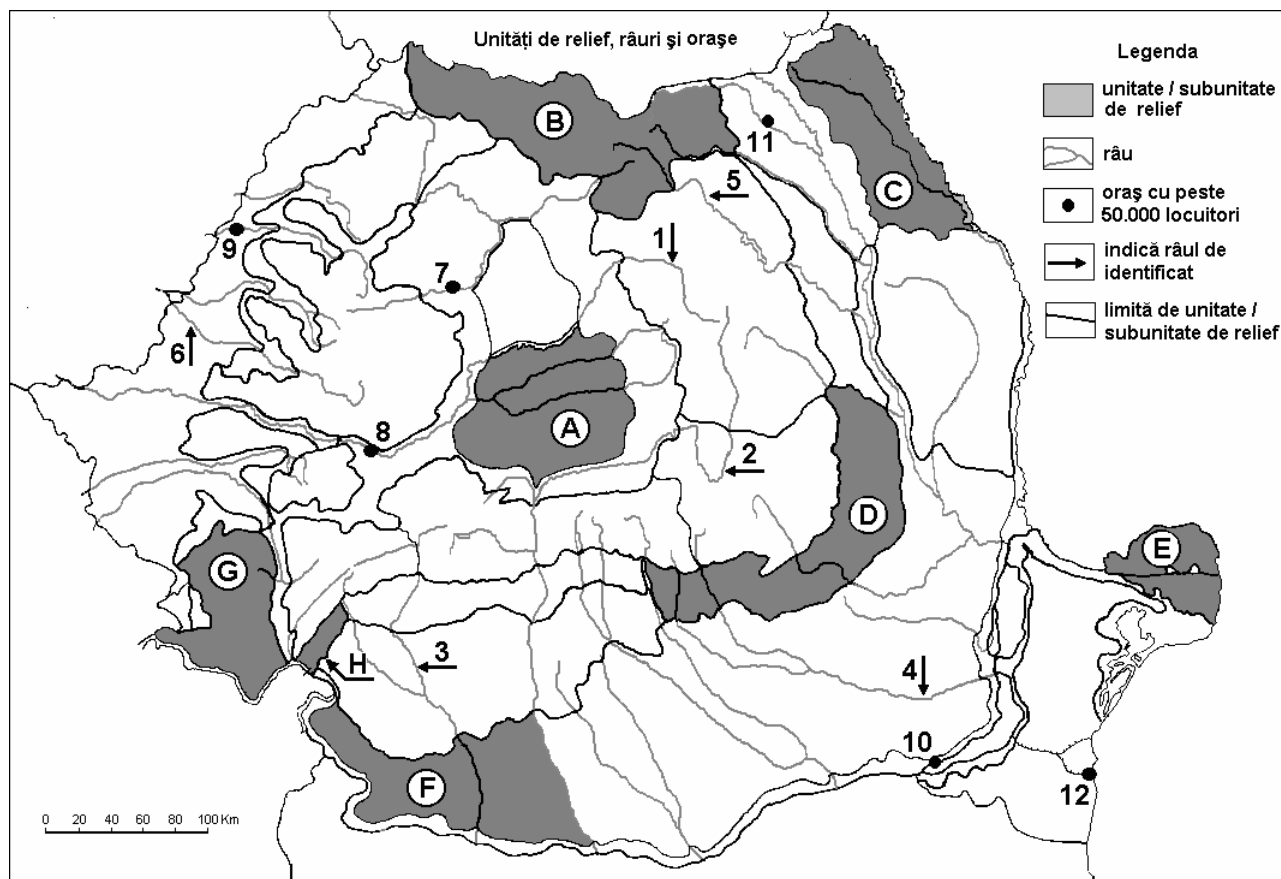
Nota 1: Deosebirile se pot referi la oricare dintre următoarele aspecte ale **reliefului**: mod de formare, tipuri de roci, altitudini, fragmentare, tipuri de relief, alte aspecte specifice ale reliefului.

Nota 2: Punctajul complet va fi acordat numai dacă cele două deosebiri și asemănarea vor fi prezentate comparativ și nu separat. **6 puncte**

E. Prezentați două cauze care determină diferența de temperatură dintre unitățile marcate, pe hartă, cu literele **A** și **H**. **4 puncte**

Examenul de bacalaureat 2008
Proba D, E, F
Proba scrisă la GEOGRAFIE
Europa–România–Uniunea Europeană

- Toate subiectele sunt obligatorii. Se acordă 10 puncte din oficiu.
- Timpul efectiv de lucru este de 3 ore.

SUBIECTUL II**(30 puncte)**

Harta de mai sus se referă la subiectul II A – D. Pe hartă sunt marcate unități de relief cu litere, râuri cu numere de la 1 la 6 și orașe cu numere de la 7 la 12.

A. Precizați:

1. numele unităților de relief marcate, pe hartă, cu literele **F** și **G**;
2. numele orașelor marcate, pe hartă, cu numerele **8** și **10**.

4 puncte**B. Scrieți, pe foaia de examen, răspunsurile corecte care completează propozițiile de mai jos:**

1. Unitatea de relief marcată, pe hartă, cu litera **H** se numește ...
2. Râul marcat, pe hartă, cu numărul **3** se numește ...
3. Unitatea de relief marcată, pe hartă, cu litera **D** se numește ...

6 puncte**C. Scrieți, pe foaia de examen, litera corespunzătoare răspunsului corect pentru fiecare dintre afirmațiile de mai jos:**

1. Relief pe structuri de tip „dom” se întâlnește în unitatea de relief marcată, pe hartă, cu litera:

a. A b. C c. E d. F **2 puncte**

2. Unitățile de relief marcate, pe hartă, cu literele **G** și **H** au în comun:

a. altitudini mai mari de 1 000 m b. custe și dune **2 puncte**
c. relief carstic d. influențe scandinav - baltice

3. Există resurse de sare în unitatea de relief marcată, pe hartă, cu litera:

a. C b. D c. E d. G **2 puncte**

4. Unitatea de relief marcată, pe hartă, cu litera **E** s-a format prin:
a. aluvionare **b.** erupții vulcanice **c.** încrețire **d.** prăbușire **2 puncte**
5. Orașul marcat, pe hartă, cu numărul **9** se numește:
a. Arad **b.** Baia Mare **c.** Oradea **d.** Satu Mare **2 puncte**

D. Precizați:

1. două deosebiri între **clima** unității de relief marcate, pe hartă, cu litera **E** și **clima** unității marcate, pe hartă, cu litera **D**;
2. o deosebire între **relieful** unității marcate, pe hartă, cu litera **B** și **relieful** unității marcate, pe hartă, cu litera **G**.

Nota 1: Pentru punctul 1, deosebirile se pot referi la oricare dintre următoarele elemente de **climă**: temperaturi medii anuale, precipitații medii anuale, vânturi, influență climatică, etaj climatic.

Pentru punctul 2, deosebirile se pot referi la oricare dintre următoarele aspecte ale **reliefului**: mod de formare, tipuri de roci, distribuția spațială a altitudinilor, gradul de fragmentare, orientarea culmilor și văilor principale, tipuri genetice de relief, alte aspecte specifice ale reliefului.

Nota 2: Punctajul complet va fi acordat numai dacă deosebirile vor fi prezentate comparativ și nu separat.

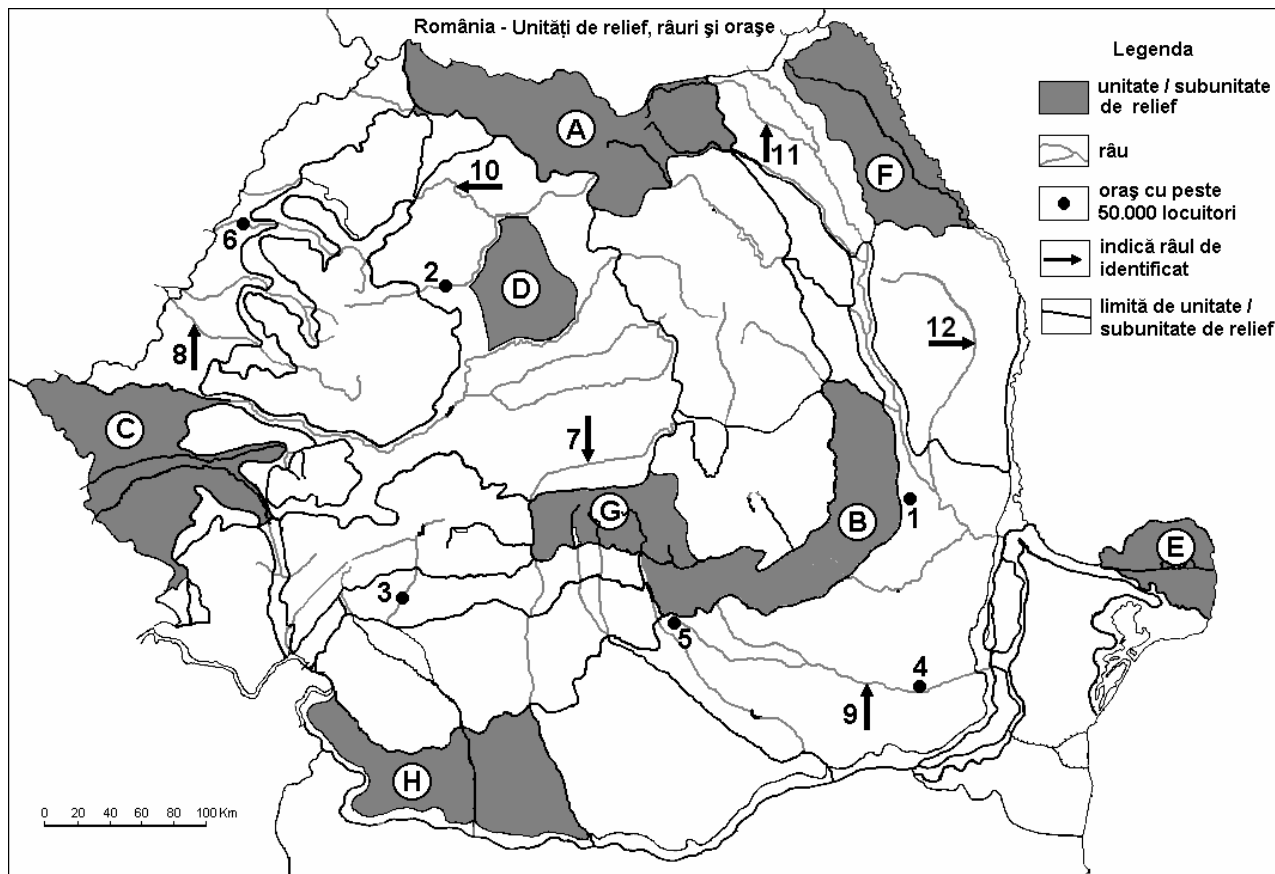
6 puncte

- E. Precizați două cauze care explică faptul că vegetația de stepă se dezvoltă în partea de est și sud-est a României.**

4 puncte

Examenul de bacalaureat 2008
Proba D, E, F
Proba scrisă la GEOGRAFIE
Europa–România–Uniunea Europeană

- Toate subiectele sunt obligatorii. Se acordă 10 puncte din oficiu.
- Timpul efectiv de lucru este de 3 ore.

SUBIECTUL II**(30 puncte)**

Harta de mai sus se referă la subiectul II A – C. Pe hartă sunt marcate unitățile de relief cu litere, orașe cu numere de la 1 la 6 și râuri cu numere de la 7 la 12.

A. Precizați:

1. numele unităților de relief marcate, pe hartă, cu literele **A** și **E**;
2. numele râurilor marcate, pe hartă, cu numerele **7** și **9**.

4 puncte**B. Scrieți, pe foaia de examen, răspunsurile corecte care completează propozițiile de mai jos:**

1. Cele mai mari altitudini se înregistrează în unitatea de relief marcată, pe hartă, cu litera...
2. Este traversată de râul Jiu unitatea de relief marcată, pe hartă, cu litera...
3. Influența climatică pontică pătrunde în unitatea de relief marcată, pe hartă, cu litera...

6 puncte**C. Scrieți, pe foaia de examen, litera corespunzătoare răspunsului corect pentru fiecare dintre afirmațiile de mai jos:**

1. Grinduri s-au format în unitatea de relief marcată, pe hartă, cu litera:

a. D	b. E	c. F	d. H	2 puncte
------	------	------	------	-----------------

2. S - a format prin încrețirea scoarței unitatea de relief marcată, pe hartă, cu litera:

a. B	b. C	c. D	d. F	2 puncte
------	------	------	------	-----------------

3. Mineruri auro - argintifere se extrag din unitatea de relief marcată, pe hartă, cu litera:

a. A	b. C	c. D	d. G	2 puncte
------	------	------	------	-----------------

4. Relief pe structuri de domuri s-a dezvoltat în unitatea de relief notată, pe hartă, cu litera:

a. B

b. C

c. D

d. G

2 puncte

5. Este situat într-o unitate subcarpatică orașul notat, pe hartă, cu numărul:

a. 1

b. 2

c. 3

d. 4

2 puncte

D. Precizați trei deosebiri între **clima** Câmpiei de Vest și **clima** Podișului Dobrogei.

Nota 1: Deosebirile se pot referi la oricare dintre următoarele elemente de **climă**: temperaturi medii anuale, precipitații medii anuale, vânturi, etaj climatic, influență climatică.

Nota 2: Punctajul complet va fi acordat numai dacă cele trei deosebiri vor fi prezentate comparativ și nu separat.

6 puncte

E. Prezentați:

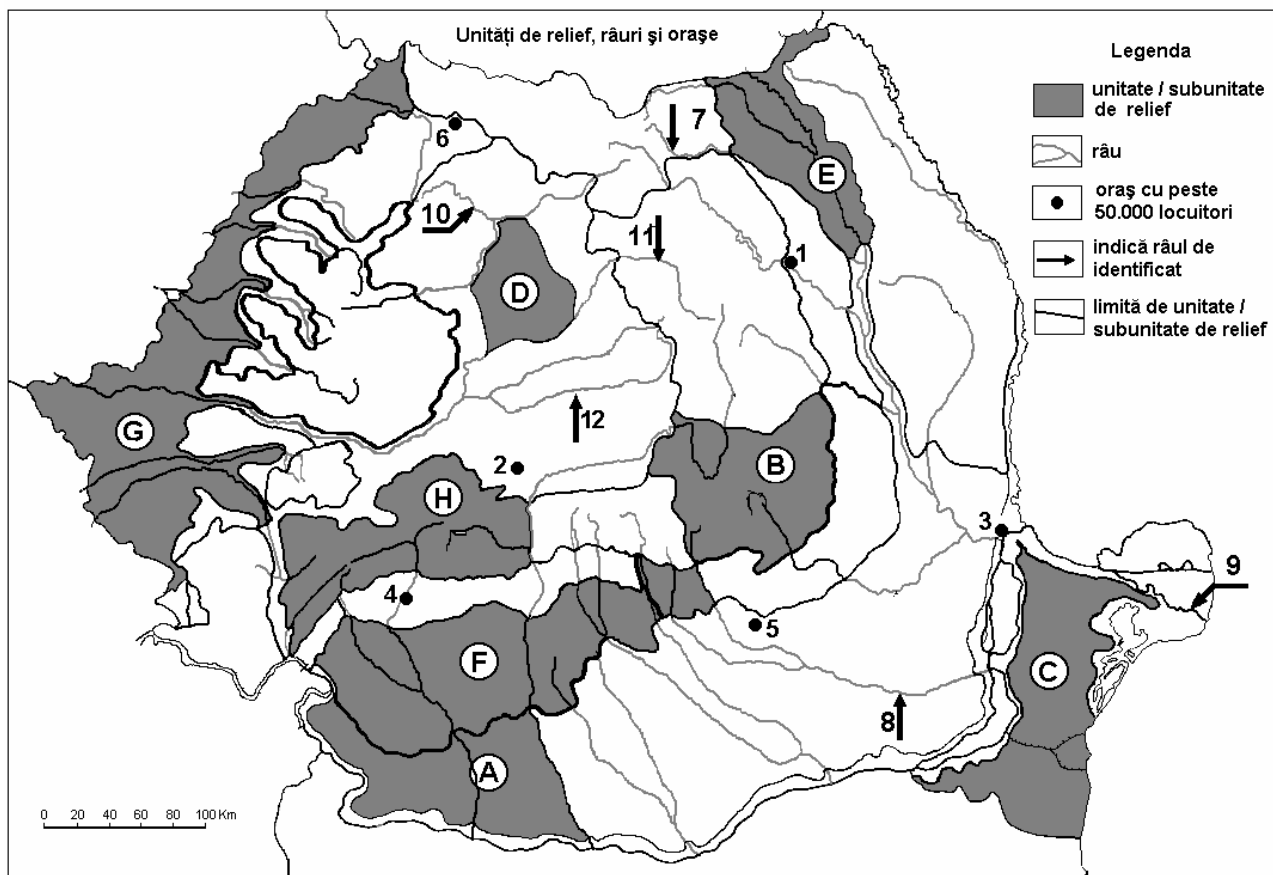
1. o cauză care determină densitatea redusă a populației în Delta Dunării;

2. o cauză care explică existența a numeroase centre de prelucrare a lemnului în Carpații Orientali.

4 puncte

Examenul de bacalaureat 2008
Proba D, E, F
Proba scrisă la Geografie
Europa – România – Uniunea Europeană

- Toate subiectele sunt obligatorii. Se acordă 10 puncte din oficiu.
- Timpul efectiv de lucru este de 3 ore.

SUBIECTUL II**(30 puncte)**

Harta de mai sus se referă la subiectul II A – D. Pe hartă sunt marcate cu litere, unități de relief, orașe (cu peste 50 000 loc.) cu numere de la 1 la 6 și râuri cu numere de la 7 la 12.

A. Precizați:

- numele unităților de relief marcate, pe hartă, cu literele **B** și **G**;
- numele râului marcat, pe hartă, cu numărul **7** și al brațului Dunării marcat cu numărul **9**.

4 puncte**B. Scrieți, pe foaia de examen, răspunsurile corecte care completează propozițiile de mai jos:**

- Unitatea de relief marcată, pe hartă, cu litera **E** se învecinează la sud cu Subcarpații ...
- Unitatea de relief marcată, pe hartă, cu litera **F** se numește ...
- Orașul marcat, pe hartă, cu numărul **4** se numește ...

6 puncte**C. Scrieți, pe foaia de examen, litera corespunzătoare răspunsului corect pentru fiecare dintre afirmațiile de mai jos:**

- Unitatea de relief marcată, pe hartă, cu litera **D** este limitată la sud de râul numit:
a. Mureș b. Someș c. Târnava Mică d. Târnava Mare **2 puncte**
- Cele mai mici cantități de precipitații se înregistrează în unitatea de relief marcată cu litera:
a. B b. C c. G d. H **2 puncte**
- Vegetația de stepă este specifică unității marcate, pe hartă, cu litera:
a. C b. E c. F d. H **2 puncte**

4. Râul marcat, pe hartă, cu numărul **12** se numește:
a. Mureș **b.** Olt **c.** Târnava Mare **d.** Târnava Mică **2 puncte**
5. Peisajul alpin este caracteristic unității de relief marcată, pe hartă, cu litera:
a. A **b.** B **c.** F **d.** H **2 puncte**

D. Precizați trei deosebiri între **activitățile economice** din unitatea de relief marcată, pe hartă, cu litera **C** și **activitățile economice** din unitatea de relief marcată, pe hartă, cu litera **H**.

Notă 1: Deosebirile se pot referi la oricare dintre următoarele elemente: industrie, agricultură, căi de comunicații, turism.

Nota 2: Punctajul complet va fi acordat numai dacă cele trei deosebiri vor fi prezentate comparativ și nu separat.

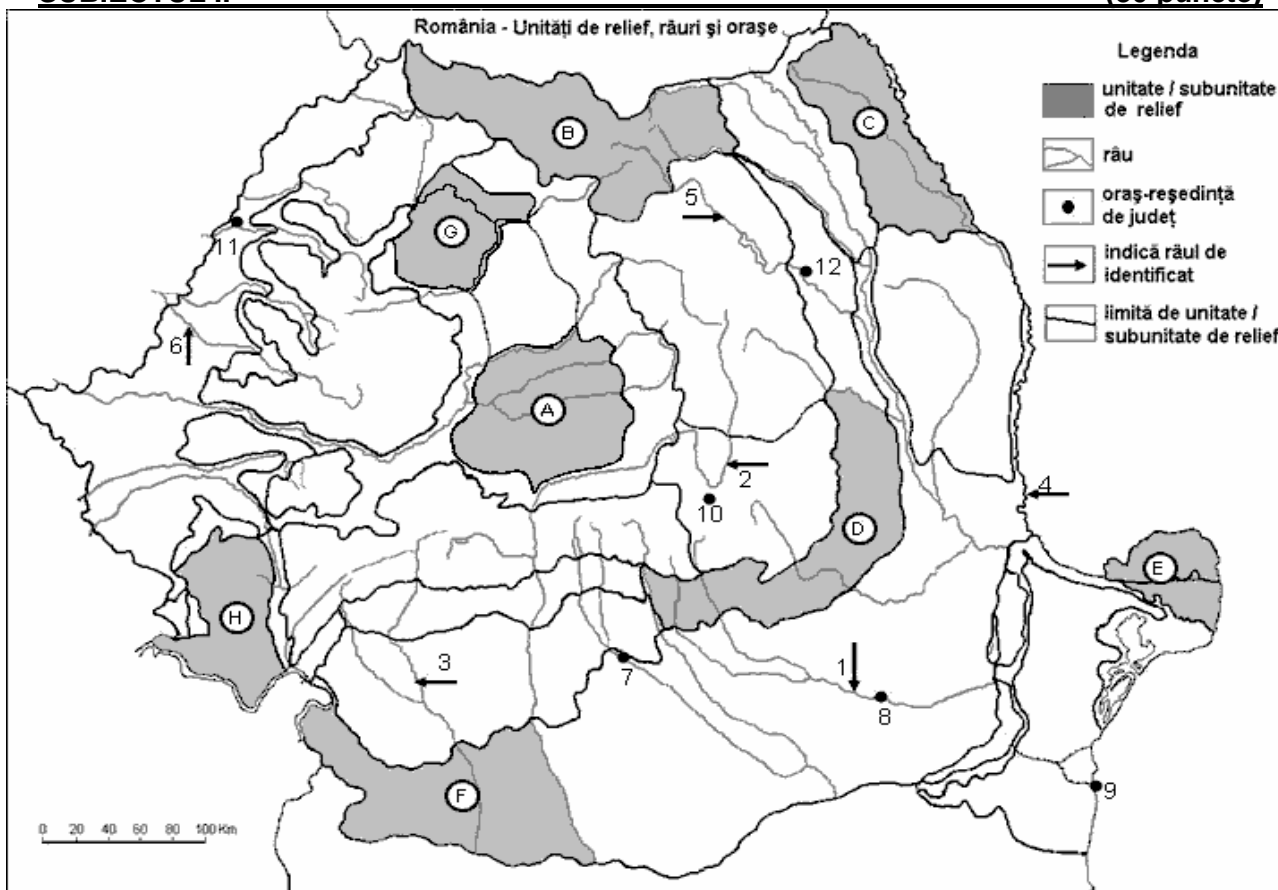
6 puncte

E. Menționați două modalități prin care să se reducă numărul de emigranți români în țările UE.

4 puncte

Examenul de bacalaureat 2008
Proba D, E, F
Proba scrisă la GEOGRAFIE
Europa–România–Uniunea Europeană

- Toate subiectele sunt obligatorii. Se acordă 10 puncte din oficiu.
- Timpul efectiv de lucru este de 3 ore.

SUBIECTUL II**(30 puncte)**

Harta de mai sus se referă la subiectul II A– D. Pe hartă sunt marcate unități de relief cu litere, râuri cu numere de la 1 la 6 orașe cu numere de la 7 la 12.

A. Precizați:

1. numele unităților de relief marcate, pe hartă, cu literele **A** și **C**;
2. numele râurilor marcate, pe hartă, cu numerele **3** și **4**.

4 puncte**B. Scrieți, pe foaia de examen, răspunsurile corecte care completează propozițiile de mai jos:**

1. Orașul marcat, pe hartă, cu numărul **11** se numește...
2. Râul marcat, pe hartă, cu numărul **5** se numește...
3. Unitatea de relief marcată, pe hartă, cu litera **G** se numește...

6 puncte**C. Scrieți, pe foaia de examen, litera corespunzătoare răspunsului corect pentru fiecare dintre afirmațiile de mai jos:**

1. Râul marcat, pe hartă, cu numărul **6** se numește:

a. Crișul Alb	b. Crișul Negru	c. Crișul Repede	d. Mureș	2 puncte
---------------	-----------------	------------------	----------	-----------------
2. Unitatea de relief creată prin aluvionare este marcată, pe hartă, cu litera:

a. B	b. D	c. H	d. E	2 puncte
------	------	------	------	-----------------
3. Carpații Meridionali sunt străbătuți de la nord la sud de râul marcat, pe hartă cu numărul:

a. 2	b. 5	c. 6	d. 11	2 puncte
------	------	------	-------	-----------------
4. Relief glaciar se întâlnește în unitatea de relief marcată, pe hartă, cu litera:

a. A	b. B	c. C	d. D	2 puncte
------	------	------	------	-----------------

5. Orașul marcat, pe hartă, cu numărul **8** se numește:

a. Buzău

b. Pitești

c. Ploiești

d. Slobozia

2 puncte

D. Precizați trei deosebiri între **relieful** unității marcate, pe hartă, cu litera **B** și **relieful** unității marcate, pe hartă, cu litera **C**.

Nota 1: Deosebirile se pot referi la oricare dintre următoarele aspecte ale **reliefului**: mod de formare, tipuri de roci pe care s-a format relieful, altitudini, fragmentare, tipuri de relief, alte aspecte specifice ale reliefului.

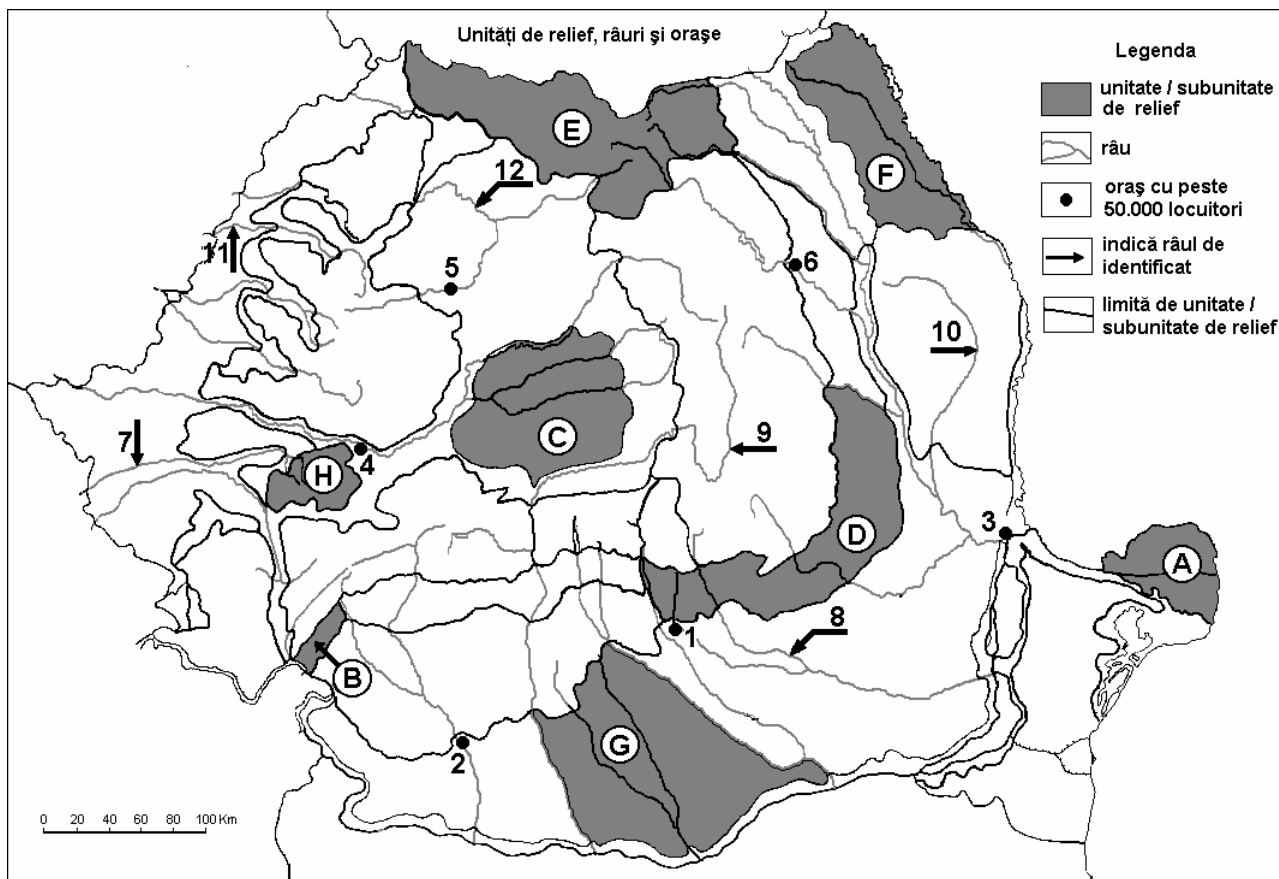
Nota 2: Punctajul complet va fi acordat numai dacă cele trei deosebiri vor fi prezentate comparativ și nu separat. **6 puncte**

E. Prezentați două cauze pentru care regiunile montane nu prezintă condiții favorabile culturii plantelor.

4 puncte

Examenul de bacalaureat 2008
Proba D, E, F
Proba scrisă la Geografie
Europa – România – Uniunea Europeană

- Toate subiectele sunt obligatorii. Se acordă 10 puncte din oficiu.
- Timpul efectiv de lucru este de 3 ore.

SUBIECTUL II**(30 puncte)**

Harta de mai sus se referă la subiectul II A – D. Pe hartă sunt marcate unități de relief cu litere, orașe cu numere de la 1 la 6 și râuri cu numere de la 7 la 12.

A. Precizați:

1. numele unităților de relief marcate, pe hartă, cu literele **D** și **F**;
2. numele orașelor marcate, pe hartă, cu numerele **3** și **4**.

4 puncte**B. Scrieți, pe foaia de examen, răspunsurile corecte care completează propozițiile de mai jos:**

1. Cel mai mare combinat siderurgic din țara noastră este situat în orașul marcat, pe hartă, cu numărul ...
2. Râul marcat, pe hartă, cu numărul **11** se numește ...
3. Infuența climatică pontică se resimte în unitatea de relief marcată, pe hartă, cu litera ...

6 puncte**C. Scrieți, pe foaia de examen, litera corespunzătoare răspunsului corect pentru fiecare dintre afirmațiile de mai jos:**

1. Cele mai mici cantități de precipitații se înregistrează în unitatea marcată, pe hartă, cu litera:

a. A	b. B	c. D	d. G	2 puncte
------	------	------	------	-----------------
2. Râul cu cele mai multe amenajări hidroenergetice este marcat, pe hartă, cu numărul:

a. 7	b. 8	c. 9	d. 10	2 puncte
------	------	------	-------	-----------------

3. Unitatea de relief marcată, pe hartă, cu litera **D** s-a format prin:
a. aluvionare **b.** erupții vulcanice **c.** încrețire **d.** prăbușire **2 puncte**
4. Unitatea de relief din care se exploatează gaz metan este marcată, pe hartă, cu litera:
a. A **b.** C **c.** F **d.** G **2 puncte**
5. Orașul marcat, pe hartă, cu numărul **1** se numește:
a. Buzău **b.** Ploiești **c.** Târgoviște **d.** Urziceni **2 puncte**

D. Precizați trei deosebiri între relieful unității marcate, pe hartă, cu litera **C** și relieful unității marcate, pe hartă, cu litera **H**.

Nota 1: Deosebirile se pot referi la oricare dintre următoarele aspecte ale **reliefului**: mod de formare, tipuri de roci pe care s-a format relieful, altitudini, înclinare, fragmentare, tipuri de relief, alte aspecte specifice ale reliefului.

Nota 2: Punctajul complet va fi acordat numai dacă cele două unități de relief vor fi prezentate comparativ și nu separat.

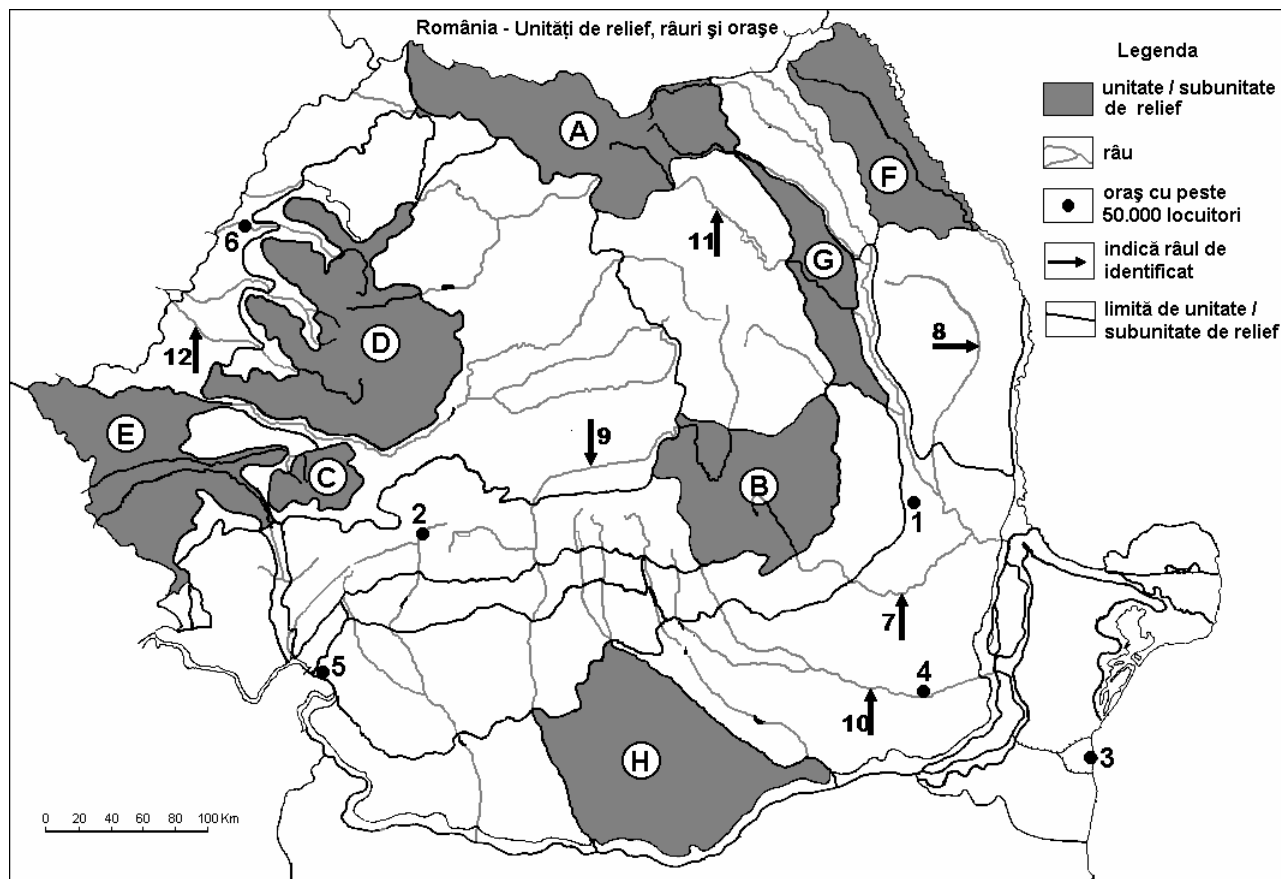
6 puncte

E. Prezentați două cauze care să explice frecvența mai mare a secetelor în partea de sud-est a țării față de vestul țării.

4 puncte

Examenul de bacalaureat 2008
Proba D, E, F
Proba scrisă la Geografie.
Europa – România – Uniunea Europeană

- Toate subiectele sunt obligatorii. Se acordă 10 puncte din oficiu.
- Timpul efectiv de lucru este de 3 ore.

SUBIECTUL II**(30 puncte)**

Harta de mai sus se referă la subiectul II A – D. Pe hartă sunt marcate unități sau subunități de relief cu litere, orașe cu numere de la 1 la 6 și râuri cu numere de la 7 la 12.

A. Precizați:

- numele unităților de relief marcate, pe hartă, cu literele **C** și **G**.
- numele râurilor marcate, pe hartă, cu numerele **7** și **12**.

4 puncte**B. Scrieți, pe foaia de examen, răspunsurile corecte care completează propozițiile de mai jos:**

- Depresiunea Beiuș se află în unitatea de relief marcată, pe hartă, cu litera ...
- Unitatea de relief marcată, pe hartă, cu litera **C** se numește ...
- Râul care dă numele subunității de relief marcată, pe hartă, cu litera **F** se numește...

6 puncte**C. Scrieți, pe foaia de examen, litera corespunzătoare răspunsului corect pentru fiecare dintre afirmațiile de mai jos:**

- Unitatea de relief marcată, pe hartă, cu litera **B** este formată predominant din roci:

a. metamorfice	b. sedimentare	c. vulcanice	d. magmatice
----------------	----------------	--------------	--------------

2 puncte
- Orașul marcat, pe hartă, cu numărul **5** este un important centru al industriei:

a. aluminiului	b. energetice	c. chimice	d. siderurgice
----------------	---------------	------------	----------------

2 puncte

3. Subunitatea Podișului Moldovei marcată, pe hartă, litera **F** are un climat cu influențe:
a. continentale **b.** pontice **c.** oceanice **d.** de tranziție **2 puncte**
4. Râul marcat, pe hartă, cu numărul **9** desparte grupele montane:
a. Bucegi de Făgăraș **b.** Făgăraș de Parâng
c. Parâng de Retezat - Godeanu **d.** Retezat – Godeanu de Banatului **2 puncte**
5. Râul marcat, pe hartă, cu numărul **8** străbate orașul:
a. Bacău **b.** Bârlad **c.** Focșani **d.** Iași **2 puncte**

D. Precizați trei deosebiri între **clima** unității de relief marcate, pe hartă, cu litera **C** și **clima** unității de relief marcate cu litera **F**.

Nota 1: Deosebirile se pot referi la oricare dintre următoarele elemente de **climă**: temperaturi medii anuale, precipitații medii anuale, vânturi, etaj climatic, influență climatică.

Nota 2: Punctajul complet va fi acordat numai dacă cele trei deosebiri vor fi prezentate comparativ și nu separat.

6 puncte

E. Menționați doi factori care au contribuit la creșterea densității populației în Depresiunea Brașov.
4 puncte