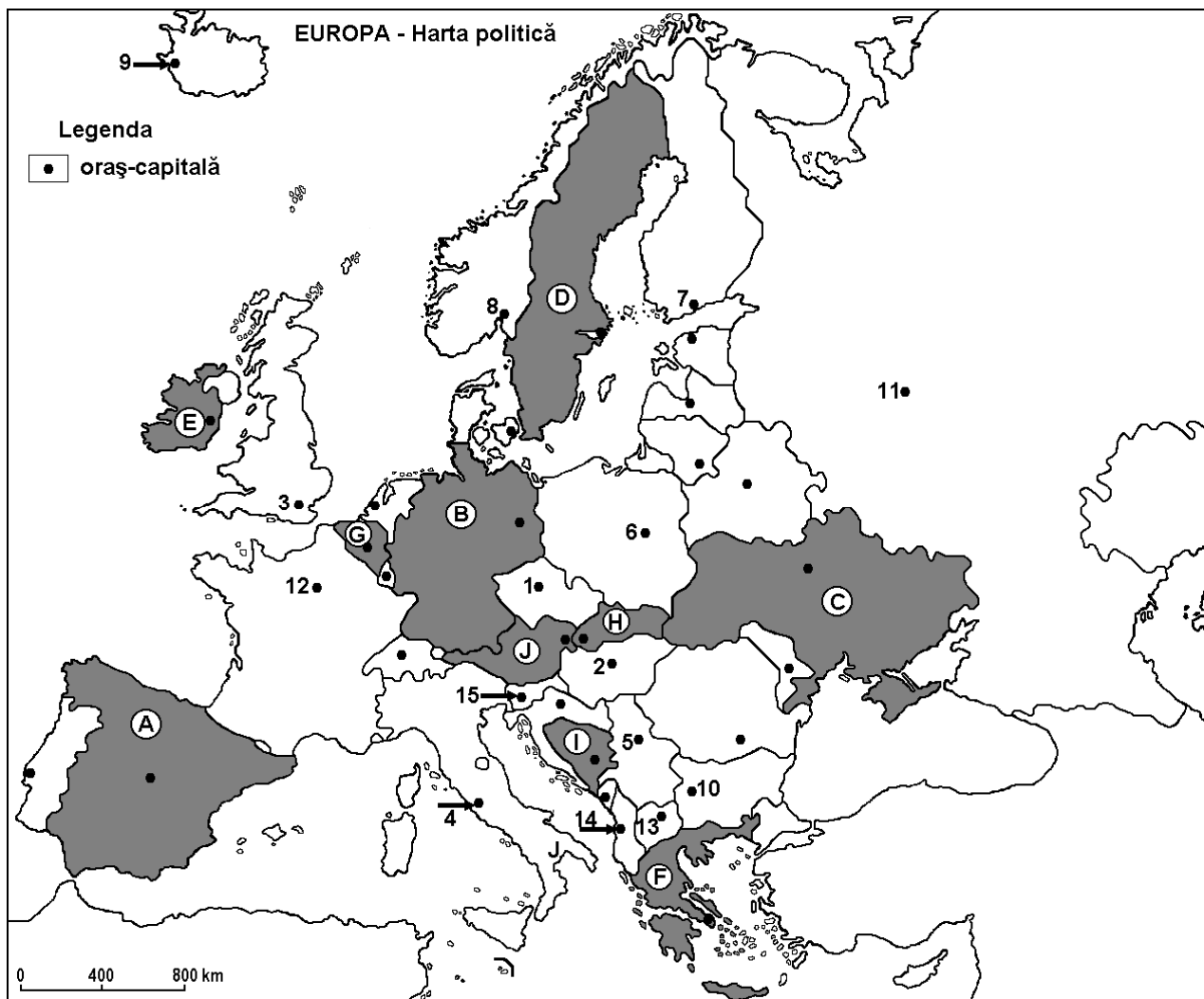


**LICEUL TEORETIC "ION NECULCE" TG. FRUMOS**  
**Simulare Bacalaureat 2013 – Proba E.d.**  
**Proba scrisă la GEOGRAFIE**  
**Europa – România – Uniunea Europeană**

- Toate subiectele sunt obligatorii. Se acordă 10 puncte din oficiu.
- Timpul efectiv de lucru este de 3 ore.

**Varianta 1**

**SUBIECTUL I (30 puncte)**



Harta de mai sus se referă la subiectul I A – E. Pe hartă sunt marcate state cu litere și orașe - capitală cu numere.

**A. Precizați:**

1. numele statelor marcate, pe hartă, cu literele **G** și **I**;
2. numele orașelor-capitală marcate, pe hartă, cu numerele **1** și **4**.

**4 puncte**

**B. Scrieți, pe foaia de examen, răspunsurile corecte care completează propozițiile de mai jos:**

1. Orașul-capitală, marcat pe hartă, cu numărul **5**, este traversat de fluviul ...
2. Pe teritoriul statului marcat, pe hartă, cu litera **H**, sunt Munții ...
3. Capitala Poloniei este marcată, pe hartă, cu numărul ...

**6 puncte**

---

**C.** Scrieți, pe foaia de examen, litera corespunzătoare răspunsului corect pentru fiecare dintre afirmațiile de mai jos:

1. Peninsula Crimeea este situată în sudul statului marcat, pe hartă, cu litera:  
**a. A**                      **b. B**                      **c. C**                      **d. F**                      **2 puncte**
2. Pe teritoriul statului a cărui capitală este marcată, pe hartă, cu numărul **10** se găsesc Munții:  
**a. Alpi**                      **b. Apenini**                      **c. Pirinei**                      **d. Rodopi**                      **2 puncte**
3. Statul marcat, pe hartă, cu litera **A**, este traversat de râul numit:  
**a. Elba**                      **b. Guadalquivir**                      **c. Ron**                      **d. Sena**                      **2 puncte**
4. Între statele marcate, pe hartă, cu literele **B** și **G** se găsește statul numit:  
**a. Andorra**                      **b. Cipru**                      **c. Malta**                      **d. Luxemburg**                      **2 puncte**
5. Dintre orașele de mai jos, cele mai mici temperaturi medii anuale se înregistrează în capitala marcată, pe hartă, cu numărul:  
**a. 9**                      **b. 10**                      **c. 13**                      **d. 14**                      **2 puncte**

**D.** Precizați trei asemănări între **clima** statului marcat, pe hartă, cu litera **A** și **clima** statului marcat, pe hartă, cu litera **F**.

**Nota 1:** Asemănările se pot referi la oricare dintre următoarele elemente de climă: temperaturi medii anuale, precipitații medii anuale, vânturi, tipul de climă, etaj climatic, factori ce influențează clima, amplitudine termică.

**Nota 2:** Punctajul complet va fi acordat numai dacă cele trei asemănări vor fi prezentate comparativ și nu separat.

**6 puncte**

**E.** Precizați două argumente care să demonstreze că statul marcat, pe hartă, cu litera **B**, prezintă un sistem de transport diversificat, funcțional și modern.

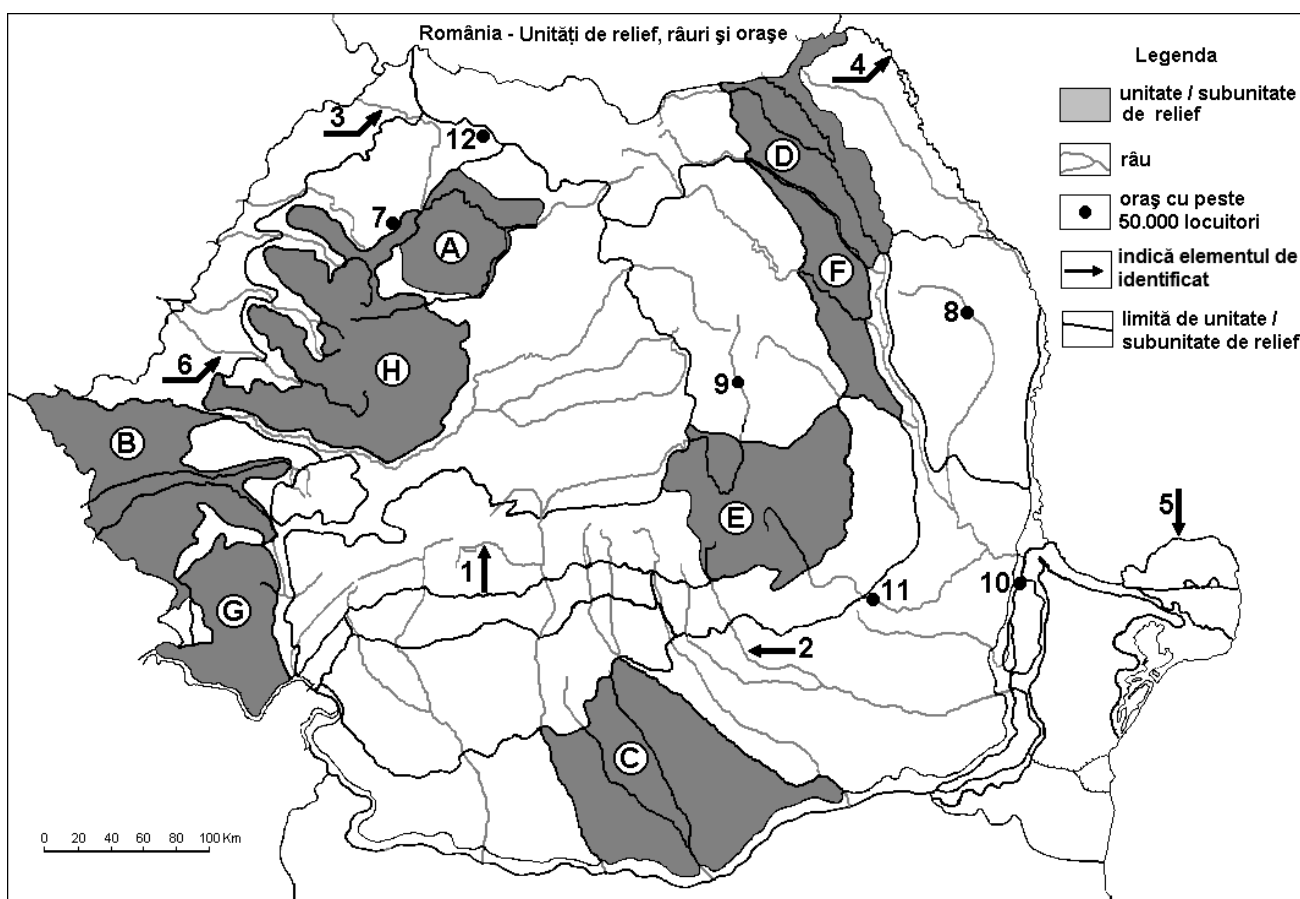
**4 puncte**

**LICEUL TEORETIC "ION NECULCE" TG. FRUMOS**  
**Simulare Bacalaureat 2013 – Proba E.d.**  
**Proba scrisa la GEOGRAFIE**  
**Europa – Romania – Uniunea Europeana**

- Toate subiectele sunt obligatorii. Se acordă 10 puncte din oficiu.
- Timpul efectiv de lucru este de 3 ore.

**Varianta 1**

**SUBIECTUL II (30 puncte)**



Harta de mai sus se referă la subiectul II A – D. Pe hartă sunt marcate unități de relief cu litere, râuri cu numere de la 1 la 6 și orașe cu numere de la 7 la 12.

**A. Precizați:**

1. numele orașelor marcate, pe hartă, cu numerele 7 și 10;
2. numele râurilor marcate, pe hartă, cu numerele 2 și 6.

**4 puncte**

**B. Scrieți, pe foaia de examen, răspunsurile corecte care completează propozițiile de mai jos:**

1. Brațul Dunării marcat, pe hartă, cu numărul 5 se numește ...
2. Lacul hidroenergetic construit pe râul marcat, pe hartă, cu numărul 1 se numește ...
3. Orașul marcat, pe hartă, cu numărul 12 este reședința județului numit...

**6 puncte**

**C. Scrieți, pe foaia de examen, răspunsurile corecte care completează propozițiile de mai jos:**

1. O unitate de relief formată prin cutare este cea marcată, pe hartă, cu litera:  
**a. B                      b. C                      c. D                      d. F                      2 puncte**
2. Râul ce se varsă direct în Dunăre dintre cele marcate pe hartă, este cel marcat cu numărul:  
**a. 1                      b. 2                      c. 4                      d. 6                      2 puncte**
3. Influențe climatice submediteraneene se resimt în unitatea de relief marcată, pe hartă, cu litera:  
**a. D                      b. E                      c. F                      d. G                      2 puncte**

---

4. Clasa molisurilor este prezentă în unitatea de relief marcată, pe hartă cu litera:

a. A                      b. B                      c. F                      d. H                      **2 puncte**

5. Petrolul reprezintă o resursă a subsolului unității de relief marcate, pe hartă, cu litera:

a. C                      b. D                      c. G                      d. H                      **2 puncte**

**D.** Precizați două asemănări și o deosebire între **relieful** unității marcate, pe hartă, cu litera **E** și **relieful** unității marcate cu litera **H**.

***Nota 1:** Asemănările și deosebirea se pot referi la oricare dintre următoarele aspecte: mod de formare, tipuri de roci pe care s-a format relieful, altitudini, orientarea culmilor muntoase, fragmentare, tipuri de relief.*

***Nota 2:** Punctajul complet va fi acordat numai dacă cele două asemănări și deosebirea vor fi prezentate comparativ și nu separat.*

**6 puncte**

**E.** Prezentați două argumente care să susțină afirmația: „Câmpia Transilvaniei nu este o unitate de câmpie“.

**4 puncte**

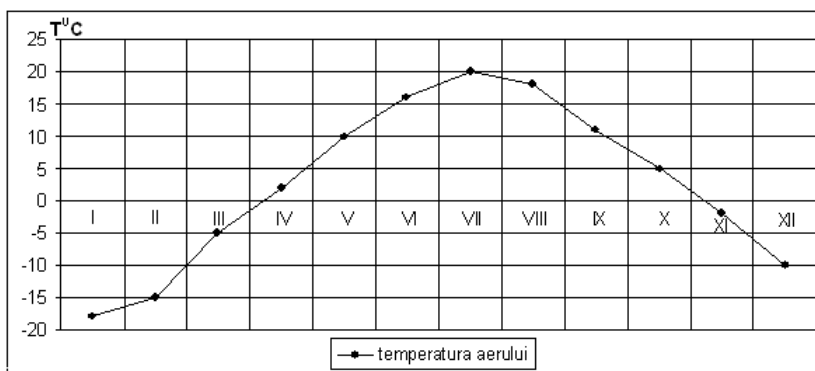
**LICEUL TEORETIC "ION NECULCE" TG. FRUMOS**  
**Simulare Bacalaureat 2013 – Proba E.d.**  
**Proba scrisa la GEOGRAFIE**  
**Europa – Romania – Uniunea Europeana**

- Toate subiectele sunt obligatorii. Se acordă 10 puncte din oficiu.
- Timpul efectiv de lucru este de 3 ore.

**SUBIECTUL III (30 p)**

**Varianta 1**

Graficul alăturat se referă la subiectul III A – B și prezintă evoluția temperaturii medii lunare la Moscova.



**A. Precizați:**

1. luna în care se înregistrează valoarea medie cea mai ridicată a temperaturii aerului;
2. luna în care se înregistrează valoarea medie cea mai coborâtă a temperaturii aerului;
3. valoarea temperaturii medii în luna decembrie;
4. valoarea temperaturii medii în luna iulie.

**4 puncte**

**B. Scrieți, pe foaia de examen, litera corespunzătoare răspunsului corect pentru fiecare dintre afirmațiile de mai jos:**

1. Anotimpul în care se înregistrează temperatura maximă este:  
a. iarna                      b. primăvara                      c. toamna                      d. vara                      **2 puncte**
2. Valori ale temperaturii medii lunare de peste 15° C se înregistrează în lunile:  
a. mai, iunie și iulie                      b. mai, august și septembrie  
c. iunie, iulie și august                      d. august, septembrie, octombrie                      **2 puncte**
3. Diferența dintre temperatura medie din luna mai și temperatura medie din luna decembrie este de:  
a. 5°C                      b. 10°C                      c. 15°C                      d. 20°C                      **2 puncte**

**2 puncte**

**C. Pentru Ucraina, precizați:**

1. două unități majore de relief;
2. două râuri importante care traversează teritoriul țării;
3. o zonă biogeografică specifică și un tip sau o clasă de soluri;
4. două resurse naturale și o ramură industrială bazată pe exploatarea acestora;
5. orașul – capitală.

**10 puncte**

**D. Analizați datele statistice de bază din tabelul de mai jos:**

Statul	Suprafața (km <sup>2</sup> )	Populația (locuitori)	PIB (mld. €)
Germania	357.021	82.422.299	2.585
Finlanda	338.145	5.231.372	172

*Sursa: The World Factbook, estimări la nivelul anului 2006*

1. Calculați valoarea densității populației în cele două țări.
2. Calculați valoarea PIB/loc. în cele două țări.

**6 puncte**

**E. Precizați două argumente pentru a explica situarea pe primele trei locuri la producția de ulei de măsline, la nivel mondial, a Spaniei, Italiei și Greciei.**

**4 puncte**